


# 入学者選抜 講評・問題集2027

[過去3か年]



好久不见!

How's everything going?

元気だった?

안녕하세요

学校法人 北海学園

# 北海商科大学

[hokkai.ac.jp](http://hokkai.ac.jp)



## 目次

### 入学者選抜問題講評

#### 令和8年度

一般選抜〔3教科型〕	2
一般選抜〔2教科型〕	8
総合型選抜〔I期〕小論文	11
総合型選抜〔II期〕小論文	14
学校推薦型選抜〔公募制〕小論文	16

#### 令和7年度

一般選抜〔3教科型〕	20
一般選抜〔2教科型〕	26
総合型選抜〔I期〕小論文	28
総合型選抜〔II期〕小論文	31
学校推薦型選抜〔公募制〕小論文	34

#### 令和6年度

一般選抜〔3教科型〕	37
一般選抜〔2教科型〕	43
総合型選抜〔I期〕小論文	45
総合型選抜〔II期〕小論文	48
学校推薦型選抜〔公募制〕小論文	50

### 入学者選抜問題

#### 令和8年度

一般選抜〔3教科型〕	英語	53
	世界史探究	56
	日本史探究	60
	地理探究	64
	政治・経済	68
	数学I, 数学A	72
	国語	75

一般選抜〔2教科型〕	英語	75
	国語	78

### 入学者選抜問題解答例

#### 令和8年度

一般選抜〔3教科型〕	英語	81
	世界史探究	82
	日本史探究	83
	地理探究	84
	政治・経済	84
	数学I, 数学A	85
	国語	86

一般選抜〔2教科型〕	英語	87
	国語	87

### 入学者選抜問題

#### 令和7年度

一般選抜〔3教科型〕	英語	89
	世界史探究	92
	日本史探究	96
	地理探究	100
	政治・経済	104
	数学I, 数学A	107
	国語	111

一般選抜〔2教科型〕	英語	111
	国語	115

#### 令和6年度

一般選抜〔3教科型〕	英語	117
	世界史B	119
	日本史B	124
	地理B	127
	政治・経済	130
	数学	133
	国語	136

一般選抜〔2教科型〕	英語	136
	国語	140

であると考えるに至った過程を問う問題です。本文に「ベトナムの政権が不安定な状況を見た結果」と明記されているため、正解はウです。アの「墮落論を読んだ結果」はきっかけではあるものの、筆者の結論の直接の契機ではありません。イの「日本の歴史研究」は本文に書かれていません。エの「軍部による天皇制利用」は天皇の権威利用の例であり、「一大発明」との評価の直接の契機ではありません。問11は「日本とベトナムの政治体制の違いで矛盾するもの」を選ぶ問題です。アの「ベトナムは稲作地帯であるため、中国型の強い王権を確立することに成功した」は、本文に「無理があった」「政権が安定しない」と述べられており、明確に矛盾しています。したがって正解はアです。問12は「中国の強い王権の基盤」を問う問題です。本文には「中国の強い王権は乾燥した大地に適している。黄河と長江の間の広大な麦畑である中原を権力基盤にする強い王権」とあります。したがってウが正解です。問13は本文の中心的主張を問う問題です。アは部分的には本文にあるものの全体の主張としては狭く、イは重要な要素ではあるものの地理や農業との関係を取りこぼしています。ウは日本の例を考えると「常に」は誤りです。結果として、エの「地理的条件と農業形態が、その社会の政治権力構造に影響を与える」が、本文全体を貫く最も包括的な主張であり、正解となります。

問題10～13は、本文全体の論理構造を総合的に理解し、三つの地域(日本・中国・ベトナム)の比較を通して筆者の主張を抽象化する力を試す問題でしたが、受験者によって正解率にかなりのばらつきが見られました。焦らずに本文をじっくり読み解く姿勢が求められます。

☐今回は夏目漱石の門下生でもある寺田寅彦氏論理的な随筆を出題してみました。「科学者は頭がよくなくてはいけないか」と「科学者は頭が悪くなくてはいけない」という命題をそれぞれ対比的に述べた文章の中からの出題です。問いの内容によって出来不出来はありますが、今回は全体的に読解不足が感じられました。

問1・問2の漢字の読み書きの問題は、よく解答しておりましたが、問1では⑤の「企図」の読みが難しかったようです。ほとんどの受験生が不正解でした。問2の書きはよく解答しておりました。普段の生活において丁寧に読み書きを行うことが必要です。問3は表現の問題です。注の2にパラドックスの意味を挙げておいたのですが、その意味が分かると消去法でア・ウ・エ・オは不適だとわかんと思います。約半数の受験生が正解しておりました。問4は、空欄補充の問題。空欄前と空欄後の文が対比的であることがわかるとすんなりと解けたと思います。多くの受験生が正答しておりました。問5は、挿入問題。挿入する文にヒントが隠されていないか(例えば、指示語とかキーワード)どうか解答のポイントになります。今回は「難関」に注目できたかどうか、解答の分かれ目になりました。半数の受験生が不正解でした。問6は文脈をとらえる問題です。科学研究に従事する者にとって「いっそう重要必須」なものは何か。これも対比的な事柄に注目していくと問いの文の前の「尋常茶飯事の中に～苦吟する」に対応する行為が書かれた部分を解答してほしいのですが、すこし難しかったようで、正答者は少なかったです。今回は対比的に文章を述べているのが特徴ですのでその特徴をとらえて正答を出してほしいです。問7は指示語の問題。書き方は千差万別でしたが、よく解答しておりました。指示語の問題は、まずその段落に解答があるのではないかどうかを吟味してみることが大事かと思われます。問8は言葉の問題として出題してみました。普段聞きなれない言葉ですが、このような問題はその言葉の前後から判断してほしいということで出題してみました。約半数の受験生が出来ておりました。問9は傍線部すぐ前の「手をつかねて空中に絵を描いている人」との対比に気が付くことが第一。「具体的に説明しなさい」という問い文ですから、「自然のまん中へ」「飛び込んでくる」は、自然に向き合うことの大切さが示されているので、そのことを中心に解答を出してほしいところです。半数の人が自分なりの言葉で説明しておりました。

## 【英語】

### ■出題の基本方針

一般選抜(3教科型)の構成は昨年とほぼ同様です。英文日本語訳は2問設定し、また英文の解釈問題も複数の選択肢の中から一致するものを選んでもらいました。語形変化した派生語の正確な綴りを記述する設問も設定しました。英対話文について英語の文で解答する②は、本試験問題全体で点数配分が高めです。以上のことを踏まえた上で、英語の基礎的事項をしっかり積み上げ、直面する新しい設問に応用できるように、英語力に磨きをかけてください。

①の(A)の英文は、お金の歴史についてです。人類が交易の便利な道具としてお金を使い始めましたが、その素材は時代とともに変化してきました。近年登場し始めたデジタル・マネーやその先のお金の形はどのようになるのでしょうか。(B)はある人物の職業・住所・家族構成などを述べています。

②の本文は若い男女の英対話文であり、カナダからの友人にからめてお互いの予定に話が弾みます。

③の各設問は文脈に依存しませんので、それぞれに対応してください。

④の英文はある架空の動物園のウェブ・サイトを想定しています。入園ガイド、人気の動物たち、動物園の発展史、そして園内売店紹介や所在地情報などの順番で配置されています。

⑤の各設問は文脈に依存しませんので、それぞれに対応してください。

以下では問題1から問題5までの各問を順番にみていきましょう。

### ■設問の意図と講評

①(A)内容一致を問う合計5問の四択問題です。英文の流れに沿った形で、問1からほぼ順番どおりに答えられるようになっていきます。正答の割合は7割強でした。

## 令和8年度 入学者選抜問題講評

### 一般選抜〔3教科型〕

## 【国語】

### ■出題の基本方針

国語の出題範囲は「国語総合」と「現代文」です。ただし、「国語総合」については近代以降の文章に限定しており、古文と漢文の出題はありません。

今年度は論説文・評論文2題でした。設問数は☐が13問、☒が9問の計22問と昨年度より増えました。全体として若干平均点も下がりましたが、それ以上に高得点者が減少したことが気になります。高校でのタブレット学習の普及により、漢字を書くことが減ったことを心配し、あえて漢字の読み書きや意味問題を増やしたのですが、それらの得点率が低い結果となりました。どちらの大問も例年同様に、漢字や慣用句、指示語、文脈把握などの基礎的問題と内容読解の問題からなり論述も含みますが、基本は語彙力です。基礎力を高めてほしいと思います。

### ■設問の意図と講評

☐この入試問題全体の出題意図は、文章全体に張り巡らされた論理構造を読み取り、複数の比較軸を統合しながら筆者の主張に到達する「総合的読解力」を測る点にあります。本文は、ベトナム・日本・中国という三つの地域を素材に、農業形態・地理条件・社会構造・政治権力の関係を段階的に描き出しており、受験者はその因果の連鎖を正確に追うことが求められます。特に、稲作社会がもたらす村落共同体の強さと弱い王権、畑作地帯が生む強い中央集権、そして日本が独自に形成した「万世一系の天皇」という制度の政治的機能を比較しながら、筆者が最終的に示す「地理と農業が政治構造を規定する」という抽象的な主張に到達できるかどうかが問われています。

設問群は、この大きな論理構造を段階的に理解させるように配置されています。冒頭の語彙・漢字問題は、後の議論の核心となる語(「額ずく」「率先」「自嘲的」など)を正確に把握させるための基礎固めであり、続く内容理解問題では、ベトナムの政権不安定の理由やマンダラ型王権の特徴など、本文の因果関係を正確に読み取る力が試されます。挿入問題では、稲作と畑作の対比という文章構造の理解が問われ、記述問題では、天皇制が正統性を担保する仕組みを本文の複数箇所から統合してまとめる要約力が求められます。終盤の選択問題では、日本・中国・ベトナムの比較を踏まえた政治体制の理解、そして本文全体の主張を抽象化して選び取る力が試されます。

問1漢字の基本的読解力の確認問題です。「篡奪」「万世一系」の読み方に誤りが多く見られました。「篡奪」の「篡」は漢字検定1級に属し、小・中・高校のいずれの段階でも「学習漢字」としては扱われません。ただし、「篡奪」「篡位」といった語彙は高校国語(特に評論文)で頻出します。したがって、語彙としては大学入試レベルで普通に出題されるという位置づけになります。「万世一系」の「万世」は「ばんせい」と読みます。「万」の読み方には呉音の「まん」と漢音の「ばん」があるため注意が必要です。この二つの語彙の正解率は低く、それ以外の語は比較的高い正解率を示しました。問2は漢字の書き取り問題です。いずれも基本的な語彙であり、文脈に即した語彙の漢字表記と語彙理解の確認という「国語の基礎力」の確認が目的です。比較的高い正解率を示しました。問3・4は文脈から語の意味を捉える力を確認するのが目的でしたが、やや難易度が高い問題でした。「長子(ちょうし)」は「性別に関係なく、最初に生まれた子」を意味し、「額ずく(ぬかずく)」は、ひざますいて深く頭を地面につけるようにして礼拝することを意味します。後の問9(天皇の前で額ずく行為の意味)ともつながる重要な語です。問5は語句の言い換え問題です。「自虐的」「内罰的」など、「自分に批判的である」語彙が正解です。「自嘲」と「自虐」のニュアンスの近さを理解しているかどうかを試す問題でしたが、「嘲笑的」「批判的」などの誤答も見られました。正解率がかなり低い問題でした。問6は内容読解、「ベトナムで政権が安定しない理由」を問う問題です。本文冒頭に「親から子へ代が替わると豪族が政権を篡奪しようとする」とあり、その理由として「長子を優先する思想が根付いていない」と明示されています。したがって正解は「ア」です。他の選択肢(ゆるい王権・儒教・村落共同体)は本文の説明と矛盾しています。この問題は高い正解率を示しました。問7も内容読解で、「マンダラ型の弱い王権と稲作の関係で述べられていないもの」を選ぶ問題です。本文では「水田が天然の堀となり大軍を動かしにくい」「稲は単位面積あたりの収穫量が多い」「連作障害がなく作柄が安定している」「人口密度が高く村の結束が強くなるため強い王権が不要」と述べられています。選択肢イ・エ・ウは本文に含まれていますが、アは本文にないため正解はアです。問8は畑作と強い王権の段落を挿入する位置を問う問題です。これは「稲作＝弱い王権」と対比される「畑作＝強い王権」の説明であるため、稲作と弱い王権の説明が一段落した直後に入るのが自然です。したがって、その段落の末尾の「～会になった」が正解です。問9は「万世一系の天皇」というシステムの具体的な行動を問う問題です。「政権を奪った者が率先して天皇に額ずき、天皇の名で命令を出してもらうことで、自らの政権の正統性を示す」という内容が書かれていれば正解です。「自ら率先して権威ある者に額ずく」だけでは不十分で、「権威ある者に命令を出してもらう」という部分まで書いていなければなりません。「額ずく」の意味が理解できていない受験者はこの問題を解けない傾向が見られました。問10も内容読解問題となります。「万世一系の統治システム」が「一大発明」

Aでは、北アメリカ植民地の形成から七年戦争後の課税強化、そして「代表なくして課税なし」という植民地側の抵抗が、独立戦争へと至る過程を扱い、独立が突然の事件ではなく、帝国と植民地の利害対立が積み重なった結果であることを読み取らせています。Bでは、独立戦争が拡大することでイギリスが孤立し、最終的に独立が承認される流れを押さえたうえで、独立後のアメリカがミシシッピ以西へ領土を拡大し、明白な天命という理念で西部拡張を正当化していく過程までをまとめ、国家形成のダイナミズムとその影(先住民への圧迫)を同時に理解させる狙いがあります。Cでは、西部拡張が奴隷制をめぐる南北対立を激化させ、南北戦争・再統一・再建の時代へとつながる流れを示し、さらに19世紀末の工業大国化が海外進出を促し、米西戦争や門戸開放政策、棍棒外交へと連なる対外政策の転換を問いました。Dでは、第一次世界大戦前後の国際秩序の変化の中で、アメリカが当初は孤立主義的立場を取りつつも、情勢の推移によって参戦に踏み切り、戦後には国際連盟構想など国際協調へ関与しようとしたこと、しかし国内政治とのねじれの中で再び距離を取っていくという理想と現実の揺れを扱いました。ここでは、モンロー宣言に象徴される伝統的な対外姿勢(不干涉・孤立)と、ウィルソンの提唱した国際協調の理念との関係を整理し、アメリカが20世紀の国際政治でどのように位置を変えていくのかを、出来事の羅列ではなく一続きの展開として理解できているかを確認しました。

④は、三大宗教を知識の羅列ではなく、地理(どこ)・時代(いつ)・主体(だれ)・内容(何を説いたか)・背景(なぜ広がったか)の枠組みで整理できているかを問う問題として構成しました。宗教史は、人物名や用語だけを覚えると断片化しやすく、逆に「成立地」「当時の社会状況」「支配者との関係」「他宗教・他文化との接触」といった要素を結び付けることで理解が一気に深まります。

A班は、インドの地理的・社会的背景(ガンジス川流域、身分秩序への問題意識)から仏教成立を捉え、支配者の庇護(アショーカ王)や文化的融合(ガンダーラ美術)までを扱いました。B班では、ローマ帝国支配下のパレスチナを舞台に、キリスト教がどのように成立し、なぜ迫害されたのか(皇帝礼拝との衝突)、そして公認に至る政治的転換(ミラノ勅令)を確認しました。C班では、アラビア半島の地理的位置(メッカ)と交易世界を前提に、イスラームの成立(ヒジュラ)と共同体形成、さらに被征服民統治の方針(課税・保護)を通じて、宗教が国家形成や帝国支配の枠組みと不可分である点を確認しました。

全体として、1は正解率が高く、基礎語句と資料読解が比較的安定していました。一方で、4は文章量が多く概念理解も求められるため正解率が低く、3のアメリカ史でも時系列整理の段階で取りこぼしが見られました。

## 【日本史探究】

### ■出題の基本方針

日本史では、古代、中世、近世、そして米をテーマとしたテーマ史について、計4つの大問を出題しました。問題は教科書で取り上げられる頻出事項を中心に構成されています。教科書レベルでの学習をとおして、着実に解答が可能な問題です。全体的に、日本史全般を均衡して勉強しているかどうかが問われています。

### ■設問の意図と講評

大問①は、奈良時代の政治と社会を扱っており、平城京の構造や藤原氏の台頭、聖武天皇による「鎮護国家」の思想といった教科書の基本事項を中心に構成されています。図表を用いた都市区画の理解や、歴史的背景を言語化する記述力が試されました。今回の結果を分析すると、問7の記述問題は多くの受験生が正答できていたものの、それ以外の設問では基礎の定着度によって明暗が分かれる結果となりました。特に、記述式での回答が求められた問1の空欄補充は正答率が低く、ここを正答できた受験生が問2から問6も確実に得点するという傾向が見られました。今後の学習では、単なる用語の暗記に留まらず、古代史の流れの中で事象や事件の意味を正しく把握し、史料や図版などの基本的資料とセットで体系的に理解を深めることが不可欠です。

大問②は、鎌倉時代の法制と武士社会の構造・変容を多角的に問う内容です。全体として正答率は高水準でしたが、守護の権限を総称する問3や史料から語を抽出する問6、さらに直営地や歴史的背景を問う問9の〈B〉と〈D〉の正答率が約半数に留まった点は、基礎知識を文脈に合わせて活用する力の不足を示唆しています。特に顕著だったのは問10で、主従関係の一翼を担う「御恩」については9割が正答した一方で、血縁組織の長である「惣領」の正答率が1割に沈んだことは、制度を断片的なキーワードとしてのみ記憶している受験生が多いことを浮き彫りにしました。今後は用語を単独で覚えるのではなく、武家社会を支える論理や組織構造を体系的に捉え、史料や会話文の意図を正確に読み解く学習が不可欠です。

大問③は、幕末の開国から戊辰戦争に至る政局を扱っています。条約の不平等性や公武合体から討幕への推移など、複雑な動乱期の動きを時系列に沿って整理する力が求められました。詳細な年表を正確に読み解く基礎知識が不可欠な構成となっています。全体的には高い正答率を維持していましたが、歴史的事項を正確な固有名詞や概念として記述する設問で差がつかしました。具体的には、日米修好通商条約を断行した大老を問う問1の③、和親条約の条文から答えを導き出す問3、そして新政府軍と旧幕府軍との戦争名を問うた問5(2)の正答率がいずれも3割程度に留まっています。特に不平等条約の内容や戊辰戦争の推移といった基本事項は、年表の流れを追うだけでなく、史料の文言と具体的な史実を結びつけて理解しておく必要があります。今後は、幕末の複雑な政局を人物・事象・地理的条件

(B)問1は本文の脈絡から意味が合う語を選択します。問2は内容一致を問う四択問題が2つです。あわせて8割弱の出来でした。

②問題形式としては対話文の内容について、英文の問いに対し英文で解答を記述する設問です。5問ありますが、まずなによりも質問文の内容を的確に理解し、文のかたちで解答を作成するよう指示されていることにも注意を払いながら、解答文の主語・述語や各語(句)の綴りの正確さ、そして質問文に対して適切で必要かつ過不足のない英文での解答が求められます。正確な解答をするためには、本文が伝えている内容をイメージしながら、英文を理解し解答することが重要です。正答の割合は6割程でした。

③(A)は選択肢として提示された複数個の英語語句を整列させ、英文全体として日本文の意味に最も近い表現を完成させる、並べ替え英作文の設問です。出来具合は4割程でした。(B)はいくつかの短い英文の本文に対して内容一致を問う三択問題です。出来具合は8割弱でした。(C)はほぼ同じ内容の英文のペアを完成させる四択問題です。出来具合は4割程でした。

④問1は内容一致を問う四択問題が4問です。問2は文中で各単語がどの品詞として働いているかを答えてもらいました。英語は品詞が複数ある単語も多いので、本文中の文脈、前後の語彙など連語関係から判断してください。問3の英文日本語訳は、V(動詞)を把握しS(主語)を確認して、単語・熟語の意味、連語関係(コロケーション)などに気をつけ、本文の脈絡にあった解答をしましょう。あわせて5割程の出来でした。

⑤(A)は語形変化をとめない、かつ現在よく使用されている派生語の綴りを記述する設問です。英単語の派生形は、単語の変化形が個別に、ふつうは頻用される一つに決まっています。それに従い、単語の綴りは正確に覚え記述するようにしましょう。ここは6割程の出来でした。(B)は文法・語法の問題です。四択の中から不可能な選択肢を除外し、各英文から鍵になる語句を見つけ出して、文の内容に適合する答えを選ぶことができる基礎力を培ってください。4割程の出来でした。(C)は英文のなかから主節のS(主語)に対応する適切なV(動詞)を選んでもらいました。主節について問うていますので、従属節の動詞は解答からはずしてください。7割程の出来でした。

以上で概要の説明はおわりますが、英語のS(主語)・V(動詞)を判別する基礎的知識を骨組みとして、そこに慣用的・例外的な文法・語法や連語関係、会話などで頻用される表現を肉付けしていき、様々な設問に対応できる英語力を養うようにがんばってください。

## 【世界史探究】

### ■出題の基本方針

本試験「世界史探究」は、高等学校指導要領改定に基づいた学びを意識し、①重要語句・年代・人物の基礎を確認しつつ、②文章・地図・写真などの資料から手掛かりを拾って判断する力、③出来事どうしの因果(なぜそうなるか)を説明できる力を測ることを基本方針として出題しました。

### ■設問の意図と講評

①1は、生徒が調べたユネスコ世界遺産(歴史的建造物)を手がかりに、世界史の学習で重要になる「建造物=文化遺産」を、単なる名称暗記ではなく、政治・宗教・社会の背景や歴史的展開(因果関係)と結びつけて理解できているかを問う問題として構成しました。

A班では古代ギリシアの神殿を題材に、ペルシア戦争後のアテネを軸として、ポリス社会の特徴(都市国家の並立)や、戦争を契機に進んだアテネ民主政の形成と制度(民会・オストラキスモス)までを確認する設計としました。B班ではムガル帝国のタージ=マハルを題材に、イスラーム王朝が多数派の非イスラーム教徒(ヒンドゥー教徒)を支配するうえでの政策課題に注目し、寛容政策と反動、そしてそれが帝国の動揺・解体へつながる流れを押さえられているかを問いました。C班では明清期の紫禁城を題材に、首都と政治権力の中心という観点から、明の成立(元末の混乱と反乱)、永楽帝の対外政策、清朝の統治、さらに近代の転換点(清の滅亡や1949年建国)までを、中国史の大きな時代のうねりとして整理できているかを確認しました。

②は、運河をテーマに、世界史の理解で重要となる「交通・物流インフラが国家の統治や経済発展、国際関係に与えた影響」を読み取れるかを問う問題として構成しました。

Aでは隋の統一と制度整備(均田制・租庸調・府兵制、科举)を導入に置き、国家が人と物を動員できる体制を整えたうえで大運河建設に踏み出した、という統治の仕組みと公共事業のつながりについて確認しました。Bでは、地図資料を用いて大運河が黄河・長江という二大河川の流通路を接続することによって、都(長安・洛陽)や国際都市の成立、さらに宋金元以降の政治的变化(対立や征服)と運河整備の盛衰に影響した点を確認しました。Cではヨーロッパに視点を移し、国家事業としての運河建設(フランス)と、産業革命期の大量輸送需要(イギリス)が運河整備を加速させた点を扱い、資源(鉄・石炭)や綿工業といった経済史の基本事項を運ぶ必要性という文脈に結び付けて理解できているかを確認しました。

③は、アメリカ合衆国の成立と発展を、単なる出来事の暗記ではなく、原因→展開→結果のつながりとして理解できているかを問う問題として構成しました。

ワールとガーナとの違いは十分理解されていませんでした。これらから、教科書の本文を丁寧に読み、地図帳で位置を確認し、統計資料や用語をしっかり理解しておくことが重要だといえます。

## 【政治・経済】

### ■出題の基本方針

①と②は経済分野からの出題です。①は1970年代以降の日本経済と金融財政に関する設問、②は労働と福祉の諸問題に関する設問でした。③と④は政治分野からの出題です。③は現代政治の特質と課題について基礎的な知識を問う設問であり、④は国際政治の諸課題に関する基礎的な知識を問う設問でした。

### ■設問の意図と講評

①問1は、文章中の空欄補充についての問題でした。回答は選択式となっており、比較的高い正答率でした。問2は、円ドルの為替レートの推移のグラフを参考にプラザ合意の内容を説明する問題でした。低い正答率でした。合意の背景や内容についての理解が必要となります。問3は、景気調整に資する政策についての設問です。選択式の問題であり、高い正答率でした。問4は、一般会計と公債について、図を参考に回答する問題でした。どのような時に公債発行額が増加するのかを理解する必要があります。問5は、金融政策についての理解を問う設問です。空欄補充の問題であり、正答率は低かったです。問6は、比較的高い正答率でした。

②問1は、労働者を保護する法律に関する設問でした。正答するためには、法律名を暗記するだけでなく、その内容についての基本的な知識が必要となります。問2は労働問題に関する設問でした。選択問題であり、高い正答率でした。問3は、社会保障制度に関する設問でした。基本的な用語の定義を正確に理解する必要があり、正答率は低かったです。問4は社会保険についての理解を問う問題、問5は年金保険に関する設問でした。問5の記述式の設問の正答率が低かったです。時事問題にも関心を持つことが重要です。

③問1は、政党政治や世論・マスメディアについて穴埋め式で回答してもらう設問でしたが、正答率は高かったです。教科書や資料集でも確実に記載されている語句であり、受験生には必ず押さえてほしい知識です。問2は、我が国における選挙制度に関する設問でした。比較的高い正答率でした。問3は、主権者たる国民としての政治参加について基本的な知識を問う問題でしたが、比較的高い正答率でした。主権者教育に関する重要な出題ですので、しっかりと勉強してきてください。問4は、プライバシーの権利に関する細かい知識を問う問題でした。この単元では細かい知識を問う問題は出題可能性が高いのでしっかりと押さえてください。低い正答率でした。

④問1は、ベルリンの壁崩壊や天安門事件などの国際社会の動きを問う問題でした。他の公民科目や世界史などでも学ぶ内容であるため、しっかりと勉強していることが理解でき、高い正答率でした。問2は、自由主義と社会主義の東西冷戦に関する問題です。基本的な事項を押さえれば簡単に答えることのできる問題でした。問3は、国連PKOに関する細かい知識を問う問題でした。感覚や思い込みで説いたと考えられるくらいに低い正答率でした。これら基本的な問題は間違ふことのないように丁寧に勉強してください。問4は、EUの成り立ちについて基本的な知識を問うものでした。教科書や資料集でもしっかりとした記載があるのですが、思いのほか正答率は低かったです。国際組織に関する基本的な事柄は政治経済の問題を解くために勉強しておくことが必須です。問5はアフリカの民主化運動「アラブの春」に関する基本的な流れを問う問題でした。基本的な事項や具体的な歴史の流れを問う問題ですのでしっかりと押さえてほしい問題でしたが正答率は低かったです。問6は「平和」「政治的対立」の語句を用いて自分の意見を記述する問題です。新学習指導要領において探究的な学びと自らの意見をまとめ表出する機会が授業でしっかり持たれていると考えられ、丁寧に論述できていました。

## 【数学I, 数学A】

### ■出題の基本方針

出題範囲は「数学I・数学A」であり、「数学A」については、「場合の数と確率」および「数学と人間の活動(整数の性質に限る)」です。

内容については、本学に入学する学生として、基礎・基本をきちんと身に付けた知識・技能を持っているか、それを自分の考えとして式だけでなく文章等で表現できるか、さらに標準的な問題や身近な具体的な事象に対して、数学的な見方・考え方や思考・判断・表現力を身に付けているかを問う問題となっています。

全体的には、基礎的・基本的な問いに対して、やや計算力が不足していると思われました。また、解答方法について、①以外は「途中の計算過程も記入」ですが、残念ながら結果だけの答案も散見され、考え方の過程や取り組みがわからず評価が難しい答案もありました。普段から論理的で説得力のある解答の作成を心がけてほしいものです。

とセットで整理し、正確にアウトプットする力を養うことが不可欠です

大問④は、米と食・農業を軸とした原始から現代までのテーマ史です。弥生時代の農耕文化から戦後の農地改革、現代の米不足まで非常に幅広く、図表や地券など多彩な資料の分析力が試されました。歴史を現代の課題と結びつけて捉える思考力が求められています。結果を分析すると、北海道の食料採集文化や高床倉庫の名称、天明の飢饉に関する史料読解、そして非常用米の備蓄制度といった基礎的・視覚的な知識については9割という非常に高い正答率を記録しました。一方で、水田跡の北端となる具体的な県名や弥生時代の対外関係、寺院の所在地といった「地理・外交」を絡めた知識、さらに江戸時代の社会政策施設や藩政改革の指導者、戦時下の経済統制、平成期の政権交代における中心人物といった各時代の踏み込んだ事項では、正答率が2割程度まで沈み、知識の定着度に極端な差がつく結果となりました。特に、戦後の農地改革に関するグラフ読解では、数値の変化という表面的な事実の指摘に留まるものが多く、そこから導き出される「寄生地主制の解体」という構造的な変容まで統合して説明できた受験生は少数でした。今後は単なる用語の丸暗記を脱し、複数の資料を組み合わせる歴史の全体像や社会構造の変化を多角的に考察する力を養うことが求められます。

以上が本年度の入学試験問題についての講評です。今後の弊学の入学試験でも、まずは教科書の基本事項を確実に理解しているかを問う問題が中心になるものと思われます。また、基本的な事項同士の関連について、史料や図表と組み合わせるなど角度を変えて出題されても柔軟に対応できるよう、受験生の皆さんは用語の背景や歴史の流れを意識したバランスのよい学習をおこなってください。そうした多角的な視点を持って準備をすることが、次年度の入学試験に向けた確かな力となるはずです。

## 【地理探究】

### ■出題の基本方針

地理探究は、高等学校学習指導要領を踏まえて、現代世界の系統地理的考察から、①は自然環境(地形)に関する問題、②は資源、産業(エネルギーと鉱産資源)に関する問題を、また、現代世界の地誌的考察から、現代世界の諸地域について、③は中国に関する問題、④はアフリカに関する問題を出题しました。

### ■設問の意図と講評

①大問は自然環境に関する問題です。1問目は氷河地形について、大陸氷河と山岳氷河の特色、また、氷河によってつくられる地形(U字谷やカルド)を問う内容でした。この問題は比較的良好にできていました。2問目は乾燥地域の地形と砂漠の分布に関する設問で、メサやビュートの理解が不十分であったほか、緯度と砂漠分布との関係も十分に理解されていませんでした。3問目はカルスト地形と石灰岩地域に関する問題です。ドリーネについてはよく答えられていましたが、日本の石灰岩地域の特色は十分に理解されていませんでした。これらから、用語の理解に加え、地図帳や資料集の図をしっかりと確認しておくことが重要だといえます。

②大問はエネルギーと鉱産資源に関する問題です。エネルギーと鉱産資源については、それらの生産と消費の地域的な特徴のほか、近年の消費の拡大に対してどのような地域でどのような問題が発生し、どのような対策が講じられているかなどについて、多面的・多角的に考察しながら理解しておく必要があります。Iの問1は、主な先進国がどのような原油産出国から輸入しているかを問う問題です。問2は主な国の総発電量における発電方法の割合の特徴を問う問題で、例えば、カナダでは豊富な水資源を利用していること、また、フランスでは、オイルショック以後、原子力推進を国策としていることなど、それぞれの国の自然環境や政策などを背景とした特徴について理解しておく必要があります。問3は石油の消費拡大の背景などについて問う問題です。IIの問4は世界の主な鉄鉱石の産地の位置を問う問題です。問5は非鉄金属資源の主な生産国について問う問題です。問6は、先端技術産業の進展に伴う資源の流通の変化などについて問う問題であり、特に高い正答率となりました。

③大問は中国の地誌に関する出題です。世界の諸地域については、それぞれの地域の自然環境や資源、産業、交通・通信、観光、人口、生活文化、民族・宗教などについて、地理的な結びつきやその変容などに留意して、多面的・多角的に考察しながら理解を深めておく必要があります。問1は中国の地球上における位置を、また、問2は主な山脈の名称について問う問題です。問3は主な都市の気候を問う問題であり、広大な国土をもつ中国では、地域により様々な気候がみられることを理解しておく必要があります。問4は日本にも影響を与える黄砂について問う問題です。問5は、主要な穀物である米、小麦、とうもろこしについて、生産地域と世界における生産国の特徴を組み合わせる問う問題で、残念ながら正答率が最も低い問題となりました。問6は多民族国家である中国の民族と民族自治区について問う問題です。問7は経済特区の特徴に関する正誤問題です。

④大問はアフリカの地誌に関する問題でした。1990年代初頭以降のアフリカの動き(ソマリア内戦、ルワンダ内戦など)やアフリカ連合(AU)に関する設問がありました。アフリカ連合や政府開発援助(ODA)は正答が多かった一方、アフリカ開発会議(TICAD)は誤答が多くみられました。BPOビジネスについては全員が正答でした。アフリカの自然(山脈・河川・島)に関する問題では、アトラス山脈やコンゴ川などの基礎知識が十分ではなく、サヘル地域の理解も不十分でした。さらに、略図と統計からの国を判断する問題では、ナイジェリアはよくできていましたが、コートジボ

労働を賄うために海外から労働力を大量に流入させることは政策的に可能である。」(六十三字)という一文が見つかります。このうち、「高度な技能を有する人材」については、同じ段落で「高度人材」とも呼ばれており、この表現を用いることで字数を削減できます。これらをもとに、文末が「施策」となるように、指定字数内にまとめると正解となります。問5は、内容理解に関する選択肢問題でした。傍線部Bには「これ」という指示語があるため、「これ」の指示内容を明確にすることが必要であり、また、「寄与」という言葉の理解も重要です。傍線部Bを含む⑤段落では、「外国人労働者の賃金水準は日本人に比べて明らかに低い」や、「外国人労働者の賃金は全体の平均値より低くなっていることがわかる」のように、「外国人労働者の賃金の低さ」が話題になっており、傍線部の「これ」も、その話題を受けています。一方、「寄与」は、「国や社会の役に立つよう貢献すること」といった意味の言葉です。本来は、よい結果になるように行うものですが、今回の文章では、「外国人労働者の賃金の低さ」という否定的な結果となることについて用いられています。そのため、言葉本来の〈貢献する〉といった意味ではなく、〈影響を与える〉というような意味で用いられています。これらをもとに選択肢を見ると、「外国人労働者の賃金水準が低いことには、外国人労働者の若いことが大きく影響しているということ。」とするイが正解と決まります。問6は、語句の知識を尋ねる問題でした。「名目上」の「名目」は、「表向き、形式的な名称、口実」などの意を表します。対義語は「実質」です。設問では、「名目上」の対義語が聞かれているので、「実質上」といった言葉があればそれが最適ですが、本文にはありません。そこで、「実質上」と近い意味の言葉を探すと、④段落に「事実上」という言葉があり、これが正解となります。なお、傍線部と同じ⑥段落に「表面上」という言葉があり、これを選んだ答案が多く見られましたが、「表面上」は、「表向き」といった意味で、「名目上」とほぼ同じ意味を表しており、正解にはなりません。問7は、四字熟語の知識を尋ねる問題でした。「昔のままで進歩がない様子」をいう四字熟語は「旧態依然」で、この「依然」が正解ですが、不正解の答案が多く見られました。四字熟語は、漢字の問題集や国語便覧などを活用して学習するとよいでしょう。問8は、文章の構成を尋ねる問題でした。このような問題では、内容上のまとまりがはっきりと分かるところから整理してゆくとよいでしょう。具体的には、③・④・⑤は、「安い労働力としての外国人労働者の受け入れ」の話題、⑥・⑦・⑧は、「特定技能制度」の話題、⑨・⑩・⑪・⑫は、「著者の主張(＝外国人労働者受け入れが市場メカニズムに与える影響の話題)」、という三つのブロックができます。これらを基準として選択肢を比較すると、オが正解と決まります。問9は、内容理解に関する選択肢問題でした。アは、①段落の「日本の人口減少は既定路線であり、この状況を短期間で反転させることは難しい」と関わります。ただし、後半部の「短期間で反転させることは難しい」は、「その方向性を変えることは不可能である」とまでは言えません。よって、著者の主張とは合致しません。イは、③段落の「外国人労働者の受け入れを拡大したとしても、外国人が日本を選んでくれないという議論もある」と関わりますが、その後を見ると、「しかし、それは事実とはやや異なるだろう」と反論が示されています。よって、著者の主張とは合致しません。ウは、⑥段落の終わりの「人手不足のために正面から外国人労働者を受け入れることを決めた特定技能制度の導入は、政策的にも大きな転換となる」と関わり、それを踏まえた7段落の終わりの「政府は人手不足解消のための外国人労働者受け入れに積極姿勢を強めている」とも関わります。これらは選択肢ウの内容と合致しています。エは、⑨段落の「日本の多様性を高めるという観点から賛成の意見を持つ人もいれば、日本の治安や文化に与える悪影響を懸念し反対の意向を示す人もいる」と関わります。後半部が選択肢の内容と関わりますが、本文では「反対の意向を示す人もいる」という客観的な書き方をしており、著者自身の考えを表しているわけではありません。よって、著者の主張とは合致しません。オは、⑫段落の「大量の外国人労働者の受け入れを続けることが、労働市場全体の賃金上昇圧力を抑制することにつながることを忘れてはならない」と関わり、さらに、「エッセンシャルワーカーの方々について、せつかく人手不足で上がり始めている賃金を抑制させることははたして望ましいことなのか」とも関わります。後者は「はたして～なのか」という反語形の表現で、本文の後に、「(はたして望ましいことなのか。)いや、望ましいことではない」という内容の主張が省略されています。以上の内容は、選択肢オの記述と合致します。カは、⑩段落の「安い労働力の流入は旧態依然とした経営を行っている企業の延命策ともなり得ることから、その結果として、過去の日本の市場で生じたように、健全な経営を行っている企業までもが過当競争に巻き込まれてしまう事態が再燃する可能性も否めない」と関わります。ここでは、「旧態依然とした経営を行っている企業」と「健全な経営を行っている企業」とが対比され、「安い労働力の流入」は、前者の「延命策」となり得る一方で、後者を「過当競争(＝度を越した競争)」に巻き込んでしまうとしています。選択肢カは、「旧態依然とした経営を行っている企業」と「健全な経営を行っている企業」とを取り違えており、著者の主張とは合致しません。キは、⑫段落の「労働市場や日本社会全体に与える影響について深く顧みることなく進められている現在の外国人労働者の受け入れ施策には、大きな問題があると私は考える」と関わり、「現在の外国人労働者の受け入れ施策」は、「労働市場や日本社会全体に与える影響について深く顧みることなく進められている」と捉えています。これは、選択肢キの内容と合致しています。以上より、ウ・オ・キを選ぶのが正解です。問10は、脱文補入の問題でした。脱文は「外国人労働者の増加によって恩恵を受けるのは企業だけではない。」とあり、その内容から、脱文の前には、「外国人労働者の増加」のために「恩恵」を受ける「企業」の説明があり、脱文の後には、「企業」以外で、「外国人労働者の増加」の「恩恵を受ける」対象)について述べられていると予想できます。それを踏まえて本文を探すと、⑩段落に、「利益水準が低く経営に苦しさが増している企業にとっては、外国人労働者の大量流入は福音になるはずだ。／日本に住むあらゆる消費者も、これまでと変わらず大量の人手を用いた至れり尽くせりのサービスを安い価格で享受することができる。」という箇所が見つかります。前半にある「福音」は、「喜ばしい知らせ」の意味の熟語で、「外国人労働者の大量流入は福音になる」とは、「外国人労働者が大勢入ってくることで企業がとってよいことになる」といった意味であり、これは「企業にとっての恩恵になる」ということです。一方、後半は、「消費者」も「至れり尽くせりのサービスを安い価格で享受することができる」とあり、これは、「外国人労働者」が大勢入ってくることで、「消費者」も「恩恵」を受ける、ということでした。したがって、脱文は、この2文の間に入れるのが適切です。なお、設問では、「直後の五字を」とありましたが、直前の五字を抜き出す答案が散見されました。設問の条件をよく読み、正しく答えることが必要です。

## ●学習のポイント

- ①教科書の内容・意味を理解し、基本問題や例題等を繰り返し解く。
- ②過去の入試問題にも取り組み、難易度など傾向を調べてみる。
- ③解答には式だけでなく、グラフや図、文字等の利用も大切にす。

## ■設問の意図と講評

㊦基礎的・基本的な知識および技能に関する問題(解答は結果のみ記入)

いずれも基礎的・基本的な問題ですので、範囲全体でケアレスミスのない計算力が大切です。

(1)は、 $2\sqrt{2}-1=2.8\cdots-1=1.8\cdots$  から一番近い整数は2となります。また、(2)の方程式では、因数分解や解の公式で解くことになりませんが、その後、2次関数ではx軸との交点を求めることなど、xの2次式として頻繁にかかわることになる大切な問題です。(3)での分散は、平均からの離れ具合であることを理解していると定義の式も頭に入りやすいでしょう。(4)は数の性質として、ルート内に2乗になる数をつくることのできる n を求めることになりま。ここで840を素因数分解すると、 $2^3\cdot 3\cdot 5\cdot 7$ となり、与式が自然数となるためには、 $n=2^3\cdot 3\cdot 5\cdot 7, 2\cdot 3\cdot 5\cdot 7$ の2通りあることが分かります。(5)は、同じものを含む順列ですので、考え方の一つとして、6個を1列に並べる6か所の場所から、赤玉4個を入れる4か所を選び、残り2か所には白玉2個を入れる方法で、組合せの $6C4\times 2C2$ で求めることができます。

全体として、広く教科書の基礎・基本の内容を理解し正確に計算できるかをみることを意図していますので受験者全員が満点を取れることを期待していたところです。

㊧2次関数の性質とデータの分析の標準的な問題

(1)は、2次関数の基礎的・基本的な内容ですのでよくできていましたが、(ii)の2次不等式では不等号の向きの扱いに十分注意しながら解くことが大切です。(2)と(3)はデータの分析になります。(2)の中央値については、データが10個で偶数ですので、中央にある5と6の平均となることに注意が必要です。(3)については、日ごろ新聞やWeb等で話題となる身近な事柄を問題として取り上げてみました。今、身の回りにある様々なデータを正しく理解・分析し、自分の生き方や生活にどのように役立てることができるかを考えることが大切です。平均値と中央値の定義を理解し、自分の考えで説明することが求められています。

㊨三角比を利用して、三角形に関わる性質の問題

(1)は余弦定理、(2)は三角比の相互関係、(3)は正弦定理と、三角比の基礎・基本として、理解して使えるかを問う問題です。(4)は、鈍角三角形と鋭角三角形の違いについて、三角形の角度と対辺との長さの関係や三角比の値の関係について十分理解し、それを自分の言葉で表現できるかを問う問題です。

㊩2個のサイコロを利用した場合の数、確率、期待値の問題

(1)は書き出してみる基本的な場合の数、(2)は2つの確率の積になる独立な試行の確率、(3)はゲームによる期待値を求め、その値が得かどうかを判断するという身近な例を取り上げた問題です。いずれにしても、基本的な場合の数や確率を求め、考えを発展させる標準的な問題です。

## 一般選抜〔2教科型〕

# 【国語】

## ■出題の基本方針

国語の出題範囲は「国語総合」と「現代文」です。ただし、「国語総合」については近代以降の文章に限定しており、古文と漢文の出題はありません。㊦が10問、㊧が7問の計17問となり、一般選抜〔3教科型〕より問題数は少ないのですが、平均点はほぼ同じでした。

㊦は記述が問4のみとなりましたが、こちらも漢字や四字熟語のできが悪く平均点は伸びませんでした。㊧は記述が多めでしたが、難易度はそれほど高くなかったせいか、よくできていました。

## ■設問の意図と講評

㊦坂本貴志「ほんとうの日本経済 データが示す『これから起こること』」から出題しました。本書は、人口減少が加速し、人手不足が深刻化する日本で、経済がどのように変化しているか、また、今後、どのように変化してゆかかを考察しています。このような事柄は、若い世代の人々にとって、非常に重要なテーマであると考え、本書を出題しました。

問1・問2は、漢字の読み書きに関する問題でしたが、全体によい出来でした。その中で、問1・⑥の「余儀」は、「儀」の「にんべん」がなかったり、「ごんべん」に書き誤ったりする答案が散見されました。また、問2の④「福音」は、「ふくおん」と読み誤る答案が目立ちました。漢字の学習をする際は、字形や読みにも注意を向けるようにしましょう。問3は、接続語に関する空欄補充問題でしたが、よく出来ていました。問4は、「そのような」という指示語の指示内容を答える問題でした。傍線部Aより前の③段落で、「施策」についての説明を探すと、「高度な技能を有する人材に限らないのであれば、足りない

単語の変化形が個別に、ふつうは頻用される一つに決まっています。それに従い、単語の綴りは正確に覚え記述するようにしましょう。4割程の出来でした。(B)は文法・語法の問題です。四択の中から不可能な選択肢を除外し、各英文から鍵になる語句を見つけ出して、文脈に適合する答えを選ぶことができる基礎力を培ってください。出来具合は5割程でした。(C)は英語の短文のなかからS(主語)に対応する適切なV(動詞)を選んでもらいました。5割程の出来でした。

## 【総合型選抜〔I期〕小論文】

### 【問題】

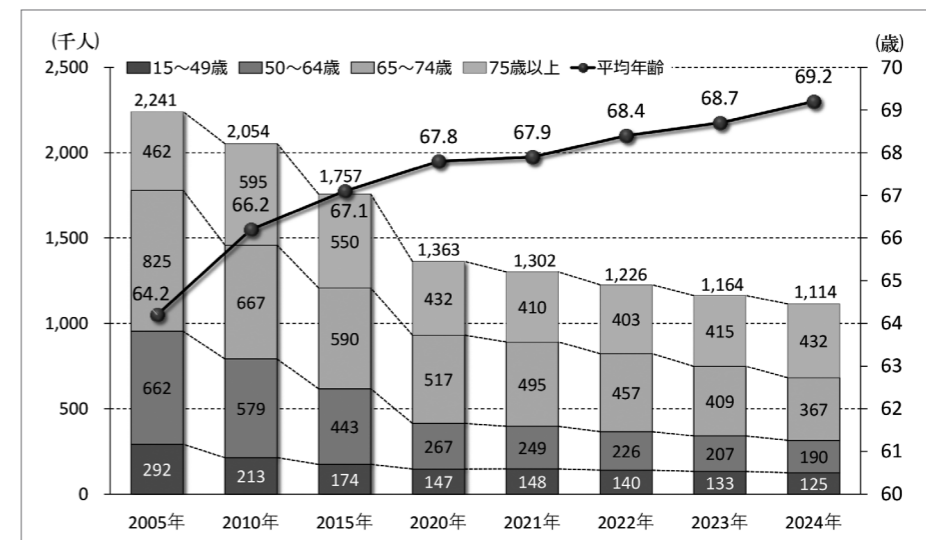
2024年に発生した米不足や価格高騰問題は社会で広く注目を集め、2025年に入っても一連の騒動が続いています。その背景として、今日の日本農業が抱える複雑で構造的な問題の存在が指摘されています。その一つが農業の担い手不足による就農人口の継続的な減少と高齢化の進行です。農林水産省が公表している農業労働力に関する統計によると、2005年時点では224.1万人であった基幹的農業従事者数注)は、2020年時点では136.3万人へ、そして2024年の推定値では111.4万人にまで減少しています。また、農林業センサス注)によると、基幹的農業従事者数の平均年齢は継続して上昇し、高齢化も確実に進んでおり、これらが将来にわたって食料自給率の一層の低下や地域社会の衰退をもたらすと危惧されています。その一方で、一部では都市部から地方へのUターン(都市に移住した人が出身地に戻る)やIターン(生まれ育った故郷とは異なる地方に移住して働くこと)、農業への転職を考える若者も増えてきているとも言われています。

そこで、各資料から読み取れるデータ、その動向や根拠について確認し、資料6で示される方策や施策を読んで、それらの中から1つを選び、農業就農人口の減少や高齢化を緩和する具体的な方策について、あなたの考えを800字以内で述べてください。その際、小論文の内容を的確に示す「表題」を解答用紙の所定の欄に記入してください。

なお、ここで示した資料からは様々な事柄が読み取れると思いますが、必ずしもすべての資料を使う必要はありません。自分の意見や主張に必要な資料を適切に用いてください。

注)「基幹的農業従事者」とは、15歳以上の世帯員のうち、普段仕事として主に自営農業に従事している者をいう。「農林業センサス」とは、わが国の農林業の生産構造や就業構造、農山村地域における土地資源など、農林業・農山村の基本構造の実態とその変化を明らかにするための5年ごとに実施される調査のこと。

### 【資料1】年齢別の基幹的農業従事者数と平均年齢の推移



注)：①「基幹的農業従事者」とは、15歳以上の世帯員のうち、普段仕事として主に自営農業に従事している者をいう。  
②「農林業センサス」とは、わが国の農林業の生産構造や就業構造、農山村地域における土地資源など、農林業・農山村の基本構造の実態とその変化を明らかにするための5年ごとに実施される調査のこと。  
③2005～2020年のデータは全数調査で実施した農林業センサスの結果であるのに対し、2021年～2024年は標本調査で実施した農業構造動態調査の結果であり、表章されている値は推定値であることから、直接比較して利用する場合には留意する必要がある。

資料出所：農林水産省「令和6年度食料・農業・農村白書」p.127の資料に基づき出題者が作成。

☑今年も評論文を出題してみました。今回は「無常感・悲哀感」が具体的に現れるのが「別れ」の場であり、仏教もこの別れの悲哀感と密接な共生関係で発展してきたという仏教学者の文章を選んで出題してみました。「童謡」を用いた文章であり、受験生には比較的取り組みやすいのではないかとということで選んでみました。

問1の書きでは⑥「事態」が「自体」、⑦深層が「真相」などそれぞれ同音異義を答えてしまっているものが目に付きましました。意味をよく考えてから書くようにしましょう。毎年、同音異義は出題されているので、集中的に復習をしてほしいと思います。問2の読みはとてもできていました。正答率は八割を超えるほどです。問3のア「意表」の意味については、普段使用するはずですが、それを自分で説明できるかはまた別であったようでした。続くイは文中から抜き出す同じ部分を抜き出す問題でしたが、こちらはできていたことを考えると「意表をつく」の意味は理解していたことがわかります。また、字数が二十一字と指定されていたこともヒントになったと思われる。ウの理由説明は用いる語である「仏教観」「無常感」「悲哀感」がありますが、問題文をじっくり読んでいくと「意表がつかれる＝思いもなかった」ことにつながったと思います。ただし、「観」と「感」の使い分けがあることを確認せずに間違った漢字を書いていた答案も二割程度ありました。減点となってしまうので、気をつけましょう。問4は指示語の問題で記述問題ですが、問3同様使用する言葉がありますので該当する部分を指示語に当てはめて解いていくことで解答は導き出せると思います。よくできていましたが、こちらでも「観」「感」を間違えている答案がかなりありました。注意して抜き出しましょう。問5は挿入問題です。挿入文の「それ」が何を指示しているのかがわかれば、簡単だったようです。問6は空欄補充の問題です。空欄前の「そのような」が、どのようなキーワードを求めているのかがポイントになると思います。順不同です。問7はタイトルを考える記号問題。本文で話題になっていることは何なのか、会議終了後のレセプションを通して感じられる「夕焼小焼の自然観や情緒」を含めた仏教観にたどり着いてほしいところです。これもよくできていました。

## 【英語】

### ■出題の基本方針

一般選抜(2教科型)の構成は、一般選抜(3教科型)と同様です。英文日本語訳を2問設定し、語形変化した派生語の正確な綴りを記述する設問もあります。英対話文について英語の文で解答する☑は、本試験問題全体で点数配分が高めです。以上のことを踏まえた上で、英語の基礎的事項をしっかり積み上げ、直面する新しい設問に応用できるように、英語力に磨きをかけてください。

☑(A)の英文は人間の服飾史を概説しています。先史、古代、中世、近現代と順番に進み、ファスト・ファッションまで時代を追いかけていきます。(B)の英文は頭痛と読書とを話題に、ある男性の事情を解説した冒頭箇所です。

☑の本文は、夏期休暇中のおのおのの体験、つまりテーマパークへ行ったことと、湖畔でのキャンプとにまつわる、女子と男子との英対話文です。

☑は文脈に依存しませんので、それぞれに対応してください。

☑の英文はある架空の外国食材店のウェブ・サイトを想定しています。会社紹介、株価情報、おすすめ商品紹介、業績グラフと会社所在地の順番で配置されています。

☑は文脈に依存しませんので、それぞれに対応してください。

以下では問題1から問題5までの各問を順番にみていきましょう。

### ■設問の意図と講評

☑内容一致を問う合計5問の四択問題です。英文の流れに沿った形で、ほぼ設問の順番どおりに答えられるようになっています。正答の割合は6割程でした。

(B)問1は本文の脈絡から意味が合う語(句)を選択します。問2は内容一致を問う四択問題が2つです。あわせて7～8割程の出来でした。

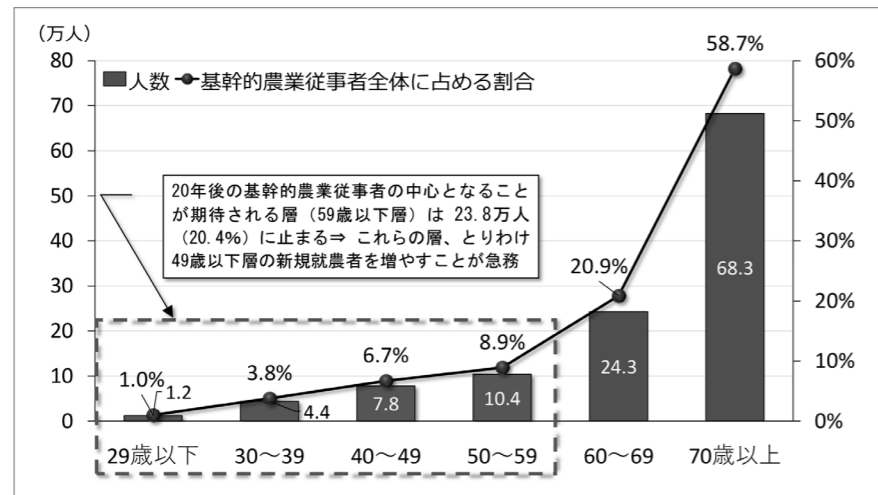
☑問題形式としては対話文の内容について、英文の問いに対し英文で解答を記述する設問です。5問ありますが、まずなによりも質問文の内容を的確に理解し、文のかたちで解答を作成するよう指示されていることにも注意を払いながら、解答文の主語・動詞や各語(句)の綴りの正確さ、そして質問文に対して適切で必要かつ過不足のない英文での解答が求められます。正答の割合は7割程でした。

☑(A)は選択肢として提示された複数個の英語語句を整理させ、英文全体として日本文の意味に最も近い表現を完成させる設問です。出来具合は4割程でした。(B)はいくつかの短文が続く英語表現に対して内容一致を問う三択問題です。出来具合は8割程でした。(C)はほぼ同じ内容の英文のペアを完成させる四択問題です。出来具合は5割程でした。

☑問1は内容一致を問う四択問題が4問です。問2は文中で各単語がどの品詞として働いているかを答えてもらいました。英語は品詞が複数ある単語も多いので、本文中の文脈、前後の語彙など連語関係から判断してください。問3の英文日本語訳は、V(動詞)を把握しS(主語)を確認して、単語・熟語の意味、連語関係(コロケーション)などに気をつけ、本文の脈絡にあった解答をしましょう。あわせて5～6割程の出来でした。

☑(A)は語形変化をとらない、かつ現在よく使用されている派生語の綴りを記述する設問です。英単語の派生形は、

【資料2】年齢別の基幹的農業従事者数(2023年2月)

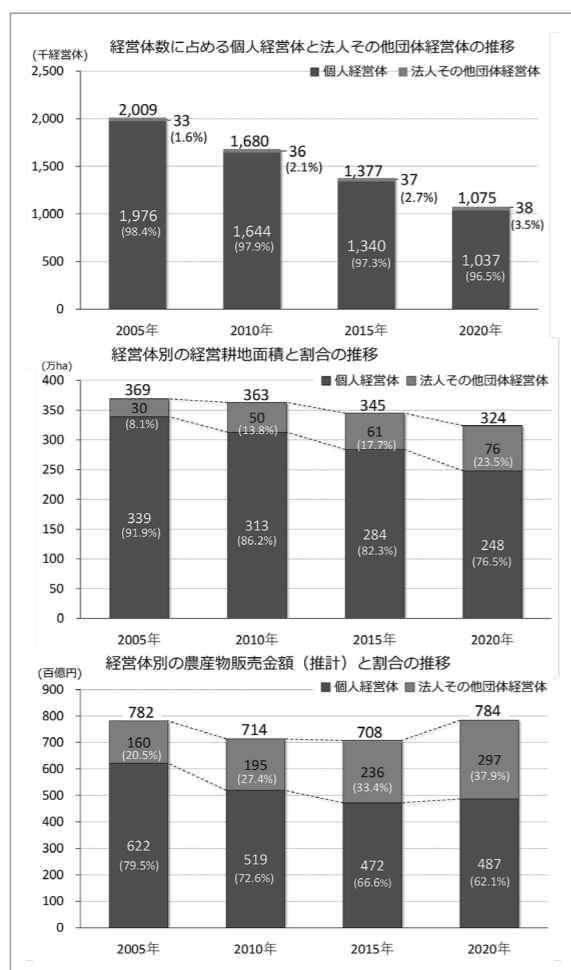


注)：①2023年2月1日時点の数値。

②「基幹的農業従事者」とは、15歳以上の世帯員のうち、普段仕事として主に自営農業に従事している者をいう。

資料出所：農林水産省「令和5年度 食料・農業・農村白書」p.20に基づき出題者が作成。

【資料3】経営体別の経営体数、経営耕地面積と農産物販売金額の割合の推移

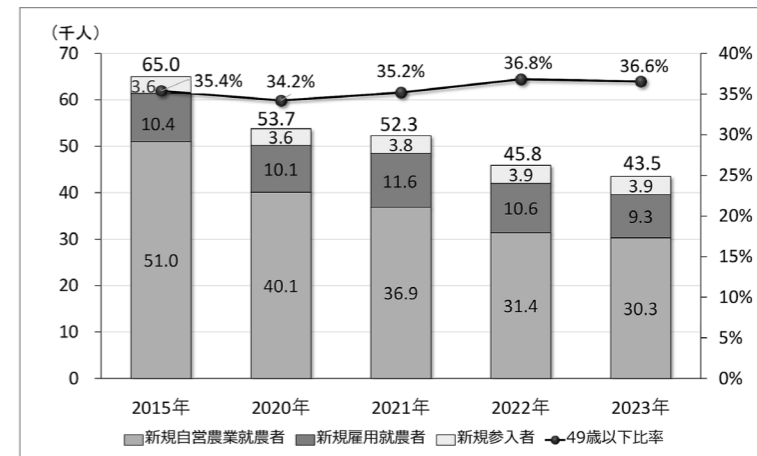


注)：①「個人経営体」とは、個人または一世帯が農業を営む経営体のことをいう。

②「法人その他団体経営体」とは、個人経営以外の農業経営を行う組織を指し、農事組合法人、会社(株式会社、合同会社など)、その他団体等が該当する。

資料出所：農林水産省「食料・農業・農村をめぐる情勢の変化(人口減少下における担い手の確保)」(令和4年11月) p.18に基づき出題者が作成。

【資料4】新規就農者数(就農形態別)と就農者に占める49歳以下の比率の推移



注)：①「新規自営農業就農者」は、個人経営体の世帯員で、調査期日前1年間の生活の主な状態が、「学生」から「自営農業への従事が主」になった者および「他に雇われて勤務が主」から「自営農業への従事が主」になった者。つまり家業として農業を継いで農家になった者をいう。

②「新規雇用就農者」とは、調査期日前1年間に新たに法人等に常雇い(年間7か月以上)として雇用されて農業に従事することになった者。つまり農業法人や農家に雇用されて働くようになった者をいう。

③「新規参入者」とは、土地や資金を独自に調達(相続・贈与等により親の農地を譲り受けた場合を除く)し、調査期日前1年間に新たに農業経営を開始した経営の責任者及び共同経営者をいう。

資料出所：農林業センサス及び農水省大臣官房統計部経営・構造統計課センサス統計室のサイト

<https://www.maff.go.jp/j/tokei/sihyo/data/O8.html>の公開資料に基づき出題者が作成。

【資料5】

農業就農者数が減少し続けている主な原因

**(地方における人口減少や高齢化の進行)**  
地方都市や中山間<sup>①</sup>の過疎地では、若年層の都市部への流出が進行し、現地の農業労働者の確保が難しくなっており、就農者個々の作業負担が増大している。とりわけ高齢化率が高い地域では、高齢者が農業を続けること自体困難となっており、農業の継承や世代交代も難航している。

**(労働条件に関する問題)**  
**<長時間労働>**  
一般に農業生産は季節性が強く繁忙<sup>②</sup>が大きいので、農繁期とりわけ収穫期には早朝から深夜までの長時間に及ぶ農作業が求められることも多いとされる。また、酪農や肥育<sup>③</sup>、養豚や養鶏農家等は連続した休暇をとりづらいとされる。  
**<非常勤労働>**  
春の種まき・植付けや秋の収穫など、季節性の強い農業生産のプロセスの中で繁忙期の作業にしか従事できない非常勤労働者が多い。  
**<低賃金>**  
製造業やサービス業等の第2次・第3次産業就業者と比較すると賃金が低く設定されていることがある。

**(特定の季節に偏った不安定な仕事量)**  
農業生産は天候や季節に大きく影響を受けるため、酪農や肥育、養豚や養鶏等を除き季節を通して仕事量は不安定で一定ではないとされる。春の種まき・植付け時期や秋の収穫時期は多忙を極める一方で、冬場などは仕事量が少なくなる傾向にある。そうした季節性の強い不安定な仕事量のため、とりわけ専業農家の場合は年間を通じて安定した労働機会と収入を確保することが難しく、これが農業への就労を躊躇させている一因と考えられている。

**(女性の基幹的農業従事者の減少)**  
女性の基幹的農業従事者は農業の重要な担い手である。その従事者数は2005年では102.7万人で全体の45.8%を占めていたものが、2020年では54.1万で39.7%まで減少している。2021年以降も毎年平均2.8万人が減少し続けており、2024年では43.1万人で全体の38.7%まで減少していると推定されている。

注)：①「中山間(地域)」とは、平野の周辺部から山間部にかけて広がるまとまった平坦な耕地が少ない地域のこと。  
②「繁忙」とは、仕事や業務の忙しい時期(繁期)と暇な時期(閑期)との差のこと。  
③「肥育」とは、肉を生産するために家畜を太らせることで、ここでは肉牛生産をいう。  
資料出所：農林水産省「食料・農業・農村白書」の各年版等を参考にして出題者が作成。

【資料6】

農業の人手不足を緩和する方策と農業就農者を増やすための施策

**(ICT<sup>①</sup>等による効率化・省力化を推進する)**  
「GPS<sup>②</sup>や農業ドローン<sup>③</sup>を用いた精密農業の展開」、「自動運転トラクターやロボットによる自動化の推進」、「農業AI<sup>④</sup>による高精度の収穫予測や病害虫警報の活用」等を図る。これらは人の手による面倒な作業を軽減し、同時に労働力への依存度を低下させ高品質な農産物の安定した生産を可能にするだけでなく、ICT化は農業経営の見える化・適正化と合理化にも寄与することが期待される。さらに生産データを集積・分析することで、効率的な作物の栽培計画を立てたりコスト削減に繋がる施策の展開も期待される。ICTを駆使したスマート農業で人手不足の緩和にとどまらず、農業経営そのものの強化へと繋げることができるとされる。

**(農地を集約化・大規模化して大型機械の導入を図る)**  
分散している小規模農地の集約化を進めて規模を拡大し、大規模化した農場で大型機械を導入して作業効率を向上させ、生産コストの削減や市場での価格競争力の強化に繋げる。こうした農地集約と大規模化には、農作業の省力化を通して農業の抱える労働力不足や低収益性の改善をもたらす、新規就農者を増やす可能性があると考えられる。

**(労働環境や労働条件の改善を図る)**  
労働環境や条件面での改善策として「作業の安全性向上と効率化のためのICTツール導入」、「農作業における労働分担の明確化」、「非農業従事者並みの休暇制度の実現に向けた職場環境の見直し」等を図る。賃金面では「賃金の適正化(各地域で設定されている最低賃金以上を確保、時間外や休日労働に対する割増賃金の支払い、社会保険への加入等)」、「安定的な収入を得られる契約形態の提供」等を図り、就農者が安定した収入を見込めるようにする。

**(外国人技能実習生を採用する)**  
農業技能実習制度を通じて、海外からの技能実習生の受け入れ者数を拡大する。受け入れ期間は最長5年で、その間に実習生が日本の農業技術や知識を学んで帰国後に活用できるよう技術移転を行う。実習生の健全な受け入れの実現のために、併せて生活面での適切なケアやサポート体制の整備を行う。

注)：①「ICT(Information and Communication Technology)」とは、情報通信技術のこと。「ICTを活用した農業」とは、センサー、ドローン、AI、ロボットなどの先端技術を活用して、農作業の効率化、省力化、高品質化を目指す取り組みをいい、スマート農業ともいわれる。  
②「GPS(Global Positioning System)」とは、地球上の現在位置を人工衛星からの電波で測り知る装置で「全球測位システム」のこと。  
③「農業ドローン(drone)」とは農業分野で活用される無人航空機のことで、主に農薬や肥料の散布、作物の生育状況の観察などに使用され、作業の効率化や省力化に貢献する。  
④「農業AI」とは「人工知能 AI(Artificial Intelligence)」技術を農業分野に応用し、農作業の効率化、生産性の向上、品質管理の改善などを旨とする。  
資料出所：農林水産省「食料・農業・農村白書」の各年版等を参考にして出題者が作成。

## ■出題の基本方針

令和8年度の入学者選抜要項に基づき、「国際化が進む現代の日本経済に関する時事的なテーマ」を出題しました。日本の急速な人口減少と高齢化の進行は、農業分野においても深刻な影響を及ぼしています。農業地域の人口減少は、基幹産業である農業の生産力低下や地域経済の停滞を引き起こすだけでなく、地域コミュニティの衰退を招く可能性があります。一方、農業従事者の高齢化と後継者不足は、中長期的な視点から見て、農地の荒廃や生産効率の低下をもたらし、結果として持続可能な食料供給体制の危機、食料自給率の一層の低下を招来することから、国の食料安全保障にとって最重要課題です。これに対処するためには、農業生産の持続可能性を確保しつつ、農業就業者数の維持・増加を図る施策の展開が必要です。日本の農業就業人口の変化を踏まえて、これから期待される持続可能な農業への転換・発展像をイメージし、その具体的な実現方策について、提供された資料等を根拠に関連する知識を加味して論述してもらおう問題としました。

## ■設問の意図と講評

まず2つの資料から、年齢別の基幹的農業従事者数と平均年齢の推移、続く2つの資料で経営体別の経営体数、経営耕地面積や農産物販売金額の割合の推移、さらに新規就農者数と49歳以下の比率の推移についての的確に読み取ることを求めました。そのうえで、農業就業者数が減少し続けている主な原因を整理して表で示しました。それらの情報を踏まえて、各年版の「食料・農業・農村白書」等において示された、「農業の人手不足を緩和する方策と農業就農者を増やすための施策」を整理した表の中から、1つを選んで自らの主張に必要な部分を参考資料として適宜利用し、農業就業人口の減少や高齢化を緩和する方策について述べることを課しました。

解答は、①構成の適切性、②論旨の明瞭性と表題との整合性、③文章表現の適切性、④誤字脱字の有無、⑤図表の引用、⑥字数制限等を評価基準として採点しました。受験生は概ねこれらの基準を満たしていましたが、中には「である調」と「ですます調」が混在していたり、文章作成の基本ができていなかった解答が見られました。また、平易な言葉の漢字表記がなされていないものや誤字脱字がある解答も散見されました。内容以前の問題で評価を下げるこのないよう、文章作成の基本はしっかりと身に付けてください。

解答内容については、問いに対する自らの意見を主張することは概ねできていました。しかし、解答の中には資料から読み取ったことの説明と主張が十分に結びついていないものもありました。普段の学習の中で、データから客観的に思考する習慣を身につけることが重要です。客観的な事実認識のもとで、本問題で言えば、農業の人出不足を緩和する方策と農業就農者を増やすための施策がいかなることかを理解し、どの点に着目して具体的な方策の提案をするべきか、論点を絞って記述してほしいと思います。

## 【総合型選抜〔Ⅱ期〕小論文】

### 【問題】

航空運送需要の伸びにより、航空機を使い人や貨物を運ぶ航空会社と、航空機が発着する空港施設の管理や運営をおこなう空港会社の経営は、おおむね成長軌道にあります。北海道内でも新千歳空港の旅客数や貨物取扱量、便数が、利便性の高さから増加の趨勢にあります。しかし他の道内空港は必ずしもそうではありません。札幌市内にある札幌丘珠空港も、目指す将来像を描ききれてないのが現状です。そこで「札幌丘珠空港はどのような空港を目指せばよいか、そのために取り組むべき具体策は何か」について、資料1・2を参考にして、あなたの考えを800字以内にまとめてください。その際、小論文の内容を的確に示す「表題」を解答用紙の所定の欄に記入してください。

### 【資料1】

皆さんが日常目にする航空機を利用した人の移動が本格化したのは、ここ半世紀ほどのことです。航空機エンジンのジェット化による高速化と、機体の広胴化による大型化により、航空機を利用した移動は大変身近なものとなりました。高速化により一飛行当たりの収益が増加し、航空会社の生産性が向上するとともに、大型化により乗客一人当たりの運送コストが下がり、顧客は航空機を安価な運賃で便利に利用できるようになりました。また、1970年代2度の石油危機を経て燃費の良いエンジン開発が進み、コスト低減効果につながりました。そして、1990年代以降は航空市場で規制緩和や価格競争が進んだことから、航空会社間の競争や運行効率向上に向けた取り組みが進展しました。

新千歳空港で見かけるJAL、ANA、AIRDO（エアドゥ）、peach（ピーチ・アビエーション）、Jetstar（ジェットスター・ジャパン）などのロゴが塗装された航空機を運行しているのは、各々の航空会社です。航空会社は提供するサービスの違いから、JALやANAのようなFSC（フルサービス航空会社）と、ピーチやジェットスターのような

LCC（格安航空会社）に分けられます。例えば、運賃設定の高いFSCは機内の飲食やエンターテインメント、預け荷物などのサービスが料金に含まれるのに対し、運賃設定の低いLCCの多くはこうしたサービスが別料金で、設備・人・機体の稼働率向上と人件費低減を図ります。

また、航空会社の提供する運送サービスは、輸送ルートの設計方法の違いからハブ・アンド・スポーク戦略とポイント・ツー・ポイント戦略に分けられます。航空機を利用した地方空港間の移動を例にすると、ハブ・アンド・スポーク戦略は、地方空港Aからハブ空港（拠点空港）Bへ中・小型機で移動し、乗り換えてハブ空港Bからハブ空港Cへ大型機で移動し、また乗り換えてハブ空港Cから地方空港Dへ中・小型機で移動します。大型機以外に長距離飛行可能な機体が無かった時代、特に国際線で最も標準的な方法でした。ハブ・アンド・スポーク戦略の利点は、ハブ空港に乗客と機材を集めB-C間の移動を大型機に集約することで、輸送効率が向上する点にあります。また遅延や欠航時の顧客対応も、より容易になります。欠点は、乗り換えで余分な時間を費やし煩わしいことや、直行便と比べ運賃が割高になる点です。また、預け荷物紛失の発生率も高まります。

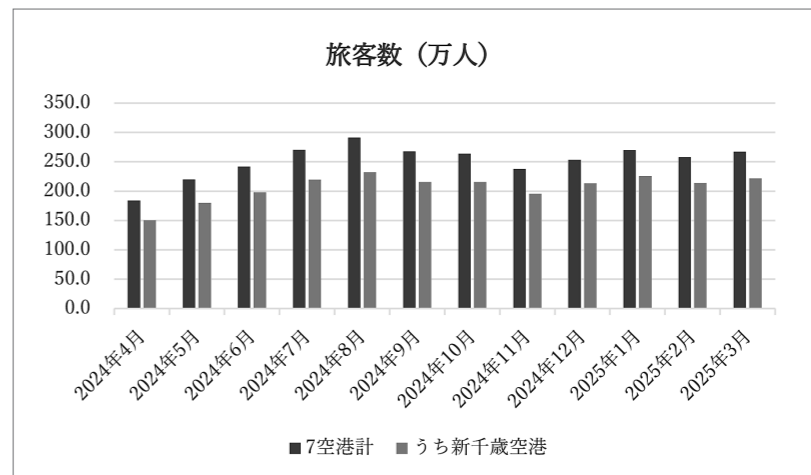
LCCの利用が目立つポイント・ツー・ポイント戦略は、出発地の空港から目的地の空港へ中・小型機で直接向かいます。例で言えば地方空港のAからDへ中・小型機で直接移動します。機体軽量化や燃費改善が進み、中・小型機の航続距離が伸び可能となりました。中・小型機を使う理由は、地方空港は乗客数が限られ、短い滑走路や限られた駐機エリアなど空港インフラが大型機の離着陸に対応しきれないためです。ポイント・ツー・ポイント戦略の利点は、乗り換えがなく乗り継ぎ便との調整時間も不要で移動時間が大きく短縮され、乗客はその分快適に過ごせます。預け荷物の紛失リスクも下がります。欠点は、地方の低い航空需要の下では運送効率が低下し採算割れを起こしやすくなる点です。やりくりできる機体が限られるので、悪天候や機体トラブル時の対応にも限界があります。

ところで、北海道開発局のホームページを見ると、北海道内には14の公共用空港があります。このうち北海道エアポート社が新千歳、稚内、釧路、函館、旭川、帯広、女満別の主要7空港を運営しています。ただし、便数や旅客数でハブ空港である新千歳空港と他の6空港の開きは大きく、同社のプレスリリースによれば、発着便数の約3/4、旅客数の約8割、貨物取扱量ではより大きな割合を新千歳空港が占めています。

7空港以外の地方空港の一つが、札幌中心部から直線距離で約6kmの札幌丘珠空港です。パンフレット「札幌丘珠空港」によれば、空港連絡バス利用で札幌駅から30分、地下鉄最寄り駅から5分の距離にあり、2024年度の利用客数は57.5万人でした。道内便は函館、釧路、女満別、奥尻、利尻、根室中標津の6路線、道外便は三沢、秋田、松本、静岡、名古屋（小牧）、新潟、名古屋（中部）の7路線あり、小型機を利用した近距離航空会社であるコムューター航空会社3社が運航しています。空港ホームページによると、機材は滑走路が1,500mと短いためプロペラ機中心に、夏季のみ一部を小型ジェット機で、運航しています。新千歳空港が札幌中心部から直線距離で40～45kmに位置することから、札幌の最寄り空港として丘珠空港の利用拡大が検討されています。

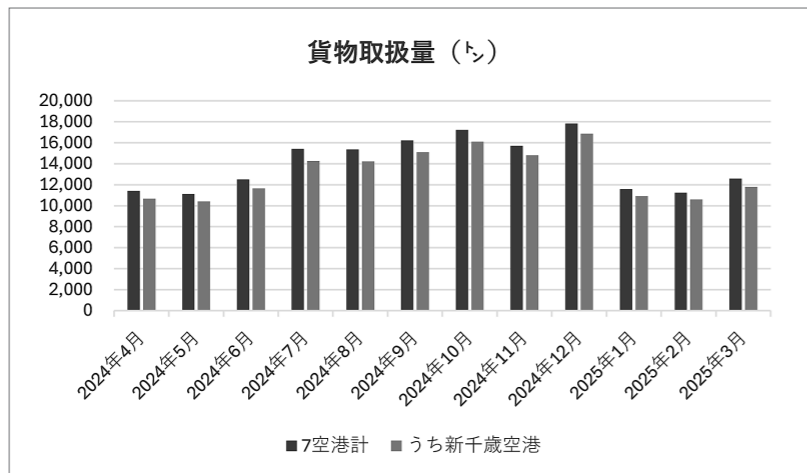
### 【資料2】

2024年度の北海道内7空港の旅客数と貨物取扱量



注)：7空港とは新千歳、稚内、釧路、函館、旭川、帯広、女満別の各空港。

出典:北海道エアポート株式会社「プレスリリース」各月版。



注)：7空港とは新千歳、稚内、釧路、函館、旭川、帯広、女満別の各空港。  
出典:北海道エアポート株式会社「プレスリリース」各月版。

## ■出題の基本方針

2025年8月現在日本には民間定期便が就航する空港が82あり、これに共用空港その他18を加えると計100の空港が存在し、狭い国土に多くの空港が点在する構図となっています。このうち民間定期便が利用する82空港は輸送網の拠点となる拠点空港28と、輸送網を補完する地方管理空港54に分けられ、地方管理空港は相対的に小規模空港となりがちでコスト効率が大きく損なわれます。また、拠点空港は設置・管理者の違いから会社管理空港4、国管理空港19、特定地方管理空港5に3分類され、国・特定地方管理空港の多くが赤字経営に苦しみ、結果的に財政の圧迫要因となっています。インバウンド需要が伸びる中であっても、日本国内に点在する地方空港の多くが利用者低迷や収支悪化から抜け出せない現実があり、だからこそ私たちが自身の問題として地方のローカル空港の活性化を考える必要性が高まっているのです。

## ■設問の意図と講評

設問はまずここ半世紀の間に起きた航空機を巡る2つの技術的進歩とその影響、つまり①機体の大型化により乗客一人当たりの運送コストが下がり安価な運賃設定が進んだことと、②飛行速度の高速化で移動時間が短縮し航空会社の生産性が向上し一飛行当たりの収益が増加したことを踏まえた上で、航空機を利用した人の移動がますます身近になった現代における地方のローカル空港が抱える課題の整理と解決策を、札幌丘珠空港を例に自分なりに考えて記述するものです。答案の評価と採点にあたっては、①記述内容と表題の間に整合性があるか、②論旨が明確で論理的記述となっているか、③資料やデータを適切に活用し思考や判断に使っているか、④文章表現は適切か、⑤原稿用紙の使い方は適切か、⑥字数は適切かといった点が確認されます。

設問の「札幌丘珠空港はどのような空港を目指せばよいか」の答案作成は、まず、資料1の第1～4段落部分から、現代の航空輸送ビジネスが低い運送コスト・運賃設定と短い移動時間を前提に成立していること、航空会社は提供するサービスの違いから機内の飲食・エンターテインメント・預け荷物などのサービスが料金に含まれ料金設定が比較的高いFSC(フルサービス航空会社)と、そうしたサービスは別料金だが運賃設定の低いLCC(格安航空会社)があること、同じく輸送ルートや設計方法の違いから主にFSCが採用するハブ・アンド・スポーク戦略とLCCが採用することの多いポイント・ツー・ポイント戦略に分けられことを要約します。次に、資料2から、北海道内7空港の旅客数と貨物取扱量の比較において新千歳空港が非常に大きな割合を占めていること、そして第5・6段落部分から、札幌丘珠空港は道内主要7空港以外に分類され小型機を利用した近距離航空会社(コミューター航空会社)3社が運航している実態を纏めます。その上で札幌丘珠空港が道内7空港に対して事業上の位置関係や差別化をどのように築いたら良いかについて、率直に個人的見解を要約することがより良い評価につながると思われます。

答案の多くは求められた問をおおむね満たす内容でした。しかし、一部の答案には資料の要約にバランスや統一性をやや欠くものや、資料から読み取った内容と答案の要旨の関連性が弱いもの、自分の考えを記述するにあたり根拠が不明瞭でやや唐突に思える例もみられました。資料から必要な情報を取り出し伝えたいことを明確に書くにあたっては、前後の文脈に注意を払う習慣を日頃から身に付けるよう心掛けてください。

## 【学校推薦型選抜(公募制)小論文】

【解説】および【図表】を適切に読み取り【問題】に回答しなさい。

【解説】以下の文章は、国際化が進む北海道における【現状認識】および【施策展開】に関する記述である。

### 【現状認識】

北海道は、世界トップレベルの自然環境や農水産資源、観光資源を有する一方、人口減少や地域経済の縮小、国際情勢の不安定化といった多くの課題に直面している。特に近年は、地域紛争、気候変動、脱炭素化、デジタル化の進展など、グローバルな変化が地域にも直接的な影響を与える状況となっている。こうしたなか、北海道内においても、外国人観光客数や国際物流量が増加傾向にあり、世界とのつながりが拡大している。一方で、多様なリスクに備えた持続的かつ柔軟な戦略対応が必要であり、北海道の「世界に開かれた地域」としての位置づけを強化することが求められている。

### 【施策展開】

上記の現状認識、諸背景を受けて、3つの視点と展開方向が、北海道(北海道総合政策部)により『北海道グローバル戦略(注)』として示されている。

視点①「世界に売り込む」食や観光の価値の向上を通じて北海道ブランドの確立を目指す。デジタル技術を活用し、海外市場を開拓する。半導体やデータセンターの誘致を進め、国際イベントや投資の誘致を推進し、本道経済の発展を図る。

視点②「世界とつながる」 デジタル技術を活用し国際交流を促進する。多文化共生社会の構築を進め、在住外国人の受入環境を整備する。グローバル人材の育成を図り、持続可能な交流を推進する。気候変動問題など世界共通の課題に対応し、海外との協力関係を強化する。

視点③「世界と向き合う」 食や観光の競争力を強化し、デジタル産業の振興を進める。国際情勢の変化に迅速に対応するため、有識者会議を常設化し、情報共有の仕組みを構築する。リスク管理を強化し、災害や感染症などのグローバルリスクに柔軟に対応できる海外展開と交流を促進する。

注)北海道(2023)『北海道グローバル戦略 改訂版 令和5年(2023年)9月』

### 【問題】

コロナ禍を経た現在、北海道ではアジア諸国を中心とした海外からの観光客の増加、海外における北海道産農水産品への関心の高まり、さらには海外資本による不動産取得など、地域経済における海外との結びつきが一層強まっている。

一方で、観光需要の偏りによる地域経済の持続的成長の妨げ、高齢化と若年層の都市流出による地域経済の停滞といった課題も指摘されている。

このような状況を踏まえて、北海道経済の国際化に関するあなた自身の意見を交えつつ、地域資源の価値を高めながら海外との関係を築いていくうえで、有効と考える効果的かつ具体的なアイデアを800 字以内で提案しなさい。

なお、提案にあたり小論文の内容を的確に示す「表題」を解答用紙の所定の欄に記述しなさい。

### 【図表】

数字でみる北海道の現状

表1 日本の観光地の認知度

順位	アジア全体				欧米豪
	中国	シンガポール	タイ		
1位	東京	富士山	北海道	富士山	東京
2位	富士山	北海道	富士山	東京	富士山
3位	北海道	東京	大阪	北海道	京都
4位	大阪	京都	東京	大阪	大阪
5位	京都	大阪	京都	京都	広島

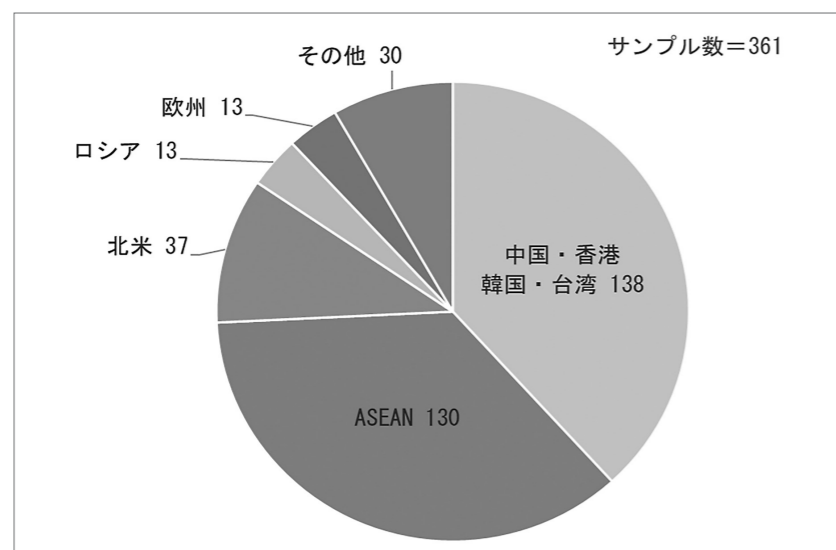


図1 道内企業のエリア別の海外進出拠点数

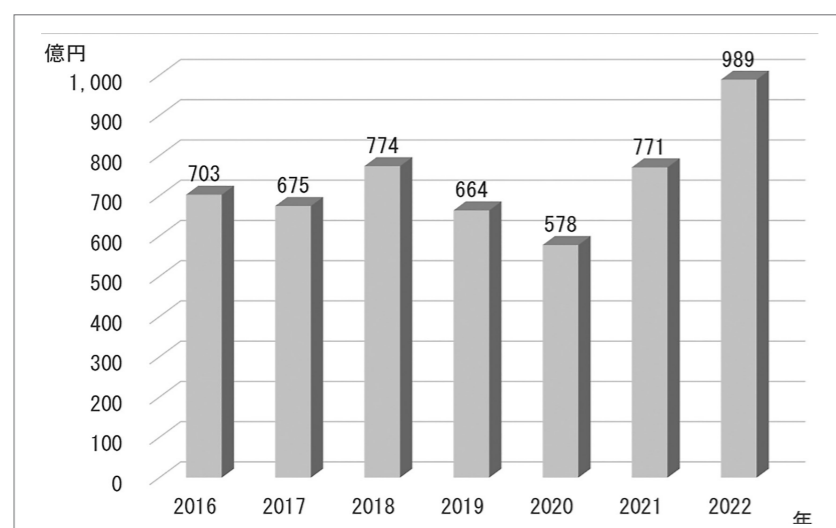


図2 食品の輸出額の推移

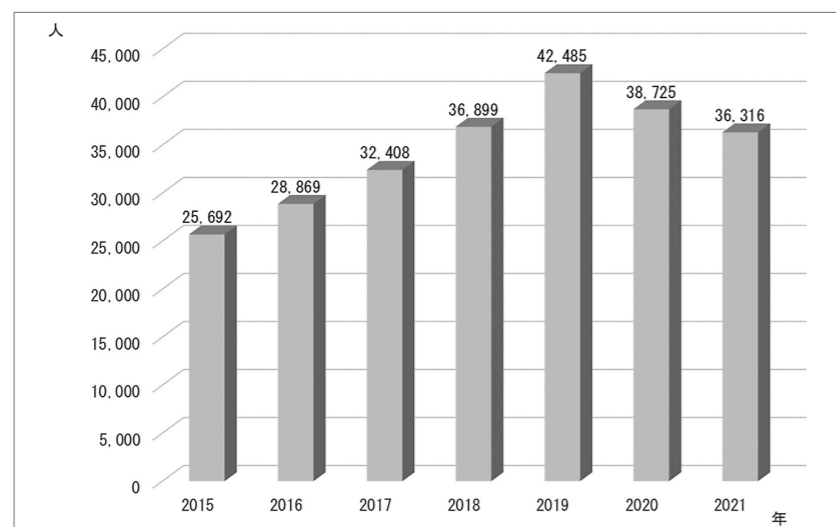


図3 道内在住外国人の推移

注)北海道(2023)『北海道グローバル戦略 改訂版 令和5年(2023年)9月』を参考に作成。

## ■出題の基本方針

令和8年度入学者選抜要項の方針に従い、「現代の北海道経済の国際化」を主軸とする時事的課題を題材として選定した。コロナ禍から社会全体が回復基調へと移行するなか、海外との人的・経済的交流は回復しつつあり、北海道においても外国人観光客の増加、農水産物の輸出拡大、海外資本の参入など、国際化の進捗が多方面で顕著となっている。その一方で、道内の人口減少、地域間の経済格差、労働力不足など構造的課題は依然として解決に向けた取り組みを要しており、国際化の波を単に受け入れるだけでは持続的な地域発展に結びつかない状況にある。

こうした現状を踏まえ、本年度の問題では、受験者が【解説】や【図表】に示されたデータおよび論点を読み取り、北海道がどのように地域資源の価値を高め、国際社会との関係を戦略的に構築していくべきかを主体的に考察することを求めた。観光・食産業・デジタル化・国際交流といった分野が複合的に関わる北海道経済の特徴を理解した上で、単に肯定的側面を述べるだけでなく、観光需要の偏在や人口構造の変化など地域が抱える課題を踏まえた現実的な提案を示す力が重要となる。また、国際化が進む一方で、世界情勢の不安定化や災害、感染症などのリスクが深刻化する今日においては、柔軟で持続可能な地域づくりを視野に入れた思考が求められる。そのため設問は、受験者が資料を分析し、課題を抽出し、効果的かつ具体的な政策的発想へと展開させるプロセスを重視した形式とした。

さらに、設問では「表題」の作成を求めることで、受験者自身が論述内容の主眼を明確にし、文章全体を統一感のある構成へと導く力も同時に評価した。こうした観点から、本年度の出題は、データ理解、論理的思考、課題解決的発想を組み合わせさせた総合的な記述力の育成を促す意図をもって設定されたものである。

## ■設問の意図と講評

設問は、北海道における国際化の進展と地域経済の変化について、【解説】および【図表】が示す現状を丁寧に読み解き、その情報を踏まえて受験者自身が今後の望ましい方向性を構想する力ををはかることを目的としている。資料の内容を踏まえた現状分析だけでなく、観光や食産業、在住外国人の増加、国際物流の活性化など、北海道を取り巻く諸要素を多面的に捉える姿勢が重視されている。また、地域資源の価値をいかに高め、海外との関係を戦略的に形成していくかについて、独自の視点から具体的な提案を示すことが期待された。

採点にあたっては、論旨の一貫性や表題との整合性、資料の適切な引用・分析、さらに根拠と提案の結び付けの妥当性を中心に評価した。全体として、資料の要点を押さえて論述を展開しようとする姿勢は多くの回答に認められ、基本的な文章構成力は十分に備わっていると判断できる。しかし一方で、資料に示された具体的な数値や傾向を十分に論述のなかで活用できていない答案が目立った。例えば、観光の認知度、海外進出拠点、農水産品の輸出額、在住外国人の増減などの情報は、北海道の国際化を評価する上で重要な根拠となるにもかかわらず、単なる概要の紹介にとどまり、自らの主張と緊密に結びつけた考察に至っていない例も見られた。また、複数の資料間の関連性を読み取り、地域課題と結び付けて分析する視点が不足しているケースも散見された。

さらに、設問が求める「効果的かつ具体的なアイデア」については、抽象的な表現に終始する答案が少なくなく、観光振興のみといった単一の視点に偏る傾向もみられた。本来は、国際化をめぐる北海道の状況を踏まえ、デジタル化、多文化共生、人材育成、地域間連携、ブランド戦略など、多様な角度から提案を構築することが求められる。提案の実現可能性を意識し、資料と自身の意見を往復させながら論旨を練り上げることが、より説得力のある小論文につながる。

文章技術面では、原稿用紙の使い方や段落構成、文章の基本的な整え方については一定の水準に達しており、基礎力は概ね良好であるといえる。今後は、資料を根拠として活かす力、課題と提案を論理的に結びつける構成力、そして地域を俯瞰的に捉える思考力を日頃の学習の中で高めることが望まれる。小論文では、知識やデータの正確さのみならず、問題の背景を的確に把握し、自ら課題を設定し、それに対して具体的な解決策を提示する能力が重視される。設問を通して、そうした力の伸長が期待される。

## 令和7年度 入学者選抜問題講評

### 一般選抜〔3教科型〕

## 【国語】

### ■出題の基本方針

2025年度3教科型・2教科型入試の国語の問題は、いずれも㊦、㊧という長文問題で出題しました。3教科型の㊦では、「語学力に裏打ちされた異文化コミュニケーション能力と幅広い国際的教養を培う」という本学の教育目標を反映した出題を行い、㊧では、生命科学の変容や科学政策を論じる論文を読み、内容を正確に把握できるかという観点から出題を行いました。

### ■設問の意図と講評

㊦飯田真紀『広東語の世界―香港、華南が育んだグローバル中国語』から出題しました。1997年の香港返還からまもなく30年となりますが、現在では政治・経済・文化などの側面で中国本土に同化していくという「中国化」が進行しつつあります。香港で独自の地位を築いてきた言語である広東語も、こうした変化とは無縁ではありません。本学は「アジアの時代にアジアを学ぶ」を座右の銘とし、アジア言語の学習をその教育目標に掲げています。激動するアジアにおいて、言語がどのような環境に置かれ、どのような変化を遂げようとしているのかを考察することは、本学の学びと深い関わりがあります。アジア言語を学ぶに先立って、中国の言語事情や、中国語における北京語と広東語の関わり、そして香港の人々の広東語に対する思いを理解することも重要だと考えます。

問1・問2の漢字の読み書きに関する問題は、比較的高い正答率を示しました。④の「残滓」は「ざんし」と読む場合と「ざんさい」と読む場合がありますが、「ざんし」が本来の正しい読み方で、「ざんさい」は慣用読みです。近年では「建築残滓」を「ざんさい」と読む場合も多く、両方とも正解としました。

問3・問4・問5は文章や段落の繋がりを問う問題です。前後の文章を落ち着いて読み解けば、自ずと正しい語句を選択できるはずです。特に、問3のbに入る語句は逆説の接続詞しか考えられませんが、最も適切なものは「しかし」となります。これらの問題は難易度がそれほど高くなく、漢字の読み書きと同様に比較的高い正答率を示しました。

問6は本文の内容を読み解く問題です。本文における「明日は我が身」とは、「香港の放送言語が(広州でのように)全面的に北京語に変えられてしまうこと」を指しますが、やや広く捉えて「香港での大陸化(中国化)が一層進むこと」という解答も見られました。ただし、「明日は我が身」を含む段落では放送言語に焦点が当てられています。「大陸化(中国化)」についての解答もまったくの誤答ではありませんが、採点時にはこれを考慮しました。

問題7は、この問題文の核心部分とも言える問いでした。第4段落をよく読み解けば、容易に正解がウであることが導かれます。

問題8は最も難易度が高い問題でした。「英国領であった返還前の香港では、英語を話せることがエリート官僚の条件であり、返還後の香港でもそうした風潮が残っているから(60字)」が正解でしたが、香港のビジネス環境に触れた解答も多く見られました。設問では「官僚」に関する記述を求めているため、その点に注意が必要です。

問題9は「水を向ける」という慣用語の意味を問うものでした。それほど頻繁に使われる慣用語ではないものの、比較的高い正答率を示しました。

問10は段落の適切な位置を問う問題でした。挿入段落の内容が「結びの段落を導く」という役割を持つことに気づけば、正解に到達しやすかったと思われます。

全体として、漢字の読み書きや語句の選択に関する問題の正答率は高い一方で、じっくり問題文を読み解く必要のある設問では正答率がやや低下しました。焦らず丁寧に読み進める姿勢が、さらなる成果につながると考えます。

㊧松原謙一『遺伝子とゲノム-何が見えてくるか-』から出題しました。人類の進化の歴史などを、生命科学の変容や科学政策との関わりから説明している文章です。問いの内容によって出来不出来はありますが、全体的にはよく解けていたと思います。

問1では㉔「寡占」の読みが難しかったようです。半数以上の受験生が正しく解答できていませんでした。一方で、問2の書き取りはよく解答されていました。日常から読み書きを丁寧にを行うことが必要です。

問3は接続語補充の問題です。それぞれの接続語の意味をしっかりとらえ、空欄に当てはめてみるのが重要です。その際、空欄前後の文章をよく読み取ることがポイントですが、こちらはよく解答されていました。

問4は挿入問題です。挿入文の各一語一語が果たす役割を考えて解答してほしいのですが、出来はあまり良くありませんでした。今回は挿入文の冒頭にある「むしろ」が何に対して「むしろ」なのか、その果たす役割を理解すれば解けた問題だったと思われます。

問5は内容問題です。「さらされる」という言葉の意味が理解できなかったとしても、「適応」という語句から、何かどのように変わり、環境にどう適するのかを読み取れば解答できたと思われます。ただし、正答率はあまり高くありませ

んでした。

問6は指示語の問題です。さまざまな書き方が見られましたが、全体的にはよく解答されていました。

問7は内容問題です。「変わり者」は本来、環境が変化しなければ消えてしまう運命を背負っていた可能性が高い存在であることを理解できれば解答できた問題でしたが、問い方が難しかったかもしれません。出来はあまり良くありませんでした。

問8は指示語の問題です。今回は条件の付いた問いの文でしたが、非常によく解答されていました。

問9は意味の違いを問う問題です。今回はよく目にしたり耳にしたりする語句を出題しました。日常から一字一句の意味内容を理解しながら使うことが重要かと思われます。解答はよくできていました。

## 【英語】

### ■出題の基本方針

英語一般選抜〔3教科型〕実施問題の構成は昨年とほぼ同様です。ただし大問題の配置を変更しています。英文日本語訳は2問設定し、また英文の解釈問題も複数の選択肢の中から一致するものを選んでもらいました。語形変化した派生語の正確な綴りを記述する設問も設定しました。英対話文について英語の文で解答する㊲は、本試験問題全体で点数配分が高めです。以上のことを踏まえた上で、英語の基礎的事項をしっかりと積み上げ、直面する新しい設問に応用できるように、英語力に磨きをかけてください。

㊱の(A)の英文は、ニュージーランドの首都オークランドについてです。その気候や高層ビルや動物園のような主要観光地、またアウトドア活動に適した名所を紹介しています。(B)はアメリカン・フットボールの簡潔なルール解説です。対戦する各チームがいかにして攻めたり守ったりするかを述べています。

㊲の本文は男子学生と女子学生との英対話文であり、週末の予定にからめてお互いの意見交換に話が弾みます。

㊳の各設問は文脈に依存しませんので、それぞれに対応してください。

㊴の英文はある架空の携帯端末販売会社のウェブ・サイトを想定しています。製品情報、機種紹介、企業情報、そして業績などのグラフと会社所在地の順番で配置されています。

㊵の各設問は文脈に依存しませんので、それぞれに対応してください。

以下では問題1から問題5までの各問を順番にみていきましょう。

### ■設問の意図と講評

㊱(A)内容一致を問う合計5問の四択問題です。英文の流れに沿った形で、問1からほぼ順番どおりに答えられるようになっています。正答の割合は7割程でした。

(B)問1は本文の脈絡から意味が合う語を選択します。問2は内容一致を問う四択問題が2つです。あわせて6割程の出来でした。

㊲問題形式としては対話文の内容について、英文の問いに対し英文で解答を記述する設問です。5問ありますが、まずなによりも質問文の内容を的確に理解し、文のかたちで解答を作成するよう指示されていることにも注意を払いながら、解答文の主語・述語や各語(句)の綴りの正確さ、そして質問文に対して適切で必要かつ過不足のない英文での解答が求められます。正確な解答をするためには、本文が伝えている内容をイメージしながら、英文を理解し解答することが重要です。正答の割合は7～8割程でした。

㊳(A)は選択肢として提示された複数個の英語語句を整列させ、英文全体として日本文の意味に最も近い表現を完成させる、並べ替え英作文の設問です。出来具合は5割程でした。(B)はいくつかの短い英文の本文に対して内容一致を問う三択問題です。出来具合は6割程でした。(C)はほぼ同じ内容の英文のペアを完成させる四択問題です。出来具合は5割程でした。

㊴問1は内容一致を問う四択問題が4問です。問2は文中で各単語がどの品詞として働いているかを答えてもらいました。英語は品詞が複数ある単語も多いので、本文中の文脈、前後の語彙など連語関係から判断してください。問3の英文日本語訳は、V(動詞)を把握しS(主語)を確認して、単語・熟語の意味、連語関係(コロケーション)などに気をつけ、本文の脈絡にあった解答をしましょう。あわせて5割強程の出来でした。

㊵(A)は語形変化をともない、かつ現在よく使用されている派生語の綴りを記述する設問です。英単語の派生形は、単語ごとに決まっていて、普通はよく使われる一つの英単語が該当します。それに従い、単語の綴りは正確に覚え記述するようにしましょう。ここは5割程の出来でした。(B)は文法・語法の問題です。四択の中から不可能な選択肢を除外し、各英文から鍵になる語句を見つけ出して、文の内容に適合する答えを選ぶことができる基礎力を培ってください。5割程の出来でした。(C)は英文のなかから主節のS(主語)に対応する適切なV(動詞)を選んでもらいました。主節について問うていますので、従属節の動詞は解答からはずしてください。6割強程の出来でした。

以上で概要の説明はおわりませんが、英語のS(主語)・V(動詞)を判別する基礎的知識を骨組みとして、そこに慣用的・例外的な文法・語法や連語関係、会話などで頻用される表現を肉付けしていき、様々な設問に対応できる英語力を養うようがんばってください。

流れを押さえ、そこに出てくる事項や事件の意味をきちんと把握していく学習が必要になると思われます。この時期に関連する基本的資料とセットにした学習をすることが大切です。

大問②は、平安時代から安土桃山時代まで幅広く扱っていますが、それぞれの時代における基本的事項を問う内容でした。中でも問12、問13、問14の正答率は高く、戦国時代と安土桃山時代についての学習はできていることが伺えました。また、問10や問15の資料読解問題の正答率も悪いものではなく、資料を丁寧に読み取れることができていました。

しかし、後三条天皇の政治の内容を問う問2、源頼朝が征夷大將軍に任じられた時に本拠地として定めた地名を問う問4、蒙古への用心を指令した8代執権の人名を問う問7、そして、足利尊氏と直義兄弟の対立から全国規模の戦乱に発展した争乱の名称を問う問11の正答率は低いものでした。これらは中世史では頻出の基本的事項です。ここでも、やはり中世史の基本的流れを押さえ、そこに出てくる事項を単語単位で覚えるのではなく、その意味や内容をセットで把握していく学習が必要であると思われます。

大問③は、江戸時代の政治・経済・文化・外交について広く問う内容となっています。このうち正答率が高かったのは、蘭学事始を著わした人物を問う問1、戯作の種類について問う問3、江戸幕府10代將軍徳川家治の時代における幕府の財政立て直し策を問う問4、1792年のロシア使節の来航に関する問8、アイヌとの交易を内地商人に請け負わせる制度を問う問13でした。これらは受験生の江戸時代に対する理解度を反映していたと思われます。

ただ、問2や問7は江戸時代の政治に関して頻出する人物名を問う設問でしたが、記述式での解答ということも影響してか、4～5割の正答率に留まりました。同様に、基本的事項であり、本来であれば高い正答率になると思われましたが、頻出事項であるロシア使節の人物名を問う問7、オランダ商館からの報告書の名称を問う問10も記述式ということが影響してか、正答率は高いものではありません。より高得点を目指すためには、江戸時代の基本的な流れを押さえただけで満足せずに、頻出度の高い用語などはきちんと記述できるようにする学習が必要であると思われます。

大問④は、日本の選挙法の改正と選挙権の拡大を切り口として、近代から現代にかけての政治と外交を問う内容になっています。問われていることは、他の大問同様に基本的事項であることに変わりはありません。この大問は全体的に正答率が高かったです。受験生の近現代史についての理解が一定程度に達していることがうかがえました。

一方で、黒田清隆が表明した政策にあたる立場を問う問1は、記述式ということの影響もあってか、正答率が最も低いものでした。また、平民宰相と呼ばれた首相の人名を記述式で問う問6も高い正答率にはなりません。やはり、頻出度が高い用語などはきちんと記述できるようにする学習が必要であると思われます。また、近現代史では、主な首相とその業績、その時の出来事を結びつけて学習することも大事です。

以上が本年度の入学試験問題についての講評です。今後の弊学の入学試験でも、まずは教科書の基本事項を理解しているかを問う問題が出るものと思われます。また、基本的な事項同士の関連について角度を変えて出されても対応可能なように、受験生の皆さんはバランスのよい学習をおこなって、今後の入学試験に向けて準備してください。

## 【地理探究】

### ■出題の基本方針

現代世界の系統地理的考察より、①は自然環境(気候と生態系)に関する出題で、②は資源と産業(工業)から出題しました。現代世界の地誌的考察より、③はインドに関する出題で、④はオーストラリアに関する出題でした。

### ■設問の意図と講評

①大問は気候の問題です。気候は私たちの生活に大きな影響を及ぼすもので、基本的なことを理解しておく必要があります。この学習項目は地理を学ぶ上で最低限必要な知識となります。

Aの問1～2は気候要素と気候因子の問題ですが、年降水量の緯度分布は高い正答率でした。Bの問1はケッペンの気候区の問題ですが、C(温帯)以外の気候区については比較的分かりやすいですが、温帯の4つの気候区は難しいところ。特にCfb気候区は日本とは異なるのでしっかり確認しておきましょう。また、Cw気候区は茶の気候と呼ばれるくらい世界的に見て茶の栽培がさかんです。問2の海流名は正答率が高かったです。

問3はCs気候の土壌名を問う問題ですが、正答者はほとんどいなかったです。問4は茶のスケッチに関する問題ですが、高い正答率でした。問5は茶の生産地域に関する問題ですが、低い正答率でした。問6はサイクロン、問7は東南アジアのAf気候区での熱帯林の伐採がすすむ理由についての問いですが、さまざまな角度から考察することが大切です。

②工業の発達における近年の状況に関する出題です。近年、半導体需要の世界的な高まりは知識集約型の先端技術産業を急速に発達させ、北海道においても国家的な事業として先端半導体工場である「ラピダス」が千歳に進出するなど、北海道の産業構造を大きく変えていくような状況となってきました。このような状況の変化をこれまでの工業の発達の経過や背景を通して理解するとともに、北海道の今後の産業の発展に関わる課題と方策について多面的・多角的に考察・構想する力を育成することは、これからの北海道を担う有為な人材を育成するためにも重要なこと

## 【世界史探究】

### ■出題の基本方針

高等学校指導要領改訂に基づいた学びを意識し、「世界史探究」では、縦軸は古代から近現代に至る時代、横軸はヨーロッパ、中東・アフリカ、そしてアジアに渡る範囲の歴史的な事象の因果関係や背景を考察する問題、異なる地域間のつながりや比較を重視した多面的視点を意識した問題、歴史資料・統計・地図・図表などを活用した問題、歴史的事象が現代の社会問題や国際情勢とどのようにつながっているのかを考える問題を出題しました。

### ■設問の意図と講評

①は、教皇権が衰える一方で王権が成立した中世ヨーロッパの特徴と国民国家と近代市民社会のヨーロッパ形成についてA～Dの4つに分けて出題しました。

Aは、西ヨーロッパ世界(フランス・ドイツ・イタリア)の成立、長く続いたドイツの政治的分断がどのように統一に向かっていったのかを問う出題でした。Bは、なぜ神聖ローマ帝国で中央集権が進まなかったのか、そして主権国家による新しいヨーロッパ国際秩序の構築について問う出題でした。Cは、ウエストファリア条約以降のプロイセンとオーストリアの関係や展開について考える問題を出題しました。Dは、ナポレオン失脚後のウィーン体制とヨーロッパの政治・社会の変動について問う出題でした。各問の中では、問8と問9の正答率が低い傾向にありました。両問題とも、歴史的事実が生じた背景を問う問題です。歴史的事実だけではなく、それが生じた背景を結びつけたより具体的理解に繋がるよう学習を進めてください。

②は、中国史における王朝の交代と北方の騎馬民族の関係について、A～Cの3つに分けて出題しました。Aは、匈奴の国家と秦・漢が現れた紀元前3世紀以降、そしてユーラシアの東側に誕生した遊牧と農耕の2つの世界について問う出題でした。Bは、中央ユーラシアの遊牧国家が隋や唐とどのような関係をつくったかを問う出題でした。Cは10世紀以降のキタイ・金が遊牧・農耕を束ねる唐、明、新時代の支配に関する出題でした。各問の中では、問5の正答率が低い傾向にありました。歴史的人物が説いた言葉に込められた意味を理解し、より深い理解に繋がるよう学習を進めてください。

③は、ヨーロッパ諸国が世界を支配していく情勢に加え、世界の一体化やグローバル化のスタート時期、意義・覇権争いについて問う出題でした。

Aは、世界一体化の幕開けとともに始まったヨーロッパの海洋進出=大航海時代が諸地域にどのような影響を与えたのかを問う出題でした。Bは、Aの出題内容に続き、ヨーロッパのアジア進出やアメリカ発見と制服について問う出題でした。Cは、ポルトガルとスペインの貿易独占に対抗し、17世紀に最も有力な海洋大国となったオランダの交易について問う出題でした。Dは、18世紀になって生じたイギリスとフランスの覇権争いがグローバルな戦いへどのように転じたのかを問う出題でした。各問の中では、問3の正答率が低い傾向にありました。この問題は遠征路を地図で示しながらその時代の皇帝と遠征目的の組み合わせを問うものでした。文章だけでなく、歴史的事象を地図からでも読み解けるよう学習の幅を広げてください。

④は、市民革命、産業革命という大きな変化を経てバクス=ブリタニカ時代と呼ばれる近世から現在に至るイギリスの歴史についてA～Cの3つに分けて出題しました。

Aは、17世紀の近世イギリスにおきたピューリタン革命と名誉革命の2つの革命について問う出題でした。Bは、18世紀イギリスの議会政治について問う出題でした。Cは、産業革命期のイギリスと産業革命が世界経済とどのように結びついたのかを問う出題でした。各問の中では、Bのイギリス議会政治に関する問7、問8、問9、問10の正答率が低い傾向にありました。

## 【日本史探究】

### ■出題の基本方針

日本史では、古代、古代から中世、近世、そして近代から現代にわたる時期について、計4つの大問を出題しました。問題は教科書で取り上げられる頻出事項を中心に構成されています。教科書レベルでの学習をとおして、着実に解答が可能な問題です。全体的に、日本史全般を均衡して勉強しているかどうかが問われています。

### ■設問の意図と講評

大問①は、飛鳥時代から奈良時代にかけての政治と文化を扱った内容です。主に教科書や資料集に記載されている史料に基づき、基本的な事項を問う内容となっています。古代史における重要事項として教えられる天皇の推移や政変についての設問や遣唐使に関する設問、そして、その時代での文化に関わる設問の正答率が高かったことは、受験生の古代史についての理解が一定程度に達していることがうかがえました。

一方で、問1と問8、問12の正答率は低いものでした。これらは単なる単語の理解だけでなく、古代史の基本的な

題でした。低い正答率でした。問6は、考えさせる新しい傾向の出題を意識した問題でしたが、低い正答率でした。問7は、日本の高齢化に関する基本的な知識を問う問題でした。比較的高い正答率でした。問8は、地方の過疎化が進行している現状に対し、どのような形でその課題を解決していくのかを探求してきた生徒なら解ける問題でしたが、そのような視点をもって学んできた学生が少ないためか、正答率は極めて低かったです。

㊦問1は、社会契約説に関する思想家とその思想をつなぐことを問う問題でした。他の公民科科目や世界史などでも学ぶ内容であるため、しっかりと勉強していることが理解でき、高い正答率でした。問2は、男女普通選挙の始まった年代を国別を選択させる問題では、アメリカとイギリスの区別が難しく、感覚や思い込みで説いたと考えられるくらいに低い正答率でした。民主政治の基本的な事項や具体的な歴史の流れを問う問題は良く解けていました。問3は、イギリス、アメリカ、日本の政治体制を問う簡単な問題で、正答率も高かったです。これら基本的な問題は間違ふことのないようにしてください。問4は、日本の法の区分に関する基本的な知識を問うものでした。教科書や資料集でもしっかりと記載があるのですが、思いのほか正答率は低かったです。法に関する基本的な事柄は政治経済の問題を解くために勉強しておくことが必須です。

## 【数学I, 数学A】

### ■出題の基本方針

出題範囲は、例年通りですが、「数学A」については、「場合の数と確率」および「数学と人間の活動(整数の性質に限る)」としており、新学習指導要領に対応し過年度卒にも配慮した出題範囲となっております。内容については、本学に入学する学生として、基礎・基本をきちんと身に付けた知識・技能を持っているか、さらに標準的な問題や身近な具体的な事象に対して、数学的な見方・考え方や思考・判断・表現力を身に付けているかなどを問う問題となっております。全体的には、よく解答に取り組む姿勢やその成果が多く見受けられました。解答については、㊦以外は「途中の計算過程も記入」とあり、結果だけでは、過程の考え方や努力が見えず数学の力を評価するものとはなりません。普段の学習から論理的で説得力のある表現で解答できるよう心がけてください。

#### ●学習のポイント

- ①教科書の基本問題や例題を繰り返し解き自分のものにする
- ②教科書傍用や薄い問題集の重要問題に繰り返し取り組む
- ③解答は式だけでなく、グラフや図の利用も大切にする

### ■設問の意図と講評

㊦基礎的・基本的な知識及び技能に関する問題(解答は結果のみ記入)  
いずれも基礎的・基本的な問いで正答率はやや高い結果でしたが、ケアレスミスのないよう再度見直すことが大切です。(1)の展開では、例えば $(x+y)^2(x-y)^2=(x^2-y^2)^2$ と変形し、さらに展開するという方法があります。また、因数分解では $(x^2-1)(x^2+3)$ をさらに因数分解をする必要があります。(3)は、基本的な定義がしっかり身に付いていなければなりません、ここでは四分位範囲の正答率がかなり低くなっています。大問1については、広く教科書の基本的な問題となっているので、受験者全員が満点を取れることを期待しているところです。

㊦2次関数の性質やグラフを利用する標準的な問題(解答は途中の計算過程も記入)  
2次関数の性質やグラフを利用し、グラフ上の点の位置を自在に考えられるかが問われます。  
(1)(2)は、2次関数の基礎・基本なのでよく出ていました。(2)の最大値は「なし」となります。(3)については、グラフをかいて、どのような状況の中で問われている整数なのか注意深く考えることが大切でしょう。(2)で $y=(x-(3/2))^2-(5/4)$ と変形し、 $x=(3/2)$ のとき最小となりましたが、ここではその近くの整数xで最小となる場合ですので、 $x=1,2$ となります。(4)については、 $y=(x-(a/2))^2-(a^2/4)+1$ と変形し、頂点のx座標が $x=(a/2)$ であるグラフが $x=4$ 付近を動く様子をみながら解答するか、絶対値記号を使うと $|(a/2)-4| \leq (1/2)$ の式で表し解くことができます。関数とグラフの関係を自在に考えることに慣れることが大切です。

㊦三角比を利用して、身近にある問いを解く問題(解答は途中の計算過程も記入)  
三角比について、基礎・基本の理解と身近な問いに対して数学的な考え方で解決する力が問われます。  
(1)は、全員が正解してもよい基礎問題です。(2)は、三角比を利用して電柱の高さを求めるために、観察した状況をノートにまとめ、解くという探究的な設定です。多い解答は、ADとBCの延長線の交点をEとすると、 $\tan 30^\circ = (3/CE)$ より、 $CE=3\sqrt{3}$ である、したがって、 $\tan 30^\circ = (AB/BE)$ より $AB=BE$   $\tan 30^\circ = (10+3\sqrt{3}) \times (1/\sqrt{3}) = 8.8$ でした。様々な方法で取り組む意欲的な答案が見られました。(他の例:  $AB=3+10 \tan 30^\circ$ )

㊦サイコロと整数に関する標準的な確率の問題(解答は途中の計算過程も記入)  
基本的な確率、整数の性質の意味や扱いなど、総合的に考察する力が問われています。  
(1)は、基本問題で偶数は2、4、6の3通りなので $(3/6)=(1/2)$ となります。(2)について、互いに素は2つの整数の最大公約数が1のときです。(i)は、1回目と互いに素になる数、1と5が出た場合なので、 $(2/6)=(1/3)$ となります。(ii)は、互いに素になる場合は23通りあるので、互いに素にならない場合は13通りあります。したがって $(13/36)$ と

です。  
問1は、語群をつけた適語補充問題です。ほとんどの問いは正解でしたが、(ウ)のNIEsや(カ)のe-wastelについては正答率が低い状況でした。問2は、新しい形態のサプライチェーンに関する文についての語群をつけた適語補充問題です。全体として正答率が低い状況でしたが、今後はこのような形態の変化がますます増えていく可能性もあることから、しっかり理解しておく必要があります。問3は、工業製品の生産の推移を示すグラフからそれぞれに当てはまる国を選ぶ出題でしたが、各工業製品の生産の推移の特徴をつかむことによって、もう少し正答率を高めることができたと思います。問4は、北海道に関する時事問題として関心も高かったことから、正答率もやや高い状況でした。

㊦インドの地誌に関しての出題です。今や、インドはグローバルサウスのトップリーダーとして世界の中で重要な地位を占めてきています。インドを取り巻く今後の世界情勢を見ていく上では、イギリスからの独立以降、宗教的な事情を要因とする様々な課題を内包しながら発展してきていることを理解することも大切です。

問1は、語群をつけた適語補充問題ですが、(イ)の中国の正答率がやや低かった以外は、概ね理解していました。問2は、カシミール地方の地図上の位置を答えさせる問題ですが、問1の(ア)で答えたパキスタンの位置を理解していたため正答率も高い状況でした。問3は、鶏肉の需要が高い理由を記述する問題でしたが、宗教上の戒律によって制限される食べ物についてよく理解していたようでした。問4は、A、B、Cの都市に当てはまる雨温図を答えさせる問題ですが、モンスーンによる降水の変化を十分理解していない状況も見られました。問5は、略地図中のX-Yの断面図を答えさせる問題ですが、デカン高原の標高を十分理解していない状況が見られました。

㊦大問はオーストラリアに関するものです。問1は空欄を埋める問題で、多文化、グレートアーテジアンなど基本的な語句が問われています。問2はオーストラリアへの移民の変化を問う問題でしたが、8割程度の正答率でした。問3はワーキングホリデー制度に関する問いですが、正答率が低かったようです。問4は降水量との関係が深い農業地域区分に関する問題や乾燥地域での地下水に関する問いですが、いずれも基礎的な問題です。問6の牛肉と羊肉の輸出国については戸惑ったかもしれませんが、選択肢が用意されているため、牛肉と羊肉を比較しながら正答を導き出すことができます。問7の鉱工業の問いは、オーストラリアの特色ともいえる鉱産資源と産出地との関係を示すもので基本的な問題です。問8は日本とオーストラリアの貿易から日本の輸入品目からオーストラリアを見つけ出す問題ですが、難易度が高かったといえます。普段から統計資料や用語の確認をしておくことが大切です。

## 【政治・経済】

### ■出題の基本方針

㊦と㊦は経済分野からの出題です。㊦は市場経済と資本主義に関する設問、㊦は戦後日本経済の諸問題に関する設問でした。㊦と㊦は政治分野からの出題です。㊦は地方自治の仕組みや地方財政について基礎的な知識を問う設問であり、㊦は民主政治および基本的人権に関する基礎的な知識を問う設問でした。

### ■設問の意図と講評

㊦問1は、資本主義経済の理論的支柱となったアダム・スミスについての問題でした。問2は、文章中の空欄補充問題でした。回答は選択式となっており、比較的高い正答率でした。問3は、資本主義経済のマイナス面への対応を主張した経済学者とその主張内容についての設問でした。問4は、競争的な市場における需給均衡の仕組みについての空欄補充問題でした。問5は、超過供給に関する図解問題です。市場均衡とは異なる価格が設定した場合に、生産量および消費量がどのように決まるのかを理解している必要があります。選択問題でしたが、正答率は低かったです。問6は、外部経済及び外部不経済に関する理解を問う問題でしたが、正答率は低かったです。問7は、寡占市場のデメリットについて問う問題でした。いずれも多くの教科書で重要な用語として掲載されている基本的事項についての知識と理解を問う設問となっております。

㊦問1は、文中の空欄補充の問題でした。戦後の日本の経済発展とそれに伴って発生してきた諸問題についての基本的な知識が必要となります。問2は労働生産性に関するグラフを読み取る問題でした。グラフを正確に読み取り、その情報を整理する力が必要となります。問3は、農業に関する基本的な用語を問う問題でした。用語の定義を正確に理解する必要があり、正答率は低かったです。問4は日本の農業政策についての知識を問う問題、問5は農山漁村の活性化に関する問題でした。記述式の回答となっていた問5の正答率が低かったです。問6から問8は、公害もしくは環境問題に関する設問でした。なぜ公害が発生し、なぜ解決が難しいのかといった環境問題発生メカニズムをしっかりと理解しておく必要があります。

㊦問1は、地方自治の本旨について穴埋め式で回答してもらう設問でしたが、正解率は思いのほか低かったです。教科書や資料集でも確実に記載されている語句であり、受験生には必ず押さえてほしい知識です。問2は、我が国における選挙制度に関する設問でした。比較的高い正答率でした。問3は、経済学者プライスが用いた地方自治を表す言葉を問う問題でしたが、比較的高い正答率でした。問4は、住民による条例制定や住民投票などの細かい知識を問う問題でした。この単元では細かい知識を問う問題は出題可能性が高いのでしっかりと押さえてください。かなり低い正答率でした。問5は、地方分権一括法が施行された後の地方公共団体の行う事務について細かい知識を問う問

問3は空欄補充の問題です。正答率は高かったものの、その語句が果たす役割を理解し、空欄前後の文章に十分気をつけることが解答の鍵になるかと思います。問4は挿入問題です。挿入文にある文言が抽象的な文なのか具体的な文なのかを吟味して解答してほしいのですが、あまり出来は良くありませんでした。今回は挿入文の冒頭の「言い換えれば」が何を言い換えようとしているのかを理解すれば解けたと思われるです。

問5は意味を問う問題です。今回は受験生があまり目にしない言葉の意味を出題しました。この文言の前後から意味を類推できるのではないかと思って出題しましたが、出来は良くありませんでした。限られた語彙で日々を過ごすのではなく、普段から語彙を増やす意識を持って日常生活を送ってほしいものです。

問6は「具体的に」と質問されているので、それに該当する部分をまとめる問題でした。文字数制限のない問いでしたが、自分の言葉でまとめている受験生が多く、正答率も高かったです。問7・問8・問9も問6と同じく内容を問う問題でした。字数の制限がある中で問いの文と合致する内容を抜き出すことが求められる問題でしたが、よく解答されていました。問9では「地球温暖化」をテーマとしていた筆者が、問題文の中で「資本主義経済」の話題を持ち出した理由を考える問題でした。「最終段落から」という問いの文から解答は容易だったと思います。多くの受験生が正答していました。

問10は漢字の使い分け（意味の使い分け）を問う問題でした。普段から注意を払い、その違いを理解しておくことが重要ですが、約半数の受験生が正しく解答していました。

## 【英語】

### ■出題の基本方針

英語一般選抜(2教科型)実施問題の構成は、一般選抜(3教科型)実施問題と同様です。英文日本語訳を2問設定し、語形変化した派生語の正確な綴りを記述する設問もあります。英対話文について英語の文で解答する2は、本試験問題全体で点数配分が高めです。以上のことを踏まえた上で、英語の基礎的事項をしっかりと積み上げ、直面する新しい設問に応用できるように、英語力に磨きをかけてください。

①(A)の英文はオーストラリア西部の主要都市の一つ、パースについてです。市内の様々な施設や催しなどを紹介し、周辺に浮かぶ島や街が発展した経緯を解説しています。(B)の英文はイギリス観光についてです。より短時間で各地を巡ることができる意外さを強調しています。

②の本文は、学校祭を目前に控え準備にいそしむ、女子と男子との英対話文です。

③は文脈に依存しませんので、それぞれに対応してください。

④の英文はある架空の市役所のウェブ・サイトを想定しています。様々な市民サービス、市議会や市役所幹部の紹介、都市周辺の簡略地図、そして人口推移のグラフと市役所所在地の順番で配置されています。

⑤は文脈に依存しませんので、それぞれに対応してください。

以下では問題1から問題5までの各問を順番にみていきましょう。

### ■設問の意図と講評

①1(A)内容一致を問う合計5問の四択問題です。英文の流れに沿った形で、ほぼ設問の順番どおりに答えられるようになっていきます。正答の割合は7～8割程でした。

(B)問1は本文の脈絡から意味が合う語(句)を選択します。問2は内容一致を問う四択問題が2つです。あわせて7割程の出来でした。

②問題形式としては対話文の内容について、英文の問いに対し英文で解答を記述する設問です。5問ありますが、まずなによりも質問文の内容を的確に理解し、文のかたちで解答を作成するよう指示されていることにも注意を払いながら、解答文の主語・動詞や各語(句)の綴りの正確さ、そして質問文に対して適切で必要かつ過不足のない英文での解答が求められます。正答の割合は6～7割程でした。

③(A)は選択肢として提示された複数個の英語語句を整列させ、英文全体として日本文の意味に最も近い表現を完成させる設問です。出来具合は4割程でした。(B)はいくつかの短文が続く英語表現に対して内容一致を問う三択問題です。出来具合は7～8割程でした。(C)はほぼ同じ内容の英文のペアを完成させる四択問題です。出来具合は5～6割程でした。

④問1は内容一致を問う四択問題が4問です。問2は文中で各単語がどの品詞として働いているかを答えてもらいました。英語は品詞が複数ある単語も多いので、本文中の文脈、前後の語彙など連語関係から判断してください。問3の英文日本語訳は、V(動詞)を把握しS(主語)を確認して、単語・熟語の意味、連語関係(コロケーション)などに気をつけ、本文の脈絡にあった解答をしましょう。あわせて5～6割程の出来でした。

⑤(A)は語形変化をともない、かつ現在よく使用されている派生語の綴りを記述する設問です。英単語の派生形は、単語ごとに決まっていて、普通はよく使われる一つの英単語が該当します。それに従い、単語の綴りは正確に覚え記述するようにしましょう。6割程の出来でした。(B)は文法・語法の問題です。四択の中から不可能な選択肢を除外し、各英文から鍵になる語句を見つけ出して、文脈に適合する答えを選ぶことができる基礎力を培ってください。出来

なります。結果のみで正解でも得点にはなりません、途中の考え方・解き方を述べ導き出すことが必要です。自信を持って表現し説得力のある答案を作成してほしいものです。

## 一般選抜〔2教科型〕

## 【国語】

### ■出題の基本方針

2025年度3教科型・2教科型入試の国語の問題は、いずれも㊦、㊧という長文問題で出題しました。2教科型の㊦では「商取引の諸問題を解決するための創造的な発想と実践力を兼ね備える」という本学の教育目標を反映した出題を行い、㊧では、地球環境と温暖化に関する論文を読み、その解決方法を考えるという思考力を問う観点から出題を行いました。

### ■設問の意図と講評

㊦貞包英之『消費社会を問いなおす』から出題しました。本書は、「消費社会」について、「豊かさ」などのプラス面ばかりではなく、深刻な格差や環境問題といったマイナス面も指摘し、その具体的な様相や限界について考察しています。私たちの生活は、「消費社会」と切り離しては成り立ちません。このような日常的な消費行動を、社会全体の問題として意識し、言い換えれば、身近な事柄を通してその背景や社会問題を俯瞰する姿勢を身につけてほしいとの考えから、本書を選んで出題しました。

問1・問2は、漢字の読み書きに関する問題で、全体的によい出来でした。ただし、問1・⑤の「保証」は、「保障・補償」といった同音異義語があるため、文脈に基づく判断が必要です。また、問1・⑥の「被」は、「ネ(ころもへん)」を「ネ(しめすへん)」で書く誤答が見られました。漢字の学習においては、同音異義語の区別や字形の類似した漢字の区別に注意を払うことが重要です。

問3は語句の意味に関する問題でした。「軒並み」という言葉は、もともと軒を連ねて家々が立ち並び様子を表す言葉ですが、そこから派生して「どこもかしこも、一様に」の意味でも使われるようになりました。

問4は接続語補充の空欄問題です。このような問題では、空欄前後の文をよく読み、両者の関係を理解してから答えとなる接続語を選ぶことが大切です。

問5は、指示語の指す内容を抜き出す問題です。傍線部の「そうした『バツ屋』にはない特徴もみられた」という記述から、「そうした」が「バツ屋」の特徴を指していることが分かります。傍線部以前の本文を探すと、「トラックで各地を回りB級品を低価格で売りつける、いわゆる『バツ屋』が多数出現し」という記述が見つかります。設問では「二十五字以内」という条件があるため、この部分の「トラックで……売りつける」(二十三字)が正解となります。字数制限がヒントになったこともあり、全体としてよい出来でした。

問6は理由説明の選択肢問題です。傍線部直後の記述だけに基づいて選択肢Aを選ぶ答案が多く見られましたが、Aの内容は「比較的豊かで生活に余裕のある者」の特徴を説明しているだけで、「一〇〇円ショップに通っている」理由にはなっていません。本文を読み進めると、傍線部より2段落後の末尾と3段落後の冒頭に、「そうしてそのゲームを上手くやり遂げる満足感そのものが、一〇〇円ショップの何よりも『売り』になっているのである。／そしてだからこそ、貧困層のみならず富裕層も一〇〇円ショップを日常的に利用している」という記述が見つかります。この「だからこそ」の部分が傍線部の問いに対する答えです。よって、正解はオとなります。

問7・問8は内容理解に関する記述問題でした。問7では、傍線部の「それができたときに『賢く』買ったことになる」における「それ」の指す内容を補う必要がありました。「それ」が示す「両者のバランスが取れる、ちょうどよい商品を見つけると」という記述をさらに解釈し、「両者＝価格と質」と読み取ることで適切な解答を導き出せます。問8は、傍線部「それに対して一〇〇円ショップの魅力は」という箇所の「それ」が指す内容を明らかにする問題でした。「それ」と対立する内容を本文から抽出し、「一〇〇円ショップ以外の店に関する記述」をまとめれば正解となります。

問9は「三字で」という条件付きの問題でした。「宝探し」という答えが導き出しやすく、全体としてよい出来でした。

問10は脱文補入の問題でした。脱文の中の「筆者の調査でも」という記述を手掛かりに、本文で〈筆者以外の調査〉が述べられている箇所を探し、さらに一〇〇円ショップが低所得者層以外にも利用されている調査結果が記された場所を特定することで正解を導き出せたはずです。

㊧佐和隆光『地球温暖化を防ぐ』から出題しました。今回は「地球温暖化」の克服には何が不可欠なのか、どのような努力が求められているのかを中心に述べられた文章です。問1・問2の漢字の読み書きの問題は、よく解答されていましたが、問1の④「施す」の読みの誤答、問2の②「余念」の「余」を「予」と書いている受験生が目立ちました。漢字の読み書きは、教科書や新聞などに頻出するものを中心に出题されることが多いので、一字一句を正確に覚えることが重要かと思われます。

具合は5~6割程でした。(C)は英語の短文のなかからS(主語)に対応する適切なV(動詞)を選んでもらいました。6割程の出来でした。

### 【総合型選抜〔I期〕小論文】

#### 【問題】

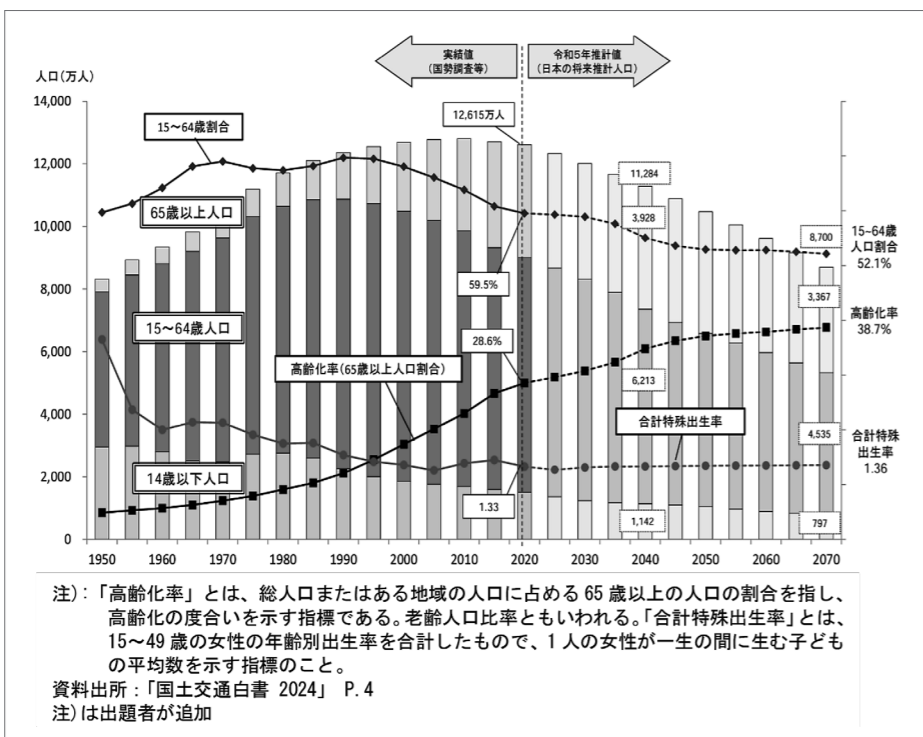
国の研究機関による将来推計人口では、日本の総人口が2050年には1億500万人を割り込み、同時に高齢化も進行して2050年の高齢化率(65歳以上の人口割合)は、37.1%へ上昇すると推計されています。一方、2020年から2050年の人口規模別人口減少率の推計によると、人口規模が小さい自治体ほど人口減少率が高まる傾向にあり、北海道に多い人口1万人未満の自治体の場合、居住人口は約4割以上減少すると推計されています。日本の人口が首都圏に一極集中する一方で、人口減少は小規模自治体のみならず日常生活の中心的な役割を担う中規模自治体へも拡大すると予測されており、人口減少や高齢化の進展に応じた暮らしや社会を支える取り組み、言い換えると地域の活力を維持する取り組みの展開が急務とされています。地域活力が低下すると、公共交通の減便・廃線、インフラの更新予算の削減、地域住民の営みの衰退等、さまざまな課題がより深刻化し、地域の持続可能性の喪失が危惧されます。

そこで、資料1~資料6から読み取れるデータとその動向や根拠について確認したうえで、資料7で示される取り組みから1つを選んで参考とし、地域の人口減少や高齢化に起因する地域活力の低下を緩和するための具体的な事業や方策について、あなたのアイデアを800字以内で述べてください。その際、小論文の内容を的確に示す「表題」を解答用紙の所定の欄に記入してください。

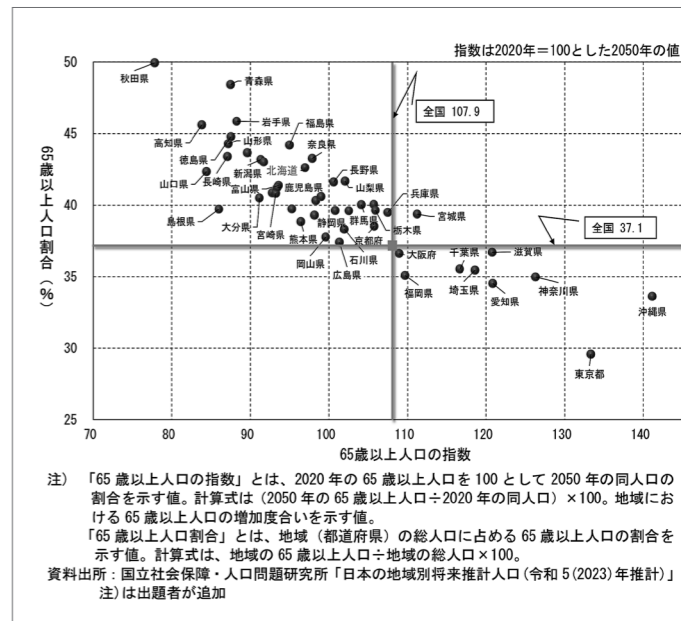
なお、ここで示した資料からはさまざまな事柄が読み取れると思いますが、必ずしもすべての資料を使う必要はありません。自分の意見や主張を述べるために必要な資料を選んで適切に用いてください。

インフラ(infrastructure)とは社会や経済、国民の生活を支える基盤のことで、一般的に「社会インフラ」「生活インフラ」と略称される。電気やガス、水道、道路、公共交通機関など、それがないと生活が成り立たないものを指す。現在ではインターネットも重要なインフラの1つとなっており、「通信インフラ」とも呼ばれる。

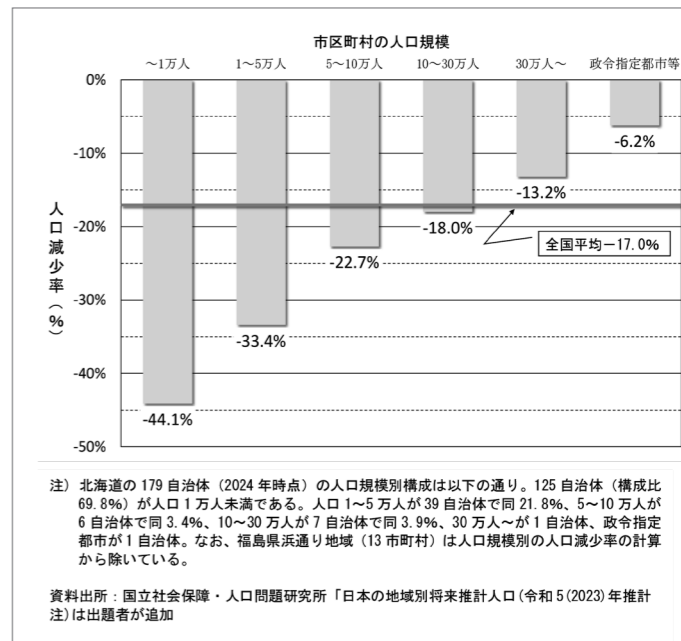
#### 【資料1】 日本の人口の推移



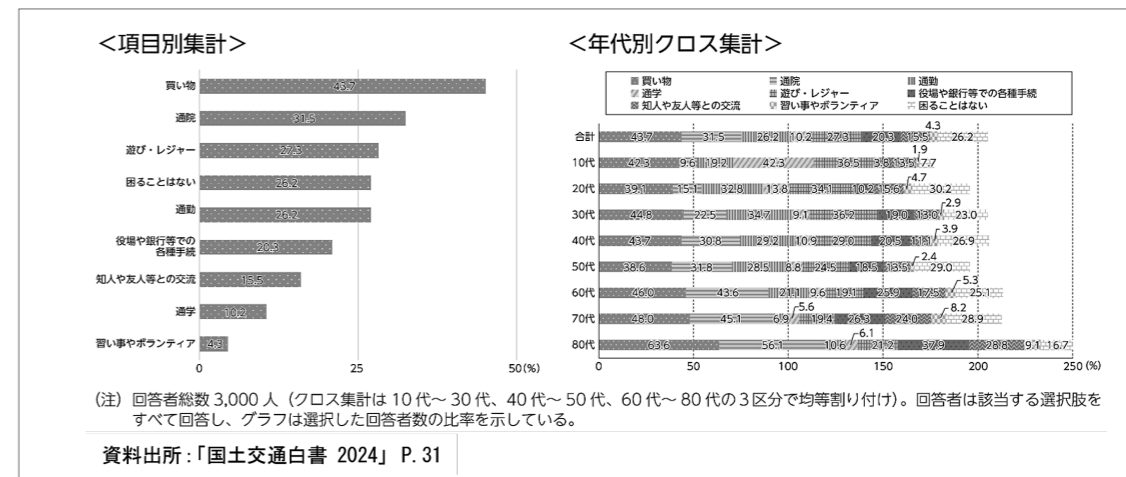
#### 【資料2】 2050年の65歳以上人口の指数と 65歳以上人口の割合(地域別)



#### 【資料3】 市区町村の人口規模別 人口減少率の推計 (2020年~2050年)



#### 【資料4】公共交通の減便・廃線等により移動手段が減少して困ること



## ■出題の基本方針

令和7年度入学者選抜要項に記載のとおり、「国際化が進む現代の日本経済に関する時事的なテーマ」を出題しました。急速に進む日本の人口減少と高齢化は、地方においてより顕著です。そうした人口の変化は地域の活力低下をもたらし、公共交通の減便・廃線、インフラの更新予算の削減、地域住民の活動の衰退等をより深刻化させ、地域の持続可能性の喪失を招来しかねません。それ故に、地域の活力を維持する取り組み、換言すると人口の変化に応じた暮らしや社会を支える取り組みの展開が急務とされています。国内の地域人口の変化を踏まえて、これからの日本の地方において期待される持続可能な地域社会への発展像をイメージし、その具体的な実現方策について、提供された資料等を根拠に関連する知識を加味して論述してもらう問題としました。

## ■設問の意図と講評

まず3つの資料から、日本の総人口および生産年齢人口の割合、高齢化率や合計特殊出生率の推移、2020年と比較した2050年の都道府県別にみた高齢者人口の割合や高齢者人口の増加度合、さらに市区町村の人口規模別人口減少率の推計値から将来の人口変化を確認すること、続く3つの資料から地域住民が移動手段の減少に伴って懸念している事柄や対応・維持が重要と考えている事柄を的確に読み取ることを求めました。そのもとで、2024年版国土交通白書において示された、地域の人口減少・高齢化に起因する地域活力の低下緩和に向けた4つの取り組みをまとめた表の中から、1つを選んで自らの主張に必要な部分を参考資料として適宜利用し、「地域の人口変化に起因する地域活力の低下を緩和するための具体的な事業や方策」について述べることを課しました。

解答は、①構成の適切性、②論旨の明瞭性と表題との整合性、③文章表現の適切性、④誤字脱字の有無、⑤図表の引用、⑥字数制限等を評価基準として採点しました。受験生は概ねこれらの基準を満たしていましたが、中には「である調」と「ですます調」が混在していたり、文章作成の基本ができていなかった解答が見られました。また、平易な言葉の漢字表記がなされていないものや誤字脱字がある解答も散見されました。内容以前の問題で評価を下げるのではないよう、文章作成の基本はしっかりと身に付けてください。

解答内容については、問いに対する自らの意見を主張することは概ねできていました。しかし、解答の中には資料から読み取ったことの説明と主張が十分に結びついていないものもありました。普段の学習の中で、データから客観的に思考する習慣を身につけることが重要です。客観的な事実認識のもとで、本問題で言えば、地域の人口減少・高齢化に起因する地域活力の低下緩和に向けた4つの取り組みがいかなることかを理解し、どの点に着目して具体的な事業や方策の提案をするべきか、論点を絞って記述してほしいと思います。

## 【総合型選抜〔Ⅱ期〕小論文】

### 【問題】

資料1～7を参考に、以下の2つの問いに合わせて800字以内で答えてください。

- ①日本が温室効果ガスの排出を全体としてゼロにするカーボンニュートラルを目指す理由は何ですか。
- ②日本が再生可能エネルギーの拡大を進める上での課題をまとめ、次にその解決方法を自由に述べてください。

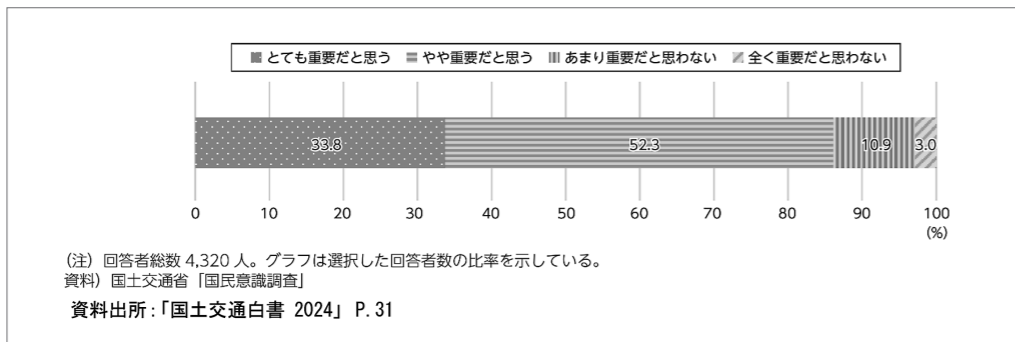
### 【資料1】注目が増す再生可能エネルギー

世界規模での人口増加がもたらす問題に、食糧問題とエネルギー消費問題があります。今世紀に入って以降、世界経済の中で中国とインドの経済発展には著しいものがあります。2010年に世界人口68.3億人の37%を占め、一次エネルギー消費量127.2億トン(石油換算)の24%を消費していた2か国は、2020年には世界人口77.5億人の36%、一次エネルギー供給量585エクサジュール(139.7億トン)の31%を占めるようになりました。世界全体では人口増加と経済発展により、エネルギー消費量がますます増加しています。エネルギー消費量が増える事で大量の化石燃料が消費され、地球温暖化の原因となる温室効果ガスの排出が増えていきます。

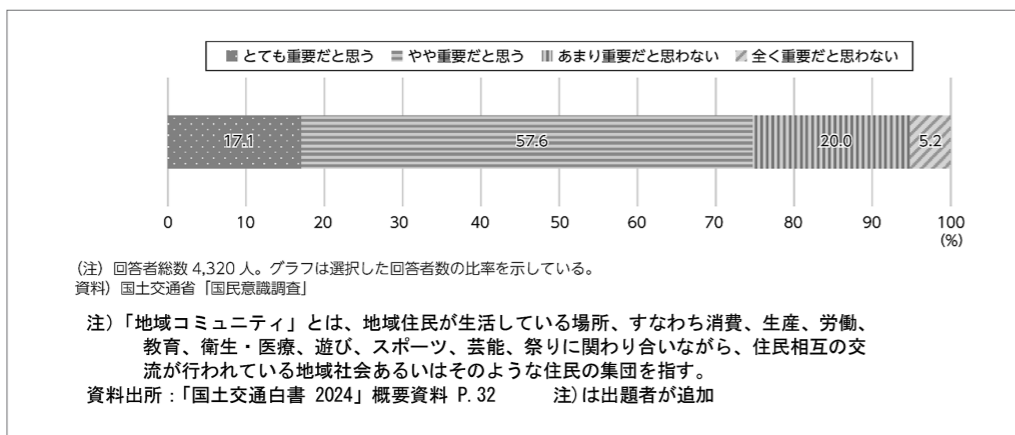
2015年にパリで開催された国連の気候変動問題に関する会議(COP21)では、世界共通の長期目標として、世界の平均気温上昇を産業革命前より1.5℃に抑えるには、大気中に排出される温室効果ガスを2050年に世界全体で実質ゼロにする必要があるとしました。日本も2050年までに温室効果ガスの排出を全体でゼロにするカーボンニュートラルの実現を表明しましたが、その実現には同時にエネルギーの安定供給・経済成長・脱炭素を実現することが必要です。特に温室効果ガスの多くは二酸化炭素(CO2)が占めているので、その削減が優先課題です。具体的には大量のCO2を排出する化石燃料の消費を抑え、社会全体の省エネルギー化を継続しつつ、CO2をほとんど出さない再生可能エネルギーの大胆な拡大を図ることが重要です。

エネルギー消費の中で、今後最も伸びると予想される電力需要には、途上国を中心とした世界的な生活水準の向上に伴う生活の電化や、情報通信技術による経済社会の変化が強く関連しています。最近の日米欧や中国では自動車の電動化、相次ぐデータセンター建設、生成AIの急速な普及などが電力需要増大の理由としてあげられています。ただし電気自動車の普及は同時に化石燃料の消費を減少する効果もあります。国際エネルギー機関(IEA)の「2023年版世界エネルギー見通し」では、主要化石燃料の需要が2030年までにピークに達し、その

### 【資料5】インフラの老朽化への対応の重要度



### 【資料6】地域コミュニティの維持の重要度



### 【資料7】

地域の人口減少・高齢化に起因する地域活力の低下緩和に向けた取り組み

#### (生活サービスを維持する地域づくり)

場所や時間の制約を解消するデジタル技術の活用により、近隣地域からの買い物や通院等の移動の負担の軽減を図る。その推進に当たっては、社会経済的な結びつきがある近隣地域同士が連携し、自治体、民間事業者、団体や住民等関係者が協働することで、地域全体で生活サービス提供機能を維持していくことが重要である。

#### (関係人口\*の創出・拡大)

地域外から地域の祭りやイベントに毎年参加し運営にも携わるなど、特定の地域に継続的に多様な形で関わる「関係人口」の創出・拡大が重要である。関係人口が地域住民の共助の取組みに参画していくことで、地域の社会課題解決や地域の活性化につながるほか、将来的な移住者の増加につながる事が期待される。

#### (インフラ維持管理の効率化)

新技術の活用や官民連携の促進のほか、地域のニーズに応じてインフラ\*\*の廃止や機能転換等を行う「集約・再編等」によるインフラストック\*\*\*適正化を進めるとともに、既存の行政区域にこだわらない広域的な視点で、複数・多分野のインフラを集合としてとらえ、効率的・効果的にマネジメントする取組み等が重要である。

#### (賑わいの創出による地域活性化)

中心市街地は、公共交通ネットワークや都市機能・インフラ等のストックが整備されていることから、空き家・空き地、既存施設を有効活用するとともに、公共施設や商業施設を備えた複合施設を再生拠点とすることで、賑わいの創出による地域活性化が期待される。

注) \*「関係人口」とは移住した「定住人口」でもなく、観光に来た「交流人口」でもない、特定の地域に継続的に多様な形でかかわる人のこと。観光以上移住未満と例えられ、地域と多様に関わる人々を指す。具体的には、兼業や副業などの仕事を絡めていたり、祭りやイベントの運営に参画して楽しむなどファンとして交流を重ねたりする人々。

\*\*「インフラ(infrastructure)」とは、社会や経済、国民の生活を支える基盤を指す。

\*\*\*「インフラストック」とは、整備蓄積されたインフラのこと。

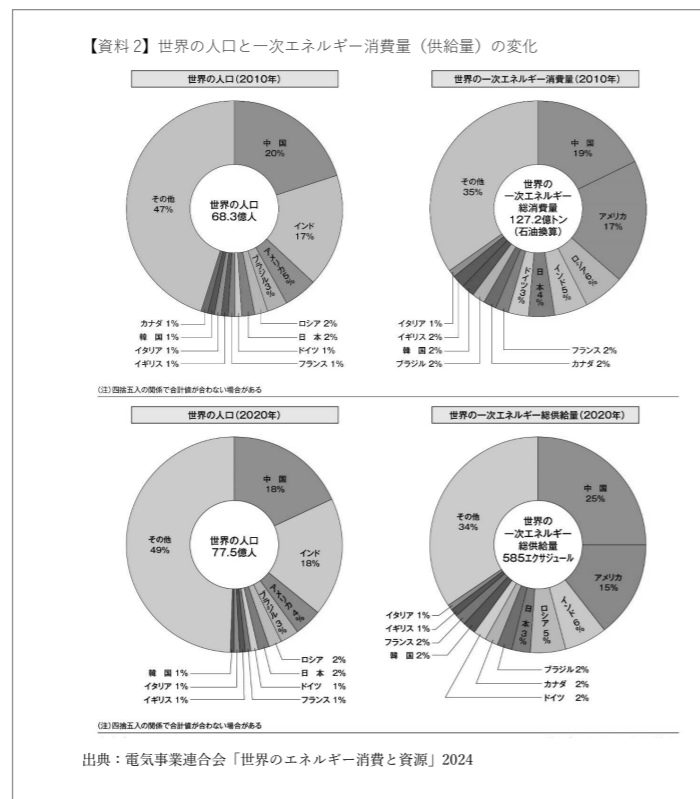
資料出所: 「国土交通白書 2024」 概要資料 P. 6 を一部改変 注) は出題者が追加

後減少するが、地球温暖化を1.5度以下に抑制するためにはさらなる対策が必要としています。

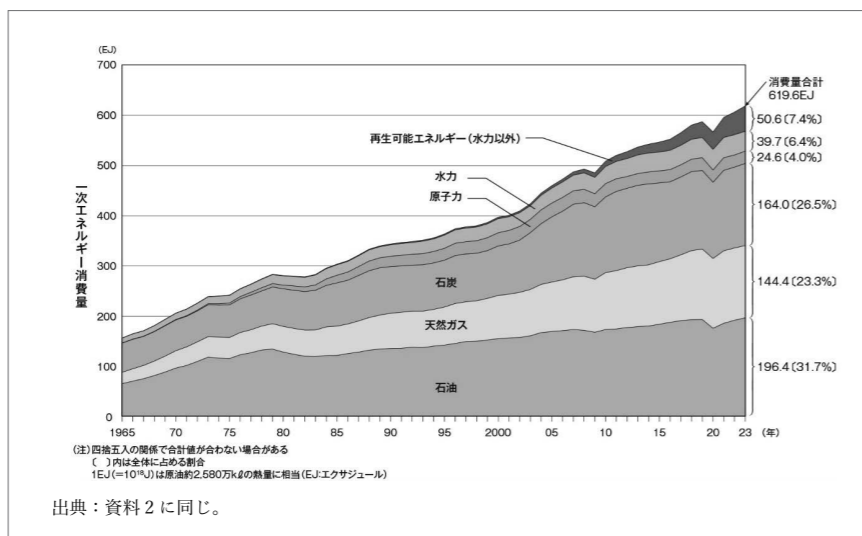
近年では①エネルギーの安定供給、②地球温暖化対策、③エネルギー自給率の向上の三つの観点から、化石燃料に代わるエネルギーとして、再生可能エネルギーの導入が拡大しています。再生可能エネルギーは、資源が有限な化石燃料と比べ長期の利用が可能で、供給面で安定しています。また燃焼するとCO2を排出する化石燃料と違い、再生可能エネルギーは温室効果ガスをほぼ排出しません。化石燃料は産油国・産出国から資源を輸入する必要がありますが、再生可能エネルギーはその必要もありません。しかしながら、こうしたメリットにも関わらず、2023年時点の一次エネルギー消費量に占める再生可能エネルギー(水力以外)の割合は7.4%にとどまります。逆に石油、石炭、天然ガスの化石燃料の消費量は、経済活動の拡大で増加しています。

日本国内で再生可能エネルギーの普及を妨げる要因には、④電力の安定供給上の課題、⑤限定される立地、⑥高い発電コストの三点が指摘されています。電力網は需給バランスが崩れると止まるのでバランス維持が重要です。再生可能エネルギーの多くは天候・日照時間・風力・風向きなどの自然現象の影響を受けるため電力需要との調整が必要で、発電した余剰分は蓄電池に蓄えるなどの対応が不可欠でコストがかかります。また発電効率を考えると施設や設備の大規模化によるスケールメリットが必要ですが、日本ではそうした適地が限られています。さらに設置や部品調達のコストも高く、事業可能期間は主力の火力より短く、年間日照時間も有利とはいえません。

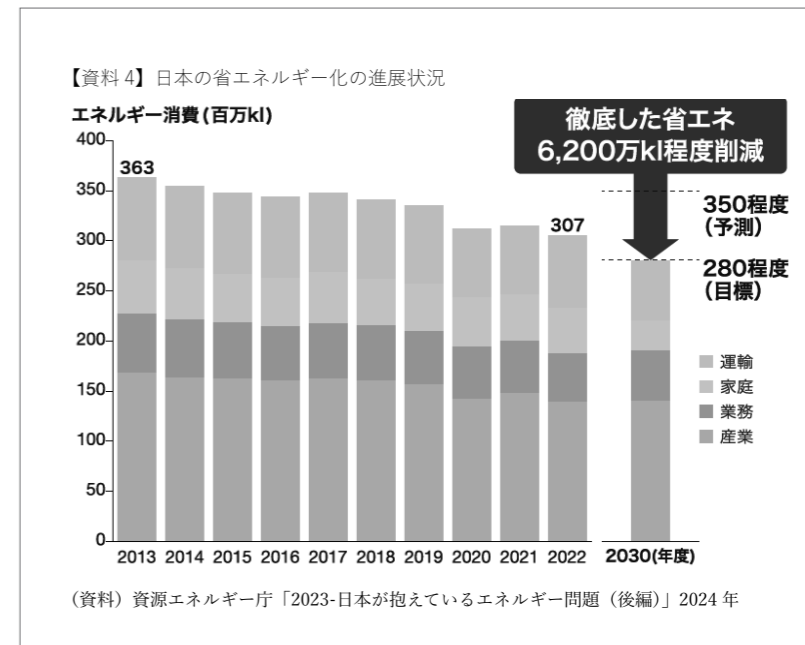
【資料2】世界の人口と一次エネルギー消費量(供給量)の変化



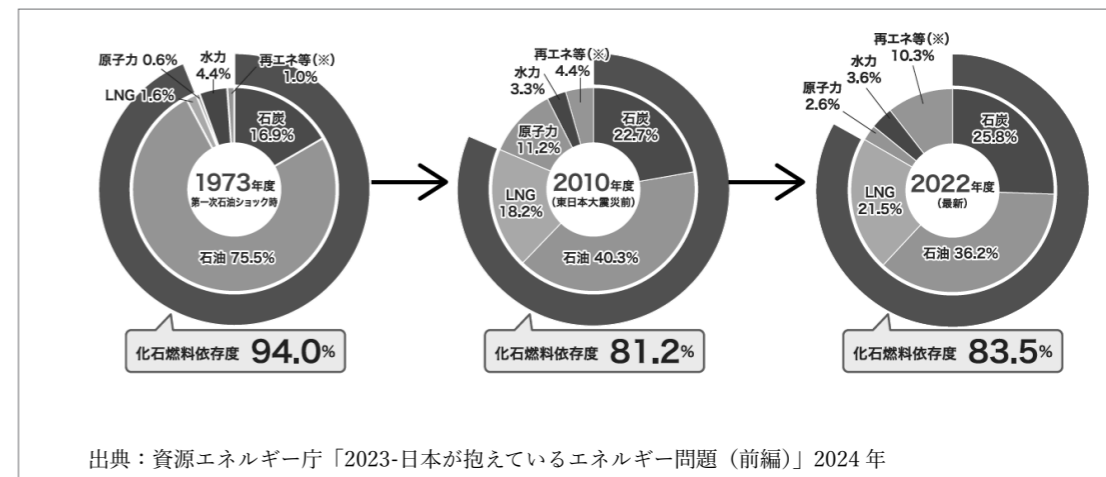
【資料3】世界の一次エネルギー消費量の推移



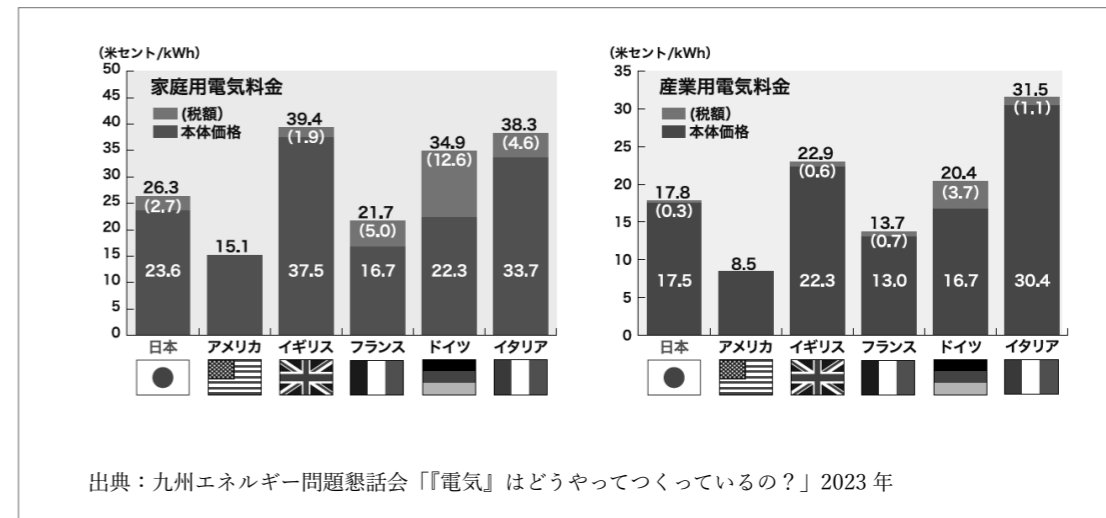
【資料4】日本の省エネルギー化の進展状況



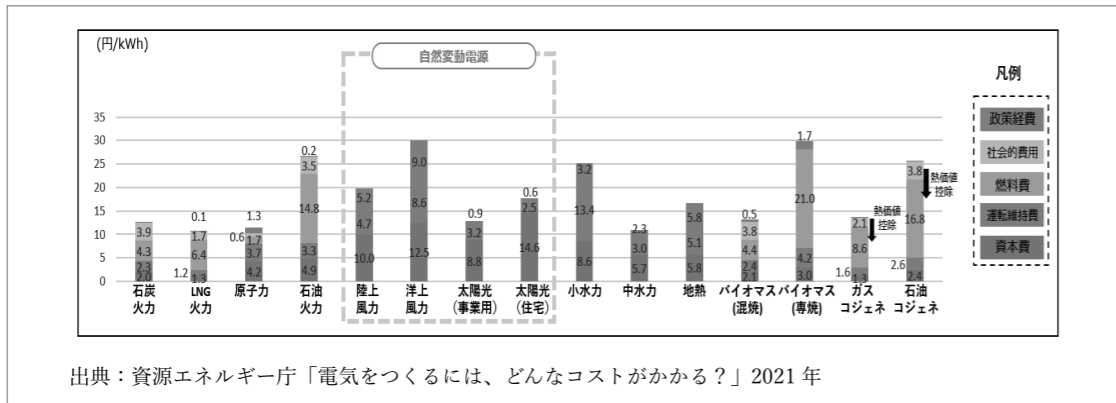
【資料5】日本の電源構成の推移



【資料6】電気料金の国際比較



【資料7】2020年の国内電源別発電コスト



### ■出題の基本方針

日本のエネルギー政策の基本的方向性を示すものとして「エネルギー基本計画」があります。2021年10月に閣議決定された現在の「第6次エネルギー基本計画」は、エネルギーの安定供給を進めつつ、エネルギーの経済効率性向上により低コストエネルギーの供給を実現しながら、地球環境への適合も同時に図ることを重視したものになっています。具体的には2030年度の温室効果ガスの排出削減目標や、2050年の温室効果ガスの排出量と吸収量を均衡させるカーボンニュートラル実現などが挙げられています。日本が抱え続ける構造的な課題のもとで、カーボンニュートラルと両立したエネルギーセキュリティの確保がますます重要になっていることを、私たちひとり一人が理解する必要があります。

### ■設問の意図と講評

設問はまず日本がカーボンニュートラルを目指すに至った状況を整理し、次に再生可能エネルギーの拡大を進める上での課題をまとめた上で、この課題解決の方法を自分なりに考えて記述するものです。答案の評価と採点にあたっては、①記述内容と表題の間に整合性があるか、②論旨が明確で論理的記述となっているか、③資料やデータを適切に活用し思考や判断が妥当なものか、④文章表現は適正か、⑤原稿用紙の使い方は適切かといった点が確認されます。

まず、設問の前半部分にあたる日本がカーボンニュートラルを目指す理由を述べるには、資料1の第1～3段落部分を要約しつつ、あわせて資料2・3から読み取れる具体的な数値などを付け加えると良いでしょう。同様に、設問の後半部分にあたる日本が再生可能エネルギーを拡大する上での課題をまとめるには、資料1の第4・5段落部分を要約しながら、あわせて資料4～7から読み取れる具体的な特徴や数値などを適宜付け加えるのが望まれます。これに続く再生可能エネルギーを拡大する上での課題の解決を考えるには、資料1に示されている再生可能エネルギーの普及を妨げる具体的な要因について、率直に個人的見解を要約することがより良い評価につながると考えられます。

答案の多くは求められた問をおおむね満たす内容でした。しかし、一部の答案には背景の要約にバランスや統一性をやや欠くものや、各資料から読み取った内容と答案の要旨との関連性が弱いといったもの、自分の考えを記述するにあたり根拠が不明瞭でやや唐突に思えるような例もみられました。複数の資料から必要な情報を取り出して伝えたいことを明確に書くにあたっては、前後の文脈に注意を払う習慣を日頃から身に付けるよう心掛けてください。

## 【学校推薦型選抜〔公募制〕小論文】


【解説】 および〈図〉を参照して【問題】に回答してください。

【解説】 以下の文章は、国際化が進む日本および北海道におけるインバウンド(注)に関する記述です。

日本政府観光局(JNTO)が発表した2024年4月の訪日外客数は、3,042,900人(推計)となり、(3月および4月)2か月連続で300万人を突破した。なお、2024年1月から4月までの累計も1,000万人を超え、訪日外国人がコロナ禍前の水準に回復していることがうかがえる。インバウンド需要が回復基調・拡大基調で推移していくなか、最近年の圏域別にみた北海道観光を概観すると以下である。

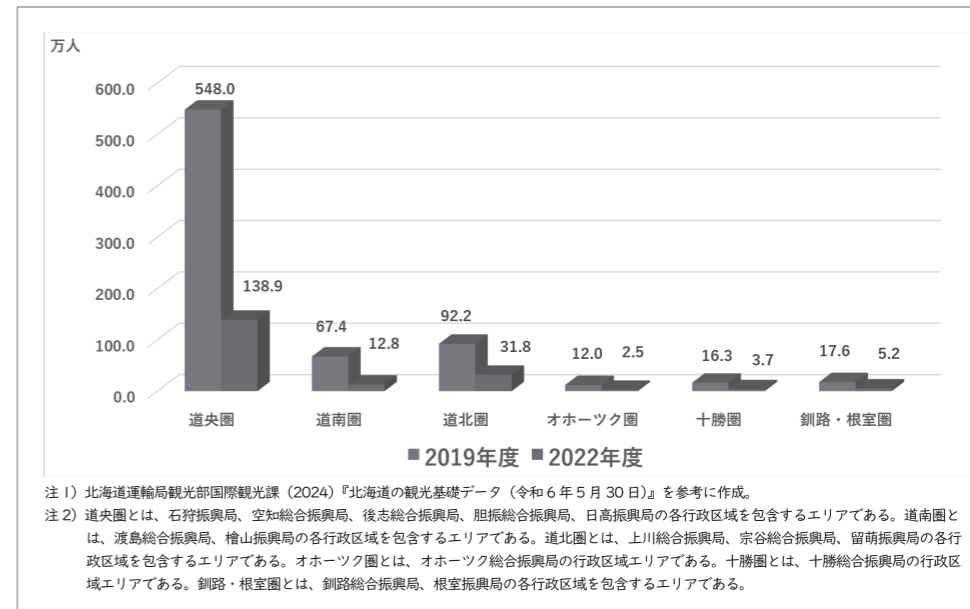
○圏域別訪日外国人来道者の国・地域別の割合(図1)

アジア圏からの来道者が最も多く7割以上を占める。全道全体でみた場合、国・地域別では、韓国が最も多く、次いで台湾、香港の順である。各圏域ともに、アジアの国々・地域の来道者が過半以上を占める点では同じ傾向にあるが、圏域別でみた場合、その国・地域の内訳はかなり異なる。



○圏域別の訪日外国人宿泊延べ数(図2)

全道の約7割が「道央圏域」に集中しており地域間で大きな偏在が見られる。その背景には、出入国者数の9割以上が新千歳空港を利用していること、道内の宿泊施設数の約4割が道央圏域に集中していることがあげられる(引用:観光ビジョン推進北海道ブロック戦略会議(2024)『観光ビジョン推進北海道ブロック戦略会議で掲げた課題に係る数値目標の進捗状況について(令和6年3月14日)』)。



なお、北海道のみならず日本国内では、2024年に入り記録的な円安を背景に、訪日外国人の増加を起因としたオーバーツーリズムや宿泊業界における人手不足などの課題もより顕著となっている。新型コロナウイルス感染症の位置づけが「5類感染症」へと移行するなどあらたな局面のなか、地域活性化対策のひとつとして注目が高まる観光振興策の強化は、観光立県の北海道にとって喫緊の課題である。

注) 「インバウンド」とは〈解説〉および〈図〉の訪日外客、訪日外国人をさす。

## 令和6年度 入学者選抜問題講評

### 一般選抜〔3教科型〕

## 【国語】

### ■出題の基本方針

国語の出題範囲は「国語総合」と「現代文」です。ただし、「国語総合」については近代以降の文章に限定しており、古文と漢文の出題はありません。

今年度は論説文・評論文2題でした。設問数は㊦が10問、㊧が9問の計19問と昨年度より1問減りました。全体として若干易しくなり平均点も上昇しました。商業に絡むユダヤ人に関する論とアイデンティティーに関する論はこれまでの本学の出題傾向通りであり、大学で商学を学ぼうとする人には、なじみあるテーマだったと思います。また、イスラエルによるパレスチナ侵攻に伴う時事的テーマでもありました。設問としては、どちらの大問も例年同様に、漢字や慣用句、指示語、文脈把握などの基礎的問題と内容読解の問題からなり、論述も含まれます。

### ■設問の意図と講評

㊦東京大学でロシア史・ユダヤ史の研究をされている鶴見氏の文章からの出題でした。ハマスの奇襲とそれに対抗するイスラエルの侵攻が続くなか、中東についてのニュースや書籍を目にする機会も多くあり、興味関心を持ってもらえると考えました。国際関係、ユダヤ民族、商業に関する文章で一見難しそうではありますが、肝となるのはステレオタイプをいかに脱するかということであり、わかりやすく書かれています。

問1・2は漢字の読み書きでしたが、ここ数年正答率が下がっています。①「含意」は以前にも出題したことがあるのですが、今回は目に見えて正答率が下がりました。④⑥の読みに関してはよくできていました。書きの②「暗躍」はどちらの字も難しくはないにもかかわらず、正答率はかなり低く、③「占」も「締」と間違える答案もあるなど、全体としては6割程度の正答率でした。ここ数年繰り返していますが、やはり漢字を実際に書くということが減っているとしか思えません。意識して書く練習をしてください。問3は文脈読解の問題です。筆者の考えを説明した文を選ぶ問題となっており、答えになる箇所は次の段落の最終部において明確にされているので、慌てず読み進めれば見つけられたと思います。問4は接続詞の穴埋め問題でした。続き方がスムーズではなく話題の転換がなされていることが前後の文脈から判断できたようです。問3、4はともに9割近い正答率で非常によくできていました。問5は指示語の問題です。指示語の指し示す内容は直前にあることが多いのですが、今回は直前を抜き出したのでは制限字数以内にはおさまりません。また、設問が「抜き出しなさい」となっていないことにも注意が必要です。「『ユダヤ人は金持ちだ』」「言説」という言葉を組み合わせて答えてほしいところです。「含意」を入れようとして文意がおかしくなっている答案が多く見られました。問6は空欄補充問題です。四字で抜き出す指示があったせいも、漢字四字の「隙間産業」「共産主義」「金融分野」などを答えたものがかなりありました。直前の「『農民の搾取者』という」語句と直後の「が染みついて」という言葉のつながり、そしてユダヤ人が本来はそうでなかったことを説明している前段落からの文脈を踏まえれば、事実ではなく単なる「イメージ」だったことがわかるはずですが、問7は内容説明であり、文字数が二十五字以内であったせいか、正答率もかなり低くなりました。「火」という例がユダヤ人の場合は具体的に何を指すのかを理解していなくてはならないにもかかわらず、とにかく直前から二十五字以内で文章を抜き出してきた答案が多くありました。また、「ユダヤ人」という主語を入れ忘れているものも多くありました。まずは、字数内に主語述語がきちんと入っており、一文として成立しているかを確認するようにしましょう。抜き出し問題ではないことに注意して、自分で主語述語文末はそろえる意識を持たなくてはなりません。問8は内容把握問題です。注意しなければならないのは「適切でないもの」を選ぶ点です。正答率は5割でした。「工」以外は文章中にすべて書いてあります。よく探せばすべてチェックできたはずですが、問9は慣用句の問題で例年出題しています。辞書的意味をしっかりと押さえていればできる問題です。「半面」でなく「反面」であることさえ認識できていれば、選択肢も半分は消せるはずで、たとえ忘れていたとしても文脈からたどりつくことも可能ではあったと思われる。問10は全体の内容把握問題です。文章全体を理解できているかが問われており、また「合致するものを」「すべて」答えるという設問になっているため、難易度も高かったようです。これも時間さえかけ文章中のどこに書かれているかを確認していけば解ける問題です。選択肢だけをみていると、間違えてしまいます。たとえば、誤答として多いのは「ア」でしたが、「ユダヤ教が(略)キリスト教に敵視される」というのは正しいのですが、略された部分にある「教えの基本にはお金に対する信仰がある」とはどこにも書かれていませんし、むしろ歴史的経緯によりお金と結びつくようになったことを述べたのが本文でした。そのように、丁寧に読むことが大切です。

㊧今年も評論文を出題してみました。「アイデンティティ」とは唯一のものではなく、他人との関係のなかで変化していくものだという主旨の文章です。全体的には文章をよく消化して解いていたと思います。

問1・問2の漢字の読み書きの問題は、よく解答しておりましたが、問1の④「業績」の「績」を「積」で書いている受験

【問題】 【解説】をふまえ以下の問いに回答してください。

北海道が地域をあげて持続的に取り組むべき分野の一つに観光があります。国際化が急速に進展するなか、幅広い領域での方策が求められています。そこで、北海道における「地域経済」に与える影響を考慮し、インバウンド需要の安定的確保およびインバウンドの分散への取り組みについて、具体的なアイデアを800字以内で提案してください。なお、記述にあたり、〈図〉に記載してある具体的な圏域名や数値などを必ず引用してください。また、提案に際し、小論文の内容を的確に示す「表題」を解答用紙の所定の欄に記述してください。

### ■出題の基本方針

令和7年度入学者選抜要項にしたがい「現代の北海道経済の国際化に関する時事的なテーマ」を出題しました。新型コロナウイルス感染症の位置づけが「5類感染症」へと移行するなどあらたな局面のなか、訪日外国人の数がコロナ禍前の水準に回復する傾向にあります。こうした背景をうけて、地域活性化対策のひとつとして注目が高まる観光振興策の強化は、観光立県の北海道にとって喫緊の課題です。特に、北海道における地域経済へ与える影響を考慮し、インバウンド需要の安定的確保およびインバウンドのさらなる他地域への分散への取り組みについて、具体的なアイデアを求めた設問でした。

### ■設問の意図と講評

【解説】によって、観光需要の偏在を把握し、さらにその背景を推し測ったうえで、めざすべき展開方向を示しつつ、観光振興のみならず北海道経済への良い影響をもたらす具体的な発案を求めることが設問の意図です。

解答にあたっては、記述内容と表題との整合性、論旨の明確性、資料やデータの活用の技能を中心に採点しました。

これらの評価基準はおおむね満たされているものの以下の点で課題が残ります。ひとつは、訪日外国人来道者の「国・地域別の割合」および「宿泊延べ数」が提示されているにもかかわらず、論述の際に引用および参照が不十分である点です。さらに、「国・地域別の割合」および「宿泊延べ数」との関連性を圏域別に捉えるなどの踏み込んだ理解や考察に至っていない点についても課題です。解答にあたっては、【解説】の読み込みに加え、資料を適切に引用し説得力のある文章を書く力を求めます。ふたつめは、「インバウンド需要の安定的確保およびインバウンドの分散への取り組みについて具体的なアイデア」を求めているにもかかわらず、解答の多くは具体性に欠け、インバウンド需要およびインバウンドの分散のふたつの軸を十分に解答に取り入れていない点です。解答にあたっては、出題の意図を汲み、幅広い視点に基づいた提案力の涵養が求められます。なお、原稿用紙の使い方など、小論文の記述にあたっての初歩的な技能については、基礎ができているものと評価しました。小論文の記述力向上のためにも、従来より指摘されている、知識・スキルに加え、論述の構成力、俯瞰的思考力・創造力、問題解決能力などの多様な資質を日ごろの学習のなかで育んでください。

除外し、各英文から鍵になる語句を見つけ出して、文の内容に適合する答えを選ぶことができる基礎力を培ってください。7割程の出来でした。(C)は英文のなかから主節のS(主語)に対応する適切なV(動詞)を選んでもらいました。従属節の動詞は解答からはずしてください。7割程の出来でした。

⑤(A)は選択肢として提示された複数個の英語語句を整列させ、英文全体として日本文の意味に最も近い表現を完成させる、並べ替え英作文の設問です。出来具合は6割程でした。(B)はいくつかの短文が続く英語表現に対して内容一致を問う三択問題です。出来具合は7～8割程でした。(C)はほぼ同じ内容の英文のペアを完成させる四択問題です。出来具合は4～5割程でした。

以上で概要の説明はおわりますが、英語のS(主語)・V(動詞)を判別する基礎的知識を骨組みとして、そこに慣用的・例外的な文法・語法や連語関係、会話などで頻用される表現を肉付けしていき、様々な設問に対応できる英語力を養うようにがんばってください。

## 【世界史B】

### ■出題の基本方針

今日の世界で生じる様々な問題・課題は、その多くが歴史的背景を持ち、いくつかの要因が複合して生まれていきます。グローバルな視点に立った現代社会の理解のためには、様々な国や地域にまたがる横軸と、それぞれの国や地域を成り立たせてきた歴史的連なりの縦軸に関する知識がともに必要とされます。また、多様な国々との相互交流は、両者を踏まえた国際的教養の上に育まれるといえるでしょう。そのような教養を形作る基礎的知識の確認のため、縦軸は古代から近現代に至る時代、横軸はヨーロッパ、中東・アフリカ、そしてアジアに渡る範囲の設問を用意しました。いずれにおいても各地域を成り立たせた歴史的経緯の確認を主眼とする設問とし、歴史的事象に深く関わる政治的・文化的側面を問う問題を出題しています。

### ■設問の意図と講評

①は、ティグリス川、ユーフラテス川、ナイル川流域に生まれたオリエントおよび地中海周辺地域の古代から中世までの都市文明とその発展を問う出題でした。

古代オリエントの文明に関する理解を問いたAは、基本的事項について出題しました。Bは、地中海の交通路発展後のギリシャ世界におけるポリスが社会に及ぼした影響について出題しました。Cは、技術革新によって変容する都市の発展内容について出題しました。

各問の中では、問20の正答率が低い傾向にありました。語句の意味を踏まえ、正確でより具体的理解の定着に繋がるよう学習を進めてください。

②は、「世界一体化」の進展に向けたヨーロッパ優位の世界構造がアジアやアフリカとの間でどのように成立したか、またそれを推し進める中で異なる社会や文化に対する理解の変化について、より具体的な理解を問う出題でした。

Aは、近世におけるヨーロッパ諸国が遠くアジア(特にインド)に拠点を置き、世界一体化を進行するにあたり画期となる出来事について出題しました。Bは、ヨーロッパ列強が前述アジアだけでなくアフリカにも及んだ出来事について出題しました。Cは、世界一体化進行の中で見られた非ヨーロッパ諸地域の自立化への歩みについて、先んじていたインドを取り上げ出題しました。

各問の中では、問16の正答率が低い傾向にありました。風刺画に込められた想いと時代背景を結びつけたより具体的理解に繋がるよう学習を進めてください。

③は、市民革命の変遷と産業革命の進行が、人間は自由であり平等であるという啓蒙主義の理念を揺るがし、現代社会に大きな影響を与えた19世紀の西ヨーロッパ史についての理解を問う出題でした。

Aは、多様な社会層の複雑な絡み合いの中で有産市民層に政治発言力をもたらせたフランス革命とナポレオン帝政に関する具体的知識を問う出題でした。Bは、社会を大きく変えることとなった啓蒙思想とイギリスの産業革命に関する基本事項の理解を中心とした出題でした。Cは、市民革命と産業革命の二重革命が進行する中で発展した19世紀の近代市民社会形成に関わる重要な歴史的事象、特に1848年革命を中心とした基本事項の理解を中心とした出題でした。

各問の中では、問1の正答率が低い傾向にありました。こちらは②の問16と同様に絵画から歴史を解く問題で、様々な視点からの理解定着を確認するものでした。基礎的な理解だけでなく派生的な学修を取り入れ真の理解に繋がるよう学習を進めてください。

④は、17世紀以降の中国を中心とする東アジアの歴史と欧米との関係によって生じた出来事についての理解を問う出題でした。

Aは、清朝の中国統治とそれに深く関係する対外貿易に関する基礎的知識を問う出題でした。Bは、清朝のヨーロッパ進出とそれに伴う国内の動乱、そして東アジアの開国など近代化の始まりに関する基礎的知識を問う出題でした。Cは、日清戦争での敗北をきっかけに進んだ列強による中国進出と中国内で生じた民族運動に関する基

生が目につきました。漢字の読み・書きは教科書・新聞等によく出てくるものを中心に出题されることが多いので、これからもテキスト等に出てくる漢字等(同音異義)には十分注意して正確に覚えることが大事かと思われます。問3は空欄補充の問題です。よくできていました。選択肢の各語の働きを理解しておくことと、空欄前後の文章の末尾の言い回しなどを押さえることが大事なるかと思われます。問4は意味を問う問題。今回は受験生があまり目にしない言葉の意味を出題してみました。「強迫」と「観念」をそれぞれ別にとらえながら考えること、さらに、この語の文章の前後の意味を読み取りながら解答することが大事かと思われますが、よく理解して解いている受験生が多く見受けられました。日常生活の中においても四字熟語や気になる言葉などをすぐに調べる癖を身につけたら語彙力は増えると思います。問5は問7とは問い方が違う指示語の問題。抜けている一文の「これ」が何を指しているのかを「これ」以降の文と関連付けながら解いていくことです。問6は理由を説明する問題です。まずは字数以内で解答すること。次に理由について問われているのですから、理由の文の対応に気を付けて文末を結ぶことです。解答の方法として、「満ちたりた老いらく」を言い換えた箇所はないかに注目し、それらを否定するような内容になっていると解答になります。解答の仕方はいろいろありましたが、対立概念をうまくとらえて解答している受験生が見受けられた半面、字数不足や対応関係をうまくとらえていない受験生も多く見受けられました。問7は指示語の問題です。よくできていました。問8は内容を理解する問題です。傍線④の直前にある「じぶんのなかで」とあることに注目。じぶんのなかで持続するのは、じぶんのなかでそのまま続くアイデンティティのことであり、これと同じ内容に相当する個所を字数以内で抜き出すだけです。よく解答しておりました。問9は筆者の主張に当たる部分を抜き出す問題で、アイデンティティとは何かに対する結論です。字数制限、さらに最終段落というところから多くの受験生が正答を出しておりました。全体的に平易な文章だと思いますが、どのような内容であれ、常に身近な問題(事柄)として読解して行くことが大事かと思われます。

## 【英語】

### ■出題の基本方針

一般選抜(3教科型)問題の構成は昨年とほぼ同様です。英文日本語訳は2問設定し、また英文の解釈問題も複数の選択肢の中から一致するものを選んでもらいました。語形変化した派生語の正確な綴りを記述する設問も設定しました。英対話文について英語の文で解答する③は、本試験問題全体で点数配分が高めです。以上のことを踏まえた上で、英語の基礎的事項をしっかり積み上げ、直面する新しい設問に応用できるように、英語力に磨きをかけてください。

①の(A)の英文は、SNS(ソーシャル・ネットワーク・サービス)がインターネットを通じて使える便利さとともに、注意点もあることを示唆しています。また日米間のユーザーにはSNSの使い方にある種の違いがあることを指摘しています。(B)はある美術館の入館案内です。新たに開催される展覧会や売店、そして入館料について述べています。

②の英文はある架空のレストランのウェブ・サイトを想定しています。ページ上部の方からみて、サイト・メニューの下に経営者による紹介文が、またその下にはおすすめメニューと営業時間が、次ページには料理人の紹介と企業情報があり、一般的な海外向け企業サイトを模しています。

③の本文は男子学生と女子学生との英対話文であり、週末の予定にからめてお互いの意見交換に話が弾みます。

④・⑤の各設問は文脈に依存しませんので、それぞれに対応してください。

以下では①から⑤までの各問を順番にみていきましょう。

### ■設問の意図と講評

①(A)内容一致を問う合計5問の四択問題です。英文の流れに沿った形で、問1からほぼ順番どおりに答えられるようになっていきます。正答の割合は7割程でした。(B)問1は本文の脈絡から意味が合う語を選択します。問2は内容一致を問う問題で正答が2つです。あわせて6割強程の出来でした。

②問1は文中で各単語がどの品詞として働いているかを答えてもらいました。英語は品詞が複数ある単語も多いので、本文中の文脈、前後の語彙など連語関係から判断してください。問2は内容一致を問う四択問題が4問です。問3の英文日本語訳は、V(動詞)を把握しS(主語)を確認して、単語・熟語の意味、連語関係(コロケーション)などに気をつけ、本文の脈絡にあった解答をしましょう。あわせて6割程の出来でした。

③問題形式としては対話文の内容について、英文の問いに対し英文で解答を記述する設問です。5問ありますが、まずなによりも質問文の内容を的確に理解し、文のかたちで解答を作成するよう指示されていることにも注意を払いながら、解答文の主語・述語や各語(句)の綴りの正確さ、そして質問文に対して適切で必要かつ過不足のない英文での解答が求められます。正確な解答をするためには、本文が伝えている内容をイメージしながら、英文を理解し解答することが重要です。正答の割合は7割強程でした。

④(A)は語形変化をとめない、かつ現在よく使用されている派生語の綴りを記述する設問です。英単語の派生形は、単語ごとに決まっていて、普通はよく使われる一つの英単語が該当します。それに従い、単語の綴りは正確に覚え記述するようにしましょう。ここは5割程の出来でした。(B)は文法・語法の問題です。四択の中から不可能な選択肢を

## 【地理B】

### ■出題の基本方針

①は地形問題、②は東南アジアの地誌、③はヨーロッパの地誌、④は世界の食料問題に関する出題でした。

### ■設問の意図と講評

①地形図の読図に関しての出題です。地形図の読図は、学校周辺など生徒の生活圏の地域調査の学習において、図書館やインターネットなどを通して情報収集を行う文献調査や、現地での観察や野外調査を行う上で必要な技能です。生活圏の地理的な課題の現状を、個々の事象の地域的な結び付きや広がりから捉えることなどにより、地理的な課題を多面的・多角的に考察し、表現する力を育成するとともに、課題の解決に向けた取組や探究する手法などを理解できるようにしていくことが大切です。

問1は、語群をつけた適語補充問題です。主な地図記号は概ね理解しているものの、(力)の盛土部や(キ)の樹林については正答率がやや低い状況でした。問2は、等高線から標高を読み取る出題でしたが、ほとんどの者が正答でした。問3は、地形図上の2点間の実際の距離を求める出題でしたが、正答率が高く、縮尺と距離の関係を良く理解しているようでした。問4は、地形図上の2点間の断面図を選択肢から選ぶ出題でしたが、正答率がやや低い状況でした。等高線から標高を読み取り、断面図をイメージする能力を身に付けておく必要があります。問5は、地形図中の地形の名称を答える出題です。(1)の扇状地は概ね正答でしたが、(2)の天井川は正答率が低い状況でした。百瀬川流域の地形図は、扇状地や天井川のある典型的な地形図で、中学校の社会科の学習でも良く扱われますので、しっかり読み取ることが必要です。問6は、良く使われる地図記号に関する出題ですが、2の記念碑の正答率がやや低い状況でした。自然災害伝承碑の記号にも似ているので注意する必要があります。

②東南アジアの地誌に関する問題です。東南アジアの自然から大河川の下流で稲作農業が盛んであることや食文化が旧宗主国の影響を強く受けている特色があります。また、東南アジアはASEANを核として加盟国が活発な貿易を行っていることも特徴の一つです。東南アジアと一口に言っても国や地域により大きな特色を持っています。問4は東南アジアの特色ある国や地域に関する問題で、地図中の場所を問う問題でした。問5は東南アジアにおけるバナナ・パイナップル・キャッサバおよびコーヒー豆の生産量のグラフから農作物名を問う問題でしたがよくできていました。図中の分布と同時に、世界総生産量も合わせてみることで考えやすくなります。普段から統計や地図を見る習慣をつけておく必要があります。

③ヨーロッパの地誌に関しての出題です。第二次世界大戦後、6か国から出発したヨーロッパの国々の統合は、加盟国数としては拡大の一途をたどってきましたが、現在でも各国の政治・経済面の違いを要因とする様々な課題を内包していることを理解することは、今後のヨーロッパを含めた世界情勢を見ていく上で重要です。

問1は、共通通貨である「ユーロ」を答えさせる問題ですが、正答率が高く、良く理解しているようでした。問2は、語群をつけた適語補充問題ですが、(イ)のデンマークの正答率がやや低かった以外は、概ね理解していました。問3は、人口・GDP・輸出額を示すグラフからそれぞれに当てはまる国を選ぶ出題でしたが、正答率が高く、各国や地域の特色を良く理解しているようでした。問4は、国際通貨基金の略称を答えさせる問題でしたが、正答率は低い状況でした。世界経済を支える上でも重要な国際機関ですので、しっかり覚えておいてほしいと思います。問5は、異なる民族や異質な文化が混在しているヨーロッパの状況に関する語群をつけた適語補充問題です。(イ)のロマと(ウ)のブルカの正答率が低い状況でした。現在でも、ヨーロッパ各地で起こっている対立の要因とされている問題ですので、しっかり理解しておく必要があります。

④世界の食料問題に関する出題です。世界全体では緑の革命などで食料生産が増大しているのに対し、飢餓に直面している国々があります。特にアフリカの食料生産が追いついていない要因について、自国用の穀物生産に力を入れられなかったことや異常気象や紛争がその要因になっていることについて考察しました。問3のプランテーションはよくできていました。また、我が国は海外から多くの農畜産物を輸入しており、問5は輸出総額と輸出品の内訳から相手国名を考える問題でしたが、正解率は高かったです。教科書の本文以外のグラフや表、図などについてもよく見ておくことが大切です。

## 【政治・経済】

### ■出題の基本方針

「経済」分野の大問は①と②の2題です①は金融・財政の仕組みと機能に関する基礎的な知識を問う設問であり②は労働問題と社会保障に関する基礎的な知識を問う設問です。「政治」分野の大問は③④の2題です。③は日本の安全保障に関する基礎的な知識を問う設問であり、④は日本を含んだ国際対立と紛争について問う設問です。①および②ともに、「経済」分野における重要かつ主要なテーマであり、経済の基礎的な知識を持っているかを問うものになっています。「政治」分野についても同様であり、また、日々の報道などに注目していれば正答可能な内容です。経済の仕組みや社会問題に対する理解力が大学入学後では特に求められるため、用語の単純な暗記だけで終わらず、現実

礎的知識を問う出題でした。Dは、近代国家の建設に向けたの清朝の改革とその様子に関する基本事項の理解を中心とした出題でした。

各問の中では、問1の正答率が低い傾向にありました。こちらは設問時の中国と周辺国の社会情勢を関係づけて理解できているかを問う応用的意味を含む出題でした。縦軸の歴史だけでなく、横軸との歴史にも関連づけた学習を進めてください。

世界史の学習においては、重要なトピックを中心に学習を進めるとともに、近年の世界における諸問題との関わりの観点から、関連する歴史上の知識の習得を目指すことが重要です。単なる暗記科目ではなく、社会情勢に対する自身の理解力を高める教科として、想像力を用いて生きた人間の営みを学ぶことが、結果として試験における高い得点に結びつくこととなります。それはおのずとグローバルに広がる世界の横軸と古代より現代に至る歴史の縦軸が織りなす、意義深い歴史的教養の獲得につながることもなるでしょう。

## 【日本史B】

### ■出題の基本方針

日本史では、中世、近世、および古代から近代にわたる時期についての計4つの大問を出題しました。いずれの問題も、教科書での頻出事項ですので、教科書レベルの学習を着実に行うことで解答が可能な問題です。全体的に、日本史全般についてバランスよく勉強したかが問われる内容となっています。

### ■設問の意図と講評

①は、奈良時代から平安時代にかけての政治・経済・社会を扱った内容です。主に教科書などに掲載されている史料に基づきながら、教科書や史料集に掲載されている基本的な事項を問う内容となっています。このうち正答率の高かった設問は、問1、問4、問10、問11でした。古代史で重要事項として教えられる土地制度や税制についての設問が概ね正答だったことは、受験生の古代史に対する理解が一定程度に達していることがうかがえました。

しかし問8や問9は正答率が大変低い結果に終わりました。これらは当時の律令社会と貴族の実態の理解には欠かせない基本的事項です。まずは古代史の基本的な流れを押さえ、そこに出てくる事項や事件の意味をきちんと把握していく学習が必要になると思われます。また、この時期に関連する基本的史料とセットにした学習も必要となるでしょう。

②は、室町時代から戦国時代を中心に、中世の政治について問う内容でした。ここで問われている内容は、いずれも中世史についての基本的な事項ばかりです。この大問は全体的に正答率が高かったです。中でも問2、問5、問8、問9は出来がよかった設問でした。室町幕府の統治制度や戦国大名の配置や領国統治についての理解も概ね一定程度に達していることがうかがえました。

しかし、後醍醐天皇の政治に関して答える問1や問3、および1428年の一揆についての名称を答える問6は、記述式の解答であったことも影響してか正答率が芳しくなかったのは残念でした。これらは中世史では頻出の基本的事項です。ここでも、やはり中世史の基本的な流れを押さえ、そこに出てくる事項や事件の意味をきちんと把握していく学習が必要になると思われます。

③は、江戸時代の政治・経済・文化について広く問う内容となっています。このうち正答率が高かったのは、江戸幕府の確立期について答える問1や問2、蝦夷地でのアイヌとの関係について記述式で答える問11、および江戸期の代表的な文化人をたずねた問14でした。これらは受験生の江戸時代に対する理解度を反映していたと思われます。

ただ、問5、問8、および問10という江戸時代の経済に関わる設問は、記述式での解答ということも影響してか、正答率が極めて低い結果となりました。これらはいずれも江戸時代の経済についての基本的事項です。より高得点を目指すためには、江戸時代の基本的な流れを押さえただけで満足せず、頻出度の高い用語などはきちんと記述できるようにする学習が必要であると思われます。

④は、日本の世界遺産・「世界の記憶」を切り口として、それらに関連する古代から近現代にかけての政治・経済・外交・文化の諸事項を問う内容になっています。広範な内容のテーマ史ですが、問われていることは、他の大問同様に各時代における基礎的事項であることに変わりはありません。この大問も全体的に正答率が高かったです。

なかでも、古代の遺跡についての設問である問1と問2、京都について答える問5、日本の鉱山に関する問8、戦国時代から江戸初期のキリスト教に関する問11と問12、および近現代の経済についての設問である問13と問14は、記述式での解答を含む設問もあるものの、いずれも正答率が高い結果となりました。

一方で戦後史の首相についての設問である問17は、ほとんど正答者がいなかったのは残念でした。戦後史は近年の入試では頻出の事項となっています。戦後政治史については、主な首相の在任期間とその業績とを結びつけて学習していくことが必要となるでしょう。

以上が本年度の入学試験問題についての講評です。今後の弊学の入学試験でも、まずは教科書の基本事項を理解しているかを問う問題が出るものと思われます。また基本的な事項同士の関連や角度を変えて出されても対応可能ように、受験生の皆さんはバランスのよい学習を行って、今後の入学試験に向けて準備してください。

社会で起こっている事柄と結びつけられているかを問う設問となっています。

## ■設問の意図と講評

㊦問1は、マクロ経済における経済主体について記述式で回答してもらう問題でしたが、比較的高い正解率でした。問2は、文中の空欄に当てはまる語句を記号で回答してもらう問題でした。比較的高い正答率でした。問3は、株主の責任範囲を表す用語を回答してもらう記述問題でしたが、比較的低い正答率でした。問4は、企業の吸収・合併を表す用語をアルファベットで回答してもらう問題でした。新聞、テレビ、インターネット上のニュースでも比較的に見ることが多い用語であったためか、高い正答率でした。問5は、実質経済成長率を求める計算問題でした。教科書ではコラムなどで数値例を用いて説明されることが多い内容でしたが、低い正答率でした。問6は、景気循環の局面に関する問題でしたが、低い正答率でした。経済を大局的にとらえるうえで重要な概念となるので、いま一度定義を確認しておく必要があるでしょう。問7は、インフレーションに関する説明を選択する問題でしたが、比較的高い正答率でした。現在、日本経済ではインフレが進んでいるため、比較的に身近に考えられる問題だったのかもしれませんが。

㊧問1は、文中の空欄に当てはまる語句を記号で回答してもらう問題でした。国際収支に関する部分の正答率が低い傾向でした。問2は、比較生産費説を唱えた経済学者の名前を回答してもらう記述式の問題でしたが、低い正答率でした。問3は1930年代に各国で見られた為替引き下げおよび関税引き上げの効果に関する選択問題でした。これらの政策が行われた背景と政策の意図をセットで整理できていると正解できると考えられます。比較的高い正答率でした。問4はブレトンウッズ体制に関する問題でした。記述式の問題の正答率が低い傾向でした。国際機関の略称、その日本語訳、および基本的な役割をセットで整理することが必要でした。問5は、地域的経済統合に関する問題でした。最近のニュースでも取り上げられることが多いため、記述式の問題でも高い正答率でした。

㊨問1は、文中の空欄に当てはまる語句を記述式で回答してもらう問題でした。法の支配というテーマの下では、必ず目にする用語であるはずでしたが、正答率は高いものではありませんでした。問2は「権力分立論」を説いた人物を選ぶ問題であり、4名中2名を選ぶ形式であったものの、2名ともに正解している人は少数でした。どちらの問題も歴史的な要素を含んでいますが、代表的な用語が問われているのであり、用語だけではなく内容と併せての理解しておく必要があります。問3は計6つの小問で構成されています。(1)の問は適語選択補充問題で正答率は高いものでした。しかし、(2)の日本における選挙制度についての2題は正答率が低く、(3)の人権に関する条約についての3題も正答率は比較的低いものでした。特に(2)は自国の選挙制度であり、選挙権を持つようになった以上はしっかりと学んでおいてほしいところです。また、制度は常に変化するものです。その変化を整理しておくことも重要です。問4は小問が3つありましたが、正答率は高いものでした。記述問題ではありましたが、勉強をしっかりとしている者とそうではない者の差が表れていた問でした。

㊩問1は、適語選択補充問題で正答率は高いものでした。問2は2つの小問で構成されていましたが、どちらも半分程度の正答率でした。どちらも裁判制度の基本的事項を問うている問題であり、基本を押さえるということを実践にしておいてほしいものです。問3も2つの小問で構成されていましたが、(1)は過去の裁判を扱った内容であったためか、正答率は低いものでした。憲法問題を扱う際には必ず学ぶ代表的な事例であり、教科書等で示された事例を細かい事柄と思わず、内容と結び付けて理解しておいてほしいと思います。同様に過去の事柄であったためか、問4では4つの内2つを選ぶ問でしたが、両方ともに正解している人は少数でした。過去は現在につながっており、現在をより良く理解するためにも過去の事柄もしっかりと押さえておくようにしてほしいものです。問5も2つの小問で構成されており、(1)は裁判員制度について、(2)はアメリカの裁判制度について問うています。どちらも基本的な知識を問うものでしたが、(1)の正答率は高い一方で、(2)の正答率は高いものではありませんでした。国家間での違いを理解するという点も理解を深める上で大切なことです。

全体としても、用語の記憶だけではなく、用語の内容とその関連する事柄を有機的に結び付けて理解することを心掛けてください。

# 【数学】

## ■出題の基本方針

出題範囲は、「数学Iと数学A(場合の数と確率、整数の性質)」で、本学に入学する学生として、数学の基礎・基本をきちんと身に付けているか、さらに標準的問題や身近な具体的事象に対し、数学的な見方・考え方や計算力を身に付けているかなどを問う問題となっています。数学は社会や生活の中で重要な役割を果たしており、データサイエンス等が注目されている中、今後さらにその重要性を増していくと思われま

す。全体的には、解答に取り組む姿勢・成果が多く見受けられました。普段から地道な演習にしっかり取り組み、本学入学後には数学を通して社会で求められる実践力を身に付け、デジタル社会等での活躍に繋がれることを期待しています。㊦以外の解答について、「途中の計算過程も記入」とあります。それは結果のみで数学の力を評価するものとはなりませんので、普段から解答用紙には論理的かつ説得力のある表現で解答できるよう心がけてほしいものです。

## ■設問の意図と講評

㊦基礎的・基本的な知識および技能に関する問題(解答は結果のみ記入)  
いずれも基礎的・基本的な問いですが、正答率はやや高い結果でした。ケアレスミスなどが生じないよう十分気をつけて取り組むことが大切です。(1)2進法の11010は、10進法では $1\cdot 2^4+1\cdot 2^3+0\cdot 2^2+1\cdot 2^1+0\cdot 2^0=26$ となります。(3)は、そのまま展開して整理した後、因数分解する方法や $\{(2a+b)+(a-2b)\}\{(2a+b)-(a-2b)\}$ から因数分解し展開する方法などがあります。(4)について、「互いに素」というのは共通の素因数がないことと同じです。また、どのような自然数についても1とは「互いに素」となりますので、12以下の自然数のうち12と「互いに素」な自然数は、1,5,7,11となります。(5)は、データ分析の基本で、平均値6、中央値5、分散5.2となります。

㊧2次関数の性質を用いて面積等を扱う標準的な問題(解答は途中の計算過程も記入)  
(1)と(2)は、周の長さが一定(36cm)の厚紙の面積を求める式をつくり、2次関数を利用して最大値を求める問題、(3)は、この厚紙から箱をつくった後の体積に関わる問題です。決して難しくはなく、丁寧に式をつくって進めることが大切です。比較的正答率は高い結果でした。(1)は、 $BC=18-x$ より、 $S=x(18-x)=-x^2+18x$ でxの範囲は  $0<x<18$ となります。(2)は、 $S=-(x-9)^2+81$ から、 $0<x<18$ の範囲で $x=9$ cmのとき、最大値81cm<sup>2</sup>となります。(3)の(i)は、図より $V=2(x-4)(14-x)$ 、(ii)は、 $V=2(x-4)(14-x)=32$ より、 $x=6,12$ で、条件より $AB=6,BC=12$ 。よって、 $x=6$  となります。

㊨三角比の公式を使って解く標準的な問題(解答は途中の計算過程も記入)  
(1)は、余弦定理 $BC^2=CA^2+AB^2-2\cdot CA\cdot AB\cos A$ を利用して解きますが、正弦定理、面積、外接円・内接円など、△ABCとの関わりでどの部分に当てはめるのか、演習の繰り返しで十分慣れておく必要があります。BC=5となります。(2)は、 $S=(1/2)AB\cdot CA\cdot \sin A$ を利用するという予想がつかますから、 $\cos A=5/9$ より $\sin^2A=1-\cos^2A=1-(5/9)^2=56/81$ よって $\sin A=2\sqrt{14/9}$ ゆえに $S=2\sqrt{14}$ を求めることができます。(3)について、△ABCの外接円を求めますから、まず正弦定理が思い浮かぶでしょう。(2)の $\sin A=2\sqrt{14/9}$ を利用して $2R=5/\sin A=5\times(9/2\sqrt{14})=45\sqrt{14}/28$  ∴ $R=45\sqrt{14}/56$ となります。比較的正答率は高い結果でした。

㊩反復試行の標準的な確率の問題(解答は途中の計算過程も記入)  
同じ条件のもとで同じ試行を何回か繰り返し行うとき、各回の試行は独立であり、この試行を反復試行といいます。この性質を利用して解く問題です。(1)と(2)は、基本的な問いですから、よくできていました。(2)は、東→東→北→東の順が決まっている独立な反復試行ですから、 $(1/3)\times(1/3)\times(2/3)\times(1/3)=2/81$ となります。(3)は、点Aから点Pまで進むためには、4区画のうちどこかで東へ1区画、北へ計3区画進めばよいので、 ${}_4C_1(1/3)(2/3)^3=32/81$ となります。(4)は、点Pを通る場合は(3)より、 $A\rightarrow P\rightarrow B$ だから $(32/81)\times(1/3)^2=32/729$ で、同様に点Qを通る場合は、 $A\rightarrow Q\rightarrow B$ だから ${}_4C_3(1/3)^3(2/3)\times(2/3)^2=32/729$ となります。ゆえに $1-\{(32/729)+(32/729)\}=665/729$ となります。典型的な道順の方法を求めることと確率の反復試行の融合問題ですが、(4)は正答率が低い結果でした。

## 一般選抜〔2教科型〕

# 【国語】

## ■出題の基本方針

国語の出題範囲は「国語総合」と「現代文」です。ただし、「国語総合」については近代以降の文章に限定しており、古文と漢文の出題はありません。㊦が11問、㊧が8問の計19問となり2月8日試験と同じになりました。

問題㊦と㊧ともに平均は高く、㊦は記述とはいえ抜き出し問題が多かったため例年よりもよくできていました。㊧も記述が多めでしたが、難易度はそれほど高くなかったせいか、とにかく書いて点数をとろうという意気込みが感じられました。

## ■設問の意図と講評

㊦阿部公彦『小説の『礼儀作法』』から出題しました。心理学の「安心型社会」と「信頼型社会」といった概念や言語学の「ポライトネス」といった概念を絡めつつ、小説の構造をわかりやすく説明している文章であり、受験生にとっても興味関心の幅が広がる題材と考え出題しました。

問1・2の漢字の読み書きの問題は、比較的よくできていました。読み書きともに6、7割の正答率でした。読みでもっとも正答率が低かったのは㊦「廃」でした。例年、音読みよりも訓読みができない傾向があるので、勉強する際にはぜひ訓読みも合わせて学習してください。書きの方では㊦「柔軟」は頻出漢字のせいかたいへんよくできていましたが、㊦「既存」は「基存」㊦「粹」は「粹」などのミスが目立ちました。問3は接続詞の穴埋め問題でした。毎年出題している問題です。aは直前の「嘘」を受け、「虚構」であればこそ礼儀が必要、と続く文脈が理解できれば、逆接を選べたはずです。dについては、社会文化の話から小説の話題へと転じる文脈を押さえる必要があります。そこさえ押さえられれば正解にたどり着いたも同然です。問4は指示語の内容確認問題です。「十四字」で「抜き出し」という問いがヒント

うになっています。正答の割合は7割程でした。(B)問1は本文の脈絡から意味が合う語(句)を選択します。問2は内容一致を問う問題で正答が2つです。あわせて5割の出来でした。

㉔問1の英文日本語訳は、V(動詞)を把握しS(主語)を確認して、単語・熟語の意味、連語関係(コロケーション)や語句の修飾関係などに気をつけ、本文の脈絡にあった解答をしましょう。問2は内容一致を問う四択問題が5問です。問3は文中で各単語がどの品詞として働いているかを答えてもらいました。英語は品詞が複数ある単語も多いので、本文中の文脈、前後の語彙など連語関係から判断してください。あわせて7～8割程の出来でした。

㉕問題形式としては対話文の内容について、英文の問いに対し英文で解答を記述する設問です。5問ありますが、まずなによりも質問文の内容を的確に理解し、文のかたちで解答を作成するよう指示されていることにも注意を払いながら、解答文の主語・動詞や各語(句)の綴りの正確さ、そして質問文に対して適切で必要かつ過不足のない英文での解答が求められます。正答の割合は7割程でした。

㉖(A)は語形変化をとらない、かつ現在よく使用されている派生語の綴りを記述する設問です。英単語の派生形は、単語ごとに決まってい、普通はよく使われる一つの英単語が該当します。それに従い、単語の綴りは正確に覚え記述するようにしましょう。4割程の出来でした。(B)は文法・語法の問題です。四択の中から不可能な選択肢を除外し、各英文から鍵になる語句を見つけ出して、文脈に適合する答えを選ぶことができる基礎力を培ってください。出来具合は6割程でした。(C)は英語の短文のなかからS(主語)に対応する適切なV(動詞)を選んでもらいました。5割程の出来でした。

㉗(A)は選択肢として提示された複数個の英語語句を整理させ、英文全体として日本文の意味に最も近い表現を完成させる設問です。出来具合は4割程でした。(B)はいくつかの短文が続く英語表現に対して内容一致を問う三択問題です。出来具合は7割弱でした。(C)はほぼ同じ内容の英文のペアを完成させる四択問題です。出来具合は6～7割程でした。

## 【総合型選抜〔I期〕小論文】

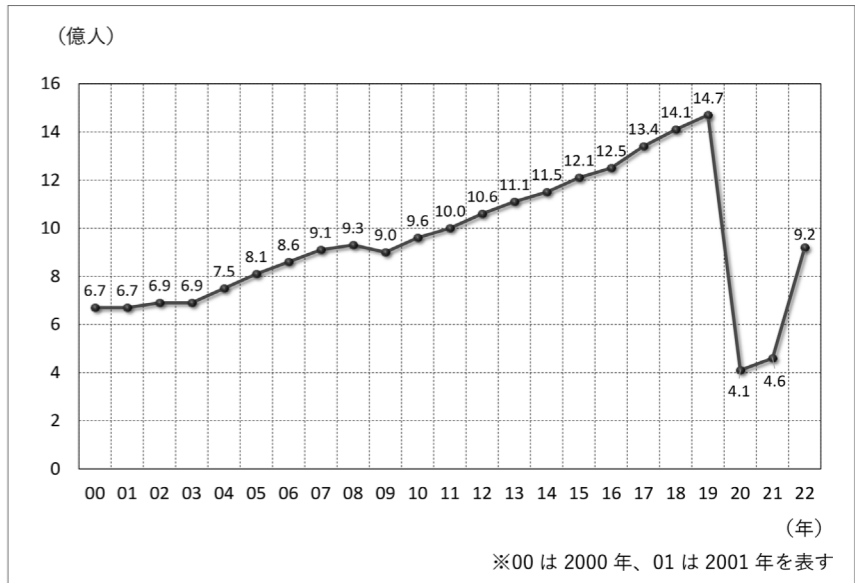
### 【問題】

観光は、国内外からの来訪客がもたらす旅行消費の増加を通じて地域と関連産業を発展させ、そこに携わる人びとの生活を豊かにするだけでなく、地域における「にぎわい」を創出します。これにより地域住民の愛着・誇りが育ち、「住んでよし、訪れてよし」の好循環を地域に生み出す原動力となります。3年間以上に及んだ新型コロナウイルス感染症禍(コロナ禍)を乗り越え、落ちこんだわが国の経済を再び成長の軌道に乗せていくためには、成長戦略の柱の一つとして、また地方創生の切り札として、“観光の力”が不可欠といっても過言ではありません。

そこで、以下に示す最近の観光関連の資料を踏まえて、コロナ禍以降の日本の観光の動向と今後のあり方について、資料のデータから読み取れる根拠とともにあなたの考えを800字以内で述べてください。その際、小論文の内容を適切に表す表題を解答用紙の所定の欄に記入してください。

※必ずしも全ての資料を使う必要はありません。資料1～7から、あなたの意見や主張に必要な資料を選び、適切に用いて論述してください。

### 【資料1】 世界全体の 国際観光客数の推移 (2000～2022年)



になったようで、9割の正答率でした。問5は空欄補充問題です。「安心型」／「信頼型」、「敬語」／「ポライトネス」、「日本的」／「普遍性」といった対立構造をきちんとおさえられているかを確認するために出題しました。「ウ」を選んだ人もいたのですが、「的」に続く言葉としては不適切であることに気づく必要がありました。問6は言い換えの問題です。意外に「信頼型」と答えたものが多かったのですが、「状態」を答える問いであることを見逃していたと思われる。問7は内容把握問題であり、これも「三十一字」というヒントがあるので、それを参考に見つけることは容易だったと思われる。ただし、字数を数えず「できる点」まで書いてしまった答案もありました。完全解答のため惜しくも点数がもらえないことになったので、最後まで字数を丁寧に数えることを意識しましょう。字数の指示は重要なヒントです。問8も内容把握問題です。5割をきる正答率でした。誤答としては「書簡体」としたものが圧倒的に多かったのですが、「小説というジャンル」が「発達した」のに対し、「衰退したジャンル」は何かと問われているのです。「書簡体の語り」から「神の視点」への移行は小説内の語りの問題であり、ジャンルの問題ではないことに注意を払う必要がありました。問9も内容把握の問題ですが、抜き出しではなかったため答え方は何通りかあります。「小説の語り手」と「聞き手／受けて」が基本の解答となりますが、「小説の」がないものがほとんどでした。問10は文章全体の内容読解にかかわる問題です。前半の社会や文化の話に引きずられて、「イ」や「オ」を選んだものも多くありました。直前の一文やこの文章の題名も参照すれば、筆者の主張がどこにあるかは捉えられたはず。問11は空所補充を問う問題であり、全体を読み返す必要から正答率も3割程度と低く難しかったようです。言語の話なのか、国の話なのかを区別して考えれば難しくなかったと思われる。

全体として、前半はよくできていましたが、小説の話題に移行してからの後半の問いが思わしくなかったようです。最後までじっくり、そして全体の構造を意識しながら読むことを心掛ける必要があると感じました。

㉔今回は、若者たちはなぜピアスや髪の色を脱色をするのかという、目の前の事象だけにとらわれるのではなく、その裏にある物事の本質に迫ろうとする筆者の思考を取り上げてみました。

問1の読みでは㉔、問2の書きでは、㉔の「微妙」の「微」、㉔では「潜む」が書けていない受験生が多く見受けられました。日常普段から読み書きを丁寧にを行うことが必要です。問3の語彙の意味については、よくできていました。語彙の意味を解くときには、どんな場面で使用されているのかを身の回りの問題としてとらえて短文などを作ってみると案外簡単に解けるかもしれません。問4は接続語補充の問題。それぞれの接続後の意味をしっかりとらえながら、空欄に当てはめてみることです。その際、空欄の前後の文章をしっかりと読み取ることです。よくできていました。問5については指示語を含んだ問題で、「さらにその前」とはいつの時代のどのような事象を指すのか、筆者の意図を考えながら読み進めていくことが必要です。字数制限がありますのでよく解いていました。問6は問5と同じで文脈をたどりながら、「逆説」の意味を踏まえながら、対立する事柄をとらえることです。「野蛮」と見えるものが実は「文明」であるという対立事項をまとめることができたかどうかの評価のポイントになります。まとめ方は様々ですが、字数制限がない分、自分なりの言葉でよく解いた受験生が多かったです。問7は内容を問う問題。「身体加工」について説明している段落に着目することです。よくできていました。問8は「不安」の内容をおさえて、筆者の主張を確認することです。筆者は現代の若者にも、何かになっておきたい、そうしなければ自分が確認できないという不安を見出しているということを主張しています。

筆者の主張を理解している受験生が多く見受けられ、正答も多かったです。

## 【英語】

### ■出題の基本方針

一般選抜(2教科型)問題の構成は、一般選抜(3教科型)問題とほぼ同様です。英文日本語訳を2問設定し、語形変化した派生語の正確な綴りを記述する設問もあります。英対話文について英語の文で解答する㉔は、本試験問題全体で点数配分が高めです。以上のことを踏まえた上で、英語の基礎的事項をしっかりと積み上げ、直面する新しい設問に応用できるように、英語力に磨きをかけてください。

㉔(A)の英文はイタリア料理のパスタについてです。麺料理としてもヨーロッパとアジアとの違い、一説としてパスタの来歴紹介、パスタ料理流布の経緯、また大規模農業やパスタ製造機械の発明などを述べています。(B)の英文はある画家についてです。名作を残した画家の生涯をごく簡潔に解説しています。

㉕の英文はある架空の旅行会社のウェブ・サイトを想定しています。上部にはサイト・メニュー、株価情報が、中央部に会社紹介や役員名簿が、そしてツアー料金表と営業時間を挟んで最下段に所在情報が、一般的な海外向けサイトを模しています。

㉖の本文は、札幌中心部の催し物へ週末に出かけようと思っている、女子と男子との英対話文です。

㉗・㉘は文脈に依存しませんので、それぞれに対応してください。

以下では㉔から㉘までの各問を順番にみていきましょう。

### ■設問の意図と講評

㉔1(A)内容一致を問う合計5問の四択問題です。英文の流れに沿った形で、ほぼ設問の順番どおりに答えられるよ

【資料2】

日本国内における旅行消費額と旅行収支、および観光GDPの対GDP比の推移

単位：旅行消費額は兆円、旅行収支は億円

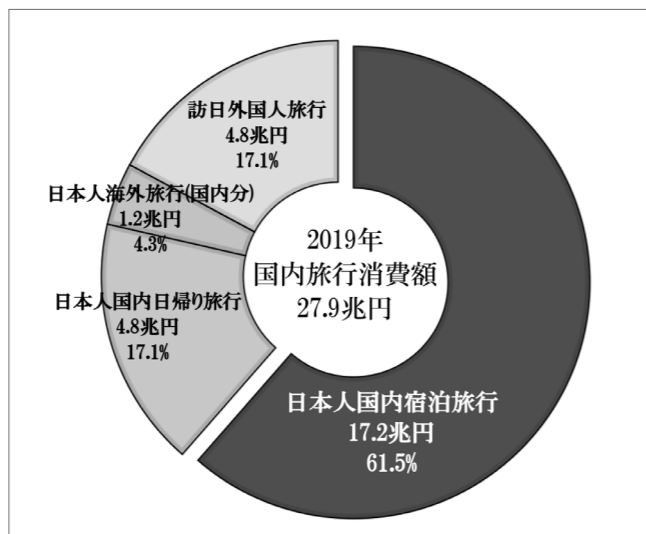
Table with 11 columns (Year 2013-2022) and 7 rows (Domestic overnight travel, Domestic day travel, Overseas travel, etc.).

注：①旅行収支(国際観光収支)は、日本人旅行者の海外での消費を「支出」、訪日外国人の日本での消費を「収入」として、収入から支出を引いたもの。2014年までは継続してマイナスであった。②観光GDPは、国内で生産した観光サービスによる付加価値額のこと、日本の観光の「稼ぐ力」を表す。

参考) 2019年における諸外国の観光GDPの対GDP比は、米2.9%、カナダ2.0%、イギリス3.6%、ドイツ4.0%、フランス5.3%だった。

【資料3】

過去最高となった2019年の日本国内における旅行消費額



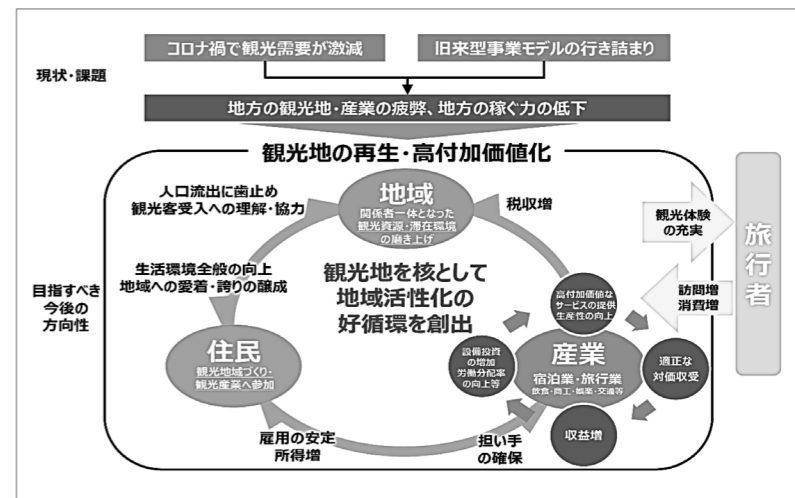
【資料4】

2021年~2023年の日本国内の延べ宿泊者数の推移



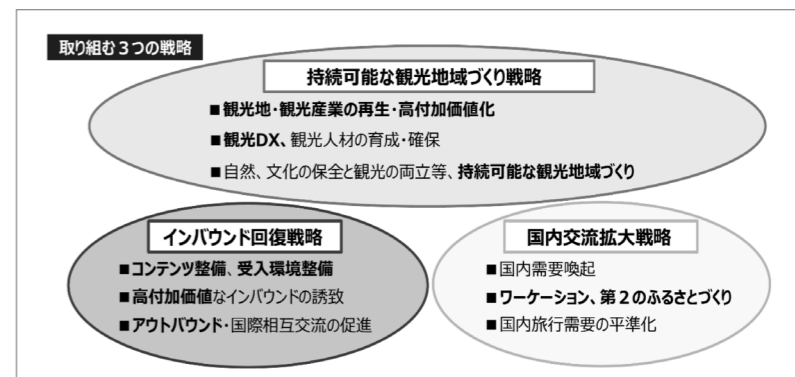
【資料5】

観光地を核とした地域活性化の好循環



【資料6】

日本政府の観光立国推進基本計画(3つの戦略と目指す2025年の姿)



注)

- ①「インバウンド(inbound)」とは、外国人が訪れてくる旅行のことで、訪日外国人旅行。「アウトバウンド(outbound)」とは、日本人の海外旅行のこと。②「ワーケーション(workcation)」とは、「ワーク(work)=仕事」と「バケーション(vacation)=休暇」を組み合わせた造語で、観光地やリゾート地など、普段のオフィスとは離れた場所で休暇を楽しみながら働くスタイルのこと。③「観光DX(digital transformation)」とは、業務のデジタル化を通じて効率化を図るだけでなく、デジタル化によって収集されるデータの分析と活用を通じて、観光ビジネス戦略の再検討や、新たな観光ビジネスモデルの創出といった変革を行うことを指す。

【資料7】

ポストコロナに向けた観光庁の主な施策

Grid of 12 boxes detailing tourism policies across categories like '観光施設の再生・高付加価値化', '観光施設改修', '観光地魅力向上のための廃屋撤去', etc.

注)「デジタルサイネージ(digital signage)」とは、駅・店頭・展示会場・公共空間・交通機関等、あらゆる場所でディスプレイやプロジェクターなどの電子的な表示機器を使って情報を発信するメディアの総称。広告媒体として利用されている「電子看板」のこと。

※資料1~7出所:「2023年版観光白書」をもとに作成し、注を付記した。

## ■出題の基本方針

令和6年度入学者選抜要項に記載のとおり、「国際化が進む現代の日本経済に関する時事的なテーマ」を出題しました。堅調に成長してきた国際観光、国内観光において新型コロナウイルス感染症禍の影響は激甚でした。しかし、感染症禍が終息方向に向かうにつれて、直近の国内外の観光客数は急速な回復を見せてきています。こうした国内外の観光動向の変化を踏まえて、これからの日本において期待される観光を活用した持続可能な地域社会への発展像をイメージし、その具体的な実現方法について、関連する知識を踏まえて提供された資料等を根拠に論述してもらう問いとしました。

## ■設問の意図と講評

まず、資料のうち3つの図と1つの表から、過去堅調に増加してきた国際観光客数の推移、近年の日本国内における旅行消費額の内訳や日本の観光GDP等の成長推移とそれらにおける新型コロナショックの影響の激しさ等を確認すること、他方で急速な回復をみせる国際観光客数や直近の延べ宿泊客数の状況から、今後の観光の可能性を的確に読み取ることを求めました。そのもとで、2023年版の観光白書において述べられた、①観光地を核とした地域活性化の好循環、②観光立国推進基本計画(取り組む3つの戦略と目指す2025年の姿)、③ポストコロナに向けた観光庁の主施策等に関する3つの図の中から、自らの主張に必要な部分を根拠資料として適宜利用し、「新型コロナウイルス感染症禍後の観光のあり方」について述べることを課しました。

解答は、①構成の適切性、②論旨の明瞭性と表題との整合性、③文章表現の適切性、④誤字脱字の有無、⑤図表の引用、⑥字数制限等を評価基準として採点しました。受験生は概ねこれらの基準を満たしていましたが、中には「である調」と「ですます調」が混在していたり、文章作成の基本ができていなかった解答が見られました。また、平易な言葉の漢字表記がなされていないものや誤字脱字がある解答も散見されました。内容以前の問題で評価を下げることはないよう、文章作成の基本はしっかりと身に付けてください。

解答内容については、問いに対する自らの意見を主張することは概ねできていました。しかし、解答の中には資料から読み取ったことの説明と主張が十分に結びついていないものもありました。普段の学習の中で、データから客観的に思考する習慣を身につけることが重要です。客観的な事実認識のもとで、本問題で言えば、地域の活性化に資する観光地の再生・高付加価値化の役割、国が取り組む3つの戦略、ポストコロナに向けた観光施策等がいかなることかを理解し、どの点に着目して新型コロナウイルス感染症禍後の日本観光のあり方に言及するべきか、論点をフォーカスして記述してほしいと思います。

## 【総合型選抜(Ⅱ期)小論文】

### 【問題】

地方圏ではバスや鉄道といった公共交通が年々衰退し、地域住民の移動に大きな制約となっています。特に過疎地域で自家用車の利用が困難な人たちには、乗合バス(路線バス)事業の縮小や廃止は、生活上の難しい課題と言えます。

そこで地方圏の乗合バス事業について【資料】を参考に、まず現在の状況を背景も交えて具体的に述べてください。次に、今後はどうのような対応が可能か、あなたの考えやアイデアを述べてください。なお答案の字数は、あわせて800字以内です。

### 【資料1】

日本の人口は2008(平成20)年の1億2,808万人をピークとして減少に転じ、コロナ禍前の2019年は1億2,617万人となりました。今後も長期的な人口減少が続くと見込まれます。一方で、65歳以上の高齢者人口は2019年に3,589万人となり、総人口に占める割合(高齢化率)は28.4%と年々高くなっています。今後も人口が減少する中で高齢化率は上昇を続け、2036年頃には3人に1人が高齢者になると推計されます。

ところで、私たちは通勤通学や買い物等による移動で、乗合バス(路線バス)・鉄道等の公共交通や自家用車等の個別交通を頻繁に利用していますが、移動手段は地方圏を中心に公共交通から個別交通へ移りつつあります。国勢調査によれば全交通手段に占める自家用車の分担率が全国的に上昇し、特に地方圏で顕著です。これが地方の公共交通の衰退につながっています。

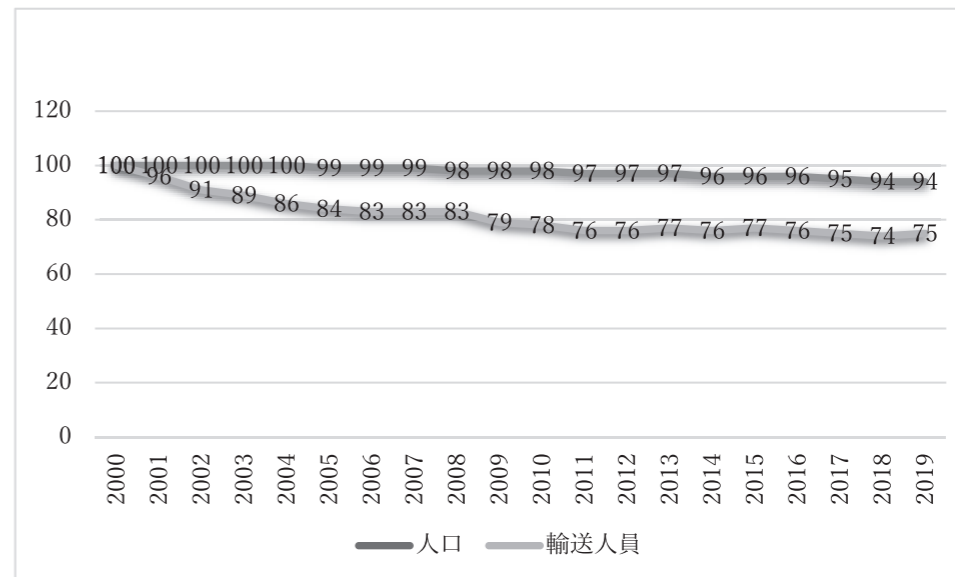
こうした状況を北海道の家計支出からみると、1世帯当たりの「公共交通運賃」と「自動車等購入・維持費等」への支出額を2002年とコロナ禍前の2019年で比較した場合、公共交通運賃は49,871円から36,758円へ26.3%減少し、自動車等購入・維持費等は178,221円から205,722円へと15.4%増加しています。ここからも移動手段の中心が私的交通へ移っている様子がうかがえます。

一口に公共交通と言っても、バスと鉄道では事業者の数や営業収入等が異なります。2018年の旅客鉄道事業者数は205社で、1事業者当たりの平均営業収入は352.6億円ですが、「地域の足」となる乗合バス事業者数は2,279社で1事業者当たりの平均営業収入は4.2億円でした。鉄道事業者は企業規模で優るようですが、地域鉄道に限れば8割近くの事業者が赤字を計上しています。

乗合バス事業者の95%は中小事業者です。赤字のバス事業者は増加傾向をたどり、2021年には74%に達しました。バス事業者の経営財務状況の悪化に、バス運転手の確保難が加わり、乗合バスの営業距離は減少に歯止めがかかりません。こうした地域交通の危機的状況は、乗合バス以外の主要な移動手段をもたない地域の人々にとり、特に深刻な問題となっています。

乗合バスの廃止といった問題を抱える地方では、地域住民の移動手段を確保するために地方自治体やNPO等による「コミュニティバス」の運行や、タクシーと乗合バスの中間的な「乗合タクシー」の導入が進んでいます。この他にも移動が不自由な住民向けの「福祉タクシー」や、自家用車を用いた有償運送サービスの「自家用有償旅客運送」の取り組みが広がっています。ただし根本的な解決にはいたっていないのが現状です。

### 【資料2】バスの輸送人員の推移



注、2000年を100とした場合の推移。

### 【資料3】乗合バスの廃止キロの推移

年度	完全廃止 (km)
2010	1,720
2011	842
2012	902
2013	1,143
2014	1,590
2015	1,312
2016	883
2017	1,090
2018	1,306
2019	1,514
2020	1,543
2021	1,487

### 【資料4】2023年以降の乗合バスの減便・廃止

減便・廃止予定	81%
維持・増発予定	19%

○「青果物」:香港および台湾を中心に、贈答用の需要の拡大および家庭内消費の拡大により増加した。農林水産省では、今後は、2025年の目標を2兆円に、2030年の目標を5兆円にそれぞれ設定し、目標達成に向けて官民一体となった輸出拡大の取り組みをさらに進める方針である。特に、輸出拡大の余地が大きい「牛肉」、「牛乳・乳製品」、「切り花」、「茶」、「コメ・パックご飯・米粉および米粉製品」、「味噌・醤油」、「清酒(日本酒)」、「ウイスキー」、「本格焼酎・泡盛」など計28品目を重点品目に選定し、生産者や産地への支援を強化する計画である。目標達成のための戦略によって、海外で評価される日本の農林水産物と食品の強みを活かし高値で取り引きされることが期待される。

【問題】 【解説】をふまえ以下の問いに回答してください。

国際化が進み、さらに輸出拡大が求められるなか、近年の国際情勢を踏まえつつ、特に、北海道産農畜産物の、国内外における消費拡大へむけた取り組みについて、北海道経済へ良い影響をもたらすような具体的なアイデアを800字以内で提案してください。  
なお、提案にあたり小論文の内容を的確に示す「表題」を解答用紙の所定の欄に記述してください。

## ■出題の基本方針

令和6年度入学選抜要項にしたがい「現代の北海道経済の国際化に関する時事的なテーマ」を出題しました。国際化が進む現代の日本において、最近年とりあげられた時事ニュースとして「過去最高を記録した農林水産物と食品の輸出額」を取り上げました。外国為替市場における円安による日本産農産物の割安感の高まりのほか、新型コロナウイルス感染症拡大の影響で落ち込んでいた外食需要の回復などがその要因ととらえられています。こうした背景をうけて、農林水産省では、さらなる輸出拡大へむけた取り組みを進める方針にあります。目標達成に向けた官民一体となった輸出拡大の取り組みなどを踏まえ、国際化が進み、さらに輸出拡大が求められているなか、特に、北海道産農畜産物の、国内外における消費拡大へむけた取り組みについて、北海道経済へ良い影響をもたらすような具体的なアイデアを求めた設問でした。

## ■設問の意図と講評

【解説】によって、輸出拡大の状況やその背景を把握したうえで、めざすべき視点と展開方向を示しつつ、北海道産農畜産物の消費拡大および北海道経済への良い影響をもたらす具体的な発案を求めることが設問の意図です。

解答にあたっては、6つの視点(①構成の適切性、②論旨の明瞭性と表題との整合性、③着眼点と独創性、④文章表現の適切性、⑤誤字脱字の有無、⑥字数制限)を中心に採点しました。

おおむねこれらの評価基準を満たしていましたが、以下の点で課題が残ります。ひとつめは、輸出拡大の余地が大きい品目(「牛肉」、「牛乳・乳製品」、「切り花」、「茶」、「コメ・パックご飯・米粉および米粉製品」、「味噌・醤油」、「清酒(日本酒)」、「ウイスキー」、「本格焼酎・泡盛」など)が提示されているにもかかわらず、論述の際に引用されていない点です。北海道と産品との関連性などの踏み込んだ理解や考察に至っていない点が課題です。解答にあたっては、【解説】の読み込みに加え、資料を適切に引用し説得力のある文章を書く力を求めます。ふたつめは、「北海道産農畜産物の、国内外における消費拡大へむけた取り組みについて、北海道経済へ良い影響をもたらすような具体的なアイデア」を求めているにも関わらず、解答の多くは具体性に欠け、消費拡大という視点に立っていない点です。解答にあたっては、出題の意図を汲み、幅広い視点に基づいた提案力の涵養が求められます。なお、原稿用紙の使い方など、小論文の記述にあたっての初歩的な技能については、基礎ができているものと評価しました。小論文の記述力向上のためにも、従来より指摘されている、知識・スキルに加え、論述の構成力、俯瞰的思考力・創造力、問題解決能力などの多様な資質を日ごろの学習のなかで育ててください。

【資料5】バス事業者の収支状況

年度	黒字事業者	赤字事業者
2017	35%	65%
2018	36%	64%
2019	31%	69%
2020	29%	71%
2021	26%	74%

【資料6】道民1世帯当りの移動のための支出

年度	公共交通運賃	自動車等購入・維持費
2002	49,871円	178,221円
2017	37,841円	197,863円
2018	42,096円	190,652円
2019	36,758円	205,722円
2020	18,144円	219,721円

資料の出典はすべて『交通政策白書』各年版による。

## ■出題の基本方針

1990年代以降のグローバル化では地球規模での資本や人、情報の移動や交流が大きく進展しました。またこの間の日本では人口減少や少子高齢化にともない生じる様々な社会的課題がより強く認識され、その解決が模索されてきました。さらに、近年多発している異常気象による甚大な被害や、新型コロナウイルス感染症の拡大、ロシアによるウクライナ侵攻などによる経済や社会への様々な影響は、それ以前から続く社会的課題そのものをより深刻化させる方向に働いています。こうした背景のもとで公共交通、とりわけ地方圏の乗合(路線)バス事業は、重大な転換点に差し掛かっています。

## ■設問の意図と講評

設問は地方圏の乗合バス事業について、まず資料を参考に現状を整理し、次に今後の可能な対応を自分なりに考えて述べるものです。答案の採点にあたっては、①記述内容と表題の整合性、②趣旨の明確性と論理的な記述、③資料やデータ活用の技能、思考・判断の適切性、④文章表現の適切性、⑤原稿用紙の使い方の適切性といった点が確認されます。

まず設問の前半部分にあたる現状を背景も交え具体的に述べるには、資料1を要約することになりますが、単に要約するのではなく、資料2～6の内容から読み取れる傾向や現状を要約に反映させることも必要です。また、設問の後半部分にあたる今後の可能な対応を自分なりに考えまとめるには、日常見聞きしたこれまでの経験を具体的に加えるなどしたほうが説得力も高まりより良い評価につながります。

答案の多くはこうした基準をおおむね満たす内容でしたが、一部の答案には現状の要約に関する記述で内容にややバランスを欠くものや、各資料から読み取る内容が単純な数字にとどまり要旨との関連性が浅いといった例も見られました。こうした小論文の作成では、断片的に現れる様々な現状について、背景を意識し考える習慣が重要となります。さらに、自分なりの考えを述べる場合に、その根拠が不明瞭な例もありました。これから受験する皆さんは資料から必要な情報を取り出し、伝えたいことを明確にして書く習慣を身に付けるよう心掛けてください。

# 【学校推薦型選抜〔公募制〕小論文】

【解説】を読み【問題】に回答してください。

【解説】 以下の文章は、国際化が進む日本における農林水産物と食品の輸出に関する記述です。

国際化が進む現代の日本において、最近とりあげられた時事ニュースの一つに「過去最高を記録した農林水産物と食品の輸出額」があげられる。農林水産省によると、2022年1年間の農林水産物と食品の輸出額は前年を14.3%上回り、1兆4,148億円となった。輸出額は、2012年(4,497億円)から増加を続け、2022年には3.1倍に拡大した。その要因は、2022年、外国為替市場で円安が進み、海外市場における日本の農産物の割安感が高まったほか、新型コロナウイルス感染症拡大の影響で落ち込んでいた外食需要が、欧米や中国などの地域において回復し輸出額を押し上げたことによるものととらえられている。輸出額の増加が大きい主要品目とその増加要因は以下である。  
○日本酒やウイスキーなどの「アルコール飲料」:日本の酒の知名度の向上により、従来の輸出先(中国およびアメリカ)に加えて、シンガポールおよびイギリス向けの需要が拡大したことにより増加した。

# 北海商科大学

## 令和8年度

# 入学者選抜問題



英 2

1 下記の(A)～(B)の各問に答えなさい。

(A) 次の英文を読み、下記の問に答えなさい。

**The History of Money**

A long time ago, people did not have money. They used trading\* instead. This means they gave something they had to get something they needed. For example, a farmer could give eggs to a person who made shoes to get new shoes. This was called 'bartering'.

However, trading things was not always easy. What if the shoemaker didn't want eggs? Then the trade would not work. So, people started to use special things as money. Some places used sea shells, salt, or pretty stones. These things were believed to be rare or valuable. They were also small and easy to carry. However, people in other places didn't always think these things were special, so trading was still difficult.

Later, people made coins out of metal like gold, or silver. The use of coins made trade simple. These coins were round and flat, and could be used in many places. They could also be decorated with pictures and designs. Kings and queens often put their faces on the coins so people would know who was in charge. Coins could last a long time and were hard to break.

After coins, people began to use paper money. Paper money was light and easy to carry, so people didn't need to carry heavy coins. It was also easy to count and could be used to buy many things. However, paper money could easily tear or get wet. Also, some people made fake\*\* paper money, which caused trouble. To stop this, governments added special marks and colors to make paper money harder to copy.

Today, we still use coins and paper money. But many people also use digital money. This kind of money is not something you can hold. It only exists in something called a digital wallet on your computer or smartphone. It's an easy way to buy things in a shop or online. Digital money is also safer to use, because you don't need to carry around a lot of cash. In the future, there may be new kinds of money we haven't even thought of yet.

\* trading / trade 交換, 交易, 取引

\*\* fake 偽 (にせ) の

英 3

問1 以下の1～5について、本文の内容に合う適切な答を、a～dの中から1つ選び、その記号を記しなさい。

1. What was 'bartering'?
  - a. Making shoes.
  - b. Giving and getting things without money.
  - c. Using money to buy things.
  - d. Buying and selling eggs.
2. Why did people start using shells, salt, or pretty stones as money?
  - a. These things were pretty.
  - b. These things were difficult to carry.
  - c. People thought these things had value.
  - d. People didn't think these things were special.
3. Which was TRUE about coins?
  - a. They could be used in only one place.
  - b. They were a square shape.
  - c. They had no decorations.
  - d. They were made of expensive metal.
4. What was one problem with paper money?
  - a. It was easy to damage.
  - b. It was heavy to carry.
  - c. It was easy to count.
  - d. It was hard to copy.
5. Which is NOT TRUE about digital money?
  - a. It is a convenient way to buy things online.
  - b. It stays in a special digital wallet.
  - c. It is more dangerous to use than paper money.
  - d. It cannot be held in your hand.

英 4

(B) 次の英文を読み、下記の問に答えなさい。

My name is James Taylor. I am a 42-year-old novelist. I have ( 1 ) quite a few books, most of ( 2 ) are long stories of suspense fiction. I live in Wellington, the capital of New Zealand, with my wife Cathie, my son Henry and my daughter Ana. Well, I love spending time with my family, but I have a pretty busy schedule these days, which is making it harder little ( 3 ) little to do family things. So let me tell you about my daily routine.

(佐藤哲三 他 著, *Your CONQUEST of ENGLISH*, 南雲堂)

問1 英文中の( 1 )～( 3 )に入る最も適切な語を、a～dの中からそれぞれ1つ選び、その記号を記しなさい。

- ( 1 ) a. write      b. wrote      c. written      d. writing  
 ( 2 ) a. which      b. that      c. what      d. whom  
 ( 3 ) a. at      b. with      c. for      d. by

問2 以下の1～2について、本文の内容に合う適切な答を、a～dの中から1つ選び、その記号を記しなさい。

1. How many members are there in James' family?
  - a. There are two members in James' family.
  - b. There are three members in James' family.
  - c. There are four members in James' family.
  - d. There are five members in James' family.
2. Why is it becoming difficult for James to do family things?
  - a. Because he loves spending time with his family.
  - b. Because he has a very busy schedule these days.
  - c. Because he has a daily routine of writing novels.
  - d. Because he has gotten quite a bit older.

英 5

2 次の対話文を読み、問1～5に英語で答えなさい。なお、答えは単語や句ではなく文の形で作成しなさい。

Foreign Friend

Satoshi: Hey Rina, I heard that you have a foreign friend. Is that true?
Rina: Yes. Her name is Emily and she's from Canada. I first met her last year, while I was skiing in Niseko in Hokkaido.
Satoshi: That's interesting. What do you usually do together?
Rina: I usually meet her every week on Saturday. We often go to cafés and sometimes we go driving in her car. Last weekend, we went to Hakodate together by train.
Satoshi: That's a nice place. Did she enjoy it?
Rina: Yes, very much. She took a lot of photos. She said it was very different to her hometown in Canada.
Satoshi: I'd like to meet her someday.
Rina: We're going to see an action movie on Sunday night at the movie theater in Sapporo Station. Would you like to come with us?
Satoshi: Thanks! I'd love to, but I have part-time work that night. I won't finish until late.
Rina: Oh, that's too bad. I heard that it's a really exciting movie.
Satoshi: I wish I could go too. I hope you enjoy that movie. See you later!
Rina: I hope so too. See you. Bye!

- 問1 Where did Rina first meet her foreign friend, Emily?
問2 How often does Rina meet Emily?
問3 How did Rina and Emily travel to Hakodate?
問4 What does Rina invite Satoshi to do?
問5 Why can't Satoshi go with Rina and Emily on Sunday night?

英 6

3 下記の(A)～(C)の各問に答えなさい。

- (A) 下記の(1)～(3)について、日本語とほぼ同じ内容の英文を作るとき、( )内の語(句)を並べ換えた際に、並べ換えた語(句)の中で4番目にくるものを a～f の中から1つ選び、その記号を答えなさい。
(1) 私はその本を1日で読むことができます。
It is (a. read b. me c. for d. the book e. possible f. to) in a day.
(2) メールアドレスが変わったことをお知らせします。
This (a. that my b. changed c. is to d. inform you e. mail address f. has).
(3) 君は自分のオートバイを修理してもらうかどうか決めなければならない。
You must (a. bike b. repaired c. have d. whether to e. your f. decide).
(B) 下記の(1)～(4)の英文を読み、その内容として正しいものをそれぞれ a～c の中から1つ選び、その記号を記しなさい。
(1) In English-speaking countries, people are fond of using shortened names. They usually use them to be friendly with each other. For example, Bill is short for William, and Tony is short for Anthony.
a. In English-speaking countries, people like to use shortened names.
b. In English-speaking countries, people seldom use shortened names.
c. Bill is short for Anthony, and Tony is short for William.
(2) "Who are you?" This innocent question was asked by a little girl in the Philippines. She wasn't talking to a new classmate or teacher, however. The question was directed at her father, an engineer who had just spent ten years working in Saudi Arabia. The man had spent so little time with his family that his daughter didn't even recognize him.
a. The little girl's father was a teacher working in Saudi Arabia.
b. The little girl had not often seen her father.
c. The father spent a lot of time with his family.

英 9

Gift Shop
Welcome to our Gift Shop. We (5) always have 100 or more items. Let us introduce you to three of the most popular items we sell.
Stationery set 880 JPY
Robot cleaner with a 'Hokkai Zoo' logo 51,200 JPY
Stuffed bear (teddy bear) 3,300 JPY
Prices will be charged in Japanese yen (JPY). Taxes are included.
You can also purchase almost any items in stock from our online shop. If your total online purchase is more than 5,000 JPY, the shipping fee is free.
Management Office: 382 Hujimai, Nansei Ward, Shin Sapporo, Hokkaido (since 1992).
To learn more about how you can (6) observe the rules for a (7) safe and enjoyable (8) visit, please check out our website, https://www.hkzoo.co.jp/&contents=fesinf, or email us at info@hkzoo.co.jp. Please refer to https://www.hkzoo.co.jp/info2 for information about your plans to explore our zoo.

The Hokkai Zoo
LOCATION [ Main Office ]
83 Susihama-machi Street, New Toyohira Ward, Sapporo, Hokkaido, 069-8792, Japan.
https://www.hkzoo.co.jp/ Phone: +81 (11) 841-1161
Copyright © 2026 The HOKKAI ZOO

(このページは白紙です)

英 7

- (3) Two people are talking in a café.
Alice: Long time no see.
Kate: When was the last time we saw each other?
Alice: I don't even remember.
Kate: I don't, either.
Alice: Time flies like an arrow.
Kate: Doesn't it?
a. Kate and Alice recently saw each other.
b. Kate and Alice have forgotten when they last met.
c. Kate and Alice are members of an archery club.
(4) From 2016 to 2019, Kazu was a student at the London School of Economics. As a student, he worked very hard. He wanted to visit Cambridge and York in England, but he didn't have the time. Now he is back in Japan.
a. Kazu has never visited Cambridge.
b. Kazu has been to York in the U.S.A.
c. Kazu lives in London now.

- (C) 次の各組の英文がほぼ同じ意味になる( )内に入る語の最も適切な組合せを、a～dの中からそれぞれ1つ選び、記号を記しなさい。
(1) ・He (ア) comes to see me.
・He comes to see me (イ) time to time.
a. ア occasionally イ until b. ア always イ until
c. ア always イ from d. ア occasionally イ from
(2) ・I have (ア) patience with such a man.
・I cannot (イ) up with such a man.
a. ア no イ put b. ア much イ put
c. ア much イ take d. ア no イ take
(3) ・(ア) we play tennis?
・(イ) don't we play tennis?
a. ア Will イ How b. ア Shall イ How
c. ア Shall イ Why d. ア Will イ Why

英 8

4 以下はパーソナル・コンピュータ向けホームページ画面を想定しています。この内容について各問に答えなさい。

The HOKKAI ZOO
General Information
Thank you for your visit to the HOKKAI ZOO
Founded in 1990, (1) the mission of the Hokkai Zoo is to create a fun environment for our guests to learn about animals.
Admission
Open daily except New Year's Day
Weekdays: 10:00am - 5:00pm ; Weekends/Public Holidays: 9:30am - 6:00pm.
Last admission is 2 hours before close.
There is a free parking lot available for guests.
Entry Tickets
Adults: 1,200 yen per person.
Children 12 years old and under: 500 yen per person.
Animals and Accessibility
Today, the Hokkai Zoo has one hundred or more animals within 3 km of walking trails. It is also a part of our mission to welcome all guests to experience our zoo. In addition, we have many accessible features available, such as automatic door (2) systems, ramps instead of stairs, and so on. Several free wheelchairs are also available. Please contact the Guest Relations Office by calling +81 (11) 872-3937. Let us introduce our most popular animals of 2025 below.
8-year-old female, 5-year-old female, 3-year-old male, 11-year-old male, 30-year-old female, 17-year-old male.
TIMELINE
Now, simply (3) trace our history of development.
1990 The Hokkai Zoo was founded.
2001 Drew up a new development plan.
2003 Carried out the first maintenance work.
2005 Carried out the first expansion work.
2008 Carried out the first improvement work.
2010 Carried out the second maintenance work.
2023 Carried out the second expansion work.
2024 Carried out the third maintenance work.
(4) Thank you again for planning your visit to our zoo. We look forward to welcoming you!

英 11

- 問1 以下の(1)～(4)について、ホームページの内容に合う適切な答を、a～dの中からそれぞれ1つ選び、その記号を記しなさい。
(1) Which is TRUE about Admission information?
a. The Hokkai Zoo opens every day of the year.
b. Visitors can enter the Hokkai Zoo at 9:30am on weekdays.
c. Visitors with cars must pay a parking fee.
d. Entry ticket costs for an adult with three children is 2,700 yen.
(2) Which is TRUE about Animals and Accessibility information?
a. There are many stairs on the walking trails.
b. There were only seven animals in the Hokkai Zoo in 2025.
c. Three of the most popular animals of 2025 were male.
d. The youngest of the most popular animals of 2025 was a Koala bear.
(3) Which is TRUE about Timeline information?
a. There have been three expansion works carries out in the past.
b. Second maintenance work was carried out 20 years after the zoo was founded.
c. There has been no maintenance work carried out during the last ten years.
d. First maintenance work was carried out 7 years after the new development plan.
(4) Which is TRUE about Gift Shop and Management Office information?
a. You can only find information about zoo rules by using the zoo website.
b. People can only buy items in the gift shop at the zoo.
c. If people buy two stuffed bears, they must pay a shipping fee.
d. The location of the management office is different from that of the main office.
問2 下線部(2)～(3)および(5)～(8)の文中での品詞を、a～dの中からそれぞれ1つ選び、その記号を記しなさい。
a. 副詞 b. 名詞 c. 動詞 d. 形容詞
問3 下線部(1)および(4)を日本語に訳しなさい。

英 12

- 5 下記の(A)～(C)の各問に答えなさい。
(A) 次の(1)～(2)について、それぞれの指示に従い、語形変化した語を一語で書きなさい。
(1) treatment を動詞にする (2) easy を副詞にする
(B) 次の各文の( )に入れる最も適切な語(句)を、a～dの中からそれぞれ1つ選び、その記号を記しなさい。
(1) Many things that I thought ( ) important at that time now seem unimportant at all.
a. they b. were c. them d. is
(2) I'll let you know as soon as my mother ( ) here.
a. will come b. come c. comes d. have come
(3) He didn't like meat. He would not eat it ( ) he was extremely hungry.
a. only b. also c. unless d. either
(C) 次の各文について、主節のS [主語] に対応する適切なV [動詞(句)] を下線部の中からそれぞれ1つ選び、その番号を記しなさい。
(1) What the fire destroyed was the new building of the Municipal Library.
1 2 3 4 5 6
(2) People would not like to eat snacks that have fallen on the ground.
1 2 3 4 5 6
(3) Please give the soup more taste with some spice.
1 2 3 4 5 6
(4) The chances are very good that she will be promoted.
1 2 3 4 5 6
(5) The meeting which was held yesterday was a success.
1 2 3 4 5 6


令和8年度  
一般選抜(3教科型)問題

# 世界史探究

世界史探究

1 世界史探究の授業において、生徒たちが3班に分かれてユネスコ世界遺産の歴史的建造物を調べ発表しました。A班、B班、C班の生徒たちが調べた歴史的建造物の歴史的な役割や背景についてのレポートを読み、後の問いに答えなさい。

A班



1987年ユネスコ世界遺産に登録

この建造物は古代ギリシャのアクロポリスに建てられた神殿です。ここは神を祀る聖なる場所であると同時に敵の侵入を防ぐ城塞でもありました。神殿が建てられた(再建)のは東方のペルシアの国と戦って勝利したからです。そのことを祝って女神アテナに捧げられた神殿です。建設したのはアテナの民主政を完成させた将軍(あ)です。前480年のサラミスの海戦の勝利では軍艦の漕ぎ手として戦争に参加した無産市民の発言力が高まり、彼らも国政に参加するようになりました。将軍(あ)の指導の下で民会を中心とする徹底した民主政が実現し、世界の歴史に大きな影響を与えることになりました。

- 問1 下線(a)の神殿の名称を答えなさい。
- 問2 下線(b)についての適切な説明を(ア)～(イ)から1つ選び答えなさい。
- (ア) 異民族をヘレネス、自分たちをバルバロイと呼び、ギリシア人は同一民族の意識を持ち続けた。
  - (イ) ポリスは対立抗争を繰り返し、統一国家をつくることはなかった。
  - (ウ) 農業の治水灌漑を進めるために、神の代理として強力な王がいた。
- 問3 下線(c)のペルシアの王朝の名称を(ア)～(イ)から1つ選び答えなさい。
- (ア) ササン朝 (イ) プトレマイオス朝 (ウ) アケメネス朝

C班



1987年ユネスコ世界遺産に登録

この建造物は中国の明朝の永楽帝が1406年から14年の歳月をかけて築いた紫禁城です。(お)年の清朝滅亡まで、明朝・清朝時代の政治の中心でした。現在は故宮博物院になっています。1949年には城門の一つである天安门で中華人民共和国の建国が宣言されました。明の初代皇帝は洪武帝です。元末の乱の中で勢力をのび、1368年に明朝を建て皇帝の座につきました。永楽帝は三代目の皇帝ですが、靖難の変を起し武力で帝位につきました。永楽帝は積極的な対外政策をとりました。清朝の時代になると、有能な皇帝が三代続き、清朝の支配領域は大きく広がりました。皇帝は平常時、紫禁城で政務をとり、夏の数か月は北方の獵場や離宮で過ごしました。

- 問14 下線(j)の場所を(ア)～(イ)から1つ選び答えなさい。
- (ア) 北京 (イ) 南京 (ウ) 上海
- 問15 文中の空欄(お)に入る年代を(ア)～(イ)から1つ選び答えなさい。
- (ア) 1840 (イ) 1860 (ウ) 1898 (イ) 1912
- 問16 下線(k)に関して、中華人民共和国の建国の時の指導者を(ア)～(イ)から1つ選び答えなさい。
- (ア) 鄧小平 (イ) 毛沢東 (ウ) 江沢民
- 問17 下線(l)に関して、おこった大きな農民反乱を(ア)～(イ)から1つ選び答えなさい。
- (ア) 黄巾の乱 (イ) 紅巾の乱 (ウ) 太平天国の乱
- 問18 下線(m)の政策に関する適切な説明を(ア)～(イ)から1つ選び答えなさい。
- (ア) ジュンガルを滅ぼし、東トルキスタンを占領し、これを新領と名づけた。
  - (イ) モンゴル高原に遠征し、元のクビライと戦った。
  - (ウ) ムスリムの宦官鄭和に命じ、インド洋からアフリカ沿岸まで数回の遠征をおこなわせた。

世

2 次のA、B、C、Dの文章を読んで、下の問いに答えなさい。  
運河は、鉄道網が発達するまでは古今東西重要な物資の運搬やさまざまな役割を果たしていた。この問題では中国の運河、ヨーロッパの運河、スエズ運河について取り上げたい。

A 6世紀末の中国では、長い分裂の時代を経た隋王朝の楊堅(文帝)が全国の統一に成功した。文帝は北朝の政策を受け継いで律令を定め、土地制度では(1)制、税制では(2)制を確立し、軍の制度では農民を兵士とする(3)制を行うなど、支配の強化につとめた。また官吏登用では九品中正に変わり、儒学試験によって官吏を選ぶ(4)を始めた。文帝は、大運河の建設にも着手した。中国の運河は、すでに春秋・戦国時代から部分的に開かれていた。さらに第2代の(5)は、北方の政治・軍事の要地の(6)と南朝によって経済や文化の発展が図られてきた地域の(7)を結ぶ大運河を完成させた。この大運河は重要な輸送路となり、南北間の物流を容易にした。しかし、運河工事に従事した農民は疲弊し、3度にわたる高句麗遠征の失敗をきっかけに、各地に反乱が起り隋王朝は統一後30年足らずで滅んだ。

- 問1 文中の空欄(1)～(3)に適する語の組合せで、正しいものを(ア)～(イ)から1つ選び答えなさい。
- (ア) 均田制 (1) 租・庸・調 (2) 府兵 (3) 均田
  - (イ) 均田制 (1) 府兵 (2) 均田 (3) 租・庸・調
  - (ウ) 均田制 (1) 均田 (2) 租・庸・調 (3) 府兵
- 問2 文中の空欄(4)に適する語を答えなさい。(漢字2字)
- 問3 文中の空欄(5)に適する人物を(ア)～(イ)から1つ選び答えなさい。
- (ア) 始皇帝 (イ) 煬帝 (ウ) 玄宗
- 問4 文中の空欄(6)、(7)に適する語の組合せの正しいものを(ア)～(イ)から1つ選び答えなさい。
- (ア) 華北 (6) 華北 (7) 西域 (イ) 華北 (6) 華北 (7) 西域
  - (イ) 華北 (6) 華北 (7) 江南 (ウ) 華北 (6) 華北 (7) 江南


世

問4 下線(a)に関して、ギリシャの神々であるオリポス12神の適切な説明を(ア)～(イ)から1つ選び答えなさい。

- (ア) 太陽神ラーを主神として、その妻アテナや大地の神ポセイドンなど多彩である。
- (イ) ギリシア人は人間中心的文化を生み出したが、神々も人間と同じ姿や感情をもった。
- (ウ) 古代ギリシアでは理性を絶対視し、理性の光を神として合理主義が発達した。

- 問5 文中の空欄(あ)に入る人物名を答えなさい。
- 問6 下線(a)に関して、適切な説明を(ア)～(イ)から1つ選び答えなさい。
- (ア) 最高議決機関であり、18歳以上の成年男性市民全員で構成された。
  - (イ) 最高議決機関であり、18歳以上の成年男性だけでなく女性や奴隷も参加した。
  - (ウ) 最高議決機関であり、血統でなく財産額の大小で市民の政治参加が決まった。
- 問7 下線(b)に関して、アテナ民主政の基礎を確立したクレイステネスの政策であるオストラクシモスについての適切な説明を(ア)～(イ)から1つ選び答えなさい。
- (ア) 法律を成文化し、分かりやすくした。
  - (イ) 奴隷も含めてすべての市民が政治に参加できるようにした。
  - (ウ) 市民の投票によって爵主の出現を防止する制度をなした。

B班



1983年ユネスコ世界遺産に登録

この建造物はタージ=マハルと呼ばれます。インドの北部アグラにあり、白大理石で造られています。ユネスコ世界遺産の登録理由には「人類の創造的才能を表現する傑作」とあります。この時代、インドはムガル帝国が支配したイスラム国家でした。第3代皇帝アクバルから第6代皇帝(い)までが最盛期でした。タージ=マハルを建てたのは第5代皇帝のシャー=ジャハーンです。インド=イスラム文化の黄金時代を築きました。ムガル帝国はイスラム国家であったためインドの多数を占める(う)教徒の対策が重要でした。アクバル皇帝は非イスラム教徒に課した税金(え)を廃止し、(う)教徒との融和をはかり支配の

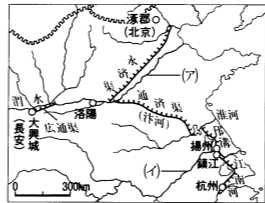
世

基盤を固めました。しかし、第6代皇帝(い)の時代になると、税金(え)を復活するなど(う)教徒の反発をまねき、(い)が死去するとムガル帝国は解体に向かいました。

- 問8 下線(a)に関して、ムガル帝国を建国した初代皇帝を(ア)～(イ)から1つ選び答えなさい。
- (ア) スレイマン1世 (イ) ティムール (ウ) バーブル
- 問9 文中の空欄(い)に入る人物名を(ア)～(イ)から1つ選び答えなさい。
- (ア) ナーナク (イ) アウラングゼーブ (ウ) ラージプート
- 問10 下線(b)に関して、タージ=マハルの建設理由についての適切な説明を(ア)～(イ)から1つ選び答えなさい。
- (ア) シャー=ジャハーンの後ムムターズ=マハルのために建てた墓廟
  - (イ) ムガル帝国の政務を扱った宮殿
  - (ウ) シク教徒の聖地の宮殿
- 問11 文中の空欄(う)に入る通語を答えなさい。
- 問12 文中の空欄(え)に入る通語を(ア)～(イ)から1つ選び答えなさい。
- (ア) 交戦 (イ) カピチュレーション (ウ) 人頭税(ジズヤ)
- 問13 下線(i)の頃、17世紀から18世紀にかけてのインドの状況についての適切な説明を(ア)～(イ)から1つ選び答えなさい。
- (ア) 南インドを中心にシバーヒーの反乱が起こり、ムガル帝国は滅亡した。
  - (イ) ロシアは中央アジアに南下し、インドのガージャール朝を破り新たな領土を獲得した。
  - (ウ) インドの各地に独立政権が生まれ、またイギリスやフランスがインド各地に拠点を築いた。

世

問5 下線部(a)に関連して、下の地図は隋代の運河の図である。運河建設により中国の二大河川の流通路はつながった。地図中の(ア)～(イ)の河川名を答えなさい。



- B 隋を倒した唐王朝は、隋の都大興城を(長安)と改め唐の都とした。第3代高宗の時代には、ユーラシア大陸東部の大部分を支配する大帝国になった。都の(長安)は人口100万人(70万人説もあり)をこえる国際都市に発展した。(長安)、洛陽の食糧事情を安定化させることができたのは、大運河による物資の輸送能力によるところが大きかった。12世紀に入り、金と南宋が対立すると中国全土の経済圏は分断され、大運河の流通も激減し整備もされなくなった。元が中国を征服すると、都の大都に膨大な物資を効率よく運ぶために(7)地方と直接結ぶ南北を縦断する運河を建設した。この新しいルートは、国内における大都の重要性を高めることになった。明代に入り、再び運河の重要性が増した。明は海禁策をとっていたため、再び内陸水運が見直された。明・清代においては、大運河を維持することが、国都にとって重要な意味をもっていた。

- 問6 下線部(b)に関連して、8世紀中ごろから西アジアを支配したアッバース朝の首都も最盛期の人口が100万人をこえていたといわれる。この首都を(ア)～(イ)から1つ選び答えなさい。
- (ア) カイロ (イ) バグダード (ウ) トゥール
- 問7 下線部(c)に関連して、金と南宋の対立に関して誤りのある文を(ア)～(イ)から1つ選び答えなさい。
- (ア) 金は、騎馬遊牧民の匈奴が中国東北地方に建てた王朝である。
  - (イ) 南宋は、金に臣下の礼をとって毎年銀や絹を贈る和議を結んだ。
  - (ウ) 南宋は、都を臨安(現在の杭州)に定めた。

世

問8 下線部(d)に関連して、元の時代(1271～1368年)にヨーロッパで起こっていた出来事を(ア)～(イ)から1つ選び答えなさい。

- (ア) 黒死病(ペスト)が流行し、人口が激減した。
- (イ) 教皇ウルバヌス2世が、クレルモン宗教会議で聖地奪還を提唱した。
- (ウ) イギリスとフランスの百年戦争が終わった。

C ヨーロッパの運河は、12世紀頃から北イタリアで始まったといわれているが、17世紀以降ヨーロッパ大陸西部でさかんに建設されるようになった。特にフランスで17世紀後半のルイ14世の時代に、国内のみで大西洋から地中海までを結ぶ運河を完成させている。イギリスでは、海洋や河川を使った水運が古くから盛んであったが、運河建設ではフランスより遅れた。1760年代の産業革命の開始とともにその主要因である鉄(鉄鉱石)や燃料の(9)の運搬など物資の大規模輸送の必要性が高まることで各地で運河建設が進み、運河による大量の物流は初期産業革命をささえる原動力になった。イギリスの産業革命は、マンチェスターを中心とするランカシャー地方の(10)工業の技術革新から始まった。(10)は17世紀以降東インド会社がインドから大量に輸入し、爆発的な人気を得ていた。この人気を背景に飛び評判が(10)工業に転用されると、織機や紡績機の改良がいつぎ生産力が高まっていた。

- 問9 下線部(e)に関して、ルイ14世の治世に関して誤りのある文を(ア)～(イ)から1つ選び答えなさい。
- (ア) 王権神授説に基づき「朕は国家なり」と唱えた。
  - (イ) 王が造営したヴェルサイユ宮殿はヨーロッパ文化の中心になった。
  - (ウ) 農民保護や宗教寛容を図るなど典型的な啓蒙専制君主になった。
- 問10 文中の空欄(9)に適する語を答えなさい。
- 問11 文中の空欄(10)に適する語を(ア)～(イ)から1つ選び答えなさい。
- (ア) 毛織物 (イ) 綿織物 (ウ) 麻

D 18世紀末、ナポレオンが率いるフランス軍がエジプトを一時占領した。これはフランスが、イギリスと(11)との通商路を絶つためにエジプトに遠征した為である。エジプトの支配をめぐってもフランスとイギリスは対立していた。フランス人レセブスはフランス皇帝ナポレオン3世の支援を受けて、1869年にスエズ運河を完成させた。これによって地中海とインド洋が結ばれ、エジプトの戦略的な重要性がさらに増した。スエズ運河株式会社は、フランス政府とエジプト政府が所有したが、エジプトは財政危機に陥っていた。1875年

世

イギリスがエジプト政府から株式を購入したことで、スエズ運河の支配権はイギリスに移った。さらにイギリスは、ウラビー運動を鎮圧し1882年にエジプトを事実上の保護国とした。1884年～1885年のベルリン会議で、占領国の優先的な領有権が認められてから列強の帝国主義的支配はアフリカ大陸の内部にまでおよんだ。1890年代に入ると、ドイツのヴィルヘルム2世が「世界政策」を掲げて建艦競争を繰り返すなど、イギリスの覇権的地位に挑戦した。イギリスは「栄光ある孤立」を捨て、1902年に日英同盟、1904年に(12)協定を結びドイツに対抗しようとした。フランスもビスマルク体制による国際的孤立から抜け出し、ドイツに対抗した。ヨーロッパ列強は二つの陣営に分かれて争うようになり、やがておきる第一次世界大戦の遠因になった。

問12 下線部(イ)に関連して、ナポレオンの治世に**関係がない事象**を(ア)～(エ)から1つ選び答えなさい。  
(ア) 大陸封鎖令 (イ) 第二共和政 (ウ) ロシア遠征

問13 文中の空欄(11)に適する国名を答えなさい。

問14 下線部(ウ)に関連して、ナポレオン3世の治世に関する出来事で**誤りのある文**を(ア)～(エ)から1つ選び答えなさい。  
(ア) 帝国議会で鉄血演説を行った。  
(イ) ドイツ＝フランス(普仏)戦争をおこし、皇帝みずからが捕虜になった。  
(ウ) クリミア戦争やイタリア統一戦争に介入した。

問15 下線部(ウ)に関連して、イギリスのアフリカ植民地政策に関して**誤りのある文**を(ア)～(エ)から1つ選び答えなさい。  
(ア) 南アフリカ(南ア、ブール)戦争をおこした。  
(イ) フランスの大陸横断政策と衝突してファショダ事件をおこした。  
(ウ) 2度わたるモロッコ事件をおこした。

問16 文中の空欄(12)に適する語を答えなさい。

世

3 次のA、B、C、Dの文章を読んで、下の各問いに答えなさい。  
「アメリカ第一主義」という政策が世界中に色々な影響を与えている。20世紀以来の世界はアメリカを中心に動いてきた。この問題ではアメリカ合衆国の成立経過や、外交政策などについて取り上げた。

A イギリスは、16世紀よりアメリカの植民地のにりだし、1607年にはジェームズタウンの建設に成功したが、これがイギリス初のアメリカ植民地になった。以後植民地は次々に建設され、1730年代までに北アメリカ東海岸に南北に並ぶかたちでイギリスの(1)の植民地が形成された。フランスは17世紀末、カナダにケベック植民地を建設したあと、ルイ14世の時代に(2)植民地を建設した。**英仏は、18世紀に数回の植民地戦争を繰り返した。**フレンチ＝インディアン戦争では、イギリスが最終的に勝利をおさめた。七年戦争後、フランス勢力を排除した本国政府は、植民地に対する統制を強化し始めた。植民地の抵抗を一律に高めたのが1765年の(3)法であった。植民地人は「(4)なくして課税なし」を合言葉に抵抗し、この法律を撤回させた。1773年には、**英法に対する住民の怒りが「(5)茶会事件」**を起し、本国と植民地の対立はいよいよ激化した。1775年、イギリス軍と植民地軍の武力衝突によってアメリカ独立戦争が始まった。

問1 文中の空欄(1)に適する数字を(ア)～(エ)から1つ選び答えなさい。  
(ア) 13 (イ) 23 (ウ) 33


問2 文中の空欄(2)に適する語を(ア)～(エ)から1つ選び答えなさい。  
(ア) ヴァージニア (イ) ルイジアナ (ウ) フロリダ

問3 下線部(ウ)に関連して、インドでの戦いを(ア)～(エ)から1つ選び答えなさい。  
(ア) サラミスの海戦 (イ) プラッシーの戦い (ウ) レヒフェルトの戦い

問4 文中の空欄(3)に適する語を(ア)～(エ)から1つ選び答えなさい。  
(ア) 穀物 (イ) 統一 (ウ) 印紙

問5 文中の空欄(4)に適する語を答えなさい。(漢字2字)

問6 下線部(ウ)に関して、右の絵は「(5)茶会事件」を描いた絵である。(5)に適する語を(ア)～(エ)から1つ選び答えなさい。  
(ア) ワシントン (イ) ポストン  
(ウ) フィラデルフィア



世

とよまれた。大戦後、債務国から債権国に転じたアメリカは、これまでの(12)に代わって世界経済の中心的存在になった。

問15 文中の空欄(11)に適する語を(ア)～(エ)から1つ選び答えなさい。  
(ア) 宥和 (イ) 国際協調 (ウ) 孤立

問16 下線部(イ)に関して、(11)主義の外交政策は、第5代大統領が1823年の年次教書で相互不干渉となえた(A)宣言に基づくものである。(A)に適する語を答えなさい。

問17 下線部(ウ)に関連し、**誤りのある文**を(ア)～(エ)から1つ選び答えなさい。  
(ア) ドイツをはじめとする敗戦国は、加盟が認められなかった。  
(イ) アメリカ合衆国は(11)主義が強まったため参加しなかった。  
(ウ) ソヴィエト＝ロシアの参加は認められた。

問18 文中の空欄(12)に適する国名を答えなさい。

世

4 世界の三大宗教は仏教、キリスト教、イスラーム教であるといわれます。ある高校の世界史探究授業で、三大宗教を三班に分かれて調べ、レポートとして提出することになりました。レポートの課題はそれぞれの宗教の始まりを中心に項目ごとにもまとめるものでした。

(1)いつ頃、どこで(2)誰がおこしたのか(3)宗教の内容(特徴) (4)どのような時代か (5)どのようにしてその宗教は広まったのか

A班は仏教、B班はキリスト教、C班はイスラーム教を調べ提出した。各レポートの後の問いに答えなさい。

A班 (1) 前6世紀(あ)川の中・下流域に都市国家がいくつも生まれ、その中からコーサラ国つづいてマガダ国が有力になった。**仏教はこの地で誕生した。**(2) ネパールのシャカ族王子ガウタマ＝シッダールタが仏教をおこす。尊称はブツダ。「悟った者」という意味であった。(3) すべての人間は平等であるとし、**ヴァルナ制を否定した**。生きることは苦であるとして無常観を説き、真理を悟り、八正道と呼ばれる正しい修行を行うことによって「生老病死」の苦しみから逃れるとした。(4) (あ)川の中・下流域にアーリヤ人が進出し**農業生産力が拡大する**と商業も活発になり、都市国家が生まれ社会が大きく変化化した。クシャトリアやヴァイシャの勢力が強くなった。(5) 前4世紀末にマウリヤ朝が建立され、最盛期は(い)王の時代だった。(い)王はたび重なる戦争の悲惨さを思い、仏教への傾依を深め仏典編集やセイロン島(スリランカ)へ布教を行った。マウリヤ朝が衰退すると、西北インドにギリシヤ人やイラン人が侵入してきた。この地域では中国、イラン、インドを結び、交易が盛んで国際色豊かな文化が栄えた。2世紀半ばのクシャーナ朝最盛期のカニシカ王も仏教を保護した。カニシカ王が保護した大乘仏教は**仏教美術**とともに東西交易路のついで中央アジアから東アジアに広がった。

問1 文中の空欄(あ)に入る通語を答えなさい。  
問2 下線(ウ)の仏教がおこった場所を設問の最後に掲載した地図P.17のA～Eから1つ選び答えなさい。

世

B 植民地側は、1776年に独立宣言を発し、翌1777年にはアメリカ合衆国と名乗った。独立軍は最初苦戦したが、フランス・スペインが参戦。またロシアの女帝(6)の提督で武装中立同盟がつくられ、イギリスは国際的に孤立した。1781年、ヨークタウンで大陸軍とフランス軍はイギリス軍を包囲し降伏させた。戦争は事実上、植民地側の勝利というかたちで終結した。1783年、植民地側と本国との間にパリ条約が締結され、アメリカ合衆国は独立を承認されたばかりでなく、(1)の植民地を上回るミシシッピ～川以東の広大な土地を割譲された。アメリカ合衆国は独立後、1803年フランスから(2)植民地の買収に成功して領土を倍増し、西部への領土拡張の基礎になった。1845年テキサスの併合に成功すると、西部開拓に関して「神から与えられた明白な運命(天命)」であるとなえて領土拡大を正当化した。1846年にオレゴン併合、1848年メキシコと戦ってカリフォルニアを獲得した。アメリカ合衆国は、1840年代をピークにわずか半世紀間で太平洋に達するにいたった。西部開拓の歴史は先住民(原住アメリカ人)にとって、資源の乏しい保留地に押しやられ、人口が激減していく迫害の歴史でもあった。

問7 文中の空欄(6)に適する人物を(ア)～(エ)から1つ選び答えなさい。  
(ア) エリザベス1世 (イ) マリア＝テレジア (ウ) エカチェリーナ2世

問8 下線部(ウ)に関して、この時フランスを統治していた政府の名称を(ア)～(エ)から1つ選び答えなさい。  
(ア) 国民公会 (イ) 統領政府 (ウ) 総裁政府

問9 下線部(ウ)に関して、この年に人口が数百人であったこの地にある鉱石が発見され、以後カリフォルニアの歴史は激変していった。発見された鉱石を(ア)～(エ)から1つ選び答えなさい。  
(ア) 金 (イ) 銀 (ウ) 銅 (エ) 鉄

C アメリカ合衆国の西方への拡大とともに、1820年のミズーリ協定、1854年のカンザス・ネブラスカ法の制定など奴隷制度をめぐる南北の対立は激化した。南部と北部は、経済的構造の相違からも次第に対立するようになっていった。南部諸州は、(7)貿易政策と奴隷制度の存続、集権の強化を求めた。これに対して北部は、(8)貿易政策と連邦政府の権限強化を求め、奴隷制度の拡大に反対する声が強かった。1860年、共和党のリンカンが大統領に選出されると南部7州はアメリカ連合国(南部連合)を発足させて、ここにアメリカ合衆国は分裂した。しかし、リンカンは南部の離脱は認めず南北戦争が勃発した。1865年、北部が南部の首都リッチモンドを占領して南部を降伏させ、アメリカ合衆国は再び統一された。戦後、連邦軍が南部を改革する再建の時代が始まった。19世紀末には、アメリカはイギリスやドイツを抜いて世界最大の工業国になった。アメリカの工業発展を支えたのは、急速に成長する独占企業と(9)であった。1890年代に内陸のフロンティアが消滅したこともあり、国内に海外進出を求める声が高まった。キュー

世

バの独立運動に介入して、1888年アメリカ(10)戦争を起し、勝利してカリブ海や太平洋地域に植民地を獲得した。さらに1899年には、国務長官ジョン＝ヘイの名で中国での「門戸開放を提唱し、中国市場への進出を図った。

問10 文中の空欄(7)、(8)に適する語を(ア)～(エ)から1つ選び答えなさい。  
(ア) 重商 (イ) 重農 (ウ) 自由 (エ) 保護

問11 文中の空欄(9)に適する文言を(ア)～(エ)から1つ選び答えなさい。  
(ア) インド植民地の存在 (イ) 大量に到来した移民 (ウ) 銀の大量保有

問12 文中の空欄(10)に適する語を(ア)～(エ)から1つ選び答えなさい。  
(ア) オランダ (イ) スペイン (ウ) イタリア

問13 下線部(ウ)に関して、太平洋地域で獲得した植民地を(ア)～(エ)から1つ選び答えなさい。  
(ア) フィリピン (イ) オーストリア (ウ) ニューゼーランド

問14 下線部(ウ)に関して、下の風刺画は20世紀はじめ、セオドア＝ローズベルト大統領が中南米諸国に干渉したカリブ海政策を風刺したものである。軍勢力を背景としたこの外交政策は何といわれているか。(ア)～(エ)から1つ選び答えなさい。  
(ア) 棍棒外交 (イ) 東方外交 (ウ) 善隣外交



D 第一次世界大戦は、1914年7月に始まった。日本は日英同盟を理由に連合国に加わったが、アメリカは西歐諸国との相互不介入を原則とする(11)主義の外交政策を守り、大戦発端当初は中立を表明した。その一方、イギリス・フランス・ロシアにはさかんに武器や物資を援助し、実質的には連合国を支援している状態であった。1917年2月、ドイツが無制限潜水艦作戦を開始すると自国民保護のために連合国側に参戦した。この参戦により戦局は連合国側に大いに有利となり、1918年に第一次世界大戦は終わった。戦後、ウィルソン大統領の「十四か条」やヴェルサイユ条約に基づいて史上初の国際平和機構である国際連盟が1920年に創設された。パリ講和会議を通して成立したヨーロッパの新しい国際秩序は、ヴェルサイユ体制

世

問3 下線(ウ)に関して、適切な説明を(ア)～(エ)から1つ選び答えなさい。  
(ア) 身分の上下のない平等の概念  
(イ) パラモンが神々の賛歌や儀礼を記した聖典  
(ウ) 身分的な上下の概念で、のちのジャーティ(カースト)制度の基礎となる。

問4 下線(ウ)に関して、農業生産力を拡大させた農作物を(ア)～(エ)から1つ選び答えなさい。  
(ア) 小麦 (イ) 稲 (ウ) ジャガイモ (エ) トウモロコシ

問5 文中の空欄(い)に入る通語を(ア)～(エ)から1つ選び答えなさい。  
(ア) アショーカ (イ) ナーガールジュナ (ウ) チャンドラグプタ

問6 下線(ウ)の仏教美術ではヘレニズム文化の影響もあって仏像がつくられた。西北インドで発展したこの仏教美術の名称を答えなさい。

B班 (1) 1世紀にローマ帝国支配下のパレスチナでキリスト教は誕生した。  
(2) イエスがキリスト教をおこした。  
30才前後に宣教師活動を開始する。ユダヤ教の祭司やパリサイ派の人々によって反逆者として訴えられ、(う)にはりつけの刑に処せられた。  
(3) ユダヤ教の祭司やパリサイ派を形式主義者として批判し、貧富の区別なくおよぼされる神の絶対愛と隣人愛を説き、神の国の到来を約束した。  
(4) ローマは「**内乱の1世紀**」をしずめ、前27年にオクタウィアヌスが元老院からアウグストゥスの称号を与えられ、事実上の皇帝独裁となり帝政時代が始まった。パレスチナではユダヤ人がローマの支配に苦しんでいた。  
(5) イエスの処刑後、弟子たちはイエスが復活しその死は人間の罪をあがなう行為であったと信じた。この信仰を中心にキリスト教が成立した。3世紀頃までに、キリスト教は主に奴隷・女性・下層市民など社会的弱者に広がり、やがて上層市民にも信仰が広がった。だが、キリスト教はローマ帝国によって激しく迫害された。それでもキリスト教は増え、ついにコンスタンティヌス帝は313年(え)勅令でキリスト教を公認した。

問7 下線(ウ)の場所を設問の最後に掲載した地図P.17のA～Eから1つ選び答えなさい。  
問8 文中の空欄(う)に入る通語を答えなさい。

問9 下線(イ)に関する適切な説明を(ア)～(エ)から1つ選び答えなさい。  
(ア) カエサルがガリア遠征からバントの海戦まで  
(イ) 十二表法からホルテンシウス法が制定されるまで  
(ウ) グラクス兄弟の改革から元首政(プリンキパトゥス)まで

世

問10 下線(ウ)に関して、イエスの弟子の筆頭で、のちにローマ＝カトリック教会から初代教皇とされた弟子を(ア)～(エ)から1つ選び答えなさい。  
(ア) ペテロ (イ) ナザレ (ウ) レオ14世

問11 下線(ウ)に関する適切な説明を(ア)～(エ)から1つ選び答えなさい。  
(ア) キリスト教徒はゲルマン民族と組んでローマ帝国を攻撃した。  
(イ) キリスト教徒は皇帝礼拝を拒み、そのため反社会集団とみなされた。  
(ウ) キリスト教会が教会大分裂(大シスマ)をおこし混乱した。

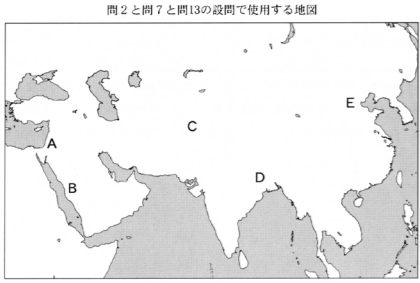
問12 文中の空欄(え)に入る通語を(ア)～(エ)から1つ選び答えなさい。  
(ア) ローマ (イ) ナポリ (ウ) ミラノ

C班 (1) 7世紀前半に西アジアのアラビア半島のメッカでイスラーム教は誕生した。  
(2) メッカの商人ムハンマドがイスラーム教をおこす。  
(3) ムハンマドはみずからを唯一神アッラーの言葉を受けられた預言者であると考え、周囲の人々にアッラーへの**イスラームを説いた**。  
(4) 西アジアではビザンツ帝国とペルシアが勢力を競っていた。アラビア半島では遊牧民やオアシス農民が多くの人々に分かれて互いに争い離合集散を繰り返していた。  
(5) ムハンマドの教えはメッカの大商人から迫害を受けた。**そのためムハンマドは622年メディナに移住し、イスラーム教徒の宗教共同体(ウママ)を設立した**。しだいに信者を増やし、630年にメッカを征服し、多くのアラブ諸部族に従うようになった。  
ムハンマドの死後、アブー＝バクルがアッラーへの使徒の後継者を名乗ってウママの最高指導者の地位を継いだ。諸部族は離反の動きをおこした。このため彼はアラビア半島の外への征服活動を開始し、**イスラーム教の世界は大きく広がった**。

問13 下線(イ)の場所を設問の最後に掲載した地図P.17のA～Eから1つ選び答えなさい。  
問14 下線(イ)イスラームという言葉の意味について、適切な説明を(ア)～(エ)から1つ選び答えなさい。  
(ア) 「自分のすべてを神に委ねる」ことを意味するアラビア語  
(イ) ラテン語で隣人愛という意味  
(ウ) サンスクリット語で衆生の救済という意味

世

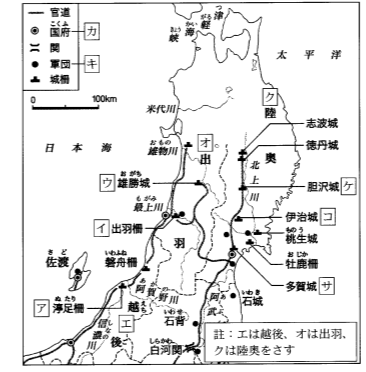
- 問15 下線(a)に関する適切な説明を(ア)～(イ)から1つ選び答えなさい。  
 (ア) テオドシウス帝死後ローマ帝国は東西に分裂し、西ローマ帝国とも呼ばれた。  
 (イ) コンスタンティノブルを首都とし、1453年オスマン帝国に滅ぼされた。  
 (ウ) カラカラ帝は帝国領内の全自由人に市民権を与えた。
- 問16 下線(1)の移住は何と呼ばれるか、(ウ)～(イ)から1つ選び答えなさい。  
 (ウ) コーラン (イ) ムスリム (ウ) ヒジュラ
- 問17 下線(甲)に関して、アブー＝バクルから4代続いたムスリムの選挙で選ばれた後継者は何と呼ばれるか、(ウ)～(イ)から1つ選び答えなさい。  
 (ウ) カリフ (イ) シャリーア (ウ) アター
- 問18 下線(ロ)の征服地の政策に関して適切な説明を(ウ)～(イ)から1つ選び答えなさい。  
 (ウ) イスラーム教への改宗を強制した。  
 (イ) 税金は課したが、イスラーム教への改宗は強制しなかった。  
 (ウ) イスラーム教以外の宗教は弾圧した。



## 令和8年度 一般選抜(3教科型)問題 日本史探究

日

問5 空欄( A )～( C )に入る語句を下図Ⅱ中の選択肢ア～サから選び記号で答えなさい。なお、図Ⅱにおいて、選択記号の工は越後、オは出羽、クは陸奥を指す。



- 問6 下線部(ロ)に関して、聖武天皇は藤原広嗣が九州で反乱を起こしたこともあり、遷都を行った。聖武天皇の時代に遷都された地として誤っているものをひとつ選び記号で答えなさい。  
 ア、藤原京 イ、長岡京 ウ、難波宮 エ、紫香茅宮
- 問7 空欄【 甲 】には聖武天皇が大仏造立や国分寺建立をすすめた理由が入る。その理由を、「鎮護国家」「仏教」の語を使って解答欄に叙述しなさい。

日

2 次に示す史料と会話を読んで、下の設問に答えなさい。

【史料1】  
 一 諸国守護人奉行の事。  
 右、右大臣家(注1)の御時定め置かるゝ所は、大番(注2)・御役・御役人(注3)付けたり、夜討・強盗・山賊・海賊等の事なり。  
 一 諸国地頭、年貢所(注4)を御座せしむる事。  
 右、年貢を抑留するの由、本所(注5)の訴訟有らば、即ち結解(注6)を遂げ御座を請くべし(注7)。  
 一 御下文(注8)を帯すと雖も短行(注9)せしめず、年序(注10)を経る所領の事。  
 右、当知(注11)行の後、廿ヶ年を過ぎば、大侍家の例に任せて理非を論せず改替に罷はず。  
 一 女人養子の事。  
 右、法意の如くば(注12)これを許さずと雖も、大侍家御時以来(注13)當世に至るまで、其の子無きの女人等、所領を養子に譲り与ふる事、不易の法(注14)御許すべからず(注15)。

(注1) 年貢に同じ。(注2) 荘園領主。(注3) 洗算。(注4) 監査を受けよ。(注5) 幕府が出す本領安堵・新恩給との下文。(注6) 事実上の支配。(注7) 相当期間の年数。(注8) 律令に従って。(注9) 後世にからぬ法。(注10) 敷え切れぬ。

【史料2】  
 さてこの式目をつくれ候事は、なにを本説(注10)として注し載せるゝの由、人(注12)さだめて傍観を加ふる事候か。ま事にさせる本文(注13)にすぎりたる事候はねども、たゞどりのおすところを記され候者也。……この式目は只かなをされる物の世間におほく候ごとく、……武家の人へのはらひのためばかりに候。これによりて、京都の御沙汰、律令のおきて、御もあらたまるべきにあらず候也。

(注11) 根拠。(注12) 朝廷の人々。(注13) 漢籍などで典拠となった文章。

【会話文】  
 太郎：執権( ① )の時に出来た史料1は初めての武家法典だが、これを読んでいくと、承久の乱後、幕府が御家人の政権として発展の時期を迎えていた当時の政治の状況がうかがえるね。御家人による合議で政治や裁判が行われるようになったんだ。

花子：史料2には、史料1を制定した趣旨が書かれているね。史料1には「右大臣家(注1)の御時定め置かるゝ所は」「大侍家の例に任せて」「大侍家御時以来」などの表現があり、「右大臣家」以来の先例にもとづいて定められた法典であることがわかる。また、史料2からはもう一つの特徴である武家社会の慣習(注10)がわかる。

日本史探究

1 次の文章を読んで、下の設問に答えなさい。

710年、元明天皇は平城京へと遷都し、奈良時代が始まった。平城京は( ① )の都長安にならぬ、基盤の目状に東西・南北に走る道路で区画される都市であった。左京・右京には官署の市が設けられた。708年、武蔵国から銅が献上されると、政府は年貢を和銅と改め、富本銭に変わる新しい銭貨として( ② )を鑄造して流通をめざした。中央と地方とを結ぶ交通制度としては、都を囲む内を以て官道が整備され、駅制が敷かれた。国には、中央から派遣された国司が政治をおこなう拠点として( A )が設けられた。律令国家では東北地方に住む人々を( ③ )、九州南部の人々を卑人と呼び、異民族として服従させ、支配地を拡大していった。8世紀になると、日本海側には712年に( B )国がおかれ、太平洋側には724年に( C )が築かれて鎮守府がおかれ、東北地方の政治や( ④ )対策の拠点となった。

8世紀の初めは、皇族や中央の有力貴族間で勢力が比較的均衡に保たれていたが、やがて藤原氏が進出してきた。大宝律令の制定にも関わった( ④ )は、娘の宮子を文武天皇に嫁がせ、その子の皇太子(のち聖武天皇)にも娘の( ⑤ )を嫁がせて天皇家と密接な関係を築いた。( ④ )が死去すると、皇族の( ⑥ )が政権を握ったが、( ④ )の子の武智麻呂・房前・宇合・麻呂の4兄弟の策謀によって自殺させられた。これにより、( ⑤ )は人臣として初めて皇后に立てられた。しかし、737年に流行した天然痘によって4兄弟はあいついで病死し、かわって皇族出身の橘諸兄が政権を握った。当時の政治情勢や制度や疫病などの社会的不安のなかで、聖武天皇は、741年に国分寺建立の詔、743年に大仏造立の詔を出した。それは、【 甲 】、聖武天皇の娘である孝謙天皇の時代には、( ⑦ )が光明皇太后と結んで政界で勢力をのぼし、患安押勝の名を賜って権力を独占した。光明皇太后の死後、孝謙太上天皇は僧道鏡を寵愛して淳仁天皇と対立し、押勝は滅ぼされた。称徳天皇(孝謙太上天皇の重祚)が亡くなり、道鏡が退けられると、藤原百川が光仁天皇を立てて国家財政の再建を目指した。

問1 空欄( ① )～( ⑦ )に入る最も適切な語句を答えなさい。なお、( ④ ) ( ⑥ ) ( ⑦ )については下の図Ⅰ中に氏名が示されているので参考にして解答すること。

問2 下線部(ロ)に関して、このように基盤の目状に土地を区画する制度を何とよぶか、図1を参考に答えなさい。

問3 下線部(ハ)に関して、下の図Ⅰの中にある空欄X、Yには左京・右京を示す語が入る。正しい組み合わせを選び記号で答えなさい。  
 ア、X：右 Y：左 イ、X：左 Y：右

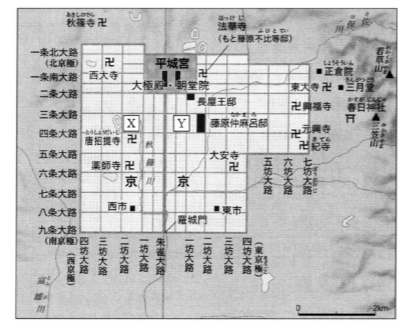


図1 平城京

- 問4 下線部(ロ)に関して、国司について述べた下の文章のうち、誤っているものをひとつ選び記号で答えなさい。  
 ア、国司は任期のない官職で、奈良時代にはそのまま土着するものが多かった。  
 イ、国司の幹部職員は4等級に別れていて、最上位は守とされ「かみ」とよぶ。  
 ウ、国司は、旧国造らの在地豪族を都司として、郡の民政・裁判を担当させた。

日

日

や道徳にもとづいて定められていることもわかる。

次郎：史料1・2には、【 甲 】ことが書かれているね。

太郎：所領に関する条文が多く見られるのは、頼朝北条時頼の時に( ② )が任命されたことからわかるね。御家人たちの所領に関する訴訟を専門に担当させ、迅速で公正な裁判の確立につとめたんだね。

花子：史料2には史料1が出されるにあたって、京都に対する配慮も読み取れるね。  
 太郎：ところで、当時の武士の所領支配にはどのような特徴があったんだろうか。

次郎：鎌倉時代の武士たちは、交通に便利な小高い場所に防衛施設をも備えた( A )をかまえ、その周辺部には( B )などとよばれる直営地があり、隸属農民に耕作させていた。また、どの( A )にも広い馬場があり、武芸の鍛錬を行っていたと教科書には書いてある。

花子：本領安堵や新恩給身などを中心とする符券が御家人に与える( ③ )にたいして、御家人が頼る奉公のための組織だね。ところで、武士たちの一族の間隔はどうなっているかな。

太郎：この時代の武士は、血縁によって一族が団結し、一族の長である( ④ )を中心に武士団を組織していたようだ。( ④ )は所領の大部分を相続し、氏神や祖先をまつり、一族の構成員である庶子を統率して幕府への奉公を行っていたんだ。

次郎：所領の相続に関する決まりは史料1にも出ているけれど、庶子も含めて( C )相続するのが建て前だったんだ。こういう一族のあり方を( ④ )制と呼んでいるね。

花子：( C )相続が続くと、武士一人あたりの所領も少なくなるから、絶えざる戦争で新たな所領の獲得が必要だったんだ。13世紀後半の( D )では、御家人たちが奉公に励んだけれど、軍役の負担にたいして、防衛戦争であったため領地の獲得はなく、御家人が窮乏化していった。これは、幕府にとって危ないことだったね。もうひとつ窮乏化の原因として、貨幣経済の進展に巻き込まれて借財を重ね、所領を失う武士も少なくなかった。

太郎：中国から流入した( E )が年貢の銭納にも利用されるようになっていたね。御家人のなかには所領を質入れたり売却するものもあらわれ、幕府はそれらの所領を無償で返還させる( F )を1297(永仁5)年にだしたんだ。でも、むしろ御家人への金融の道を閉ざすことになり、効果はあまりなかったようだった。

次郎：この頃には、御家人のなかには、御内人や北条氏一門が幕政を主導する( G )専制体制にたいする不満も高まってきていて、鎌倉幕府は急速に弱体化が進んだと言えるんだね。

- 問1 史料1の法典を何とよぶか答えなさい。
- 問2 下線部(ロ)の人物として、正しいものをひとつ選び記号で答えなさい。  
 ア、源頼朝 イ、源頼朝 ウ、北条時宗 エ、北条義時
- 問3 下線部(ハ)は守護の基本的権限である。これを総称して何とよぶか答えなさい。

日

問4 会話文中の空欄( ① )に入る人物として、正しいものをひとつ選び記号で答えなさい。  
 ア、北条泰時 イ、北条時政 ウ、北条貞時 エ、北条時宗

問5 下線部(ロ)に関して、承久の乱や乱後の政治や社会の変化について述べた次の文のうち、誤っているものをひとつ選び記号で答えなさい。  
 ア、後鳥羽上皇が西面の武士を以て軍力増強をはかり、朝廷勢力挽回を目指した乱である。  
 イ、乱に勝利した幕府は、朝廷を監視し京都内外の警備のみを行わせるため雑訴決断所をおいた。  
 ウ、幕府は上皇方の多くの所領を没収し、御家人をその地の地頭に任命して、幕府の勢力は西国に広がっていった。

問6 下線部(ロ)に関して、史料2の文中から「武家社会の慣習や道徳」に該当する言葉を3字で抜き出し答えなさい。

問7 史料1・2をふまえて、太郎、次郎、花子は会話文中の【 甲 】に入る文章(ウ)～(イ)を考えた。それぞれについて、正誤を判定し、正しい場合は「○」を、誤っていれば「×」を解答欄に書き入れなさい。  
 (ウ) 支配して20年を過ぎた所領は権利の正当性にかかわらず取り上げられないことが、先例としてあった。

(イ) 子どもがいない女性が所領を養子に譲るという事例は多くあるけれど、律令では禁止されていた。  
 (ウ) 地頭が年貢を手もたにとどめているということで、荘園領主が訴訟をおこすような事例があった。  
 (イ) 幕府がこの式目を全国の所領に広め、身分を問わず適用しようとしていた。

問8 会話文中の空欄( ② )に入れる語句として正しいものをひとつ選び記号で答えなさい。  
 ア、御目見得 イ、奉公衆 ウ、内容領 エ、引付衆

問9 会話文中の空欄( A )～( G )に入る最も適切な語句を下の語群から選び、それぞれ記号で答えなさい。  
 ア、撰銭 イ、宋銭 ウ、分割 エ、単独 オ、門田 カ、座  
 キ、輪旨 ク、悪党 ケ、得宗 コ、半済令 サ、徳政令 シ、館  
 ス、観応の擾乱 セ、蒙古襲来

問10 会話文中の空欄( ③ )・( ④ )に入る最も適切な語句を答えなさい。

目

3 開国と幕末の動乱に関する次の文章〔A〕、年表〔B〕を読み、下の設問に答えなさい。

〔A〕

ペリーの乗った軍艦ミシシッピ号は、アメリカ東海岸の港ノーフォークを1852年11月出港し、大西洋を東に走り、アフリカ南端のケープタウン(喜望峯)、セイロン島、そしてシンガポールを経て、翌53年4月、中国の香港に入港した。ペリーの艦隊は1853(嘉永6)年4月に(1)王国の那覇に寄港し、6月浦賀沖に現れ、アメリカ大統領の国書を提出して日本の開国を求めた。幕府は国書を受理して、ひとまずペリーを退去させた。

ペリーは翌1854(安政元)年1月、再び浦賀に来航し、条約の締結をせまった。幕府は自由貿易の要求は拒否したものの、3月に日米和親条約を結び、下田と(2)の2港の開港などが定められた。日米和親条約にもつぎ1856(安政3)年、下田に着任した初代アメリカ総領事ハリスは、自由貿易を始めるために通商条約の締結を強く求めた。大老(3)は勅許を得られないまま、1858(安政5)年6月、日米修好通商条約の調印を断行した。

- 問1 文中の空欄(1)～(3)に入る最も適切な語句を答えなさい。
問2 下線部(a)に関して、ペリー来航後、朝廷に報告をおこない、諸大名や幕臣にも意見を述べさせて、挙国的対策を立てようとした老中首座として正しいものをひとつ選び記号で答えなさい。
問3 次の史料は、下線部(b)の条文である。どのようなことを定めた条文か解答用紙の文言に続け漢字5字で答えなさい。

史料 第九ヶ条 日本政府、外国人入道進出を制限し、免状を以て之を保護すべし。右に付、談判ヲ予致さず候事。 (『幕末外国関係文書』)

史料 日本政府が、アメリカ以外の外国人に対し、現在アメリカ人に許可していないことを許す場合は、アメリカ人にも同様に許可し、このことについては談判に時間をかけない。

問4 下線部(c)に関して、この条約は不平等条約で、この条約の改正は独立した国家として富国強兵を目指す明治政府にとって重要な課題であった。この条約において、どのようなことが日本にとって不平等であったのかひとつ答えなさい。

目

(B) (注：月は陰暦による)

Table with 2 columns: Year, Event. Includes 1858.6 日米修好通商条約調印, 1860.3 桜田門外の変, 1861.10 和宮、降嫁, 1862.1 坂下門外の変, 1863.5 長州藩、外国船砲撃, 1864.6 池田屋事件, 1865.4 長州再征発令, 1866.1 薩長連合, 1867.8 第二次長州征討(～8月), 1868.1 鳥羽・伏見の戦い, 1868.5 五稜郭の戦い

<V> 京都御所で開かれた会議で徳川慶喜の政治的影響力をのぞくため、官位の辞退や領地の一部返上を命ずる処分が決定された。これに反発した旧幕府側は、大坂城から京都に進撃したが、(10)において敗れた。明治新政府と旧幕府軍の戦いは、(11)で旧幕府軍の極本武揚らの軍が降伏し、国内は新政府によってほぼ統一された。


目

4 「和食：日本人の伝統的な食文化」が、2013年、ユネスコの無形文化遺産に登録された。和食とはご飯、つまり米を中心とした食の体系と考えられる。食や米、農業・土地政策に関する次の文章と史料〔A〕～〔D〕を読み、下の設問に答えなさい。

〔A〕

九州北部で始まった水稲耕作は、そのち日本列島各地に広がっていった。現在、水田耕作が見られる北端は(1)県である。南西諸島や北海道からは、水田耕作を含め、稲作の痕跡は見られておらず、食料採集文化が続いていた。コメは、稲穂のまま貯蔵した方が保存性に優れているので、食する際にはじめてもみ殻をとりぬぐうために脱穀された。脱穀されたコメは、糞で調理されたことが、糞の内側にコメが混じったこととなった実例から判明している。

- 問1 文中の空欄(1)に入る最も適切な語句を答えなさい。
問2 下線部(a)に関して、紀元前後から7世紀頃まで北海道で展開した食料採集文化を何というか答えなさい。
問3 下線部(b)に関して、集落のなかに収穫した稲などの貯蔵用に使われた下の写真の掘立柱構造の建物を何というか答えなさい。



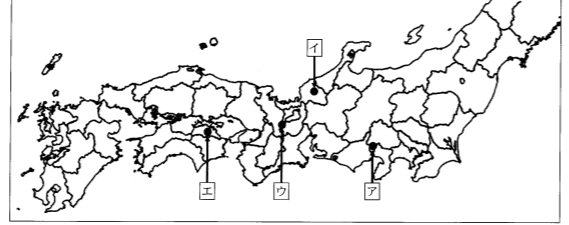
問4 水稲耕作を基礎とする農耕文化が形成された弥生時代に関して述べた文として正しいものをひとつ選び記号で答えなさい。
ア、後の奴国の王の使者が後漢の都洛陽におもむいて光武帝から印綬を受けた。
イ、この時代の化石人骨として静岡県の浜北人や沖縄県の港川人などが確認されている。
ウ、朝鮮半島から硬質で灰色の瓦器の製作技術が伝えられた。

目

(B) 13世紀、禅宗である曹洞宗の開祖(2)は天台宗を学び、入宋した後、調理の心得を示した『奥座教訓』と、食事の心得を示した『起業煎法』をまとめた。禅宗では日常生活も修行の一部と考えたため、料理や食事も修行として重要視された。精進料理を発展させたのは禅宗である。精進料理は仏教の戒めに基づき殺生や煩悩への刺激を避けることを目的とした料理ということのようだ。したがって、食材として動物性のものは使用せず、匂いの強い野菜は、怒りの感情や煩悩を刺激し、修行の妨げになるとされ、使用が禁じられている。

(3)は、2回入宋して臨済宗を開いた。(3)の著『喫茶養生記』は、諸病の原因とそれに対する茶の効用や製法などを述べ、のちに茶人にも重んじられた。茶の湯で茶を出す前を出す簡単な食事である懐石料理も禅宗と関係が深い。16世紀に簡素な茶会を追求し、茶道を確立させた堺の商人(4)が精進料理にヒントを得て発案したものとされている。

問5 下線部(c)に関して、曹洞宗の中心寺院は永平寺である。永平寺の所在地として正しいものを下の地図の中の選択肢ア～エからひとつ選び記号で答えなさい。



問6 文中の空欄(2)と(3)に適する語の組合せとして正しいものをひとつ選び記号で答えなさい。
ア、(2)法然(3)道元 イ、(2)法然(3)栄西
ウ、(2)道元(3)法然 エ、(2)道元(3)栄西
オ、(2)栄西(3)法然 カ、(2)栄西(3)道元

目

問7 下線部(d)に関して述べた次の文XとYについて、その正誤の組合せとして正しいものをひとつ選び記号で答えなさい。
X 日本は中国中心の外交関係(朝貢関係)を避けるため、宋との間で正式な国交を開かなかった。
Y 臨済宗では師の禅僧から弟子に考える手がかりとして公案が与えられる。
ア、X：正 Y：正 イ、X：正 Y：誤
ウ、X：誤 Y：正 エ、X：誤 Y：誤

〔C〕

(史料1) 其中にも出羽、陸奥の兩國は、常は豊饒(1)の国也しが、此年(2)はそれに引かへて取わけての不熟(3)にて、南鄙、津輕に至りては餘所よりは甚く、……然ありしにより元より貧乏者共は、生産の手でたなく、父子兄弟を見棄てては我一(4)にと他顧に出さまよひ嘆き食を乞ふ。(後見草)
(注1) 穀物のよく実る。(注2) 1784(天明4)年。(注3) 不作。(注4) われ先にと。

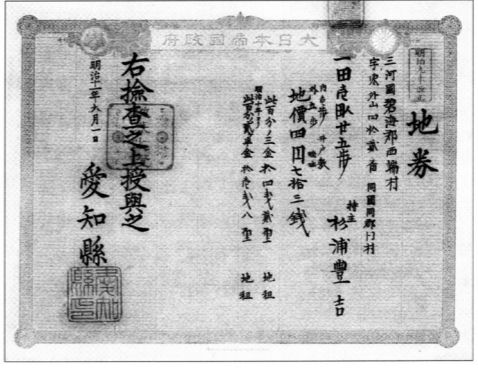
(史料2) 天明年のとし(5)、諸國人別改られしに(6)、まへの子(7)よりは諸國にて百四十万人減じぬ。この減じたる人みな死せしにあらす。只帳外(8)となり、又は出家山伏となり、又は無宿(9)となり、又は江戸へ出て人別にもいらずさまよひありく徒とは成りにける。(宇下人言)
(注5) 1786(天明6)年。人別改は6年ごと子年に行われた。(注6) 宗門人別帳によって人口を調べた時に。(注7) 1780(安永9)年。(注8) 宗門人別帳からはずされる。(注9) 農民・町人で無職無住の浮浪人。

(史料3) 翌年天明七丁未年五月(注10)……茲にいたりて米穀動ず(11)、米屋ども江戸中に閉す。同月廿日の朝、共赤坂御門外なる米屋を打ち毀す。……同夜より翌廿二日に至りて、曉まで諸方の騒ぎ、米屋のみにあらず、富商人は手をおくだせり(12)。(蜘蛛の糸巻)
(注10) 1787年。五月は米の需短期である。(注11) 米価が騰貴するので、誰も米を売るものがない。(注12) 下賤の者。参加者は裏長屋に住む町人を中心。(注13) 富裕な商人は襲われた。

目

(D) 明治新政府は、安定的な財源確保と統一的な徴税方法の導入を迫られていたので、土地制度と税制の改革に着手した。1871年、地券を発行して土地の所有権をはっきり認めた。1873年、地租改正条例を公布して地券の所有者に地租として従来の物納をあらため金納で納付させる制度を整えた。1937年、日中戦争をはじめると農民の出征による労働力不足や肥料不足で、米の生産力が低下したため、農村では、1940年から政府による米の強制的買上げ制度である(10)制が実施された。1941年には米の(11)制が始まり、東京、京都などの六大都市の各世帯に米穀(12)通帳が公布された。1946年、GHQの勧告により自作農創設特別措置法を制定し、第二次農地改革の実施にうつった。農地改革は1947年～50年に実施された。1993年、冷夏の影響で米の収穫量が大幅に減少し、米の価格高騰や品薄が発生し、「平成の米騒動」と記憶されている。2024年から翌25年にかけて、各地で米の品薄が発生し、米の価格が全国的に高騰した。主な原因は、生産調整(減反政策)の影響、異常気象による収穫量の減少、需給の変動などが考えられている。

問13 下線部(f)に関して、下の地券を参照し、1873年の地租改正条例の公布の当初、地租は地価の何%に定められたか算用数字で答えなさい。



目

問9 (史料1)(史料2)(史料3)は天明の飢饉の影響についてのものである。史料を読み、下の問いに答えなさい。

- (1) (史料1)(史料2)(史料3)に関して述べた次の文X・Y・Zについて、その正誤の組合せとして正しいものをひとつ選び記号で答えなさい。
X (史料1)によれば、天明の飢饉に際して東北地方で多くの被害を出した。
Y (史料2)によれば、農村人口の減少は、すべて死んだことが原因ではなかった。
Z (史料3)によれば、打ちこわしの対象は、米の騰貴を見込んで売り惜しみをしている米問屋だけだった。
ア、X：正 Y：正 Z：正 イ、X：正 Y：正 Z：誤
ウ、X：正 Y：誤 Z：正 エ、X：誤 Y：正 Z：誤
オ、X：誤 Y：誤 Z：正 カ、X：誤 Y：誤 Z：誤

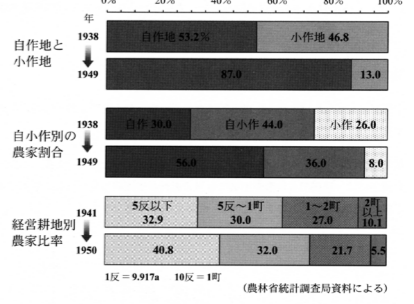
(2) (史料2)の下線部(e)に関して、この史料の出自「宇下人言」は、松平定信の自叙伝である。松平定信の政治改革の時に、江戸に流入した無宿人を收容し更生させるための施設が江戸の石川島に設けられた。この施設を何というか答えなさい。

- 問10 天明の飢饉、天明期に関して述べた文として誤っているものをひとつ選び記号で答えなさい。
ア、1783(天明3)年、富士山の大噴火を経て数年におよぶ大飢饉となった。
イ、天明の飢饉が始まり、百姓一揆や打ちこわしが全国で頻発した。
ウ、田沼意次の子で若年寄の意知が江戸城内で刺殺され、意次の勢力は急速に衰えた。
問11 飢饉に備えて、各地に社倉・義倉をつくらせて米穀を蓄えさせた。これを何というか正しいものをひとつ選び記号で答えなさい。
ア、上米 イ、圓米 ウ、玄米 エ、精米

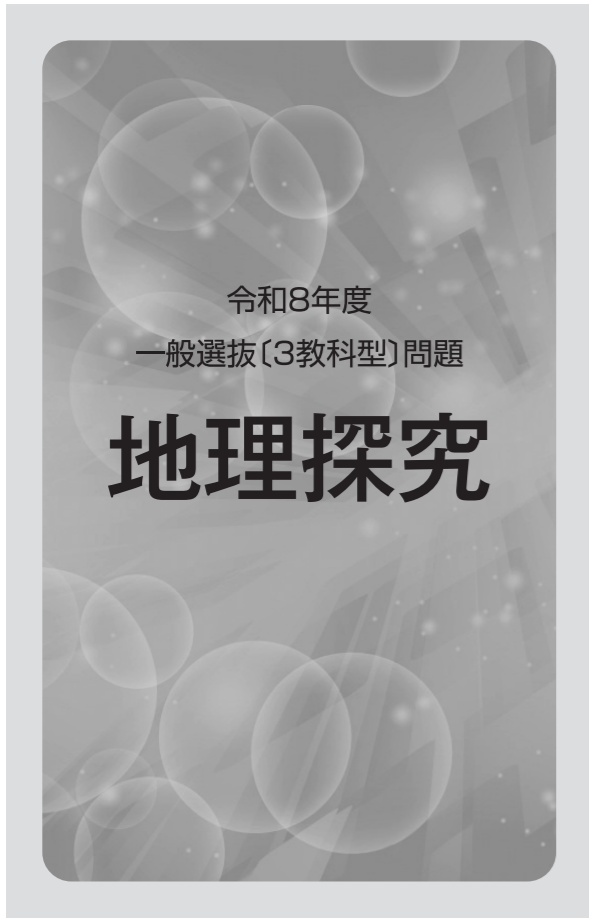
問12 飢饉などによる田品の荒廃や年貢収入の減少により、財政危機が諸藩において生じていた。ここでは藩主みずから指揮して財政難を克服して藩権の復興を目指す藩政改革が広く行われた。改革に成果を上げた米沢藩の藩主として正しいものをひとつ選び記号で答えなさい。

目

問14 文中の空欄(5)と(6)に入る最も適切な語句を選び、それぞれ記号で答えなさい。
ア、買上げ イ、配給 ウ、切符 エ、供出
問15 下線部(g)に関して、下の農地改革についてのグラフから読み取れることを用いて、農家と寄生地主制にどのような変化がみられたかを解答欄で説明しなさい。



問16 下線部(h)に関して、この年、日本共産党を除く非自民8党派の連立政権が発足し、1955年以来38年ぶりに政権が交代し、55年体制が崩壊した。この連立政権の首相として正しいものをひとつ選び記号で答えなさい。
ア、佐藤栄作 イ、細川護国 ウ、小泉純一郎 エ、安倍晋三



地理探究

1 次のⅠ～Ⅲの文を読んで、各設問に答えなさい。

Ⅰ 氷河は地形の制約で谷を流れる山岳氷河と、制約なく巨大なドーム状の(ア)氷河に分類される。(ア)氷河は現在、南極と(イ)のみに分布し、地球の氷河面積の95%以上を占める。山岳氷河の侵食力は大きく、谷を流れ下りながら(a)を形成し、その最上部には(b)とよばれる圈谷ができる。(ア)氷河は面的に岩盤を削り、岩くずを下流へ運び、末端部に堆積させ(c)を形成する。

問1 文中の空欄(ア)と(イ)にあてはまる語句を答えなさい。

問2 文中の空欄(a)～(c)にあてはまる語句を下から選び、番号で答えなさい。  
1 U字谷 2 V字谷 3 モレーン 4 カール

問3 図1は最終氷期において、氷河(氷床)に覆われた地域を示したものである。かつて氷河に覆われた地域やその周辺には、現在でも地形や土壤に氷河の影響が広範囲に見られる。氷河による影響を述べた文として下線部が適切でないものを、次のア～エから一つ選びなさい。



図1 〔北半球における最終氷期の氷床の分布〕(田淵編 1985)より作成

- ア [A]付近はかつて広大な氷河に覆われていたため、耕作不能なツンドラが広がっている。
- イ [B]付近はかつての氷河の侵食作用を受けたために、湖の多い平原となっている。
- ウ [C]付近には、氷河によって運搬された堆積物が広く分布しており、植民がさかんである。
- エ [D]付近には、氷河によって生産された細粒の土が風で運ばれて堆積した肥沃な土壌が分布する。

地

2 次のⅠとⅡの文を読んで、各設問に答えなさい。

Ⅰ 近年、世界はエネルギー資源の生産と消費をめぐる大きな課題に直面している。エネルギー資源は、原油をはじめとした化石燃料や水力、風力、原子力燃料のウランなどの自然界に存在する1次エネルギーと、電力やガソリンのように1次エネルギーから作られる2次エネルギーに分けられる。18世紀の半ばに産業革命が起こり、蒸気機関などが使われるようになると、石炭の大量消費が進んだが、20世紀になり石油の需要が増大すると、1960年代後半には、石炭に代わって石油の消費量が増大するエネルギー革命が起こった。

問1 下線部(Ⅰ)に関して、次の表1は、主な国における原油産出量からの原油輸入量を示したものである。表1の①～③は、アラブ首長国、イラク、リビアのいずれかである。表1の①～③にあてはまる正しい組み合わせをア～エから選び、記号で答えなさい。

表1 2023年(万t)

原油産出国	主な国の原油輸入量					
	アメリカ合衆国	日本	中国	ドイツ	韓国	イタリア
①	101	4,859	4,371	208	1,135	120
②	1,242	…	5,777	297	1,245	668
③	278	…	334	784	…	1,035

※「…」該当数なし、資料なし  
〔2025 データブック オブ・ザ・ワールド〕より作成

	①	②	③
ア	イラク	アラブ首長国	リビア
イ	イラク	リビア	アラブ首長国
ウ	アラブ首長国	イラク	リビア
エ	アラブ首長国	リビア	イラク

地

問2 下線部(Ⅱ)に関して、次の表2は、主な国の発電における、火力、水力、原子力、再生可能エネルギーの割合を示したものである。①～④にあてはまる国をア～エからそれぞれ選び、記号で答えなさい。

表2 2022年(%)

	火力	水力	原子力	再生可能エネルギー
①	75.3	9.6	2.5	12.6
②	17.5	61.1	13.4	8.0
③	12.2	10.8	62.1	14.9
④	48.4	4.1	6.0	41.6

※再生可能エネルギーは、水力を除く、風力、地熱、太陽光、バイオ燃料・潮力など  
〔2025 データブック オブ・ザ・ワールド〕より作成

- ア フランス
- イ インド
- ウ カナダ
- エ ドイツ

問3 文中の下線(Ⅲ)に関して、次の文の( )にあてはまる適切な語句を答えなさい。

20世紀初頭の内燃機関の普及や科学の発達により、動力用や化学工業用として石油の消費が増大し、1960年代後半には、石炭に比べて熱効率がはるかに高く、流体であるため扱いやすく、大型タンカーの就航や( )の敷設により大量輸送が可能となった。

地

Ⅱ 年間を通じて蒸発量が降水量を上回る乾燥地帯では、砂丘が発達する砂漠の面積は小さく、一般に(ア)砂漠が広がる。アメリカ合衆国西部の乾燥地帯では、テーブル状の(イ)とよばれる山地や、さらに侵食され孤立した丘となる(ウ)が形成される。

問1 文中の(ア)～(ウ)にあてはまる語句を答えなさい。

問2 下の表1は、下線部について緯度圏別の年平均降水量・蒸発量の差と分布する砂漠を示したものである。表中の(a)～(d)にあてはまる砂漠の組み合わせとして適切なものを、次の1～4から選び番号で答えなさい。

表1

緯度圏	年平均降水量と蒸発量の差	砂漠の名称
40～30°N	-200mm (a)	
30～20°N	-480mm	サハラ
20～10°N	-380mm (b)	
10～0°N	440mm	
0～10°S	0mm	
10～20°S	-370mm (c)	
20～30°S	-420mm (d)	

〔2025 データブック オブ・ザ・ワールド〕より作成

	(a)	(b)	(c)	(d)
選択肢	1 ルブアルハリ	2 タクラマカン	3 アタカマ	4 グレートヴィクトリア
	1 ルブアルハリ	2 タクラマカン	3 グレートヴィクトリア	4 アタカマ
	1 タクラマカン	2 ルブアルハリ	3 アタカマ	4 グレートヴィクトリア
	1 タクラマカン	2 ルブアルハリ	3 グレートヴィクトリア	4 アタカマ

Ⅲ 厚い石灰岩層からなる地域では、独特なカルスト地形がみられる。地表には多数のくぼみである(ア)が形成され、それらから浸透した地下水などによって溶食が進む。さらに結合・拡大すると、平らな谷底を持つ(イ)が生じ、さらに溶食が進み広大な盆地状の凹地は(ウ)とよばれる。

問1 文中の(ア)～(ウ)にあてはまる語句を、次の1～4から選び、番号で答えなさい。

- 1 ボリエ
- 2 トリーネ
- 3 ケスタ
- 4 ウパーレ

地

問2 次の地域のうち、石灰岩地域に当てはまらないものを、次のア～エから一つ選びなさい。

- ア ハロン湾 (ベトナム)
- イ クラシュ (ク拉斯) 地方 (スロベニア)
- ウ 桂林 (中国)
- エ ハンバ (アルゼンチン)

問3 日本の石灰岩地域では、その地形・地質の特徴を利用した産業が発達していた。その例として適切なものを、次のア～エから一つ選びなさい。

- ア 処理した石灰岩は、水を加えると強く固まる性質を持つことから、舗装やセメントを製造する工業が発達してきた。
- イ 石灰岩台地は地表水流が発達しにくく、作物の栽培に適さないといわれたが、土地改良により牧草地や畑などに利用されている。
- ウ 石灰岩は建築材料や工業材料として利用されるが、採取できる地域に限られており、日本では山口県の秋吉台付近だけにみられる。
- エ 石灰岩台地の地下には、地下水系によってつくられた鍾乳洞が発達していることが多く、地域の観光資源として利用されている。

地

Ⅱ 鉱産資源とは、主に地下に埋蔵されている有用な天然物の総称であり、一般に、金属資源と非金属資源に分けられる。金属資源は、鉄と非鉄金属に区分され、非鉄金属の例としては、銅、鉛、亜鉛、錫、金、銀などがある。一方で、非金属資源は、金属としての性質をもたない鉱物資源の総称であり、石灰石、珪砂、陶土、硫黄、石膏、ダイヤモンド、岩塩などがある。また、金属資源のなかで、半導体や特殊合金の材料となるニッケルやチタン、クロム、タングステンなどは、埋蔵量が少なく、生産が少数の国に限られた金属であり、先端技術産業の発展のために、今後の安定した確保が課題となっている。

問4 文中の下線(Ⅱ)に関して、次の略地図は、世界の主な鉄鉱石の産地を示している。略地図中の①～④の鉄鉱石の産地の名称の組み合わせとして正しいものをア～エから選び、記号で答えなさい。



略地図

	①	②	③	④
ア	メサビ	イタビラ	キルナ	マウントホーエルバック
イ	メサビ	キルナ	イタビラ	マウントホーエルバック
ウ	キルナ	マウントホーエルバック	メサビ	イタビラ
エ	キルナ	イタビラ	マウントホーエルバック	メサビ

地

問5 文中の下線(Ⅲ)に関して、次の表3の①～④は、銅鉱、鉛鉱、亜鉛鉱、錳鉱について、世界の生産量に占める上位5カ国の生産量の割合を示している。次の(1)と(2)に答えなさい。

表3

① 2022年			② 2019年		
順位	国名	%	順位	国名	%
1	チリ	27.8	1	中国	31.9
2	X	10.5	2	ミャンマー	18.8
3	中国	8.4	3	インドネシア	18.1
4	コング民主	7.8	4	ブラジル	8.7
5	アメリカ合衆国	5.8	5	X	6.5

③ 2018年			④ 2019年		
順位	国名	%	順位	国名	%
1	中国	49.3	1	中国	35.2
2	オーストラリア	9.5	2	X	11.8
3	アメリカ合衆国	7.3	3	オーストラリア	6.7
4	X	6.6	4	インド	6.2
5	ロシア	5.3	5	アメリカ合衆国	5.4

〔2025 データブック オブ・ザ・ワールド〕より作成

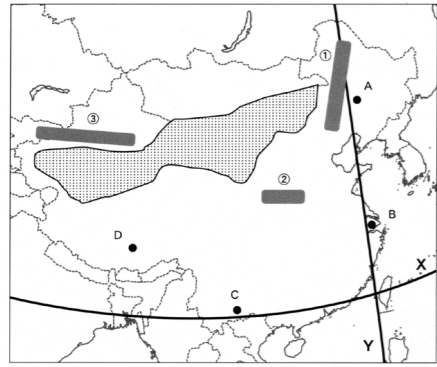
- (1) 銅鉱にあてはまるものを表3の①～④から選び、番号で答えなさい。
- (2) 表3中のXには共通の国名が当てはまる。Xにあてはまる国名をア～エから選び、記号で答えなさい。

- ア フィリピン
- イ ベルー
- ウ ギニア
- エ カナダ

問6 文中の下線(Ⅳ)に関して、このような金属を何というか。カタカナ5文字で答えなさい。

地

3 次の略地図Ⅰと略地図Ⅱを見て、各設問に答えなさい。



問1 略地図Ⅰ中の線 X と Y がそれぞれ示すものとして正しい組み合わせを、次のア～エから一つ選び、記号で答えなさい。

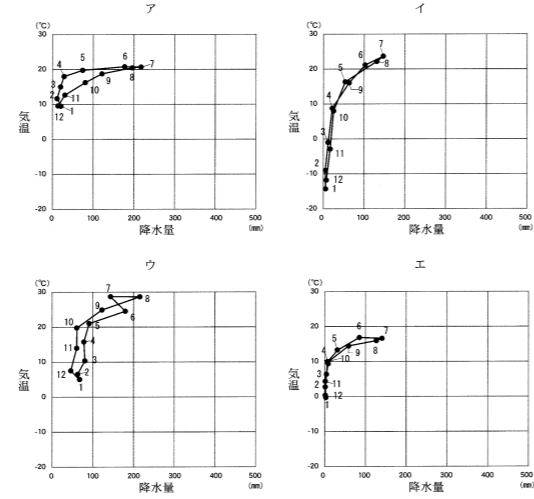
	X	Y
選	ア 北緯20度 東経135度	イ 北緯20度 東経120度
択	ウ 北回帰線 東経120度	エ 北回帰線 東経135度

問2 略地図Ⅰ中の①～③に当てはまる山脈の組み合わせとして正しいものを、ア～エから一つ選び、記号で答えなさい。

	①	②	③
選	ア チンリン山脈	イ テンシャン山脈	ウ クンルン山脈
択	エ 大シアンリン山脈	オ チンリン山脈	カ テンシャン山脈
	キ 大シアンリン山脈	ク チンリン山脈	コ クンルン山脈
駄	エ クンルン山脈	オ 大シアンリン山脈	カ テンシャン山脈

地

問3 略地図Ⅰ中の A～D の都市に当てはまる気温と降水量の関係を示したグラフを、次のア～エからそれぞれ選び、記号で答えなさい。



〔2025 データブック オブ・ザ・ワールド〕より作成

問4 次の文は、略地図Ⅰ中の [ ] の地域について述べたものである。文中の ( ) に当てはまる語句を漢字2文字で答えなさい。

この地域からの砂嵐は、3月から5月にかけて、中国の西北部や華北地方をたびたび襲う。そのため、田畑や人家が砂に覆われたり、家畜や人が砂塵を吸い込んで健康に悪影響を受けたりするといった被害が発生している。砂嵐などによって、上空高く巻き上げられた ( ) は、広範囲に飛散し、偏西風などによって日本まで到達することもある。

地

4 アフリカについての文章を読んで、各設問に答えなさい。

1990年初頭以降、冷戦体制の崩壊により、軍事的援助を受けていた国々で政権が不安定になり、内戦が多発した。たとえば、(1) 内戦では国連平和維持活動 (PKO) が機能せず、介入は失敗に終わった。(2) 内戦では民族対立が激化し、1994年に大量虐殺が起きた。1963年に結成されたアフリカ統一機構 (OAU) は内政不干渉を原則としていたため紛争解決に消極的だったが、その反省から2002年にEUを基本とした (3) (AU) が発足し、紛争の予防と平和の確保を目指している。

こうした中、「人間の安全保障」という新しい考え方が開発援助の分野で注目された。これをきっかけに2000年代にはサハラ以南のアフリカへの (4) (ODA) が大きく増加した。日本も、(5) (TICAD) を開いて援助を拡大し、自動車の組立工場建設や、BOP (ベース・オブ・ザ・ピラミッド) ビジネスと呼ばれる低所得者層向けの事業にも取り組んでいる。

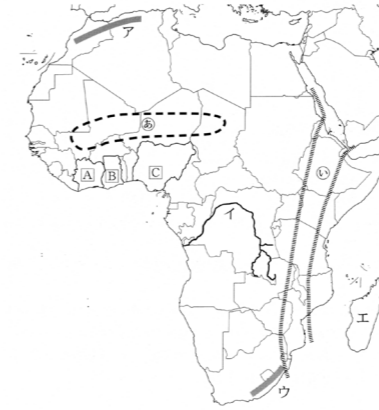


図1

地

問1 文中の (1)～(5) に当てはまる語句を次のア～エから選び、記号で答えなさい。

- ア ナイジェリア イ ルワンダ ウ ソマリア エ アルジェリア
- オ 政府開発援助 カ アフリカ連合 キ アフリカ開発会議 ク 国際協力機構

問2 図1中のア～エに当てはまる名称を答えなさい。

問3 図1中の⑥は、サハラ砂漠の南縁に沿って広がる半乾燥地域である。この地域の名称を答えなさい。

問4 図1中の⑦は、アフリカ大陸東部に南北に走る断層陥没帯である。この地帯の名称を答えなさい。

問5 図1中の [A] [B] [C] に当てはまる国名を、下の語群からそれぞれ選び、番号で答えなさい。また、表1は [A]～[C] の3か国のおもな統計を示したものである (キャッサバ、ヤムイモ、カカオ、原油は生産量である)。それぞれの国に当てはまるものをア～ウから選び、記号で答えなさい。

- 1 コートジボアール
- 2 ナイジェリア
- 3 ガーナ

表1

	1人当たり国民総所得 万 <sup>円</sup>	公用語	キャッサバ (マニオク) 万 <sup>トン</sup>	ヤムイモ 万 <sup>トン</sup>	カカオ 万 <sup>トン</sup>	原油 万 <sup>トン</sup>
ア	2,380	英語	2,559	1,072	111	773
イ	2,620	フランス語	630	760	223	115
ウ	2,160	英語	6,084	6,117	28	5,581

〔2025 データブック オブ・ザ・ワールド〕より作成

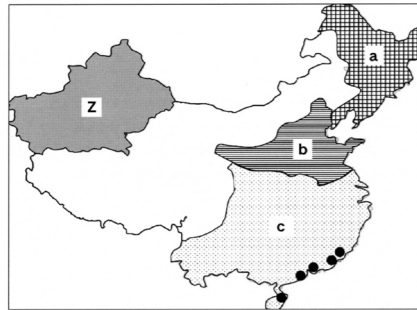
問6 下線部(a)について、( ) に当てはまらないものを次のア～キから一つ選び、記号で答えなさい。

「人間の安全保障」とは、( ) などから人々の命と暮らしを守り、国家により国民の安全保障だけでなく、一人一人が安心して生きられる社会を目指す考え方である。

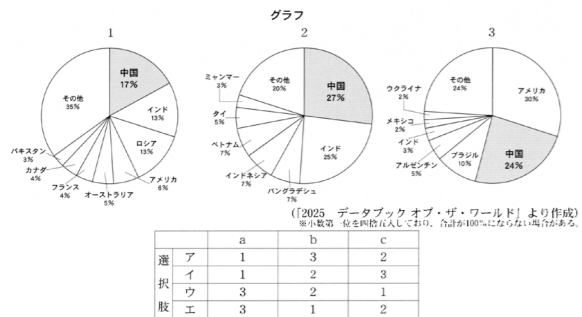
ア 貧困 イ 紛争 ウ 個人の犯罪行為 エ 環境破壊  
オ 感染症 カ 人権侵害 キ テロ

地

問5 略地図Ⅱ中の a～c の地域では、気候の影響などにより、米、小麦、トウモロコシのいずれかが主要な農産物となっている。また、次の1～3のグラフは、世界生産量に占める国別生産量の割合を示したものである。略地図Ⅱ中の a～c の地域の主要な農産物に当てはまるグラフの組み合わせとして正しいものを、ア～エから一つ選び、記号で答えなさい。



〔中国まるごと百科事典 (2025)〕より作成



地

問6 次の文は、略地図Ⅱ中の z の地域について述べたものである。文中の ( ) に当てはまる語句をカタカナ4文字で答えなさい。

z の地域では、漢民族のほか、イスラム教を信仰しているトルコ系の ( ) 族が多く暮らし、民族自治区とよばれる独立行政区を形成している。

問7 略地図Ⅱ中の●の地域に設けられた「経済特区」について述べた文として、適切でないものを、ア～エから一つ選び、記号で答えなさい。

- ア 輸入指向型の工業化が進められ、家電などは世界最大の生産国になった。
- イ 税率を低く設定するなどして、外国資本の企業を積極的に誘致した。
- ウ 安価で豊富な労働力と中国市場の成長の可能性を求めて、外国資本の企業が進出した。
- エ 雇用機会を求めて、内陸部などから大勢の出稼ぎ労働者が流入した。

地

問7 文中の下線(b)の例として当てはまらないものを次のア～オから一つ選び、記号で答えなさい。

- ア 低価格で高品質な生活必需品 (食料、水、衛生用品など) の提供
- イ 再生可能エネルギーを利用した電力供給
- ウ 携帯電話やインターネットを利用した情報提供や金融サービス
- エ 現地の資源や技術を活用した製品開発・販売
- オ 富裕層を対象とした高級ブランド品や高級サービスの提供



政治・経済

1 次の文を読んで、各問に答えなさい。

1973年の第1次石油危機は、欧米や日本などの主要先進国に打撃を与えた。原油価格の高騰によるインフレと不況が同時に進行する「X」に陥った各国は、インフレ抑制の金融政策、景気浮揚の財政政策を組み合わせて経済を立て直しを図った。1979年には2度目の石油危機に見舞われ、再びインフレと景気後退が同時進行することとなった。この間、日本は減産経営への努力や重厚長大産業から軽薄短小産業への転換が進み、順調な「Y」に支えられ日本の貿易黒字は大きく膨らんでいった。この「Z」依存の経済成長は、貿易赤字に苦しむアメリカとの間に日米貿易摩擦を引き起こすことになる。

1985年の先進5カ国財務相・中央銀行総裁会議でなされたプラザ合意の後、日本は円高不況に陥った。これに対して「Z」に依存する日本企業は円高不況を乗り切るために生産拠点を海外へ移転した。円高不況への対策と日米貿易摩擦への対策として、「3」拡大による経済成長を目指して「X」した。その結果、国内では余剰資金が生じ、その一部は株式や土地に対する投機に使われ、株価や地価が急上昇した。そして、値上がりした土地や株式を担保に金融機関から資金を借り、更に株式や土地への投機が行われるという循環が続いた。こうして資産効果が消費者を刺激し、1980年代後半にはバブル経済が発生した。1990年代に入ると、「Y」のために、株価と地価が暴落しバブル経済は崩壊した。金融機関は、借り手が担保にしていた株式や土地が値下がりしたことで、回収困難となった巨額の「4」を抱え、経営破綻に陥るところも現れた。また、金融機関は企業への貸し出しを抑える「5」などを行ったため、中小企業の倒産が相次いだ。バブル経済の崩壊以後、日本銀行の金融緩和と政府の公共事業や減税などの景気対策にもかかわらず、これまでの日本経済が経験したことのない不振が続き、「失われた10年」とよばれた。さらに、2000年代になっても物価下落が続く、賃金も低下するなど経済不振が続き、デフレからの脱却は日本経済の大きな課題となった。こうした中で、日本銀行は非伝統的金融政策にも取り組んできた。

金融の国際化と自由化が進む中で、日本でも金融の自由化が緊急課題となった。橋本内閣は、1996年に日本版「6」構想を打ち出し、金融市場の規制緩和を促進した。金利が自由化され、銀行と証券・保険会社の業務の相互参入が可能となり、外国為替取引の原則自由化で国際的な資本取引も自由となった。独占禁止法改正によって解禁された「7」の下で銀行、証券、保険などの多様な金融サービス提供を行う金融コングロマリットが現れ、金融再編が行われた。また、預金者の規律も高める必要があるとの考えから、これまで金融機関が破綻した場合に全額保証されていた預金は、一金融機関当たり1000万円とその利息を限度に保証されるのみとなった。

- 問1 文中の「1」～「7」に入る最も適切な語句を選び、記号で答えなさい。
ア 金融持株会社 イ 内需 ウ スタグレーション エ 輸入
オ 貸し流し カ 輸出 キ 自己資本比率 ク 不良債権
ケ 管理通貨制度 コ 金融ビッグバン サ クラウド・ファンディング

政・経

問5 下線部(c)の非伝統的金融政策に関する次の文の「1」～「3」に適する言葉を答えなさい。
日本銀行は、長く公定歩合を上下に操作することで金融政策を行ってきたが、金利の自由化によって公定歩合は政策金利としての役割を終えた。代わりに市中銀行が資金の運用と調達を行う短期金融市場の無担保コールレートが誘導目標とする政策金利となった。

日本銀行は1999年に、その政策金利を0%に近づける「1」政策をとった。2001年には政策目標を金利から日銀当座預金残高に切り替え、通貨量の増加を図る「2」政策を導入した。また、2013年から操作目標をマネタリーベースの増加量として、消費者物価上昇率を2%とするインフレターゲットを導入した。さらに、2016年には銀行などが持つ日銀当座預金の一部に銀行が日銀に対して利息を支払う「3」政策を導入した。

問6 下線部(d)のことを何というか、カタカナ4字で答えなさい。

政・経

2 次の文を読んで、各問に答えなさい。

資本主義が成立すると、社会における人間関係は「身分」から「契約」へと変わった。そのため、資本家(使用者)と労働者は契約自由の原則に基づき、自由で対等な立場で労働契約を結ぶことになる。しかし、実際には、雇用されなければ生きていけない労働者の立場は弱く、資本家(使用者)と対等な立場で労働契約を結ぶことはできない。そこで、憲法や法律によって労働者を保護する必要が生まれてくる。これまで、さまざまな労働者を保護するための法律や制度が制定されているが、社会の変化への対応も求められ、さまざまな労働問題が存在している。

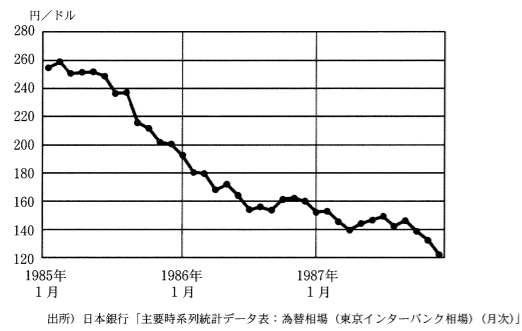
不利にならない労働契約を結び、賃金を得て生活を送ることができたとしても、失業、疾病、事故、老齢などによって、いつ貧困に陥るかわからない。長い間、貧困は個人の責任とする考え方が強かったが、貧困の救済は社会の健全な発展を阻害する要因となる。そのため、国民が生計にわたって、安心して暮らせるように、貧困を個人の問題や責任ではなく誰にでも生じるリスクとみなし、社会全体として解決するという考えのもとで社会保障制度が整備されてきた。

日本では、日本国憲法第25条の生存権の保障を基本理念として、四つの柱で社会保障制度を整備してきた。そのひとつである社会保険には、医療保険、年金保険、雇用保険、労災保険、介護保険がある。

- 問1 下線部(a)の労働者を保護するための法律に関して、次の各問に答えなさい。
(1) 日本国憲法第28条で労働三権が保障されている。労働者の団結権の保護を目的として制定された法律を答えなさい。
(2) 労働基準法に定められている内容を「異なるもの」を、次の中からひとつ選び、記号で答えなさい。
ア 女性であることを理由に賃金を男性と差別してはならない。(第4条)
イ 労働時間は、1週間40時間、1日8時間を超えてはならない。(第32条)
ウ 休日には、毎週少なくとも1回、4週間を通じて4日以上与えられる。(第35条)
エ 有給休暇は、3年以上継続勤務し、9割以上出勤した場合に与えられる。(第39条)
(3) 最低賃金法に基づいて賃金の最低水準が決められる。毎年、中央最低賃金審議会から示される目安を参考に地域別最低賃金が決まっている。令和5年度に地域別最低賃金の全国加重平均額が、初めて時給「X」円を超え、令和7年度にはすべての地域別最低賃金が時給「X」円を超える目安が8月に中央最低賃金審議会から示された。「X」の金額を答えなさい。

政・経

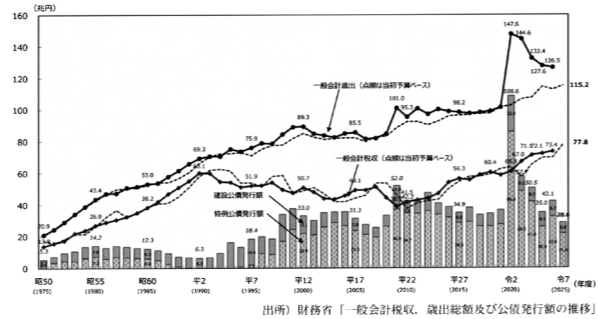
問2 下線部(a)のG5(米・英・仏・日・西独)の会議でなされた合意は、どのような内容だったか。「協定介入」と「ドル高」(または「ドル安」)の2語を用いて、30字程度で答えなさい。参考として、プラザ合意前後の3年間(1985年1月～1987年12月)の米ドル円の為替レートの推移のグラフを示す。



- 問3 「X」「Y」に適する文を次からひとつずつ選び、記号で答えなさい。
ア 日本銀行は高金利による金融引締めを実施し、政府は大規模な公共事業予算と減税などの経済対策を進めた
イ 日本銀行は低金利による金融緩和を実施し、政府は大規模な公共事業予算と減税などの経済対策を進めた
ウ 日本銀行は公定歩合を引き上げ金融引締めを転じ、政府は不動産融資への総量規制などを行った
エ 日本銀行は公定歩合を引き下げ金融緩和を実施し、政府は消費税引き上げと地方活性化の三位一体の改革を実施した

政・経

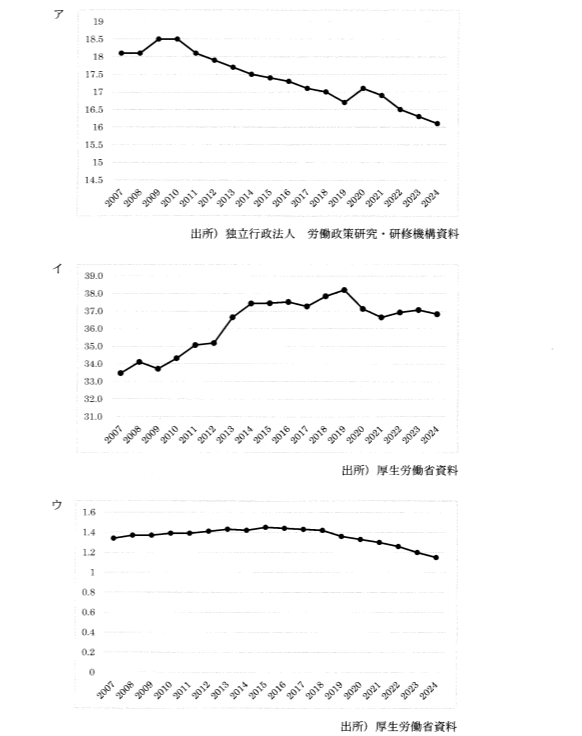
問4 下線部(b)の政府の景気対策を支えてきたのが、税金では賄えない部分を補う公債(国債)である。次のグラフは、一般会計歳出と一般会計税収及び公債発行額の推移を示している。次の高校生AとBの会話の下線部分の中で、誤っているものの番号をひとつ選んで、正しい言葉を答えなさい。



- 高校生A 1990年度までは、毎年税収が増えていたけれど、それ以降2010年頃までは長く税収が減少傾向になっていたね。
高校生B 1998年度と1999年度に急に公債発行額が増えているのは、1997年に山一証券と北海道拓殖銀行の「破綻」で金融不安が広がったことが影響しているようだね。
高校生A 2009年度も急に公債発行額が増えているのは、前年の東日本大震災が日本の経済成長率を大きくマイナスにしたからだね。
高校生B 2020年度の公債発行額は飛び抜けて大きいね。このときはコロナのパンデミックで日本でも緊急事態宣言が出されて、大きく縮小した経済活動を支える補助金や国民にも給付金を配ったからだね。
高校生A 公債の発行額が大きく増加したときは、何らかの経済に大きな影響を与える出来事があるんだね。

政・経

(4) 労働者が使用者と対等な立場に立つために結成が認められている労働組合の推定組織率(%)を表したグラフは、次のどれか。記号で答えなさい。



政・経

問2 下線部(b)の労働問題に関する次の文を読んで、各問に答えなさい。
内外からの競争圧力にさらされている日本の企業は、景気の変化に応じる調整や雇用コストの削減の面から正規雇用から非正規雇用に置き換えるようになった。非正規雇用の労働者の割合は、全労働者の40%近くを占めるまでになった。家計の主な担い手が非正規雇用の労働者になることも多くなり、正規雇用と非正規雇用の待遇差が問題となっている。

グローバル化の中で外国人労働者の就労も増えている。少子高齢化と人口減少に直面している日本では、「1」が減少しており、外国人労働者は欠かせないものとなりつつある。しかし、外国人労働者の中には、不当な低賃金で就労している者や、「2」の取得をめざす「2」実習生として入国しながら単純労働に従事させられる者も少なくない。

また、多様な働き方が模索されており、雇用形態の多様化とデジタル化が進み、自宅などで勤務する「3」も広がり、別の仕事で収入を得る副業や兼業を認める企業も増えてきている。さらに、雇われる労働者ではなく個人事業主として仕事を請け負う「4」として働く者も増えている。また、仕事や勤務内容などを定める前に人を雇い、事後的に勤務内容を定めるメンバーシップ型雇用から、仕事や業務内容を中心として雇う「5」型雇用が増えてきている。このことも新たな問題を生じ、その対応が求められている。

- (1) 「1」～「5」に適する語句を、下記から選んで記号で答えなさい。
ア フリーランス イ 技能 ウ フリーター エ オンライン学習
オ 労働力人口 カ 資格 キ テレワーク ク ジョブ
(2) 正規雇用と非正規雇用の不合理な待遇格差の例として適当なものを、次からひとつ選んで記号で答えなさい。
ア 非正規の有期契約労働者(契約社員)は、契約期間に達した場合、企業が更新に応じなければ辞めなければならないこと。
イ 非正規雇用のパートタイム労働者は、契約の勤務時間が、正規雇用の労働者に比べて短いこと。
ウ 非正規雇用の派遣労働者(派遣社員)は、同じ職場で同じ仕事をしていても、正規雇用の労働者に比べて賃金が安いこと。
エ 非正規雇用のアルバイトは、仕事を辞めるときに、正規雇用の労働者のように退職金が支給されないこと。

問3 下線部(c)の四つの柱のうち、次の文の説明に当てはまるものは何か。漢字4字で答えなさい。
(1) 生存権の保障を実現するために、生活困窮者に対して、一定水準の生活を国の責任で補償する。
(2) 児童、老人、心身障がい者などの社会的な弱者の援護を目的として、手当やサービスを提供する。

政・経

問4 下線部(Ⅱ)の社会保険に関する説明として正しいものをひとつ選び、記号で答えなさい。
ア イギリスや北欧の国々によって、19世紀末に世界最初の社会保険が創設された。
イ 社会保険は、病気で失業などの場合、拠出した保険料から給付金を支給する制度である。
ウ 21世紀の現在、社会保険が最も充実している国は、アメリカ合衆国である。
エ 社会保険は、政府がすべての国民に最低限度の生活費を定期的に支給する政策である。

問5 下線部(Ⅱ)の年金保険に関する次の文を読んで、次の各問に答えなさい。
日本の年金の財源調達の方法は、毎年の給付をその時に働いている世代の保険料で負担する(ア)が基本である。この方式では、少子高齢化が進むと現役世代の負担が(イ)することになる。高齢者の生活を支える制度として重要な年金制度を維持するために、現役世代の負担と高齢者への給付水準への改革が行われ、2017年度以降は保険料を(ウ)ないこととし、給付水準に対しては人口減少や平均余命の伸びを勘案して、自動的に物価や賃金の伸びより(エ)する(オ)が導入された。

- (1) (ア)・(イ)に適合する語句を答えなさい。
(2) (イ)～(エ)に適合する言葉の組合わせとして正しいものをひとつ選び、記号で答えなさい。
ア 1:増加 2:引き下げ 3:小さく
イ 1:増加 2:引き下げ 3:大きく
ウ 1:減少 2:引き下げ 3:小さく
エ 1:減少 2:引き下げ 3:大きく
オ 1:増加 2:引き上げ 3:小さく
カ 1:増加 2:引き上げ 3:大きく
キ 1:減少 2:引き上げ 3:小さく
ク 1:減少 2:引き上げ 3:大きく

政・経

3 次の文章を読んで、各問に答えなさい。

高校3年生の木村さんは、昨日の「政治・経済」の授業で出された授業プリントを見ながら、宿題になった「My Opinion」のところに記入する自分の意見をまとめた。

「政経」授業プリント 第8号
1 現代政治の特徴と課題
□政党の歴史
近代初期の政党 名望家政党・・・教養や財産を持つ少数の有力者によって構成
現代の政党 大衆政党・・・大衆の支持を基盤
□政党政治の種類・特徴と代表例
種類 特徴 代表例
(1)制 ・政局が安定しやすい ・政権交代が起こりやすい アメリカ合衆国、イギリス等
・有権者の選択肢が少ない ・少数者の意見が反映(3)
(2)制 ・連立政権になりやすい ・多様な意見が反映(4)
・政局が不安定になりやすい ・有権者の選択肢が多い ヨーロッパ大陸の国々等
一党制 ・有権者の意見が反映(3) ・政治的腐敗が起こりやすい 旧ソ連 等
・抑圧的な政治になりやすい ・民主的な政権交代が極めて難しい
□世論とマスメディア
○ 民主政治は「民意による政治」・・・世論が政治の行方を左右する
・選挙 ～ 低投票率に見られる政治的無関心
・世論調査 → 支持政党を持たないと答える(5)層の急増
・政治参加 ～ 様々な政治参加が可能
○ マスメディア・・・新聞やテレビ、ラジオなどを中心に、一般の人々に広く情報を伝えている。
・近頃では、ウェブサイト、SNSなどの(6)メディアも大きな影響を及ぼしている。
↓
「フェイクニュース」などの(7)や、個人のプライバシーを侵害するニュースが、瞬時に広まってしまう危険性が大きくなっている。

政・経

(3) 次の文中の空欄(ア)～(ド)に入る最も適切な語句を選び、記号で答えなさい。

情報通信技術(ICT)の発展によって、政府や企業が公共的な問題に関わる情報を数多く収集・管理するようになったことは、国民の知る権利に重大な影響を与えると考えられるようになり、1999年に(ア)が制定された。また、情報通信技術の発展によって、本人の知らないところで個人情報収集・蓄積・利用されたり、第三者に提供・漏えいされたりする危険が高まっていることに対応して、2003年に(ド)が制定された。

一方で、1999年には、組織的犯罪の場合に捜査機関に通信の傍受を認める(ウ)が作られ、2016年の改定によって、この法律の対象となる犯罪が拡大された。また、国家機密に関する情報の漏えいを防止するため、2013年に(ド)が制定されている。

- ア 通信傍受法 イ 公文書管理法 ウ 個人情報保護法 エ 情報公開法
オ 特定秘密保護法 カ マイナンバー制度

政・経

4 次のⅠ、Ⅱを読んで、各問に答えなさい。

Ⅰ 高校3年生のひろしさんは、「政治・経済」の授業で「国際社会の諸課題」について探究学習をすることになったので、「冷戦後の世界」の特徴について探究することにした。最初に、冷戦後の世界を概観するため、次のような年表を作成した。

「冷戦後の世界の動き」
いつ 何が起きたか
1989年11月 「ベルリンの壁」崩壊 ⇒ 1990年 ドイツ、再統一
12月 米ソ首脳会談(マルタ会談)で、ソ連のゴルバチョフ共産党書記長が「冷戦終結」を宣言した。
1991年1月 湾岸戦争、勃発(～2月)
12月 ソ連が解体し、ロシア連邦がソ連の継承国となった。
1992年9月 日本の自衛隊、カンボジアにPKO派遣
1993年11月 EUが発足
2001年9月 アメリカで、同時多発テロが発生
2010年12月 アラブの春と呼ばれるアラブ諸国の民主化運動がおこる。
2020年1月 イギリス、EUを離脱
2022年2月 ロシア連邦、ウクライナに侵攻

Ⅱ ひろしさんは、この探究学習で考えたことを、次のようにまとめた。
レポート<探究のまとめ>
私は、冷戦後の世界の動向について探究するため、最初に考えていたのは、「冷戦後は、それまでの冷戦という対立構造が緩和されて、平和が見えやすくなったのではないか」ということだった。でも、年表を作成したり、一つひとつの歴史的事実について詳しく調べていくうちに、決して平和になってきているという感じがしなくなってきた。今も、世界各地でテロ行為と呼ばれる事件や国際紛争が断続的に起きていることを考えると、ますます、そう思うようになった。…(略)…私は、冷戦後の現在の世界について探究した今、今後の世界について「(X)」と考えるようになった。

政・経

● My Opinion
○ 今日の授業で、政党が中心となって政策の実現を競い合うのが政党政治だと学び、選挙のために政党がCMを行う理由がなんとなくわかった。政党のことを英語でparty (political party) と言うと聞いて、びっくりした。私たちの誕生パーティとはずいぶん違うと思った。
○ 日本は現在(2)制だそうだ。有権者の選択肢が多いと先生は言っていたけれど、その割に投票率が低いんだと思った。マスメディアも頑張っているのにも思った。
○ SNSなどの(6)メディアの影響として、偽情報なのに本当のことであるかのように広がる(7)は怖いと思った。自分がそのような情報を流さないように、SNSには注意が必要だと思った。

問1 空欄(1)～(7)に入る最も適切な語句を選び、記号で答えなさい。
ア 無党派 イ 民権派 ウ デマ エ ソーシャル オ されにくい
カ されやすい キ 多党 ク 二大政党 ケ メディア・リテラシー

問2 下線部(Ⅱ)に関して、次の文中の空欄(ア)～(ウ)に入る最も適切な語句を選び、記号で答えなさい。
今の日本の低投票率の背景には、政治的無関心があるとされる。そのような無関心が広がっている要因に、経営者団体などの(ア)を基礎としてきた政党政治の従来の仕組みが壊れ、政党の離合集散によって有権者と政党との関係が弱まったことがあげられる。このように政治的無関心が拡大していけば、一部の主張だけが国政に反映されることになり、(ウ)が空疎化することも言われている。
また、2015年からは選挙権年齢が引き下げられた。その意図としては、国際水準に合わせることに加えて、政治的無関心に対応するべく、若い時期から政治的関心を高めるべきだという点にある。
(ウ)を有効に機能させるためには、国民は、政治に対する関心を持ち、選挙権等の(ウ)権を行使することの重要性を改めて認識する必要があるという指摘もある。
ア 合会会社 イ 参政 ウ 連座制 エ 圧力団体 オ 民主主義

政・経

問3 下線部(Ⅱ)に関して、木村さんがまとめた次の表の空欄(ア)～(ド)に入る最も適切な語句を選び、記号で答えなさい。

政治参加の方法 具体的な例 等
選挙 (ア)によって、衆議院議員や参議院議員など、代表を選出する。
請願 国や(ド)に、自分たちの希望を表明する。
陳情 国や(ド)に実情を伝えて、それに対応する施策の実施を要望する。
政治団体への献金や寄付 企業や団体などが、自分たちの目的達成に役立ててもらうために、政党や政党の指定する政治資金団体、政治家の資金管理団体に(ウ)を献上する。
署名活動 市民が自分たちの政治的、社会的要求を実現するため、世の中の人々に署名を募り、その集積を署名簿として該当機関に提出する。
デモ行進 多数の人々が、自分たちの政治的、経済的、社会的要求を広く社会一般の人々に訴えるため、行進する。デモは、デモンストレーションの略称で、デモ行進のことを、日本語で(ド)という。

- ア 金銭 イ 地方公共団体 ウ 投票 エ 集団示威行進 オ 集会

問4 下線部(Ⅱ)に関して、以下の(1)～(3)の問いに答えなさい。

- (1) 次の文を読み、以下の①と②の問いに答えなさい。
これまで、プライバシーの権利は、憲法で定められている2つが中心であった。一つは、第21条第2項の通信の秘密である。もう一つは、第35条の(ア)である。これらをもとにして、これまでは、私生活をみだりに公開されない権利として主張されてきたが、近年は、プライバシーの権利は第18条の(ウ)の一つとして保障されると考えられるようになり、情報社会の発展とともに、自分に関する情報をみずから管理する権利を含むものと考えられるようになってきている。
① 文中の空欄(ア)、(ウ)に入る最も適切な語句を選び、記号で答えなさい。
ア 職業選択の自由 イ 個人の尊重・幸福追求権 ウ 住居の不可侵 エ 生存権
② ①の文中の下線部(Ⅱ)に関して、インターネットの普及やデジタル化の促進により、情報の複製が簡単に行われるようになり、音楽や映像、ソフトウェアなどの著作物が違法に配信・ダウンロードされる事態が起きていることを踏まえて、著作権や商標権などについて法的に保護するようになってきているが、このような著作権等をまとめて知的何権といふか、漢字2字で書きなさい。
(2) 三島由紀夫の小説のモデルにされたことによってプライバシーが侵害されたとして裁判になった事件を何というか、最も適切な語句を選び、記号で答えなさい。
ア 「石に泳ぐ魚」事件 イ 「室のあと」事件 ウ マクレーン事件

政・経

問1 下線部(Ⅱ)に関して、以下の(1)、(2)の問いに答えなさい。

- (1) 次の文中の空欄(ア)～(ウ)に入る最も適切な語句を選び、記号で答えなさい。
マルタでの米ソ首脳会談は、ソ連のゴルバチョフ共産党書記長とアメリカの(ア)大統領との間で行われた。すでにヨーロッパでは、冷戦体制からの脱却が進んでいた。マルタ会談開催の前には、「ベルリンの壁」が崩壊しており、1990年には、ドイツの再統一が実現した。東欧諸国でも次々と社会主義政権が倒れ、民主化が進んだ。ソ連を盟主とする(ウ)機構は解散し、1991年12月にソ連は解体した。一方、中国では、1989年6月に、学生等による民主化運動を中国共産党政権が武力で弾圧した(ウ)事件が起きている。
ア 天安門 イ 板門店 ウ ワルシャワ条約 エ ブッシュ
オ 北大西洋条約 カ レーガン
(2) 米ソ首脳会談が行われたマルタを、次の地図中からひとつ選び、記号で答えなさい。



問2 下線部(Ⅱ)に関して、次の文中の空欄(ア)～(ド)に入る最も適切な語句を選び、記号で答えなさい。

第2次世界大戦後、かつての連合国であるアメリカとソ連が、それぞれ自由主義と社会主義を掲げ、自らの勢力圏、いわゆる西側陣営と東側陣営を形成し、政治的に対立するようになったことを東西冷戦体制と呼ぶようになった。イギリスの元首相(ア)は、こうした東西陣営対立の始まりを、1946年の「(ウ)のカーテン」演説で告げた。アメリカは、1947年の(ウ)・ドクトリンや(ド)・プランを通じて、自由主義勢力を結集し、共産主義勢力に対する「封じ込め政策」を進めていった。
ア マーシャル イ トルーマン ウ ドッジ エ ローゼンバルト
オ 鉛 カ 鉄 キ サッチャー ク チャーチル

政・経

問3 下線部(Ⅱ)に関して、国連のPKOの展開について説明した次のア～ウの文から最も適切なものを選び、記号で答えなさい。

- ア PKOは、国連安全保障理事会と加盟国間の特別協定にもとづいて創設される国連軍を基本としたものであり、軍事的強制措置を取ることができるものである。
イ PKOは、国連安全保障理事会の決議にもとづき、多国軍が中心となって編成された軍事組織であり、紛争地域に対して武力介入を行うものである。
ウ PKOは、関係国の同意を得たうえで、紛争の鎮静化や再発防止のために加盟国が自発的に提供した要員を国連が編成して、平和維持活動を主たる目的として派遣するものである。

問4 下線部(Ⅱ)に関して、以下の(1)、(2)の問いに答えなさい。
(1) EUは、1967年に、それまで欧州にあった3つの機関を合同したECを母体としている。ECの母体となった機関を3つ選び、記号で答えなさい。
ア EURATOM イ EEC ウ OSCE エ ECSC
(2) EU加盟国で使用されている共通通貨名を、カタカナで書きなさい。

問5 下線部(Ⅱ)に関して、次の文中の空欄(ア)～(ウ)に入る最も適切な語句を選び、記号で答えなさい。

アラブの春と呼ばれる民主化運動は、アフリカの(ア)で2010年から2011年にかけて起きた反政府デモによって独裁政権が打倒された(ウ)革命の影響を受けて、アラブ諸国に広がった。しかし、シリアやイエメンでは内戦が続き、混迷を深めている。この過程で、2015年には、シリアなどから数多くの人々がトルコ経由でヨーロッパに向かう欧州(ウ)危機が起こった。
ア チュニジア イ コンゴ ウ 難民 エ 通貨
キ ジャスミン ク ウーロン

問6 上記Ⅱの文中の空欄「(X)」には、ひろしさんの意見が入るが、ひろしさんの考えに関わらず、今後の世界についてあなたが考えることを、「平和」と「政治的対立」の語を使って、30字以内で書きなさい。



国 3

注1 曼荼羅図(まんだらず)……仏教における宇宙観や世界の構造、諸仏・菩薩の関係を視覚的に表現した図。曼荼羅はサンスクリット語の「manḍala(円・中心・集団)」に由来し、宇宙の秩序や仏の世界象徴する。

注2 チャンパ……2世紀末から19世紀初頭まで現在のベトナム中部部に存在した王国。チャンパ族によって築かれ、17世紀以降、ベトナム阮朝による圧迫を受け、1832年に完全に併合された。

注3 坂口安吾……小説家。『坂口安吾』で知られる。『坂口安吾』で知られる。『坂口安吾』で知られる。

注4 中国の政治には関わらない。英国が近世になって初めて「君臨すれども統治せず」を1000年前に実行している。そして万世一系の男承明子というので、その正統性を担保してきた。

注5 一番強い者が出るのではなく、天皇を出してもらって、人は政権を奪った者に従うのは嫌だが、天皇の命なら仕方ない。戦前の軍部もよく同じことを行った。

注6 これは、戦後直後「坂口安吾」で指摘したところである。坂口は戦後直後「たから自虐的」にこのことを書いて、筆者はベトナム政府を見た後「万世一系の天皇」は政治の安定のための大発明であったと考えている。その精神現象にも引き継がれている。ベトナムは中国の王権を真似して来たが、国土は水田帯であり、村社会の連合体のようなものである。そこは中国型の中央集権国家を作ろうとしたことに無理があった。ベトナムは王が少しも力を失うと、王は異なる村を権力基盤にしている者が取って代わろうとした。そのために政権が安定しない。

注7 (川島隆平)「日本人の知らないベトナムの歴史」より、ただし一部に改変を加えた。

国 5

問10 最も強く示唆されているのはどのような経緯からか。次の中から選び、記号で答えなさい。

ア 坂口安吾の『曼荼羅図』を読んだ結果。  
イ 日本の歴史を研究した結果。  
ウ ベトナムの政権が不安定な状況を見た結果。  
エ 戦後の軍部が天皇の権威を利用したことを知った結果。

問11 日本とベトナムの政治体制の違いについて、本文の記述と矛盾しないのはどれか。次の中から選び、記号で答えなさい。

ア ベトナムは村社会の連合体であるため、中国型の強い王権を確立することに成功した。  
イ 日本と異なり、ベトナムは中国と陸続きであり、その影響をうけてきた。  
ウ 日本は島国であるため、草原の騎馬民族による権威の恐れがなかった。  
エ 日本は水田は冬に水がたまるため、武力行使が容易であった。

問12 本文中で述べられている中国の強い王権の基盤として、最も適切なものはどれか。次の中から選び、記号で答えなさい。

ア 水田帯に広がる村社会の連合体。  
イ 外部からの急襲を防ぐための広大な砂漠。  
ウ 黄河と長江の間の広大な水田である中原。  
エ 万世一系の天皇という思想。

問13 本文をよんで、筆者が伝えようとしている中心的な主張はどれか。次の中から選び、記号で答えなさい。

ア 中国型の強い王権は、村社会の連合体を持つ社会では機能しない。  
イ 日本は天皇システムは、権力基盤者に支配を抑制する働きがある。  
ウ 権力は常に強い王権を生み出す原因となる。  
エ 地理的条件と農業形態が、その社会の政治権力構造に影響を与える。

問1 次の方文を読み、後の設問に答えなさい。

① ベトナムの政治は安定しない。建国から日が浅い時期に政権が安定しないのは仕方ないとも言うが、親から子へ代が替わると、それは時間を経ずに豪族が政権を奪取しようとする。これは、ベトナムには中国や日本に見られるような王位継承の思想が根付いていないからと考えられる。

② 東南アジアには、「マンダラ型」と呼ばれる権力構造がある。そこは一つの王権が大きくならず、国内にいくつもの王朝が並ぶ。仏教の密宗に由来している。また、東南アジアでは父系だけでなく母系も強く、その結果、後継者が多くなる。後継者が多くなるのは、王位継承の争いを防ぎかねるから。それに力をつき減らすために、大きな王朝を作る余裕がない。その結果、同じ国の中に小さな王朝が並ぶことになる。

③ ベトナムの西部には「チャンパ」と呼ばれる王朝があったが、その勢力が強大になることはなかった。チャンパはマンダラ型国家の一つである。ベトナムの東部には東南アジア型の強い王権が並ぶ地域があった。ベトナムには「王の権威は村の力にまで」という諺がある。王は存在するが、村の中は村共同体が管理する。この諺は、ベトナムの政権が中国型で強い皇帝が官僚を通じて人民を直接支配すると東南アジアのマンダラ型(小さな王がたぐさる)の中間に位置することを表している。

④ 筆者はマンダラ型の強い王権は権力が原因ではないと考えている。権力は水田で行われるが、耕作地帯は水田で自然の恵に恵まれ、大軍を動かすのに向いていない。また、権力は単位面積あたりの収穫量が多く、少ない面積で多くの人を養うことができる。連作障害がなかったら、他の穀物に比べてササカ(籾)の生育が速く、安定している。稲を栽培している地域は人口密度が高く、かつ水田や水路の維持に集団結束が不可欠なところから、村の結束力が強くなる。そんな社会には強い王権は必要ない。東南アジアでは水田が作られており、そこは父系と母系が両立するオゾやかな社会になった。

⑤ 日本はベトナムは中華文明のそばにある文化であり、よく似ている。ただ違う点もある。日本は島国であり、草原の騎馬民族に脅かされる恐れがない。冬は水田に水がたまる。強い王権が誕生する理由は、武力行使して隣接する地域を支配することが容易である。そんな日本はベトナムの紅河流域と同様に、ゆるい王権と強い王権が並ぶ地域になった。ただベトナムと異なるのは、政権の正統性を担保するために、万世一系の天皇というシステムを考案したこと。これは日本のオゾ型な発明である。

⑥ 平安中期になると、天皇は直接政治に関わらなくなった。それは鎌倉時代になって武家政権ができて二層階級になった。天皇政治の中心にいる

国 2

問1 次の方文を読み、後の設問に答えなさい。

① ベトナムの政治は安定しない。建国から日が浅い時期に政権が安定しないのは仕方ないとも言うが、親から子へ代が替わると、それは時間を経ずに豪族が政権を奪取しようとする。これは、ベトナムには中国や日本に見られるような王位継承の思想が根付いていないからと考えられる。

② 東南アジアには、「マンダラ型」と呼ばれる権力構造がある。そこは一つの王権が大きくならず、国内にいくつもの王朝が並ぶ。仏教の密宗に由来している。また、東南アジアでは父系だけでなく母系も強く、その結果、後継者が多くなる。後継者が多くなるのは、王位継承の争いを防ぎかねるから。それに力をつき減らすために、大きな王朝を作る余裕がない。その結果、同じ国の中に小さな王朝が並ぶことになる。

③ ベトナムの西部には「チャンパ」と呼ばれる王朝があったが、その勢力が強大になることはなかった。チャンパはマンダラ型国家の一つである。ベトナムの東部には東南アジア型の強い王権が並ぶ地域があった。ベトナムには「王の権威は村の力にまで」という諺がある。王は存在するが、村の中は村共同体が管理する。この諺は、ベトナムの政権が中国型で強い皇帝が官僚を通じて人民を直接支配すると東南アジアのマンダラ型(小さな王がたぐさる)の中間に位置することを表している。

④ 筆者はマンダラ型の強い王権は権力が原因ではないと考えている。権力は水田で行われるが、耕作地帯は水田で自然の恵に恵まれ、大軍を動かすのに向いていない。また、権力は単位面積あたりの収穫量が多く、少ない面積で多くの人を養うことができる。連作障害がなかったら、他の穀物に比べてササカ(籾)の生育が速く、安定している。稲を栽培している地域は人口密度が高く、かつ水田や水路の維持に集団結束が不可欠なところから、村の結束力が強くなる。そんな社会には強い王権は必要ない。東南アジアでは水田が作られており、そこは父系と母系が両立するオゾやかな社会になった。

⑤ 日本はベトナムは中華文明のそばにある文化であり、よく似ている。ただ違う点もある。日本は島国であり、草原の騎馬民族に脅かされる恐れがない。冬は水田に水がたまる。強い王権が誕生する理由は、武力行使して隣接する地域を支配することが容易である。そんな日本はベトナムの紅河流域と同様に、ゆるい王権と強い王権が並ぶ地域になった。ただベトナムと異なるのは、政権の正統性を担保するために、万世一系の天皇というシステムを考案したこと。これは日本のオゾ型な発明である。

⑥ 平安中期になると、天皇は直接政治に関わらなくなった。それは鎌倉時代になって武家政権ができて二層階級になった。天皇政治の中心にいる

令和8年度  
一般選抜(3教科型)問題  
国語

令和8年度  
一般選抜(2教科型)問題  
英語

国 4

問1 筆者が傍線部Cの「万世一系の天皇」というシステムを「政治の安定のための一大発明であった」と考えるに至った理由として、本文中で最も強く示唆されているのはどのような経緯からか。次の中から選び、記号で答えなさい。

ア 坂口安吾の『曼荼羅図』を読んだ結果。  
イ 日本の歴史を研究した結果。  
ウ ベトナムの政権が不安定な状況を見た結果。  
エ 戦後の軍部が天皇の権威を利用したことを知った結果。

問2 日本とベトナムの政治体制の違いについて、本文の記述と矛盾しないのはどれか。次の中から選び、記号で答えなさい。

ア ベトナムは村社会の連合体であるため、中国型の強い王権を確立することに成功した。  
イ 日本と異なり、ベトナムは中国と陸続きであり、その影響をうけてきた。  
ウ 日本は島国であるため、草原の騎馬民族による権威の恐れがなかった。  
エ 日本は水田は冬に水がたまるため、武力行使が容易であった。

問3 本文中で述べられている中国の強い王権の基盤として、最も適切なものはどれか。次の中から選び、記号で答えなさい。

ア 水田帯に広がる村社会の連合体。  
イ 外部からの急襲を防ぐための広大な砂漠。  
ウ 黄河と長江の間の広大な水田である中原。  
エ 万世一系の天皇という思想。

問4 本文をよんで、筆者が伝えようとしている中心的な主張はどれか。次の中から選び、記号で答えなさい。

ア 中国型の強い王権は、村社会の連合体を持つ社会では機能しない。  
イ 日本は天皇システムは、権力基盤者に支配を抑制する働きがある。  
ウ 権力は常に強い王権を生み出す原因となる。  
エ 地理的条件と農業形態が、その社会の政治権力構造に影響を与える。

英 2

1 下記の(A)～(D)の各問に答えなさい。

(A) 次の英文を読み、下記の問に答えなさい。

**The History of Fashion**

Fashion is the way people dress and how clothing styles change over time. A long, long time ago, people started to wear things like animal skins, leaves, and grass to cover their bodies. These types of clothes helped people protect themselves from the weather. Over time, people learned to sew with needles, so they could make clothes that fit their bodies better.

After many years, people started to wear nicer clothes. In ancient Egypt, people wore light clothes made of linen because it was very hot there. In ancient China, people wore loose clothes made of cotton or silk. These clothes wrapped around the body. In ancient Greece and Italy, people wore loose clothes made from wool. These clothes often had bright colors and designs on them.

During the Middle Ages, clothes in Europe showed who was wealthy and powerful. Only rich people could wear bright colors because the colors cost a lot to make. Kings and queens wore bright colors, soft silk, and fur. Poor people wore plain clothes made from rough fabric. Clothing rules were made to say who could wear what clothes.

In the 1800s and 1900s, big factories started making clothes with machines. This made it much faster and cheaper to make lots of clothes at once. Because of this, more people could buy new clothes, not just rich people. Clothes became less expensive and easier for everyone to get, so many families could have more choices and better things to wear. Designers began to make new styles, and people followed fashion styles they saw in pictures, movies, and later on, TV and the internet.

Since the year 2000, fashion has become more colorful and creative than ever. People started mixing different styles, like wearing sneakers with elegant dresses or jeans with sparkly tops. New materials, like stretchy fabrics and recycled clothes, also became popular. Fashion has become faster and changes more quickly than before. This is called "fast fashion," where new clothes come out in stores every week. Many people started wearing T-shirts with animation characters on them. Clothes also became more comfortable, so people could run, jump, and play while still looking cool.

英 3

問1 以下の1～5について、本文の内容に合う適切な答を、a～dの中から1つ選び、その記号を記しなさい。

1. Why did people start to wear clothes?  
a. To change their clothing styles.  
b. To stay warm or cool.  
c. To use things like leaves and grass.  
d. To protect themselves from animals.

2. What kind of clothes did people wear in ancient Greece?  
a. Tight wool clothes.  
b. Light linen clothes.  
c. Thick cotton clothes.  
d. Loose decorated clothes.

3. Which of the following is TRUE about Europe fashion in the Middle Ages.  
a. It was easy to know who was rich or poor.  
b. Rich and poor people wore the same clothes.  
c. There were no clothing rules.  
d. Poor people often wore bright colors.

4. Which is NOT TRUE about when factories started making clothes?  
a. Machines made clothes quicker at lower cost.  
b. People started to follow TV fashion styles.  
c. Only rich people could buy clothes.  
d. There were nicer things to wear.

5. What does "fast fashion" mean?  
a. Wearing T-shirts with animation characters.  
b. New clothes coming out in stores every week.  
c. Mixing different styles.  
d. Running fast while looking cool.

英 4

(B) 次の英文を読み、下記の問に答えなさい。
He has a headache. His headache started an hour ago. His head feels like it will break.
( 1 ), his head will never break. It just feels that way. The headache is in the back of his head. His headaches usually happen there. Sometimes he has headaches on the top of his head or in the front of his head. Sometimes his headaches are ( 2 ) his eyes. Sometimes his whole head hurts. He gets headaches while reading. Reading causes his headaches. He hates his headaches, but he ( 3 ) reading.

(佐藤哲三 著, Slow & Steady, 南雲堂)

問1 英文中の( 1 )～( 3 )に入る最も適切な語を、a～dの中からそれぞれ1つ選び、その記号を記しなさい。

- ( 1 ) a. In short b. Of course c. Similarly d. In addition
( 2 ) a. with b. because c. between d. outside
( 3 ) a. dislikes b. feels c. bores d. loves

問2 以下の1～2について、本文の内容に合う適切な答えを、a～dの中から1つ選び、その記号を記しなさい。

- 1. Which part of his head usually hurts?
a. The top of his head hurts.
b. The front of his head hurts.
c. The whole of his head hurts.
d. The back of his head hurts.
2. Why does he have headaches?
a. Because he likes reading a lot.
b. Because his head is broken.
c. Because he often wears glasses during class.
d. Because he studies from morning to night every day.

英 5

2 次の対話文を読み、問1～5に英語で答えなさい。なお、答えは単語や句ではなく文の形で作成しなさい。

Trip to America

Kana: What did you do during the summer vacation?
Tatsuya: I went to America with my family and visited Disneyland in California. It was my third visit to a Disneyland theme park.
Kana: That sounds exciting! What was it like?
Tatsuya: It was amazing. We stayed in a hotel near the park and spent two full days at Disneyland. We went on so many rides.
Kana: Did your family enjoy it too?
Tatsuya: Yes, we all had a great time. My dad's favorite ride was Pirates of the Caribbean, but I liked Space Mountain the best. I went on it twice because it was so much fun.
Kana: Sounds like a lot of fun. Did you buy any souvenirs there?
Tatsuya: Yes. I bought some Mickey Mouse cookies for my grandparents and some character pens for my school friends. What did you do during your summer vacation?
Kana: I went to Lake Toya with my cousins. We planned to camp in tents by the lake, but it rained on the day we arrived, so we couldn't stay in the tents. Instead, we stayed in a nice cabin nearby.
Tatsuya: That's too bad! Do you go camping often?
Kana: Yes. I usually go camping two or three times a year with my family or friends. I love being outdoors.

- 問1 How many times has Tatsuya been to a Disneyland theme park?
問2 What was Tatsuya's favorite ride at Disneyland in California?
問3 Who will Tatsuya give the Mickey Mouse cookies to?
問4 Why didn't Kana and her cousins sleep in tents?
問5 How often does Kana usually go camping?

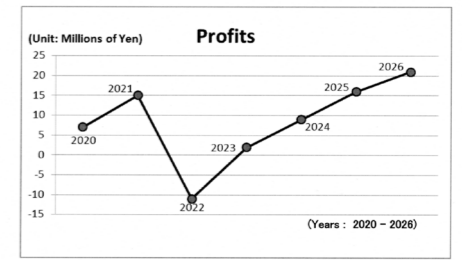
英 8

4 以下はパーソナル・コンピュータ向けホームページ画面を想定しています。この内容について各問に答えなさい。

Japanese English Chinese Korean Russian
HOKKAI GROCERIES 11th / Feb. / 2026
Company Profile
Thank you for visiting our website. (1) We appreciate the opportunity you have given us to introduce our company.
The name of our company is Hokkai Groceries. Hokkai is thought to be named after "north sea." Of course, Hokkai is strongly related to the prefecture of Hokkaido. In this (2) northern island, we import, (3) market and sell a wide range of (4) excellent foods and beverages from all over the world.
The agriculture of Hokkaido supplies a lot of food (5) within Japan. And there are various ways of cooking that are unique to Hokkaido. However, it is important for us not only to continue our local food tradition, but also to develop our food culture. (6) In addition to keeping up the agricultural and food tradition, we aim to create something new, something different for the future.
(7) Therefore, we order only high quality foods and beverages from foreign countries to create an ideal food culture, where foreign products blend with a broad range of selected products in Hokkaido. And we do the best we can to offer the results to every customer.
As of January 1st, 2026, we have a full-time staff of 38 and a part-time staff of 73. Thanks to all the customers and our staff, we achieved listing in the Hokkai Stock (8) Market in 2010.
Branch Shops
We will introduce our managing staff.
Manager for North Branch of Sapporo (opened in 2016): Sakie OKABE (since 2022)
Manager for Obihiro Branch (opened in 2019): Shunta AKAMA (since 2023)
Manager for Asahikawa Branch (opened in 2020): Kenta MAEDA (since 2024)
Manager for Hakodate Branch (opened in 2019): Sakiko HAYAKAWA (since 2025)
Hokkai Stock Exchange Stock Quote Price 837 JPY Change -17 JPY
11th Feb., 2026

英 9

Recommended Items
We recommend these items this month:
Vietnamese pho, instant noodles 320 JPY
100% grape juice 2,140 JPY
Sweet preserves, strawberry and marmalade 670 JPY
Special rock salt in packet 1,860 JPY
Sparkling beverage 410 JPY
Spaghetti, made in Turkey 180 JPY
Orange juice in carton 290 JPY
Prosciutto (Italian raw ham) 1,230 JPY
2 paper boxes of biscuits, made in France 970 JPY
Prices will be charged in Japanese yen (JPY). Taxes are included. We cannot ship overseas.



Hokkai Groceries Terms & Conditions Privacy
LOCATION [ Main Office and Online Shop ]
85 Hiragishi Avenue, New Toyohira Ward, Sapporo, Hokkaido, 068-8786, Japan.
https://www.hkgcr.co.jp/ Phone:+81 (11) 841-1161
Copyright © 2026 HOKKAI GROCERIES

英 6

3 下記の(A)～(C)の各問に答えなさい。

(A) 下記の(1)～(3)について、日本語とほぼ同じ内容の英文を作るとき、( )内の語(句)を並べ換えた際に、並べ換えた語(句)の中で4番目にくるものをa～fの中から1つ選び、その記号を記しなさい。
(1) もっと前に、車を修理しておくべきでしたね。
You should ( a. long b. car c. have had d. repaired e. your f. ago).
(2) 彼の言葉を注意して聞きませんでした。
No ( a. attention b. his c. was d. words e. paid f. to).
(3) 彼は来るたびにおみやげを持って来てくれます。
He ( a. without b. bringing c. presents d. comes e. us f. never).

(B) 下記の(1)～(4)の英文を読み、その内容として正しいものをそれぞれa～cの中から1つ選び、その記号を記しなさい。
(1) It is safe to say that ice cream is the world's favorite dessert. But it is not so easy to say just when this cold dessert was created. The development of ice cream was a long process.
a. Ice cream is not popular in many countries.
b. Everyone knows when ice cream was created.
c. Ice cream was developed over many years.

(2) Two people are sitting and talking.
Alex: Where are we going to stop?
Jack: We'll stop at the next McDonald's.
Alex: How far away is that?
Jack: I think we'll be there in half an hour.
Alex: I hope so, because I have to go to the washroom.
Jack: I can always pull over if you can't wait.
Alex: No, thank you. I'll just wait until we get there.
a. Alex and Jack are talking on a plane.
b. It will take them thirty minutes to get to McDonald's.
c. Alex can't wait to go to the washroom.

(3) Sleep is very important for all types of animals. They need sleep to rest their brains and their bodies, and to recover their energy. However, there is a surprising variety of sleeping patterns in the animal world. For example, koalas and sloths sleep for most of the day, while dolphins get almost no sleep at all. Moreover, scientists are not sure whether fish sleep like other animals do.
a. Dolphins do not sleep at all.
b. Sleeping patterns are the same for all types of animals.
c. Scientists still don't know if fish sleep like other animals do.
(4) Friends are among the most important people in our lives. They provide companionship, a sense of belonging, and listen to our problems. In today's shrinking world, as we work, study and travel abroad — and even when we remain at home — we have many opportunities to form friendships with people from other cultures.
a. Nowadays, there are more chances to make foreign friends.
b. Friends don't want to listen to your problems.
c. It is difficult to make friends at work.

(C) 次の各組の英文がほぼ同じ意味になる( )内に入る語の最も適切な組合せを、a～dの中からそれぞれ1つ選び、記号を記しなさい。
(1) This rabbit is ( ア ) the size of other rabbits.
This rabbit is two times ( イ ) than other rabbits.
a. ア twice イ big b. ア twice イ bigger
c. ア double イ small d. ア double イ smaller
(2) The typhoon ( ア ) the roof off the house.
The house had its roof ( イ ) off by the typhoon.
a. ア blown イ blew b. ア blowing イ blown
c. ア blew イ blown d. ア blew イ blowing
(3) The bus was ( ア ) of people.
The bus was ( イ ) with people.
a. ア full イ crowded b. ア empty イ filled
c. ア filled イ full d. ア crowded イ filled

英 10

(このページは白紙です)

英 11

問1 以下の(1)～(4)について、ホームページの内容に合う適切な答えを、a～dの中からそれぞれ1つ選び、その記号を記しなさい。

- (1) Which is shown on the web page?
a. Street addresses of the branch offices
b. Telephone number of the main office
c. Graph of changes in the number of staff
d. Guide map to the main office
(2) Which is TRUE about the Company Profile information?
a. Hokkai Groceries sells only food and beverages made in Hokkaido.
b. Hokkai Groceries thinks local food traditions are not important.
c. Hokkai Groceries sells only high quality foods and beverages.
d. Hokkai Groceries staff members are all full-time workers.
(3) Which is TRUE about the Branch Shops and Stock Quote information?
a. The Obihiro Branch is older than the Asahikawa Branch.
b. Kenta MAEDA is the newest member of the managing staff.
c. Three branches of Hokkai Groceries opened in the same year.
d. The stock price of Hokkai Groceries has risen since yesterday.

- (4) Which is TRUE about the Recommended Items and Profits information?
a. No recommended items are from Turkey.
b. Buying prosciutto and Vietnamese pho will cost you 1,550 JPY.
c. The profit in 2020 was higher than that in 2024.
d. Recommended items can be sent to a foreign country.

問2 下線部(2)～(5)および(7)～(8)の文中での品詞を、a～eの中からそれぞれ1つ選び、その記号を記しなさい。

- a. 動詞 b. 名詞 c. 形容詞 d. 副詞 e. 前置詞

問3 下線部(1)および(6)を日本語に訳しなさい。

英 12

- 5 下記の(A)～(C)の各問に答えなさい。
- (A) 次の(1)～(2)について、それぞれの指示に従い、語形変化した語を一語で書きなさい。
- (1) marriage を動詞にする (2) wise を副詞にする
- (B) 次の各文の( )に入れる最も適切な語(句)を、a～dの中からそれぞれ1つ選び、その記号を記しなさい。
- (1) She bought a camera ( ) me.  
a. as b. by c. for d. at
- (2) Her jokes made us all ( ).  
a. laughing b. laughed c. to laugh d. laugh
- (3) If it ( ) tomorrow, I will stay home.  
a. rain b. rains c. will rain d. rained
- (C) 次の各文について、主節のS〔主語〕に対応する適切なV〔動詞(句)〕を下線部の中からそれぞれ1つ選び、その番号を記しなさい。
- (1) It was because of this power of dream that we were able to win.  
1 2 3 4 5 6 7
- (2) Standing in front of the class is Norio, who is very popular.  
1 2 3 4 5 6 7
- (3) Late as it is, our team would like to continue the work.  
1 2 3 4 5 6 7
- (4) There is no knowing how much longer this drought will last.  
1 2 3 4 5 6
- (5) Due to your efforts, this is the third time we have won.  
1 2 3 4 5 6 7

国 7

- 7 下記の(A)～(C)の各問に答えなさい。
- (A) 次の(1)～(2)について、それぞれの指示に従い、語形変化した語を一語で書きなさい。
- (1) marriage を動詞にする (2) wise を副詞にする
- (B) 次の各文の( )に入れる最も適切な語(句)を、a～dの中からそれぞれ1つ選び、その記号を記しなさい。
- (1) She bought a camera ( ) me.  
a. as b. by c. for d. at
- (2) Her jokes made us all ( ).  
a. laughing b. laughed c. to laugh d. laugh
- (3) If it ( ) tomorrow, I will stay home.  
a. rain b. rains c. will rain d. rained
- (C) 次の各文について、主節のS〔主語〕に対応する適切なV〔動詞(句)〕を下線部の中からそれぞれ1つ選び、その番号を記しなさい。
- (1) It was because of this power of dream that we were able to win.  
1 2 3 4 5 6 7
- (2) Standing in front of the class is Norio, who is very popular.  
1 2 3 4 5 6 7
- (3) Late as it is, our team would like to continue the work.  
1 2 3 4 5 6 7
- (4) There is no knowing how much longer this drought will last.  
1 2 3 4 5 6
- (5) Due to your efforts, this is the third time we have won.  
1 2 3 4 5 6 7

国 5

- 5 下記の(A)～(C)の各問に答えなさい。
- (A) 次の(1)～(2)について、それぞれの指示に従い、語形変化した語を一語で書きなさい。
- (1) marriage を動詞にする (2) wise を副詞にする
- (B) 次の各文の( )に入れる最も適切な語(句)を、a～dの中からそれぞれ1つ選び、その記号を記しなさい。
- (1) She bought a camera ( ) me.  
a. as b. by c. for d. at
- (2) Her jokes made us all ( ).  
a. laughing b. laughed c. to laugh d. laugh
- (3) If it ( ) tomorrow, I will stay home.  
a. rain b. rains c. will rain d. rained
- (C) 次の各文について、主節のS〔主語〕に対応する適切なV〔動詞(句)〕を下線部の中からそれぞれ1つ選び、その番号を記しなさい。
- (1) It was because of this power of dream that we were able to win.  
1 2 3 4 5 6 7
- (2) Standing in front of the class is Norio, who is very popular.  
1 2 3 4 5 6 7
- (3) Late as it is, our team would like to continue the work.  
1 2 3 4 5 6 7
- (4) There is no knowing how much longer this drought will last.  
1 2 3 4 5 6
- (5) Due to your efforts, this is the third time we have won.  
1 2 3 4 5 6 7

国 6

- 6 下記の(A)～(C)の各問に答えなさい。
- (A) 次の(1)～(2)について、それぞれの指示に従い、語形変化した語を一語で書きなさい。
- (1) marriage を動詞にする (2) wise を副詞にする
- (B) 次の各文の( )に入れる最も適切な語(句)を、a～dの中からそれぞれ1つ選び、その記号を記しなさい。
- (1) She bought a camera ( ) me.  
a. as b. by c. for d. at
- (2) Her jokes made us all ( ).  
a. laughing b. laughed c. to laugh d. laugh
- (3) If it ( ) tomorrow, I will stay home.  
a. rain b. rains c. will rain d. rained
- (C) 次の各文について、主節のS〔主語〕に対応する適切なV〔動詞(句)〕を下線部の中からそれぞれ1つ選び、その番号を記しなさい。
- (1) It was because of this power of dream that we were able to win.  
1 2 3 4 5 6 7
- (2) Standing in front of the class is Norio, who is very popular.  
1 2 3 4 5 6 7
- (3) Late as it is, our team would like to continue the work.  
1 2 3 4 5 6 7
- (4) There is no knowing how much longer this drought will last.  
1 2 3 4 5 6
- (5) Due to your efforts, this is the third time we have won.  
1 2 3 4 5 6 7

国 2

- 2 下記の(A)～(C)の各問に答えなさい。
- (A) 次の(1)～(2)について、それぞれの指示に従い、語形変化した語を一語で書きなさい。
- (1) marriage を動詞にする (2) wise を副詞にする
- (B) 次の各文の( )に入れる最も適切な語(句)を、a～dの中からそれぞれ1つ選び、その記号を記しなさい。
- (1) She bought a camera ( ) me.  
a. as b. by c. for d. at
- (2) Her jokes made us all ( ).  
a. laughing b. laughed c. to laugh d. laugh
- (3) If it ( ) tomorrow, I will stay home.  
a. rain b. rains c. will rain d. rained
- (C) 次の各文について、主節のS〔主語〕に対応する適切なV〔動詞(句)〕を下線部の中からそれぞれ1つ選び、その番号を記しなさい。
- (1) It was because of this power of dream that we were able to win.  
1 2 3 4 5 6 7
- (2) Standing in front of the class is Norio, who is very popular.  
1 2 3 4 5 6 7
- (3) Late as it is, our team would like to continue the work.  
1 2 3 4 5 6 7
- (4) There is no knowing how much longer this drought will last.  
1 2 3 4 5 6
- (5) Due to your efforts, this is the third time we have won.  
1 2 3 4 5 6 7

国 4

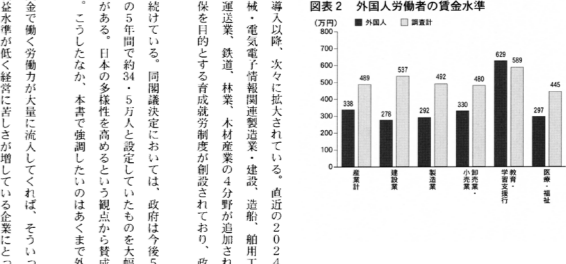
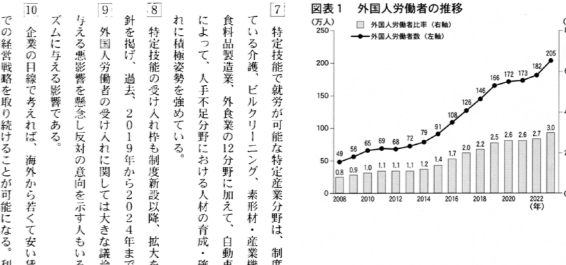
- 4 下記の(A)～(C)の各問に答えなさい。
- (A) 次の(1)～(2)について、それぞれの指示に従い、語形変化した語を一語で書きなさい。
- (1) marriage を動詞にする (2) wise を副詞にする
- (B) 次の各文の( )に入れる最も適切な語(句)を、a～dの中からそれぞれ1つ選び、その記号を記しなさい。
- (1) She bought a camera ( ) me.  
a. as b. by c. for d. at
- (2) Her jokes made us all ( ).  
a. laughing b. laughed c. to laugh d. laugh
- (3) If it ( ) tomorrow, I will stay home.  
a. rain b. rains c. will rain d. rained
- (C) 次の各文について、主節のS〔主語〕に対応する適切なV〔動詞(句)〕を下線部の中からそれぞれ1つ選び、その番号を記しなさい。
- (1) It was because of this power of dream that we were able to win.  
1 2 3 4 5 6 7
- (2) Standing in front of the class is Norio, who is very popular.  
1 2 3 4 5 6 7
- (3) Late as it is, our team would like to continue the work.  
1 2 3 4 5 6 7
- (4) There is no knowing how much longer this drought will last.  
1 2 3 4 5 6
- (5) Due to your efforts, this is the third time we have won.  
1 2 3 4 5 6 7

国 3

- 3 下記の(A)～(C)の各問に答えなさい。
- (A) 次の(1)～(2)について、それぞれの指示に従い、語形変化した語を一語で書きなさい。
- (1) marriage を動詞にする (2) wise を副詞にする
- (B) 次の各文の( )に入れる最も適切な語(句)を、a～dの中からそれぞれ1つ選び、その記号を記しなさい。
- (1) She bought a camera ( ) me.  
a. as b. by c. for d. at
- (2) Her jokes made us all ( ).  
a. laughing b. laughed c. to laugh d. laugh
- (3) If it ( ) tomorrow, I will stay home.  
a. rain b. rains c. will rain d. rained
- (C) 次の各文について、主節のS〔主語〕に対応する適切なV〔動詞(句)〕を下線部の中からそれぞれ1つ選び、その番号を記しなさい。
- (1) It was because of this power of dream that we were able to win.  
1 2 3 4 5 6 7
- (2) Standing in front of the class is Norio, who is very popular.  
1 2 3 4 5 6 7
- (3) Late as it is, our team would like to continue the work.  
1 2 3 4 5 6 7
- (4) There is no knowing how much longer this drought will last.  
1 2 3 4 5 6
- (5) Due to your efforts, this is the third time we have won.  
1 2 3 4 5 6 7

令和8年度 一般選抜(2教科型)問題

# 国語



# 北海商科大学

令和8年度

## 入学者選抜問題 解答例

### 【英語】

1

- (A) 1.b 2.c 3.d 4.a 5.c  
 (B) 問1 (1)c (2)a (3)d  
 問2 (1)c (2)b

2

1. She/Rina (first) met her/Emily (while they were skiing) in Niseko (in Hokkaido). / She/Rina (first) met her/Emily (when they were skiing) in (Niseko) in Hokkaido. They/Rina and Emily first met (while they were skiing) in Niseko (in Hokkaido).
2. She/Rina meets her (Emily) once a week. /She/Rina meets her (Emily) once a week on Saturday. /She/Rina meets her (Emily) every week on Saturday. / She/Rina meets her (Emily) every

(part time) (that night/on Sunday night). / Because of his/Satoshi's part-time (job/work) (that night/on Sunday night).

3

- (A) (1) f (2) e (3) e  
 (B) (1) a (2) b (3) b (4) a  
 (C) (1) d (2) a (3) c

4

- 問1 d c b d  
 問2 b c a c d b  
 問3  
 (1) ホッカイ動物園の使命はお客様(方)が動物たちについて学べる楽しい環境を創り出すことです。  
 (4) 当動物園へのご来園をご検討いただきあらためてお礼申し上げます。

5

- (A) (1) treat (2) easily  
 (B) (1) b (2) c (3) c  
 (C) (1) 4 (2) 2 (3) 2 (4) 2 (5) 5

Saturday.  
 / They/Rina and Emily meet (once a week/every Saturday/once a week on Saturday).

3. They/Rina and Emily traveled (there/ to Hakodate) by train. /They/ Rina and Emily went (there/to Hakodate) by train. / They/ Rina and Emily (rode a train/ went by train) (there/ to Hakodate).
4. She/Rina invites him/Satoshi to (see/watch/come to) a movie /an action movie (together) (on Sunday night). She/Rina invites him/Satoshi to join them /Rina and Emily and (watch/see/come to) a movie/an action movie (together) (on Sunday night).
5. (Because) He/Satoshi (has to/must/needs to) work (in/at his part-time job) (that night/on Sunday night). / (Because) He/Satoshi (has to/must/needs to) work

### 【世界史探究】

1

- A  
 問1 パルテノン神殿  
 問2 イ  
 問3 ウ  
 問4 イ  
 問5 ペリクレス  
 問6 ア  
 問7 ウ  
 B  
 問8 ウ  
 問9 イ  
 問10 ア  
 問11 ヒンドゥー  
 問12 ウ  
 問13 ウ  
 C  
 問14 ア  
 問15 エ  
 問16 イ  
 問17 イ  
 問18 ウ

3

- A  
 問1 ア  
 問2 イ  
 問3 イ  
 問4 ウ  
 問5 代表  
 問6 イ  
 B  
 問7 ウ  
 問8 イ  
 問9 ア  
 C  
 問10 (7)ウ (8)エ  
 問11 イ  
 問12 イ  
 問13 ア  
 問14 ア  
 D  
 問15 ウ  
 問16 モンロー  
 問17 ウ  
 問18 イギリス

2

- A  
 問1 ウ  
 問2 科挙  
 問3 イ  
 問4 ウ  
 問5 ア黄河 イ長江(揚子江)  
 B  
 問6 イ  
 問7 ア  
 問8 ア  
 C  
 問9 ウ  
 問10 石炭  
 問11 イ  
 D  
 問12 イ  
 問13 インド  
 問14 ア  
 問15 ウ  
 問16 英仏

4

- A  
 問1 ガンジス  
 問2 D  
 問3 ウ  
 問4 イ  
 問5 ア  
 問6 ガンダーラ美術  
 B  
 問7 A  
 問8 十字架  
 問9 ウ  
 問10 ア  
 問11 イ  
 問12 ウ  
 C  
 問13 B  
 問14 ア  
 問15 イ  
 問16 ウ  
 問17 ア  
 問18 イ

### 【日本史探究】

1

- 問1 ①唐 ②和同開珎 ③蝦夷(えみし)  
 ④藤原不比等 ⑤光明子 ⑥長屋王  
 ⑦藤原仲麻呂  
 問2 条坊制  
 問3 ア  
 問4 ア  
 問5 〈A〉カ 〈B〉オ 〈C〉サ  
 問6 イ  
 問7 例)佛教の持つ鎮護国家の思想で  
 国家の安定を図ろうとしたからである。

2

- 問1 御成敗式目(貞永式目)  
 問2 イ  
 問3 大犯三ヶ条  
 問4 ア  
 問5 イ  
 問6 どうり  
 問7 (ア)○ (イ)○ (ウ)○ (エ)×  
 問8 エ  
 問9 〈A〉シ 〈B〉オ 〈C〉ウ 〈D〉セ 〈E〉イ  
 〈F〉サ 〈G〉ケ  
 問10 ③御恩 ④惣領

- 問14 ⑤エ ⑥イ  
 問15  
 例)全農地の半分近くを占めていた小作地の割合は  
 1割くらいまでに減った。小作農家は大幅に減少し、  
 多くの農民が自立することになった。1町歩未満の  
 零細経営規模の農家が大半を占めるようになった。  
 その結果、寄生地主制が解体され、零細な自作農民を  
 大量に創出させた。  
 問16 イ

3

- 問1 ①琉球 ②箱館 ③井伊直弼  
 問2 ア  
 問3 最恵国待遇  
 問4 例)領事裁判権を認めたこと/  
 関税の自主権の欠如 など  
 問5 (1)④桜田門外の変 ⑤和宮 ⑥生麦事件  
 ⑦薩英戦争 ⑧池田屋事件 ⑨大政奉還  
 ⑩王政復古の号令 ⑪ええじゃないか  
 ⑫鳥羽・伏見の戦い ⑬五稜郭の戦い  
 (2)戊辰戦争

4

- 問1 青森  
 問2 続縄文文化  
 問3 高床倉庫  
 問4 ア  
 問5 イ  
 問6 エ  
 問7 ア  
 問8 ④千利休  
 問9 (1)イ (2)人足寄場  
 問10 ア  
 問11 イ  
 問12 ウ  
 問13 3

【地理探究】

1

- I  
問1 (ア)大陸 (イ)グリーンランド  
問2 (a)1 (b)4 (c)3  
問3 ア  
II  
問1 (ア)岩石(礫) (イ)メサ (ウ)ビュート  
問2 3  
III  
問1 (ア)2 (イ)4 (ウ)1  
問2 エ  
問3 ウ

2

- 問1 ウ  
問2 ①イ ②ウ ③ア ④エ  
問3 パイプライン(鉄道)  
問4 ウ  
問5 (1)① (2)イ  
問6 レアメタル

【政治・経済】

1

- 問1 1ウ 2カ 3イ 4ク 4オ 6コ 7ア  
問2 各国が為替市場に協調介入することによってドル安に誘導すること  
問3 (X)イ (Y)ウ  
問4 番号③  
正しい言葉 リーマン・ショック(世界金融危機)  
問5 1ゼロ金利 2量的緩和 2マイナス金利  
問6 ペイオフ

2

- 問1 (1)労働組合 (2)エ (3)1000 (4)ア  
問2 (1)1オ 2イ 3キ 4ア 5ク (2)ウ  
問3 (1)公的扶助 (2)社会福祉  
問4 イ  
問5 (1)A賦課方式 Bマクロ経済スライド (2)オ

3

- 問1 (1)ク (2)キ (3)オ (4)カ (5)ア (6)エ (7)ウ  
問2 (A)エ (B)オ (C)イ  
問3 (A)ウ (B)イ (C)ア (D)エ  
問4 (1)①(A)ウ(B)イ ②財産 (2)イ (3)(A)エ (B)ウ (C)ア (D)オ

3

- 問1 ウ  
問2 イ  
問3 Aイ Bウ Cア Dエ  
問4 黄砂  
問5 エ  
問6 ウイグル  
問7 ア

4

- 問1 (1)ウ (2)イ (3)カ (4)オ (5)キ  
問2 ア アトラス イ コンゴ ウドラケンスバーグ エ マダガスカル  
問3 サヘル  
問4 アフリカ大地溝帯(大地溝帯)  
問5 A国名:1 表1の記号:イ B国名:3 表1の記号:ア C国名:2 表1の記号:ウ  
問6 ウ  
問7 オ

4

- 問1 (1)(A)エ (B)ウ (C)ア (2)イ  
問2 (A)ク (B)カ (C)イ (D)ア  
問3 ウ  
問4 (1)ア イ エ (2)ユーロ  
問5 (A)ア (B)キ (C)ウ  
問6 「平和」と「政治的対立」の2語を使っていること。自分の意見が書かれていれば正解とする。

【数学I,数学A】

- (1) 計算の答  $2\sqrt{2} - 1$  一番近い整数 2  
(2)  $x = 1, -\frac{2}{3}$   
(3) 平均値 7 分散 3.6  
(4) 2個  
(5) 15通り

【1】

- (1)  $(\sqrt{2} - 1)(\sqrt{2} + 3) = 2\sqrt{2} - 1, 2\sqrt{2} - 1 = 1.8\dots$  なので、一番近い整数は2。  
(2)  $3x^2 - x - 2 = (3x + 2)(x - 1)$   $x = 1, -\frac{2}{3}$   
(3) 平均値  $\frac{5 + 5 + 7 + 8 + 10}{5} = 7$   
分散  $\frac{(5 - 7)^2 + (5 - 7)^2 + (7 - 7)^2 + (8 - 7)^2 + (10 - 7)^2}{5} = 3.6$   
(4)  $\sqrt{\frac{840}{n}}$  が自然数となるのは、  
 $n = 2^3 \times 3 \times 5 \times 7, 2 \times 3 \times 5 \times 7$  の2個。  
(5)  ${}^6C_2 = \frac{6 \times 5}{2 \times 1} = 15$

【3】

- (1) 余弦定理より  $\cos C = \frac{4^2 + 5^2 - 6^2}{2 \times 4 \times 5} = \frac{1}{8}$   
 $\cos C = \frac{1}{8}$   
(2)  $\sin^2 C + \cos^2 C = 1$  より  
 $\sin^2 C = 1 - (\frac{1}{8})^2 = \frac{63}{8^2}$   
 $\sin C = \frac{3\sqrt{7}}{8}$   
(3) 正弦定理より、  
 $R = \frac{AB}{2\sin C} = \frac{6}{\frac{3\sqrt{7}}{4}} = \frac{8}{\sqrt{7}} = \frac{8\sqrt{7}}{7}$   
 $R = \frac{8\sqrt{7}}{7}$   
(4) <理由>  
 $\cos X$  は  $X$  が鋭角のときは正の値、直角のときは0、鈍角のときは負の値を取る。  
よって余弦の値が三角形の3つの角の中にあるかどうかを調べるとわかる。  
<△ABC が鈍角三角形かどうかについて>  
最長辺に向かい合う角が最大角になる。よって、角C が最大角。このCの余弦は(1)より正なので、

【2】

- (1)  
(i)  $a = 4$  より  $y = x^2 - 4x + 5$  したがって、  
 $y = (x - 2)^2 + 1 \dots\dots\dots$ ②  
よって、頂点の座標は(2, 1)。  
また、②において  $x = 0$  とおくと  $y = 5$  なので、  
 $y$  軸との交点の座標は(0, 5)。  
頂点の座標(2, 1) 交点の座標(0, 5)  
(ii)  $D = (-a)^2 - 4 \cdot 1 \cdot (2a - 3) = a^2 - 8a + 12 < 0$   
 $(a - 2)(a - 6) < 0$   
 $\therefore 2 < a < 6$   
 $a$  の値の範囲  $2 < a < 6$   
(2) データを小さい順番に並べると  
2, 3, 4, 4, 5, 6, 15, 18, 20, 20 なので、  
平均値は  $\frac{97}{10} = 9.7$  であり、  
中央値は  $\frac{5 + 6}{2} = 5.5$   
平均値 9.7 中央値 5.5  
(3) 貯蓄の合計を調査した人数で割った値が平均値で、調査した人の貯蓄を少ない方から並べた場合、ちょうど真ん中の人の貯蓄が中央値である。中央値の人より貯蓄高が多い人達が平均を引き上げることになったと思われる。ただし、人数が偶数のときは、真ん中の2名の平均が中央値となる。

鋭角である。  
よって、△ABC は鈍角三角形ではない。

【4】

- (1) 出た目の和が8となる場合を書き並べると  
大 2 3 4 5 6  
小 6 5 4 3 2 の5通りである。  
5通り  
(2) 大きいサイコロの目が偶数となる確率は  $\frac{1}{2}$   
小さいサイコロの目が2以下となる確率は  $\frac{1}{3}$   
求める確率は  $\frac{1}{2} \times \frac{1}{3} = \frac{1}{6}$   
(3) 同じ目が出る確率は  $\frac{6}{36} = \frac{1}{6}$   
異なる目が出る確率は  $1 - \frac{1}{6} = \frac{5}{6}$   
 $1000 \times \frac{1}{6} + 200 \times \frac{5}{6} = \frac{2000}{6} = 333.3\dots$   
したがって、このゲームへの参加は得といえる。  
期待値 333 円

【国語】

一

- 問1 ①へ ②さんだつ ⑦きゅうしゅう  
⑨けんちよ ⑩ばんせいいつけい  
⑬ちゅうげん
- 問2 ④垣根 ⑤作柄 ⑥穂 ⑧素地 ⑩率先
- 問3 ちょうし その夫婦の最初の子 [完全解答]
- 問4 ぬかずく  
額を地につけて礼拝する [完全解答]
- 問5 自虐的
- 問6 ア
- 問7 ア
- 問8 会になった。
- 問9 自ら率先して権威のある者に額ずき、  
他の者にもそうさせること。
- 問10 ウ
- 問11 ア
- 問12 ウ
- 問13 エ

二

- 問1 ②ちみつ ④ひっす ⑤きと ⑦こころ
- 問2 ①連鎖 ③常識 ⑥傾向
- 問3 イ
- 問4 前途
- 問5 けて行く。
- 問6 前途を見透かす内察と直観の力を持つこと。
- 問7 本来自然を対象としなくてはならないのに、  
自分の頭を過信して、  
自然が示す現象を無視すること。
- 問8 ウ
- 問9 先入観を持たないで自然を対象とする人。

【英語】

1

- (A)1.b 2.d 3.a 4.c 5.b  
(B)
- 問1 (1)b (2)c (3)d  
問2 1.d 2.a

2

- He/Tatsuya has been (there/to a Disneyland theme park) three times. /  
It was Tatsuya's third time/visit (there/to a Disneyland theme park).
- Tatsuya's/His favorite ride (there/at Disneyland in California) was Space Mountain.
- He/Tatsuya will give (them/the cookies/the Mickey Mouse cookies) to his grandparents. / He/Tatsuya will give his grandparents (them/the cookies/the Mickey Mouse cookies).
- Because it rained (on the day they arrived/ when they arrived). /  
Because there was rain (on the day they arrived/ when they arrived).
- Kana/She usually goes camping two or three

【国語】

一

- 問1 ①避 ③把握 ⑤余儀
- 問2 ②まかな ④ふくいん ⑥いな
- 問3 aイ bエ
- 問4 高度人材に限らず、足りない労働力を賄うために  
海外からの労働力を大量に流入させる政策。  
(四十二字)
- 問5 イ
- 問6 事実上
- 問7 (旧態)依然
- 問8 オ
- 問9 ウ・オ・キ(順不同)
- 問10 日本に住む

二

- 問1 ①討議 ④変哲 ⑥事態 ⑦深層
- 問2 ②もよお ③かね ⑤と
- 問3 ア想定外のこと。考えに入れていなかったこと等。  
イツいぞ思い~をいわれた  
ウ[夕焼小焼]の中に日本人の仏教観の無常感や  
悲哀感が流れていることに改めて気がついたから。
- 問4 日本仏教の背後にある自然観、生命感が、  
何の変哲もない童謡の中に表現されている  
ということ。

times a year.

3

- (A) (1) d (2) f (3) b  
(B) (1) c (2) b (3) c (4) a  
(C) (1) b (2) c (3) a

4

- 問1 b c a b  
問2 c a c e d b  
問3  
(1) 我が社の企業紹介の機会をいただき  
感謝申し上げます。  
(6) 我が社は農業や食の伝統を保持しつつ、  
将来に向けて新しいもの、異なるものを  
創り出すことを目指します。

5

- (A) (1) marry (2) wisely  
(B) (1) c (2) d (3) b  
(C) (1) 2 (2) 4 (3) 6 (4) 2 (5) 4

- 問5 かと思う。
- 問6 a悲哀感 b無常感 (逆でも可)
- 問7 イ

# 北海商科大学

## 令和7年度

# 入学者選抜問題



**英 2**

1 下記の(A)～(B)の各問に答えなさい。

(A) 次の英文を読み、下記の問に答えなさい。

**Auckland, New Zealand**

Auckland is a big city in New Zealand, and is full of amazing things to see and do. The best time to visit Auckland is during the summer months, which are from December to February. During this time, the weather is warm and sunny, perfect for going to the beach to swim.

Spring (September to November) is a good time to visit Auckland because the parks there are full of flowers. In autumn (March to May), it's a wonderful time to go for hikes and explore nature. Winter (June to August) in Auckland is a bit cooler, but it's not too cold.

A popular place to visit in Auckland is the Sky Tower. You can take a fast elevator ride all the way to the top, where you can see amazing views of the whole city from way up high. If you're feeling brave, you can even step onto a glass floor and look straight down to the ground far below. It's a little bit scary but also a lot of fun. If you get hungry, there's a restaurant at the top where you can eat delicious food while enjoying the impressive views.

Another interesting place to visit is Auckland Zoo, where you can see kiwi birds, which are only found in New Zealand. Kiwi birds are about the size of a chicken, and have soft, brown feathers that make them look like a kiwi fruit. Kiwi birds can't fly, because they have tiny wings. A kiwi bird has a very long beak. At night, it uses it to dig in the ground to discover and eat insects, spiders, and worms. The kiwi bird sleeps during the day. Even though kiwi birds are small, their eggs are very big. After the female kiwi bird lays her egg, the male kiwi bird usually sits on the egg for about 80 days, until the egg hatches\*.

Mission Bay is a great place in Auckland to have a picnic or go swimming at a beach. If you want to see lovely plants and flowers, you should visit the Auckland Botanic Gardens. And if you like adventure, you can take a ferry boat to Rangitoto Island, where you can hike to the top of this volcanic\*\* island and see a fantastic view of Auckland.

\* hatch (卵が) かわる

\*\* volcanic 火山 (の)

**英 3**

問1 以下の1～5について、本文の内容に合う適切な答を、a～dの中から1つ選び、その記号を記しなさい。

1. What is the best month to go hiking in Auckland?
  - A. July
  - B. January
  - C. April
  - D. October
2. Which is NOT TRUE about the Sky Tower?
  - A. You can look down through a glass floor.
  - B. It has a swimming pool at the top.
  - C. You can see all the city from the top.
  - D. It has a fast elevator.
3. What do kiwi birds use their long beaks for?
  - A. To eat kiwi fruit.
  - B. To lay big eggs.
  - C. To help them fly.
  - D. To find food.
4. What is TRUE about kiwi birds?
  - A. They don't sleep at night.
  - B. They look like a chicken.
  - C. They live in New Zealand and Australia.
  - D. The female kiwi bird usually sits on the eggs.
5. What kind of person would want to travel to Rangitoto Island?
  - A. Someone who likes having a picnic.
  - B. Someone who likes hiking.
  - C. Someone who loves to see pretty plants.
  - D. Someone who likes riding a bicycle.

**英 4**

(B) 次の英文を読み、下記の問に答えなさい。

( 1 ) it might seem complicated, American football is actually a simple game. One team, known ( 2 ) the offense, must get the ball across the field to the other end or goal. The other team, the defense, tries to stop them.

The offense can move the ball by running with it, or by throwing (passing) it ( 3 ) one teammate to another. Play stops when the ball or the person running with the ball touches the ground.

(アーノルド・アラオ 三原京 他 著, *Answers to Everyday Questions 1*, 南雲堂)

問1 英文中の( 1 )～( 3 )に入る最も適切な語を、a～dの中からそれぞれ1つ選び、その記号を記しなさい。

- |             |            |             |         |
|-------------|------------|-------------|---------|
| ( 1 ) a. If | b. Because | c. Although | d. When |
| ( 2 ) a. as | b. so      | c. same     | d. such |
| ( 3 ) a. in | b. to      | c. upon     | d. from |

問2 本文の内容と一致するように、(1)～(2)の…に続く本文の内容に則した適切な答を、a～dの中から1つ選び、その記号を記しなさい。

- (1) According to the basic rules of American football, ...
  - a. play continues, even if the ball touches the ground.
  - b. the offense team passes the ball to their teammates.
  - c. the offense must get the ball into their own goal.
  - d. the defense must not block attacks from the offense.
- (2) In an American football game, ...
  - a. offense and defense teams co-operate together to score goals.
  - b. players can move the ball by throwing it.
  - c. the person running with the ball must touch the ground.
  - d. all people not running with the ball must stop.

英 5

2 次の対話文を読み、問1～5に英語で答えなさい。なお、答えは単語や句ではなく文の形で作成しなさい。

Job Interview

Kazuma: Hi Ririka. What did you do last weekend?
Ririka: I had an interview for a part-time job. I want to work part-time at a convenience store near my university.
Kazuma: Oh, great! How many hours a week do you want to work?
Ririka: I can only work on Monday and Wednesday evenings, because on the other days I have to study. I would like to work 3 hours on each day. Do you have a part-time job, Kazuma?
Kazuma: Yes, I do. I work at a pizza restaurant near Odori Park. I have worked there for two months. Before that, I worked at a clothing store in Sapporo Station for one year.
Ririka: Do you enjoy your part-time job, Kazuma?
Kazuma: Not really. The hourly pay is too low, but the people I work with are kind.
Ririka: I'm sorry to hear that your hourly pay is so low. Next year, I plan to go to Universal Studio Japan with my sister. So, I need to work part-time to save money for that trip. I have to go now. My brother is waiting to meet me at the train station.
Kazuma: Okay. Anyway, I hope you are successful and get that part-time job. Bye!
Ririka: Thanks. I hope so, too. Bye!

- 問1 What did Ririka do last weekend?
問2 How many hours a week can Ririka work part time?
問3 How long has Kazuma worked at the pizza restaurant?
問4 Why doesn't Kazuma like his part-time job?
問5 After saying goodbye to Kazuma, what is Ririka going to do next?

英 6

3 下記の(A)～(C)の各問に答えなさい。

(A) 下記の(1)～(3)について、日本語とはほぼ同じ内容の英文を作るとき、( )内の語(句)を並べ替えた際に、並べ替えた語(句)の中で4番目にくるものを a～f の中から1つ選び、その記号を答えなさい。( )内の語(句)は先頭にくるものも小文字で始まっています。

(1) この本を読めば、この国の経済のことがよくわかるよ。
This book ( a. to understand b. of c. the economy d. us e. will enable f. this country).

(2) カタログには、今年のモデルは昨年より少し高いと書いてある。
The catalog says that this year's ( a. slightly b. than c. expensive d. more e. is f. model) last year's.

(3) 僕には自分がどこに住もうがどうだっていいことだ。
It ( a. difference b. where c. no d. I e. to me f. makes) live.

(B) 下記の(1)～(4)の英文を読み、その内容として正しいものをそれぞれ a～c の中から1つ選び、その記号を記しなさい。

- (1) There are all kinds of different ways to make and enjoy a hamburger. You can fry it, grill it, or barbecue it. You can then top it with cheese and a slice of bacon, and lettuce and tomato, and spice it up with mustard, ketchup, and mayonnaise.
a. There are few ways to make a hamburger.
b. A hamburger should be grilled, but never barbecued.
c. Cheese and bacon are usual hamburger toppings.
(2) For centuries, countries all over the world have been using the seven-day week. But some countries do not have seven days in the week. Java, an island in Indonesia, uses a week with five days. This five-day week is used for cultural and traditional events.
a. Many countries have used a seven-day week for a long time.
b. Java uses a week that has only four days.
c. Java is a city in Indonesia.

英 9

Stockholder Information
We will explain more in detail later about the last annual financial statements, but present the following brief summary and report on the company's current financial condition: Sales rose around 5% this year, and annual profit increased by 25%. With sales and profit increasing, our total debt was 55 million JPY, an increase of 5 million JPY (10%) from the same time last year. However, our outlook for the next year is generally optimistic. We have to make further cost savings from all sides next year to grow a profit.
Board of Directors
Representative Director and President Sachiko KAGAWA (age: 48)
Senior Managing Director Hiroyuki ISHIZAKA (age: 51)
Director Akiohbu SAKURAI (age: 53)
Outside Director Satoko UMEDA (age: 41)
Corporate Auditor Ken FUJIKAWA (age: 45)
Representative Director and Vice-President Yuichi IZAWA (age: 49)
Managing Director Yutako HIROSE (age: 50)
Director and Executive Officer Takao TAKASHIMA (age: 47)
Outside Director Masahiko ISHIZUKA (age: 43)
Outside Auditor Takayuki YOSHIKAWA (age: 61)



\* In this graph the left vertical axis shows sales and profits (in millions), and the right vertical axis shows the number of subscribers (in millions).

Hokkai Mobile Terms & Conditions Privacy
LOCATION [ Main Office and Online Shop ]
51 Hiragishi Street, New Toyohira Ward, Sapporo, Hokkaido, 065-8765, Japan.
https://www.hokkaimobile.co.jp/ Phone: +81 (11) 841-1161
Copyright © 2025 HOKKAI MOBILE

英 10

(このページは白紙です)

英 7

(3) Red is used everywhere for all kinds of purposes. You can find red in 77% of the world's flags. Red is the international color for stop. The International Red Cross uses it to represent help and rescue.

- a. Few countries have the color red in their national flags.
b. The international color for stop is black.
c. Red is used to show help and rescue.

(4) In Ethiopia many people eat injera every day. It is like a crepe, but it doesn't taste like a crepe. They put vegetables on it, and roll them up. The host often places injera directly into the guest's mouth. It is their hospitality (omotenashi).

- a. Injera tastes like a crepe.
b. To show their hospitality, a host often places injera into a guest's mouth.
c. In Ethiopia, many people eat injera during holidays only.

(C) 次の各組の英文がほぼ同じ意味になる( )内に入る語の最も適切な組合せを、a～dの中からそれぞれ1つ選び、記号を記しなさい。

- (1) You should be careful (ア) crossing the street.
You should be careful (イ) you cross the street.
a. ア on イ when b. ア in イ when
c. ア in イ or d. ア on イ or
(2) The sidewalks are running (ア) rain.
Rain is running all (イ) the sidewalks.
a. ア with イ together b. ア by イ together
c. ア by イ over d. ア with イ over
(3) There is no need (ア) you to hurry.
You don't (イ) to hurry.
a. ア for イ go b. ア with イ go
c. ア with イ have d. ア for イ have

英 8

4 以下はパーソナル・コンピュータ向けホームページ画面を想定しています。この内容について各問に答えなさい。

HOKKAI MOBILE 8th / Feb. / 2025
Product Information
We express our gratitude to the Hokkai Mobile users and stockholders for their support and cooperation. The HMS-2x smartphone series has been successfully used by our many customers. Today, we have started shipping a new model called "HMS-24." The HMS-2x users can get a limited offer only at the online shop. This offer also includes the HMS-20 users. From February 10th through February 16th, HMS-2x and HMS-20 users can get a special 50% discount off the ordinary sales price of our newest HMS-24 model. But only if they order online. Aside from this, our old model "HMC-21" mobile phone is now available for sale online, but the sale of it will end when all the stock has been sold. And our SIM cards like "HM-SIM25" are also on sale now throughout the country. We are offering our stockholders complimentary stockholder's discount services, so please wait for our mailed information.
Management Department:
56 Asahimachi Street, New Toyohira Ward, Sapporo (since 2018).
Product Models
HMS-20 Ordinary sales price 16,000 JPY
HMS-24 Ordinary sales price 50,000 JPY
HMC-21 Ordinary sales price 12,000 JPY
HM-SIM25 Ordinary sales price 8,000 JPY
Hokkai Stock Exchange Stock Quote Price 678 JPY Change -31 JPY

英 11

問1 以下の(1)～(4)について、ホームページの内容に合う適切な答を、a～dの中からそれぞれ1つ選び、その記号を記しなさい。

- (1) Which is TRUE about information shown in Product Information?
a. The HMC-21 mobile phone is a new model.
b. The special 50% discount offer lasts seven days.
c. The company's management department is located on Hiragishi Street.
d. The company is offering its stockholders a free mobile device.
(2) Which is TRUE of the four products shown in Product Models?
a. The HMC-21 is the most expensive product.
b. One of these products costs below five thousand JPY.
c. The HMS-24 costs less than the HMS-20.
d. The HMS-20 is twice as expensive as the HM-SIM25.
(3) Which is TRUE of the Stockholder Information and the Board of Directors?
a. Sales went down this year.
b. The total debt of the company increased 25% this year.
c. The Vice-President is older than the President.
d. The Managing Director is Satoko UMEDA.
(4) Which is TRUE of the information shown in the Sales, Profits and Subscribers graph?
a. The number of subscribers increased every year since 2020.
b. Company profit was lowest in 2023.
c. Company sales were highest in 2022.
d. In 2023 there were 3,310,000 subscribers.

問2 下線部(1)～(2)および(4)～(7)の文中での品詞を、a～eの中からそれぞれ1つ選び、その記号を記しなさい。

- a. 副詞 b. 名詞 c. 動詞 d. 前置詞 e. 接続詞

問3 下線部(3)および(8)を日本語に訳しなさい。

英 12

5 下記の(A)～(C)の各問に答えなさい。

(A) 次の(1)～(2)について、それぞれの指示に従い、語形変化した語を一語で書きなさい。
(1) connectionを動詞にする (2) sureを副詞にする

(B) 次の各文の( )に入れる最も適切な語(句)を、a～dの中からそれぞれ1つ選び、その記号を記しなさい。

- (1) They are the people ( ) live next door.
a. who b. whose c. whom d. whoever
(2) We were ( ) by Ms. Tanaka last year.
a. teach b. taught c. teaching d. to teach
(3) You cannot ( ) see the monkeys at the zoo.
a. hardly b. always c. help d. never

(C) 次の各文について、主節のS〔主語〕に対応する適切なV〔動詞(句)〕を下線部の中からそれぞれ1つ選び、その番号を記しなさい。

- (a) The front doors in Japan often open outward.
1 2 3 4 5 6
(b) Paying attention in class may result in high marks.
1 2 3 4 5 6
(c) She told me where I should drive.
1 2 3 4 5 6
(d) The girl in the shop gave me too much change.
1 2 3 4 5 6
(e) Methane, a colorless gas, is the main ingredient in natural gas.
1 2 3 4 5 6



世界史探究

1 次のA、B、C、Dの文章を読んで、下の各問に答えなさい。  
西ヨーロッパ世界(フランス・ドイツ・イタリア)の成立はいつごろだったのか、ドイツは政治的分裂が長く続いたが、どのように統一に向かったのかをこの問題で取り上げた。

A 4世紀後半ゲルマン人が、西方に大移動を開始して西ローマ帝国内に進入し、この混乱の中で(あ)年、西ローマ皇帝は退位した。西ローマ帝国が滅亡すると、旧西ローマ帝国は複数のゲルマン人諸国によって分割された。その1つであるフランク王国ではメロヴィング朝を開いたクロヴィスがローマ=カトリックに改宗した。この結果フランク王国は先住のローマ人貴族を支配層に取りこむことになり、西ヨーロッパの中心勢力になる一因となった。  
フランク王国は、8世紀前半イベリア半島から進出してきたイスラーム勢力を撃退し、カール大帝の時には西ヨーロッパの大部分を支配した。800年に教皇レオ3世はカール大帝にローマ皇帝の冠を授け、ローマ教皇の政治的保護者とした。  
カール大帝の死後、カロリング朝は相継ぎから843年ヴェルダン条約、870年メルセン条約を経て(い)に分かれた。皇帝位もいずれかの家系に継承されたが、各地の大貴族(諸侯)の力が強まり、しだいにカロリング朝は無実化した。  
東フランク王国(ドイツ)では、10世紀はじめにカロリング朝の血筋が途絶えたあと有力な諸侯による王政が始まった。ザクセン朝の(う)はイタリアに遠征し、イタリア王を兼ねるようになり、962年に空位となっていたローマ帝国の冠を教皇から授けられた。以後ドイツ王に選ばれたものが皇帝となる慣例が生まれ、その国家は13世紀以降に神聖ローマ帝国とよばれ、15世紀末からはドイツ国民の神聖ローマ帝国とよばれた。

- 問1 文中の空欄(あ)に入る適切な数字を(ア)～(イ)から1つ選び答えなさい。  
(ア) 395 (イ) 476 (ウ) 481
- 問2 下線部(a)に関して、何派に改宗したのか(ア)～(イ)から1つ選び答えなさい。  
(ア) アタナシウス (イ) アリウス (ウ) ネストリウス
- 問3 下線部(b)に関して、このことの意味について正しい文を(ア)～(イ)から1つ選び答えなさい。  
(ア) 西ヨーロッパ世界が政治的・文化的・宗教的にビザンツ皇帝の属従から独立した。  
(イ) ビザンツ帝国との関係が改善され友好関係が続いた。  
(ウ) 教皇の宗教的な権威が最も高まり教皇権の優位が確立した。
- 問4 文中の空欄(い)に入る適切な語を(ア)～(イ)から1つ選び答えなさい。  
(ア) 東フランク・西フランクの二国 (イ) 東フランク・イタリアの二国  
(ウ) 東フランク・西フランク・イタリアの三国

世

問5 文中の空欄(う)に入る適切な人物を(ア)～(イ)から1つ選び答えなさい。  
(ア) ジョン王 (イ) オットー1世 (ウ) ハイリヒ4世

B ドイツ国王であった神聖ローマ皇帝は、ヨーロッパに君臨するはずであったが、歴代皇帝はイタリア政策に熱中しドイツを有効に統治することはできず、皇帝不在の大空位時代も現れた。1356年皇帝カール4世が(え)を公布して、神聖ローマ皇帝選挙の手続きを定めるとともに、皇帝選出権を世俗の七選挙侯に認めた。1438年からオーストリアの(お)家の者が世襲的に皇帝に選出されるようになった後も、独立国に近い諸侯領や都市が大小300余の領邦として分立した。  
1555年にアウクスブルクの宗教議定書が成立した後もカトリックとプロテスタントの宗教対立は続き、1618年ボヘミア(ベーメン)のプロテスタントが(お)家のカトリック教強制に反発したことからヨーロッパのほとんどを巻き込む三十年戦争が始まった。  
戦いに疲れた諸国は、1648年国際条約の先駆けになった(か)条約を結んでようやく戦争を終結させた。国際関係においてはスイスとオランダの独立が承認された。神聖ローマ帝国では、諸邦(領邦)のほぼ完全な主権が認められ帝国の分裂状態が決定的となり、神聖ローマ帝国は名目だけの存在になった。(か)条約によって、主権国家による新しいヨーロッパの国際関係秩序が構築されることになった。

問6 文中の空欄(え)に入る適切な語を(ア)～(イ)から1つ選び答えなさい。  
(ア) 大憲章(マグナ=カルタ) (イ) 金印勅書 (ウ) 憲法

問7 文中の空欄(お)に入る適切な語を答えなさい。

問8 下線部(c)に関して、この和議の内容に関して誤りのある文を(ア)～(イ)から1つ選び答えなさい。  
(ア) 諸侯や帝国都市はカトリックやルター派のいずれかを選択することが認められた。  
(イ) 領民はその支配者の宗派に従うことが定められた。  
(ウ) カルヴァン派の信仰の自由が認められた。

問9 下線部(d)に関して、三十年戦争について誤りのある文を(ア)～(イ)から1つ選び答えなさい。  
(ア) デンマークやスウェーデンはカトリック側を支援した。  
(イ) カトリックのフランスは(お)家に打撃を与えるためプロテスタント側についた。  
(ウ) 宗教戦争はヨーロッパの覇権をめぐる国際戦争へと発展した。

問10 文中の空欄(か)に入る適切な語を(ア)～(イ)から1つ選び答えなさい。  
(ア) バリ (イ) アミアン (ウ) ウェストファリア

世

C (か)条約以後ドイツ地方では、戦禍が少なかったプロイセンとオーストリアが台頭した。プロイセンとオーストリアとの関係はどのように展開したのだろうか。ドイツ騎士団からおこったプロイセン公国は、17世紀にブランデンブルク選挙侯であったホーエンツォレルン家によって相続され、18世紀はじめプロイセン王国が成立した。1740年に即位したフリードリヒ2世は、農民の保護や重商主義政策を進め宗教寛容をはかるなど典型的な啓蒙専制君主となった。  
オーストリアは、15世紀からヨーロッパ有数の名門(お)家が支配していた。1529と1683年に(き)軍によって(く)が包囲されたが、この危機を脱したのち1699年のカルロヴィッツ条約でハンガリーを奪回して強国にのし上がった。  
1740年、オーストリアでは(け)家が(お)家の家督を継いだ。しかし、女性の相続に反対する声が上がると、プロイセンはフランスとともにこれに同盟してオーストリア継承戦争を起こした。オーストリアは戦争に敗れ、鉱物資源が豊かなシュレジエン地方の大部分を失った。オーストリアはシュレジエンの奪回を目指し1756年に七年戦争を引き起こしたが、シュレジエン奪回に失敗した。フリードリヒ2世は、イギリスの支援を受けて戦いぬき、シュレジエンを確保した。

問11 下線部(e)に関して、フリードリヒ2世の言葉といわれるものを(ア)～(イ)から1つ選び答えなさい。  
(ア) 朕は国家なり (イ) 君主は国家第一の下僕 (ウ) 代表なくして課税なし

問12 文中の空欄(き)に入る適切な語を(ア)～(イ)から1つ選び答えなさい。  
(ア) モンゴル (イ) サファヴィー (ウ) オスマン=トルコ

問13 文中の空欄(く)に入る適切な語を(ア)～(イ)から1つ選び答えなさい。  
(ア) ミュンヘン (イ) ウィーン (ウ) ブラハ

問14 文中の空欄(け)に入る適切な人物を(ア)～(イ)から1つ選び答えなさい。  
(ア) エカチェリーナ2世 (イ) マリア=テレジア (ウ) イヴァン4世

問15 下線部(i)に関して、オーストリアはこのために長年敵対関係にあった国と同盟を結んだ。その相手国を(ア)～(イ)から1つ選び答えなさい。  
(ア) イギリス (イ) スペイン (ウ) ロシア (イ) フランス

D ナポレオン失脚後の国際関係を構築するため、オーストリアの外相メッテルニヒの主導で(こ)会議が開かれた。会議ははじめ継続したが、1815年ナポレオンのエルバ島脱出を契機に6月に(こ)議定書が調印された。議定書の基本原則は、フランス革命以前の王朝を(こ)とみなして、その復権をはかる(こ)主義と大國間の勢力均衡を図ることであった。会議の結果、フランスやスペインではブルボン朝が復活した。ドイツでは1806年に解消した神聖ローマ帝国は復活せず35の君主国と4自由都市で

世

構成される国家連合が成立した。  
会議で成立した国際秩序は(く)体制と呼ばれ、メッテルニヒらは体制を守るため保守主義を掲げ、自由主義的改革やナショナリズムの運動を監視し、思想統制や蜂起・革命の武力制圧を実行した。(く)体制を崩壊させる革命情勢は、1848年フランスの二月革命で始まった。  
ドイツでは1848年の革命後、(き)国民会議でドイツ統一をめぐる対立があったが、オーストリアを除いてプロイセンを中心に統一を進める小ドイツ主義の立場でまとまった。議会はプロイセン国王に皇帝就任を要請したが王はこれを拒否した。ドイツの自由主義の統一は失敗することになった。  
国王は1862年にビスマルクを首相に任命した。ビスマルクは議会の反対を無視して軍権を拡張した。1866年プロイセン=オーストリア戦争で、プロイセンはオーストリア=南ドイツ連邦をやぶった。1870年に勃発したプロイセン=フランス戦争では、プロイセン軍を中心とするドイツ軍が圧倒的優位に立った。戦争中の1871年1月、プロイセン王ヴィルヘルム1世がドイツ皇帝に即位した。ここに国民国家としてドイツ帝国が誕生した。新統一国家の国民にドイツ人意識を持たせるため、ビスマルクはさまざまな政策をとらなければならなかった。

- 問16 文中の空欄(こ)に入る適切な語を(ア)～(イ)から1つ選び答えなさい。  
(ア) 啓蒙 (イ) 復古 (ウ) 正統 (イ) 神聖
- 問17 下線部(ii)に関して、この国家連合をなんというか、(ア)～(イ)から1つ選び答えなさい。  
(ア) ドイツ連邦 (イ) ドイツ関税同盟 (ウ) ハンザ同盟
- 問18 文中の空欄(き)に入る適切な語を(ア)～(イ)から1つ選び答えなさい。  
(ア) ベルリン (イ) ミュンヘン (ウ) フランクフルト
- 問19 下線部(iii)に関して、下の文章はビスマルクの演説の一部である。文中の空欄(し)に入る適切な語を(ア)～(イ)から1つ選び答えなさい。  
(ア) 富と軍隊 (イ) 議会と政党 (ウ) 鉄と血  
「現在の諸問題は議会の演説や多数決ではなく、(し)によって解決される」
- 問20 下線部(i)に関して、右の絵はドイツ皇帝ヴィルヘルム1世の即位式の絵である。即位式が行われたバリ郊外にある宮殿名を答えなさい。



- 5 -

世

問1 下線(ii)に関して、古い記録とされ、漢字の原型となった文字の名称を漢字で答えなさい。

問2 下線(iii)に関して、モンゴル高原の中心的な場所を文中の地図のA～Cの記号から1つ選び答えなさい。

問3 下線(i)に関して、文中の写真にある始皇帝陵の兵馬俑に関する適切な説明を(ア)～(イ)から1つ選び答えなさい。  
(ア) 膨大な鉄から作られた、始皇帝の紫禁城を守る兵士と馬である。  
(イ) 万里の長城の北側の一角に造られ、匈奴にらみつきさせる兵士と馬である。  
(ウ) 兵士と馬をかたどった陶製の像で、始皇帝の陵を守っている。一人ひとりが違う表情を持つ。

問4 下線(iv)に関して、陳勝の言った「王侯将相宁无貴者乎」という言葉の適切な説明を(ア)～(イ)から1つ選び答えなさい。  
(ア) 血統や家柄でなく、実力や才能が重要であると説いた。  
(イ) 欲望を捨て、自由に生きよと説いた。  
(ウ) 力による統治でなく、徳による統治を説いた。

問5 下線(v)に関して、派遣の理由についての適切な説明を(ア)～(イ)から1つ選び答えなさい。  
(ア) 西域の諸国を服属させ、「虎穴に入らずんば虎子を得ず」の言葉を残した。  
(イ) 匈奴を討つために、大月氏と同盟を結ぼうとした。  
(ウ) 西域を調査し、大秦国(ローマ帝国)との通商をひらこうとした。

問6 下線(vi)についての適切な説明を(ア)～(イ)から1つ選び答えなさい。  
(ア) 中国からモンゴル高原を経て黒海を結ぶ交易路  
(イ) 中国からベトナムを経由して、インドに至る交易路  
(ウ) オアシス都市経由で中国から地中海に至る交易路。絹の道ともいわれる。

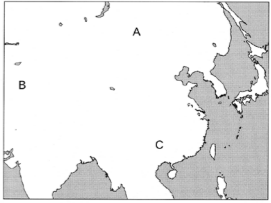
問7 下線(vii)が実施した新たな土地制度は国家が農民に土地を与えて、小家族を基本とする社会をつくらうとするものであった。新たな土地制度を(ア)～(イ)から1つ選び答えなさい。  
(ア) 三長制 (イ) 均田制 (ウ) 荘園制

B 6世紀末、中国はようやく隋によって統一されました。ただ、その期間は短く618年には唐の時代となりました。唐は律令に従った整然とした統治制度をつくりまわした。唐は遊牧民族の自治を認め、広大な領域を支配しました。都の長安は国際色豊かな世界の大都市になりました。人口は100万人を超えたそうです。  
8世紀半ばに安史の乱が起こりますが、これを機に唐の最盛期は過ぎて、社会や経済は大きく変わるこ

世

2 次のA、B、Cの文章は、ある高校の世界史授業の記録です。  
中国史の王朝の交替と北方の騎馬遊牧民の関係を復習しています。先生の授業記録の下線部分の問いに答えなさい。

A 中国の歴史は黄河河流域から始まりますね。歴史は記録の集まったものですから、この時文字がつけられました。黄河の北方にはモンゴル高原が広がっています。広大な草原です。それは西へ、西へ、黒海にかけて進んでいます。この草原地帯には羊や馬などの家畜を連れて草や水を求めて移動する遊牧民がいました。



<地図>

遊牧民が青銅器製や鉄製の馬具を持つと、機動性のすぐれた軍事力を持つ騎馬遊牧民となりました。彼らはしばしば中国の王朝を圧迫し、時には侵入し占領しました。前3世紀後半からモンゴル高原に匈奴という騎馬遊牧民が現れ、単于と呼ばれる君主の下で強大な遊牧国家がつけられました。匈奴は中国の秦や漢を強く圧迫しました。



<兵馬俑>

秦の始皇帝は30万人の軍を出して匈奴と戦い、万里の長城を修築しました。ですが、たぐさんの戦争や大規模な土木工事で、人々の生活は苦しくなりました。そのため始皇帝が死ぬと、陳勝・呉広の乱が起こり、それを機に各地で反乱が起こり、秦はあっという間に滅びました。

次の王朝は漢です。武帝の時代になると匈奴を撃退できるようになり、張騫を大月氏に派遣したりしました。  
後漢の時代になると西域の事情がさらにわかるようになり、東西交通が盛んになりました。オアシスの道が本格的につながり、また海を通じての通商も盛んになりました。  
後漢が220年に滅ぶと、中国は隋によって統一されるまで、魏晋南北朝といわれる分裂と混乱の時代となりました。この時代にモンゴル高原で強い力を持ったのは鮮卑という騎馬遊牧民です。南下して万里の長城を越え北魏という国を建て、中国の華北を統一しました。

世

とになりました。9世紀前半に黄巢の乱が起こり、反乱が各地に広がるなかで唐は滅び、五代十国という実力抗争の時代となりました。  
五代十国の抗争を終わらせ、中国を統一したのは宋でした。宋の皇帝は親衛軍を強化しましたが、政治は武人ではなく文人官僚がとりおこなうようになりました。このため、辺境の軍事力は弱体化しました。この頃、北方で強かった騎馬遊牧民はキタイ(遼)でした。そのためキタイと遼の盟を結んで平和を保ちました。

問8 下線(viii)について、隋は官僚を試験で選抜する新しい人材登用制度を始めた。1905年に廃止されるまでは続いたこの制度を(ア)～(イ)から1つ選び答えなさい。  
(ア) 九品中正法 (イ) 察舉里選 (ウ) 科擧

問9 下線(i)に関して、中央政府は三者をおいた。三者についての適切な説明を(ア)～(イ)から1つ選び答えなさい。  
(ア) 中央官制の最高機関で、中書省・門下省・尚書省である。  
(イ) 中央機関の軍機処が皇帝の詔勅を審議し三者が実施した。  
(ウ) 三者は州限制による地方行政区の制度である。

問10 下線(ii)の鎮圧を援助した北方の騎馬遊牧民を(ア)～(イ)から1つ選び答えなさい。  
(ア) 柔然 (イ) ヴイグル (ウ) 匈奴

問11 下線(iii)に関して、適切な説明を(ア)～(イ)から1つ選び答えなさい。  
(ア) 三者を廃止して、権力を皇帝に集中させ、農村では里甲制を実施した。  
(イ) 海上貿易が発展し、銀が流れ込み、税制も地丁銀兩になった。  
(ウ) 商業の発展で致富の差も大きくなり、形勢戸と呼ばれる新興地主階級が台頭し、各地の節度使は自立の傾向を強めた。

問12 下線(iv)に関して、文人官僚の政治を何というか、漢字で答えなさい。

問13 下線(v)についての適切な説明を(ア)～(イ)から1つ選び答えなさい。  
(ア) 宋が元、キタイを弟として、宋は絹や銀をキタイにおくり国境を守った。  
(イ) 宋は国境を守るためにネルチンスク条約を結び、キタイの支援を受けた。  
(ウ) 宋は大遼河を造り、キタイの商業活動を支援し、京畿郡をおいた。

C 12世紀初、キタイ(遼)の東部にいた女真族が自立し金を建国しました。宋は金と同盟し、キタイを破ったのですが、金との約束を守らなかったため、怒った金は宋へ攻め入り都の都府を占領しました。宋は江南に逃れ、北宋は滅亡することになりましたね。

世

13世紀には、金も江南に逃れた南宋も、モンゴル高原に現れたチンギスハーン(ハン)が建国した空前の規模となるモンゴル帝国に圧制されました。...

- 問14 下線⑩についての適切な説明を①～④から1つ選び答えなさい。
問15 下線⑪に関して、明の時代は騎馬遊牧民だけでなく、東南沿岸も海賊行為によって苦しめられた。
問16 下線⑫に関して、清は征服王朝として圧倒的に数の多い中国の人々を支配したが、その体制について適切な説明を①～④から1つ選び答えなさい。
問17 下線⑬に関して、清は1911年の出来事により滅亡した。この出来事の説明として、適切な文章を①～④から1つ選び答えなさい。

世

3 次のA, B, C, Dの文章を読んで、下の各問いに答えなさい。
ヨーロッパ諸国が世界を支配していく情勢はいつごろから始まったのか、「世界の一体化」・「グローバル化」はいつごろから始まったのか、この問題では開始時期や、意義、ヨーロッパ諸国の覇権争いについて取り上げた。

- A 「世界の一体化」は大航海時代(ヨーロッパの海外進出)の幕開けとともに始まった。
B 15世紀初めより、「航海王子」エンリケの下で北アフリカのセウタ占拠をきっかけにアフリカへの進出をはじめた。
C アジア進出に遅れたスペインは、イスラーム勢力の拠点グラナダを攻略しレコンキスタを完了した。
D アジアを舞台にした大交易時代は、17世紀に終わりを告げた。
問1 文中の空欄(あ)、(い)に入る適切な人物を答えなさい。
問2 下線部⑭に関連して、イベリア半島に進出していない王朝がある。
問3 下線部⑮に関連して、下図は15世紀前半、明朝の宦官鄭和の遠征路である。

世

を建設した。オランダは17世紀の海洋大国であった。

- 問10 下線部⑯に関して、廻りのある文を①～④から1つ選び答えなさい。
問11 下線部⑰に関連して、1652年オランダが建設した植民地を①～④から1つ選び答えなさい。
問12 文中の空欄(か)に入る適切な語を①～④から1つ選び答えなさい。
問13 文中の空欄(き)に入る適切な語を①～④から1つ選び答えなさい。
問14 文中の空欄(く)に入る適切な語を①～④から1つ選び答えなさい。

D アジアを舞台にした大交易時代は、17世紀に終わりを告げた。18世紀に入ると、イギリスとフランスの対立が経済覇権抗争の軸となった。なぜイギリスとフランスの覇権争いがグローバルな戦いになったのだろうか。
イギリスとフランスは、17世紀後半からそれぞれ重商主義政策をとっていた。フランスは、ルイ14世が官僚制と常備軍を整え、コルベールを登用して重商主義政策を推進した。
インドでは、ムガル帝国の内紛に乗じて英仏ともに地方勢力をまきこみ対立を激化させた。イギリス東インド会社は、1757年に(こ)の戦いでフランスが支援するベンガル太守軍を破りイギリスのインド支配の基礎を固めた。

世

植民地でのフランスに勝利したイギリスは、19世紀には「世界の工場」になり、製品の輸出市場や原料の供給を世界中に求め広大な植民地帝国を確立した。イギリスが世界経済の中心に位置するようになり、さらに「世界の一体化」を推し進めた。



- 問15 下線部⑱に関して、ルイ14世の肖像を①～④から選び答えなさい。
問16 文中の空欄(け)に入る適切な語を①～④から選び答えなさい。
問17 下線部⑲に関して、ムガル帝国に関する説明で廻りのある文を①～④から1つ選び答えなさい。
問18 文中の空欄(こ)に入る適切な語を①～④から1つ選び答えなさい。
問19 文中の空欄(さ)に入る適切な語を答えなさい。

世



- 問4 下線部⑳に関して、この条約の仲介(または追認)者は誰か、またこの条約によってブラジルはこの国の領土になったか、組合せの正しいものを①～④から1つ選び答えなさい。

B スペインは、(あ)の探検以後アメリカ大陸の進出を本格化した。征服事業は、征服者(コンキスタドル)と呼ばれる残虐な男たちによって進められた。
1545年になるとポトシ銀山が発見された。メキシコにも有力な銀山が見つかり、これらの銀山を開発した。スペインは、一部の銀をガレオン船で太平洋のアカプルコから(お)に運びメキシコ銀と中国物産を交易した。さらに中国には近隣から大量の銀が流入していた。
銀を基軸とした交易の活性化は、南北アメリカ大陸とアフリカ大陸そしてユーラシア大陸各地の広域ネットワークの結びつきを急速に深め、「世界の一体化」・「グローバル化」を推し進めた。

世

- 問5 文中の空欄(う)、(え)に入る適切な語の組合せを①～④から1つ選び答えなさい。
問6 文中の空欄(お)に入る適切な語を①～④から1つ選び答えなさい。

- 問7 下線部㉑に関して、ヨーロッパに輸出された商品の中で中国物産でないものを①～④から1つ選び答えなさい。
問8 下線部㉒に関して、次の⑴、⑵の問に答えなさい。
問9 下線部㉓に関して、どのような影響があったか、廻りのある文を①～④から1つ選び答えなさい。

C ポルトガル・スペインの貿易独占に対抗したのはオランダであった。なぜ、オランダは最も有力な交易勢力の1つになったのだろうか。15世紀末からスペインの支配下にあったネーデルランドは、1568年から独立戦争を起こし、北部7州は1581年ネーデルランド共和国を成立させた。ネーデルランドは早くから経済的に繁栄していたが、独立直後から経済活動は制約に活性化された。
1602年にオランダ東インド会社を、1621年にはオランダ西インド会社を設立しアフリカ南部、アジア、カリブ海などに進出した。アジアでは、ポルトガルの拠点であったマラッカ、マルク(モルッカ)諸島を占領した。また、1623年のポンボイ事件でインドに進出してきていた(か)をこの地域から追い出し、ジャワ島の(き)を拠点に香辛料貿易を独占した。オランダは諸国下の日本で、唯一交易を許された。オランダはアジアだけでなく北アメリカ大陸にも進出し、(く)を中心とする植民地を築いた。

世

- 4 次のA, B, Cの文章を読んで、下の各問いに答えなさい。
イギリスは市民革命、産業革命という大きな変化を経て、19世紀にバクス=ブリタニカと呼ばれる時代を築いた。近世から近代にいたるイギリスの歴史について答えなさい。

A イギリスは1603年スコットランドの国王を迎え、ステュアート朝が始まった。ステュアート朝の国王は専制政治を行い議会对立した。議会は1628年権利の請願を発したが、国王は議会を解散し、以後11年間にわたって議会を開かなかつた。1640年国王はスコットランドの反乱の鎮圧費用を得るため課税しようとして議会を召集したが、議会は国王の権利の制限を決議した。そのため内戦が始まり、この内戦は革命となった。議会は王党派に勝利し、裁判を経て1649年に国王を処刑し、イギリスは共和政になった。
しかし、その後イギリスは王政復古し、チャールズ2世が国王となった。チャールズ2世は専制的な政治はしないと約束したが、王位継承者のジェームズ2世はフランスのルイ14世を模範としてカトリック教徒として即位し、専制政治の強行に動いた。そこで議会はジェームズ2世の新教徒である長女メアリーとその夫の監督ウィレムをイギリスに招き、ウィレムは軍隊を引き連れイギリスに上陸した。ジェームズ2世は孤立し、フランスに亡命した。血を見ることなく革命が成就したので、名譽革命といわれた。

- 問1 下線㉔の年に、スペインのアルマダ(無敵艦隊)を撃破したイギリス女王が亡くなり、チューダー朝が終わった。このイギリス女王を①～④から1つ選び答えなさい。
問2 下線㉕についての適切な説明を①～④から1つ選び答えなさい。
問3 下線㉖にはピューリタン革命とよばれるが、その理由についての適切な説明を①～④から1つ選び答えなさい。
問4 下線㉗に関して、その理由を①～④から1つ選び答えなさい。

世

- 問5 下線㉘に関して、ウィレムはどこ総督か、①～④から1つ選び答えなさい。
問6 下線㉙に関して、社会契約説をとなえて専制におちいった権力に対する人民の抵抗権を正当化したジョン=ロックの著書の名称を①～④から1つ選び答えなさい。

B 18世紀になると議政政治はさらに発展し、1721年以後ホイッグ派のウォルポールが内閣の指導を任せられるようになった。ウォルポールが議院選挙で敗れた時、国王は彼を支持したがウォルポールは首相を辞任した。ここに選挙と議決の結果を重視する議院内閣制が確立した。
国王に対する議会の強さの背景には中産階級が大きな力を持つようになったことがある。それは対外的にも活発な植民地活動や、のちに第二次英仏百年戦争といわれる戦争の勝利の大きな要因でもあった。イギリスはインドや新大陸などに広大な植民地を得て、その地域の貿易で大きな利益を得た。これらは来たべき産業革命が世界で最初にイギリスで起こった理由になる。大きな利益は資本になり、広大な植民地は市場になった。産業革命が起こる要因には豊富な労働力があつたことも重要である。それは農業革命によってもたらされた。

- 問7 下線㉚に関して、適切な説明を①～④から1つ選び答えなさい。
問8 下線㉛は責任内閣制ともいわれる。適切な説明を①～④から1つ選び答えなさい。
問9 下線㉜に関して、適切な説明を①～④から1つ選び答えなさい。

世

問10 下線①に関して、適切な説明を①～④から1つ選び答えなさい。  
 ① 荘園に普及した三圃制により、麦の収穫が著しく増大した。  
 ② 毛織物産業が発達し、牧羊地のために土地が開かれ農民が追い出された。  
 ③ 穀物栽培の効率を上げるため土地が開かれ農民が追い出された。

C イギリスは毛織物産業が発達していたが、18世紀になると手織りの綿布(キャラコ)が毛織物をしのぐ勢いで増加した。そのためイギリスでもこれを生産しようと、様々な試みが行なわれ、そのような中で機械が発明された。1733年にはジョン・ケイの飛び軒が発明され、半世紀後カトライトが力織機を発明した。蒸気機関はニューコメンが実用化し、ワットが熱効率の良い蒸気機関に改良した。機械と蒸気機関は大規模な工場を生み、生産の中心は農業から工業に移った。都市が各地に生まれ工場労働者が増えた。しかし、職人たちも多数存在した。彼らは機械によって職を失った。機械を打ち壊そうとする職人もいたが、哲学者ベーコンの「知は力なり」という言葉を掲げ、ワットのように原理を学び発見・発明を目指す人々もいた。だが、機械は知識や技術を持つ労働者を必要とせず、その結果女性や子供まで長時間・低賃金で働かされ、大きな社会問題となった。

劣悪な環境に置かれた労働者はやがて団結して労働組合をつくり、労働条件の改善を求めた。そのような中で資本主義そのものを批判し、理想の社会の実現を目指す社会主義思想も生まれた。  
 産業革命が進行する中で、イギリスでは自由主義改革が進んだ。  
 産業革命による工業力は他国を圧倒し、世界の覇権をイギリスは握った。パクス・ブリタニカと呼ばれる時代が来たのである。それを象徴するのが1851年開催の第一回万国博覧会であった。

問11 下線②の生産地を①～④から1つ選び答えなさい。  
 ① フランス ② アメリカ ③ インド

問12 下線①の特長を①～④から1つ選び答えなさい。  
 ① 電氣を使った機械  
 ② 水車を使った機械  
 ③ 蒸気力を使った機械

問13 下線③に関して、適切な説明を①～④から1つ選び答えなさい。  
 ① 鉱山の排水に利用した。  
 ② 機関車の動力に利用した。  
 ③ 船の動力に利用した。

世

問14 下線④に関して、労働者保護のために制定された法律を①～④から1つ選び答えなさい。  
 ① 教育法 ② 工場法 ③ 養老保険

問15 下線⑤に関して、社会主義思想を集大成したドイツのマルクスの著書を①～④から1つ選び答えなさい。  
 ① 資本論 ② 種の起源 ③ エミール ④ リヴァイアサン

問16 下線⑥に関して、1832年の選挙法改正についての適切な説明を①～④から1つ選び答えなさい。  
 ① チャーティスト運動の政治綱領の、21歳以上の男子普通選挙権が認められた。  
 ② 庶政選挙区が廃止され、中産階級の参政権などが認められた。  
 ③ カトリック教徒の公職就任を認め、イギリスの宗教的差別はなくなった。

問17 下線⑦に関して、この万国博覧会はどこで開催されたか、①～④から1つ選び答えなさい。  
 ① パリ ② マンチェスター ③ オスロ ④ ロンドン

日

問5 下線部⑮に関して、史料の空欄(イ)～(ロ)に適する語を下の語群からそれぞれひとつ選び、記号で答えなさい。また、史料の下線部⑯の漢字の読み方をひらがなで答えなさい。

史料  
 凡そ口分田給はむことは、男に(イ)段。女は三分が一減せよ。五年以下には給はず。凡そ田は、(ロ)年に一たび罷へ。……若し身死にたるを以て田返くべくは、罷はむ年に至らむ毎に、即ち取戻らば従へよ。

凡そ令条の外の種番は、人毎に均しく使へ。惣て(ロ)日に過すこと得じ。

凡そ兵士の京に向ふをば、衛士と名づく。……迎守るをば、防人と名づく。

<語群>  
 ア. 二 イ. 六 ウ. 六十

問6 下線部⑰に関して、歴史用語に年号(元号)を含むものが少なくないが、奈良時代の年号(元号)を使用した歴史用語として正しいものをひとつ選び、記号で答えなさい。  
 ア. 安政の大獄 イ. 永仁の徳政令 ウ. 平治の乱 エ. 天平文化

問7 文中の空欄(⑧)に入る最も適切な語句を答えなさい。


《C》  
 遣唐使の航路は、7世紀には朝鮮半島を経由する北路がとられていたが、8世紀に入り(⑦)との関係が悪化するや南路が採用された。702年、藤原真人を首魁とする遣唐使が任命される。約30年間途絶えていた唐との外交が再開された。中国の海岸に着いた使節は取り調べの役人の「何処の使人か」の質問に、「(⑧)国の使」と答え、「唐」の国名を改めている。「(⑧)」という国号が正式に制定されたのは、おそらく天武・持統朝と推定されている。

問8 文中の空欄(⑦)と(⑧)に入る最も適切な国名を答えなさい。

問9 下線部⑱に関して、この時の遣唐使には『万葉集』に収録されている農民の貧しさと里長の苛酷な税の取り立ての様子を、貧者と窮者の問答形式で詠んだ長歌の作者も随行している。その人物として正しいものをひとつ選び、記号で答えなさい。  
 ア. 小野妹子 イ. 犬上御田藏 ウ. 山上徳良 エ. 高向玄理

日

問10 幾度もの渡来失敗で盲目になりながらも来日し、戒律を伝え東大寺に初めて設けた戒壇で孝謙天皇等に授戒し、のち唐招提寺を開いた唐僧の像として正しいものをひとつ選び、記号で答えなさい。



《D》  
 律令国家が確立した奈良時代には、天武天皇の時代から始められた天皇の国家統治の由来を物語る歴史書の編纂も、『古事記』『日本書紀』として完成した。歴史書とともに地誌の編纂もおこなわれ、その国の地理・産物・伝説などの調査報告書である『(⑩)』がつくられた。

問11 下線部⑲に関して述べた次の文 X と Y について、その正誤の組合せとして正しいものをひとつ選び、記号で答えなさい。

X:『古事記』は大安万侶が筆録したものである。  
 Y:『日本書紀』『続日本紀』など六つの正史が編纂され、六国史と総称される。

ア. Xー正 Yー正 イ. Xー正 Yー誤  
 ウ. Xー誤 Yー正 エ. Xー誤 Yー誤

問12 文中の空欄(⑨)に入る最も適切な語句を答えなさい。

日本史探究

1 律令国家への道に関する次の《A》～《D》の文章を読み、下の設問に答えなさい。

《A》  
 671年の冬、天智天皇は生涯を閉じた。翌672年、その子の(①)が政権の中心についたが、天智の弟の(②)と権力をめぐって対立し、(③)の乱がおこった。(②)は(①)を滅ぼし、飛鳥浄御原宮で即位し、天武天皇となった。天武は皇后とともに、律令の制定に着手することを命じた。天武が亡くなると、皇后が持統天皇となって、689年に飛鳥浄御原令を施行した。律令とともに天武が着手した新しい京の建設も、持統朝に完成し、694年に遷都した。

問1 文中の空欄(①)と(②)に入る最も適切な語句の組合せとして正しいものをひとつ選び、記号で答えなさい。

ア.(①)大友皇子 (②)中大兄皇子  
 イ.(①)大友皇子 (②)大海人皇子  
 ウ.(①)大海人皇子 (②)大友皇子  
 エ.(①)大海人皇子 (②)中大兄皇子  
 オ.(①)中大兄皇子 (②)大海人皇子  
 カ.(①)中大兄皇子 (②)大友皇子

問2 文中の空欄(③)に入る最も適切な語句を答えなさい。

問3 下線部④に関して、完成し遷都した都として正しいものをひとつ選び、記号で答えなさい。  
 ア. 平安京 イ. 平城京 ウ. 恭仁京 エ. 藤原京

《B》  
 持統天皇は、697年、皇位を軽皇子に譲った。これが文武天皇である。持統は太上天皇として文武を後見した。701年、藤原鎌足の子の(④)と刑部親王らによって(⑤)が完成し、中央集権的な律令国家が成立した。また、これまでも断続して年号が用いられたことがあるが、この律令の制定にあわせて年号(元号)が制度化され、これ以後は改元されながら、近現代の明治・大正・(⑥)・平成そして現在の令和まで連続している。

問4 文中の空欄(④)と(⑤)に入る最も適切な語句をそれぞれひとつ選び、記号で答えなさい。  
 ア. 藤原定家 イ. 藤原基経 ウ. 藤原不比等  
 エ. 近江令 オ. 大宝律令 カ. 養老律令

日

2 9世紀から16世紀に関する年表と《A》～《E》の文章を読み、下の設問に答えなさい。

西 暦	事 項	政治の動向
8 6 6	藤原良房、摂政	前期摂関政治の開始
9 6 7	摂関の常設	後期摂関政治の開始
1 0 6 8	後三条天皇、即位	延久の国政改革に続く院政時代
1 1 6 7	平清盛、太政大臣	武家政権の開始
1 2 6 8	蒙古の国書到来	公武一統政権に向かう
1 3 6 8	応安の半濟令	南北朝の動乱の終息
1 4 6 7	応仁の乱の開始	戦国時代の到来
1 5 6 8	織田信長の入京	統一政権に向かう

(五味文彦『日本の歴史4 武士の時代』岩波ジュニア新書より)

《A》  
 上の年表を見ると100年ごとに大きな変動が訪れていることがわかる。「日本の社会や日本をとりまく東アジア世界に百年ごとのサイクルのようなものがあるのかもしれませんが」(『日本の歴史4 武士の時代』)と考えられている。藤原良房は866年の(①)の変のとき、正式に皇族以外で初めて摂政に就任した。後期摂関政治の時代には藤原道長のあとを継いだ(②)は、3天皇の50年にわたって摂政・関白を務めた。後三条天皇は時の摂政・関白を外戚としないこともあって、新たな政治を進めた。

問1 文中の空欄(①)と(②)に入る最も適切な語句をそれぞれひとつ選び、記号で答えなさい。  
 ア. 承和 イ. 応天門 ウ. 安和  
 エ. 藤原冬嗣 オ. 藤原純友 カ. 藤原頼通

問2 下線部③に関して述べた文として正しいものをひとつ選び、記号で答えなさい。  
 ア. 天皇は摂関政治の弊害をみて成長してきたため、菅原道真らの学識にすぐれた人材を登用した。  
 イ. 荘園の増加により公領が圧迫されているとして、延久の荘園整理令をだした。  
 ウ. 院の御所に北面の武士において直隕の軍事力を組織した。

《B》  
 『平家物語』や『太平記』が都の道ばたで語られた中世は、全国で新興の武士の動きが活発化する一方で、戦乱や災害、飢饉が続いて社会不安が蔓延すると、内面的な信仰を重視した仏教が民衆の広い支持を集めた時代であった。武家政治のはじめに位置づけられる平清盛は政界で異例の昇進をとげ、1167年太政大臣に昇りつめた。源頼朝が相模の(③)を本拠地と定め、1192年、征夷大将軍に任じられ、武家政権が名実ともに成立した。

日

問3 下線部④の史料の冒頭文として正しいものをひとつ選び、記号で答えなさい。  
 ア. 今は昔、竹取の翁といふおのありけり。野山にまじりて竹をとりつつ、よろづのことにつかひけり。イ. 春はあけぼの、やうやう白くなりゆく山ぎは、少し明かりて、紫だちたる雲の細くたぎきたる。ウ. 祇園精舎の鐘の声、諸行無常の響きあり、沙羅双樹の花の色、盛者必衰の理をあらはす。

問4 下線部⑤に関して述べた文として語っているものをひとつ選び、記号で答えなさい。  
 ア. 鎌倉時代に広まった新仏教の大きな特徴は、戒律や学問を中心とした仏教である。  
 イ. 法然は、念仏を一心に唱えれば極楽に往生できると説いた。  
 ウ. 道元は、ひたすら坐禅の実践によって悟りの境地に到達することをめざした。

問5 文中の空欄(③)に入る最も適切な語句を答えなさい。

《C》  
 1268年、(④)は日本に朝貢を求めた国書を送ってきたが、幕府は返書を送らず、8代執権(⑤)は「蒙古への用心」を指合した。その後も国書と使者を送ってきたが、(⑤)は黙殺した。元は(⑥)の軍勢もあわせて、1274年、対馬・壹岐・松浦を占拠し、博多湾に上陸した。幕府軍は苦戦したが、元軍も損害が大きく、内部対立などもあって退いた。元は、再び日本征服を目指し、1281年、九州北部に上陸したが、御家人の奮戦や防壁によって博多湾岸への上陸はまげられている間に暴風雨が襲い元軍は大損害を受け、再び撤退した。

問6 文中の空欄(④)と(⑥)に入る最も適切な語句の組合せとして正しいものをひとつ選び、記号で答えなさい。

ア.(④)チンギス・ハン (⑥)高麗  
 イ.(④)チンギス・ハン (⑥)高句麗  
 ウ.(④)フビライ・ハン (⑥)高句麗  
 エ.(④)フビライ・ハン (⑥)高麗

問7 文中の空欄(⑤)に入る最も適切な語句を答えなさい。

問8 下線部⑥の出来事を何というか、正しいものをひとつ選び、記号で答えなさい。  
 ア. 文永の役 イ. 応永の外寇 ウ. 刀伊の入寇 エ. 慶長の役

目

問9 下線部(㉔)のモンゴル襲来後の政治に関して述べた文として**誤っているもの**をひとつ選び、記号で答えなさい。  
 ア. 幕府は警戒態勢をゆるめず、九州地方の御家人を引き続き異国警備番役に動員した。  
 イ. 幕府は戦いに動員した御家人などに十分な恩賞を与えることができなかった。  
 ウ. 北条氏の権力は弱まり、なかでも宗家の家督を継ぐ幕府の勢力が弱体化した。

《D》  
 後醍醐天皇による新政の終焉後、約60年におよぶ全国的な南北朝の動乱が始まった。北朝側では足利尊氏・直義兄弟の間で政治方針をめぐる対立が決定的となり、全国規模の戦乱に発展した。南北朝の戦乱のなか、室町幕府は守護に対し、荘園年貢の半分を兵糧米とすることを認め、幕府への支持をとりつけた。

問10 下線部(㉒)に関して、次の史料は後醍醐天皇の新政に関するものである。下の史料を参照して、a～dの文について、正しいものの組合せをア～エからひとつ選び、記号で答えなさい。

史料  
 君の御聖断は延喜・天曆のむかしに立辨りて、武家安寧に民屋諷歌(㉒1)し、いつしか諸国に国司・守護をさだめ、御相褒寄(㉒2)各其の階位に登りし体、実に出出かりし善政なり、……吉の興座(㉒3)を改て、今の例は昔の新儀なり。朕(㉒4)が新儀(㉒5)は未来の先例たるべしとて、新なる勅政漸々きこえけり、……爰に京都の聖断を聞奉るに記録所・決断所をかるといへども、近臣臨時に内奏(㉒6)を経て非義(㉒7)を申行間、論言(㉒8)朝に爰じ暮に改まりし程に、諸人の浮沈事を返すが如し(㉒9)。(梅松論)  
 注1 民屋は民家。諷歌は声をそろえてほめたたえること。  
 注2 公卿・殿上人のこと。  
 注3 衰えたものやすたれたものを刷新する。  
 注4 天皇の自称。  
 注5 新しい決まりや事柄。  
 注6 近臣や女性を通じて天皇に訴え、有利な裁許を得ようとする事。  
 注7 道理にはずれること。不義。  
 注8 天皇の言葉。みことり。  
 注9 事態が容易に変化したり、態度が急変するさま。

目

a：後醍醐天皇の新政は、天皇政治の最盛期といわれた醍醐・村上天皇の親政を理想とした。  
 b：諸国に国司と地頭を任命して、公卿・殿上人がそれぞれの位に昇進することはできなかった。  
 c：天皇の政治を執行するために、記録所・雑訴決断所が設置された。  
 d：側近が臨時に天皇の裁許を受けて道理にはずれたことを行ったが、天皇の命令は絶対であるので改めることはなかった。

ア. aとc イ. aとd ウ. bとc エ. bとd  
 問11 下線部(㉑)の争乱を何というか、正しいものをひとつ選び、記号で答えなさい。  
 ア. 保元の乱 イ. 観応の擾乱 ウ. 享徳の乱 エ. 三浦の乱

《E》  
 1467年、将軍藤原親と高山・斯波家の家督争いに、(㉑)と山名持豊が介入して応仁の乱が勃発した。足かけ11年にわたる争いにより将軍の権威は失墜し、荘園制の解体も進んで戦国時代となる。織田信長は、1560年、(㉑)で今川義元を討ち、「天下布武」の印判を用いつつ、全国統一の事業を進めた。1573年、室町幕府を滅ぼし、その後畿内平定を達成し、天下人としての名声を高めたが、1582年本能寺の変に倒れた。

問12 文中の空欄(㉑)と(㉒)に入る最も適切な語句をそれぞれひとつ選び、記号で答えなさい。  
 ア. 石田三成 イ. 堀川勝元 ウ. 北条早雲  
 エ. 長祿合戦 オ. 桶狭間の戦い カ. 姉川の戦い

問13 下線部(㉓)に関して、乱が長期化するなかで、守護代や国人が勢力を伸ばし、守護の力は弱まった。このように下の者の力が上の者の勢力をしのいでいく風潮を何というか答えなさい。

問14 下線部(㉒)に関して、織田信長を本能寺に襲って死に迫りやっつた信長の重臣の人名を答えなさい。

問15 次の史料を読むと、室町時代に農業生産力の発展があったことがわかる。史料を読み、どのような農法が農業生産力の発展につながったか説明しなさい。

史料  
阿麻沙只(㉒1)村に宿して日本を詠ふ  
 日本の農家は、秋に苗(㉒2)を耕して大小麦を種き、明年初夏に大小麦を刈りて苗種(㉒3)を種き、秋初に稲を刈りて木麦を種き、冬初に木麦を刈りて大小麦を種く、一面に一年三たび種く。(老松堂日本行録)  
 注1 摂津国尼崎。現兵庫県尼崎市。  
 注2 朝鮮の造字で水田のこと。  
 注3 稲の苗。

目

3 江戸時代に活躍した3人の人物について述べた次の《A》～《C》の文章を読み、下の設問に答えなさい。

《A》  
 京都や大坂、長崎で本草学、医学、鉱山学などを学んだ平賀源内は、18世紀後半に様々な分野で活躍した人物である。平賀はエレキテル(摩擦起電器)や火薬布(不燃布)などを製作し、『解体新書』を訳した苦心談を『蘭学事始』として著わしたことも有名な(㉑)とも親交を持ったという。また、『戯曲や戯性も書き、さらには洋画にも優れた作品を残すなど、博学多才の人だった。平賀が活躍した時代は、江戸幕府10代将軍徳川家治のもとで(㉒)が個人用から老中に昇進して政權を担った時期である。この時代は商業資本を重視した幕府財政の立て直しが行われた時代でもあるが、蘭学の発展に刺激されて、民間の学問・文化・芸術が多様な発展を遂げたことでも知られ、平賀はまさにその象徴とも言える人物だったのではないだろうか。

問1 文中の空欄(㉑)に入る最も適切な語句をひとつ選び、記号で答えなさい。  
 ア. 青木昆陽 イ. 杉田玄白 ウ. 本居宣長 エ. 安藤昌益

問2 文中の空欄(㉒)に入る最も適切な人名を答えなさい。

問3 下線部(㉓)について、戯作とは、江戸後期の娯楽的な読み物の総称である。そのような読み物について述べた次の文章の空欄(㉑)～(㉒)に入る最も適切な語句を下の語群からそれぞれひとつ選び、記号で答えなさい。  
 ●(㉑)は遊里を舞台とした通を描く短編小説で、山東京伝の『仕懸文庫』などが著名な作品である。  
 ●(㉒)は勧善懲悪、因果応報の趣旨で書かれた歴史的伝奇小説で、上田秋成の『雨月物語』などが著名な作品である。  
 ●(㉒)は庶民生活の滑稽を描いた会話形式の小説で、式亭三馬の『浮世風呂』などが著名な作品である。

<語群>  
 ア. 洒落本 イ. 読本 ウ. 滑稽本

問4 下線部(㉒)について、このような財政立て直し策について述べた文として**誤っているもの**をひとつ選び、記号で答えなさい。  
 ア. 都市や農村の商人・職人の仲間を株仲間として公認し、運上や買加を徴収した。  
 イ. 江戸や大坂の商人の力を借りて印旛沼の干拓や新田開発を積極的を試みた。  
 ウ. 南鐘二木銀などの銀貨の鋳造を禁止し、金中心の貨幣制度への一本化を進めた。

目

問5 下線部(㉔)について、幕府は、仙台藩医工藤平助の著書を参考に、ロシア人との交易の可能性を調査した。その仙台藩医の著書をひとつ選び、記号で答えなさい。  
 ア. 赤蝦夷風説考 イ. 経世秘策 ウ. 北極開略 エ. 自然異嘗道

《B》  
 船頭大黒屋光太夫は1782年、伊勢湾の港から紀伊藩の米を積み江戸に向けて出港したが、途中暴風雨にあって太平洋を北に流され、アリューシャン列島に漂着した。その後、ロシアの保護のもとに、イルクーツクの日本語学校などで数年間を過ごした後、エカチェリーナ2世に謁見して、日本への帰国を嘆願した。ロシアはこれを好機として、光太夫たちを返還するとともに、日本に国交を開くことを求めた。1792年、ロシア使節(㉑)らは光太夫を連れて(㉒)に求航し、通商を求めたが、幕府は(㉓)入港を許可する信牌を与えて退去させた。この後、蝦夷地でロシア艦船との紛争などもあり、ロシアとの緊張関係が生じた。なお、光太夫はその後、幕府の役人から尋問を受けるとともに、禁じられた国外生活を送ったことを理由に、行動に制限が加えられ、故郷ではなく、江戸の番町の薬園で暮らすことになり、1828年に生涯を閉じた。

問6 下線部(㉔)について、この時代、諸藩は江戸にも蔵屋敷を設けて、領内の年貢米や特産品を販売し、貨幣を獲得していた。蔵屋敷から市場に出る商品流通に関して述べた次の文章の空欄(㉑)と(㉒)に入る最も適切な語句をそれぞれひとつ選び、記号で答えなさい。

「蔵屋敷から市場に出される商品を蔵物といい、蔵屋敷でその出納・売却を取り扱ったのが(㉑)、その売却代金の保管や藩への送金を担当したのが(㉒)である。(㉑)は当初、武士の蔵役人であったが、後に商人に委託されるようになり、(㉑)と(㉒)を兼業するような商人も多く、諸藩の財政を左右することもあった。」

ア. 掛屋 イ. 本両替 ウ. 蔵元 エ. 札差

問7 文中の空欄(㉑)に入る最も適切な人名を答えなさい。

問8 文中の空欄(㉑)と(㉒)に入る最も適切な語句の組合せとして正しいものをひとつ選び、記号で答えなさい。

ア.(㉑)家蘭 (㉒)江戸  
 イ.(㉑)根室 (㉒)長崎  
 ウ.(㉑)根室 (㉒)江戸  
 エ.(㉑)室蘭 (㉒)長崎

目

問9 下線部(㉔)について、以下の(㉑)～(㉒)の間に答えなさい。

(㉑)この使節が来航する数ヶ月前、幕府は『三國通覧図説』や『南国兵談』で南洋防備を説いた人物を幕政批判として処刑していた。その人物として正しいものをひとつ選び、記号で答えなさい。  
 ア. 伊能忠敬 イ. 最上徳内 ウ. 間宮林蔵 エ. 林子平

(㉒)この時期に、第11代将軍徳川家斉を老中として輔佐し、幕政改革を進めていた白河藩主は誰か、その人名を答えなさい。

(㉓)この時期の幕政について述べた文として**誤っているもの**をひとつ選び、記号で答えなさい。  
 ア. 江戸の治安対策として石川島に人足寄場を設け、無宿人を強制収容し職業指導を行った。  
 イ. 朱子学を正学とし、湯島聖堂の学問所で異学の講義を禁じる寛政異学の禁を発した。  
 ウ. 幕府財政の立て直しのため、大名に対して石高の1%を幕府に上納させる上来を命じた。

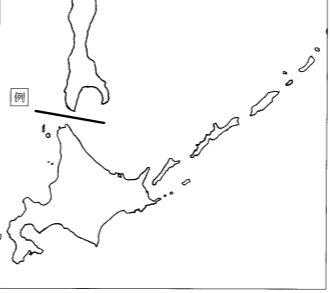
問10 下線部(㉒)について、幕府はこのような方法で海外の事情を知ることもあったが、その他に、オランダ商館長からの報告書で知ることもできた。この報告書を何というか、答えなさい。

《C》  
 1818年に伊勢国に生まれた北方探検家松浦武四郎の旅の生涯は17歳での江戸への旅から始まる。26歳の時に長崎で蘭学者から北方の危機を知り、蝦夷地に強い関心を持つようになった。以後、個人の立場や幕府役人などの立場で何度も蝦夷地へ赴き、松前藩医の従者として樺太などにも探査の範囲を広げた。1854年の開国を機に幕府は蝦夷地の地理調査と道を開く目的で、翌年、武四郎を蝦夷地御用掛に抜擢し、調査が行われた。武四郎は蝦夷地の地理や自然の記録に留まらず、アイヌ民族やその文化について、行く先々でアイヌの家をたずね、寝食を共にしながら人々の生活の実態をアイヌに寄り添いながら調査し、詳細な記録を残したのである。明治政府はこのような業績を認め、1869年、武四郎に開拓使の一員になることを求めた。武四郎は、蝦夷地を松前藩に支配させないことや過酷な搾取をおこなう商人を排除することを条件に任官を承諾した。政府は蝦夷地の新しい名称の選定を武四郎に命じた。武四郎は6案を考え、その中でも最も思いを込めたのが「北加伊達」だった。「カイ」はアイヌの言葉で「この地に生まれた者」という意味であり、「北加伊達」は「北の大地に住む人の国」という意味だった。その後、明治政府は「加伊」の字を「南」にあらため、「北海道」としたのである。

目

問12 下線部(㉓)について、この時期の幕府はロシアとの間に日露和親条約を結び、樺太と千島列島について日露間の国境が定められた。下の例にならって、**解答欄の地図に千島列島についての国境線を実線で示しなさい**。

注：例に示した線は1875年の樺太・千島交換条約で定まった国境である。



問13 下線部(㉒)について、耕地とぼしい松前藩は上級藩士に対して、商場でのアイヌとの交易権を知行として与えていたが、18世紀前半頃までには商場での交易を内地の商人に譲り負わせ、運上金を上納させるようになっていた。これが、アイヌ搾取の大きな原因と考えられるが、このような商場での交易を内地商人に譲り負わせる制度を何というか、最も適切な語句をひとつ選び、記号で答えなさい。  
 ア. 商場知行制 イ. 冊封制度 ウ. 越荷方 エ. 場所請負制度

目

問11 下線部(㉒)に関連して、19世紀前半の幕府は、せまってくる外国船と国内の社会の変化によって大きく動揺した。19世紀前半について述べた以下の文(㉑)と(㉒)において、**誤っているもの**をそれぞれひとつ選び、記号で答えなさい。

(㉑)ア. オランダの軍艦フェートン号がイギリス国旗を掲げ、イギリス船の拿捕を目的に鹿児島に侵入した。  
 イ. アメリカの商船モリソン号が浦賀沖に接近し、漂流民を逮捕して通商を求めようとしたが、幕府はこれを撃退した。  
 ウ. モリソン号事件に対して、渡辺崋山は『慎微論』を著わして幕府の対外政策を批判した。

(㉒)ア. 11代将軍徳川家斉は将軍を退いた後も大御所として実権を握り続け、品位の劣る貨幣を大量に流通させ、物価を上昇した。  
 イ. 天明の飢饉に対する幕府の無策を憤った大坂町奉行所の元有力で国学者の大塩平八郎が貧民救済のため江戸で挙兵した。  
 ウ. 幕府は江戸に流入した貧民を隔離させる人返しの法を出し、飢饉などで荒廃した農村の再建をはかった。

目

4 下に示すのは、ある高校の日本史探究の授業で、日本におけるおもな選挙法の改正と選挙権の拡大(被選挙権を除く)についてA班からE班がそれぞれの班で調べて、その結果をまとめた表である。この表について、下の設問に答えなさい。

班	公布時期	選挙人			総数(万人)	全人口比%	歴史的背景や関連する事項
		直接国税	性別・年齢(歳以上)				
A	黒田清隆	(㉑)円以上	男性・(㉒)歳	45	1.1	《A》	
B	山県有朋	10円以上	男性・(㉒)歳	98	2.2	《B》	
C	(㉑)	3円以上	男性・(㉒)歳	307	5.5	《C》	
D	加藤高明	制限なし	男性・(㉒)歳	1241	19.8	《D》	
E	幣原喜重郎	制限なし	男女20歳	3688	48.7	《E》	

問1 A班の調べた黒田清隆は、衆議院議員選挙法公布直後に、政党の進出が予想される衆議院に対して、政府の政策は政党の意向によって左右されてはならないという立場を表明していた。この立場を何主義というか、最も適切な語句を答えなさい。

問2 表の中の(㉑)と(㉒)に入る正しい数字をそれぞれひとつ選び、記号で答えなさい。  
 ア. 55 イ. 45 ウ. 35 エ. 25 オ. 15

問3 表の中の《A》にはA班の調べた文章が入る。次の各文の空欄(㉑)～(㉒)に入る最も適切な語句をそれぞれひとつ選び、記号で答えなさい。

- 衆議院議員選挙法は(㉑)とともに公布された。
- 第1回衆議院議員選挙では旧民権派の(㉒)が衆議院の過半数を占めた。
- (㉒)は政府に対して、民力休養を主張し予算の(㉓)を求めた。  
 ア. 刑法 イ. 大日本帝国憲法 ウ. 政体書 エ. 史学 オ. 中立派  
 カ. 民党 キ. 削減 ク. 廃止 ケ. 増額

日

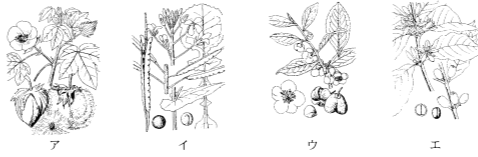
- 問4 表の中の《B》にはB班の調べた文章が入る。以下の(1)と(4)の間に答えなさい。
- この頃政府は、日清戦争後のロシア、フランス、ドイツによる( ㉔ )をうけて、いったん確保した( ㉕ )半島を中国に返還させられたこともあり、臥薪嘗胆をスローガンに軍備の増強を積極的におし進めていた。
  - この内閣は憲政の協力で地租増徴を実現したが、政党の力が軍部に及ぶことをはばむため( ㉖ )を定めた。
- (1) 文章の空欄( ㉔ )に入る最も適切な語句を答えなさい。
- (4) 文章の空欄( ㉕ )と( ㉖ )に入る最も適切な語句をそれぞれひとつ選び、記号で答えなさい。
- ア. 山東 イ. 遼東 ウ. 朝鮮  
エ. 治安警察法 オ. 工場法 カ. 軍部大臣現役武官制
- 問5 表の中の空欄( ㉗ )に入る。「平民宰相」として国民的に歓迎された立憲政友会総裁で若手眼出身の首相の人名を答えなさい。
- 問6 表の中の《C》にはC班の調べた文章が入る。次の各文の空欄( ㉘ )～( ㉛ )に入る最も適切な語句をそれぞれひとつ選び、記号で答えなさい。
- この内閣は( ㉘ )出兵を当て込んだ米の投機的買い占めが原因となって起きた( ㉙ )の責任をとって前内閣が総辞職し、元老の山縣有朋が政党内閣を認め民衆運動に妥協したため、成立した。
  - この選挙法改正では選挙権の納税資格の引き下げとともに小選挙区制が導入され、立憲政友会は鉄道増徴などの積極政策を掲げて、1920年の総選挙で( ㉚ )した。
- ア. シベリア イ. 山東 ウ. 満洲 エ. 日比谷焼き討ち事件 オ. 大正政変  
カ. 米騒動 キ. 庄勝 ケ. 惨敗 コ. 解散
- 問7 表の中の《D》にはD班の調べた文章が入る。以下の(1)と(4)の間に答えなさい。
- この内閣は、貴族院を中心とする清浦奎吾内閣に対して、憲政会、立憲政友会、革新倶楽部が( ㉜ )運動を展開し総選挙に勝って成立し、護憲三派内閣とも言われる。
  - 第一次世界大戦後、( ㉝ )迫り、男性労働者は重化学工業の発展により、大戦前から倍増していた。この内閣の行った普通選挙法制定はこれらの人々の要求に応えるものでもあった。
- (1) 上の各文の空欄( ㉜ )と( ㉝ )に入る最も適切な語句をそれぞれひとつ選び、記号で答えなさい。
- ア. 第1次護憲 イ. 第2次護憲 ウ. 三・一独立  
エ. 工業生産額は農業生産額を オ. 農業生産額は工業生産額を
- (4) 反政府的言論・思想・政治活動などを取り締まる治安維持法制定の理由の文章として、「**共産主義思想**」と「**労働者階級**」の語を使って、文章を解答欄の言葉につなげて作りなさい。

日

- 問8 表の中の《E》にはE班の調べた文章が入る。次の各文の空欄( ㉞ )～( ㉟ )に入る最も適切な語句をそれぞれひとつ選び、記号で答えなさい。
- 太平洋戦争敗戦後、GHQの最高司令官( ㉞ )がこの内閣に対して五大改革指令を口頭で行ったが、その中に婦人(女性)参政の付与があり、それに基づいて衆議院議員選挙法が大幅に改正された。
  - 幣原喜重郎は駐米大使として、アメリカが主催した( ㉟ )会議で太平洋の現状維持を図る( ㊱ )条約や海軍の主力艦の保有制限を図る軍備制限条約の調印に尽力し協調外交を推進したこともあり、連合国に好意的に見られていた。
- ア. スターリン イ. チャーチル ウ. マッカーサー エ. ヴェルサイユ  
オ. ワシントン カ. ロンドン キ. 九カ国 ク. 不戦  
ケ. 四カ国

地

- B 次のⅠ～Ⅴの文は、ケッペン気候区分における各気候区の特徴を記したものである。下の問いに答えなさい。
- Ⅰ 温帯としては高緯度に位置し、夏は涼しく冬は比較的温暖である。ユーラシア大陸の西岸では、暖流の上をわたってくる暖かく湿った風の影響を受け、四季を通じて比較的温和な気候となっている。
  - Ⅱ 大陸の西岸で乾燥気候帯の高緯度側に分布する。夏の乾燥が強いため、耐乾性のオリーブや柑橘類などが栽培される。ヨーロッパ南部の地中海沿岸には、石灰岩が風化した赤色の間層土壌が分布する。
  - Ⅲ 最寒月の平均気温が18℃未満のため温帯に分類されるが、低地の夏は熱帯並みに暑い。各大陸上で熱帯の高緯度側に分布する。この気候区では基が栽培され、世界的な産地となっている。
  - Ⅳ この気候区は大陸東岸に見られ、夏は高温となり、冬の寒さは厳しい。四季の変化が明瞭で、年中降雨が見られる。夏から秋には熱帯低気圧の上陸や接近により暴風雨に見舞われることもある。
  - Ⅴ 一年を通じて降水量が多く、気温が高い気候区で、赤道付近に分布し、多種類の常緑広葉樹からなる密林が広がる。近年、東南アジアではマンブロープ林の伐採が進み、森林破壊が問題となっている。
- 問1 Ⅰ～Ⅴの文に当てはまる気候区を次のア～カからそれぞれ選び、記号で答えなさい。
- ア Af イ Aw ウ Cfa エ Cfb オ Cs カ Cw
- 問2 下線部(Ⅱ)に関して、ここで述べられている暖流の名称を答えなさい。
- 問3 下線部(Ⅲ)に関して、この土壌の名称をカタカナで答えなさい。
- 問4 下線部(Ⅳ)に関して、次のスケッチは、茶・なたね・棉花およびコーヒーを示したものである。茶に該当するものをア～エから一つ選び、記号で答えなさい。



地

- 問5 下線部(Ⅲ)に関して、図2は、茶(茶葉)・なたね・棉花およびコーヒーの生産量と生産地域の割合を示したものである。茶に該当するものをア～エから一つ選び、記号で答えなさい。
- |   |                 |           |             |            |             |             |
|---|-----------------|-----------|-------------|------------|-------------|-------------|
| ア | 2,420万トン (2020) | アジア 63.7% | ヨーロッパ 1.5%  | オセアニア 0.5% | 北アメリカ 14.1% | 南アメリカ 13.0% |
| イ | 7,133万トン (2021) | アジア 36.8% | ヨーロッパ 34.5% | 南アメリカ 0.6% | 北アメリカ 11.7% | アフリカ 15.7%  |
| ウ | 2,819万トン (2021) | アジア 87.1% | アフリカ 0.4%   | 南アメリカ 1.2% | 北アメリカ 11.7% | オセアニア 0.4%  |
| エ | 992万トン (2021)   | アジア 33.9% | 北アメリカ 40.4% | 南アメリカ 0.4% | オセアニア 0.4%  | アフリカ 23.9%  |
- (〔2024データブック オブ・ザ・ワールド〕より作成)  
図2
- 問6 下線部(Ⅳ)に関して、インド洋などで発生するものを何と言うか、その名称をカタカナ5文字で答えなさい。
- 問7 下線部(Ⅴ)に関して、どのような理由で伐採が進んでいるか、例をあげて20字以内で答えなさい。

地理探究

- 1 気候に関するAとBの文を読んで、各設問に答えなさい。

A 気候は、気候要素によって成り立っており、緯度や高度などの( 1 )の影響を受けている。年降水量の緯度分布は、( 2 )付近で最も多く、極付近では減少する。風は気圧が高いところから低いところへ向かって吹き、低圧帯と高圧帯の分布によって大気の大循環がつくられる。また、アルプス山脈の北麓に吹くフェーンなど限られた地域に吹く風を( 3 )風という。

- 問1 文中の( 1 )～( 3 )に当てはまる語句を答えなさい。
- 問2 下線部(1)に関して、次のア～オのうち気候要素を二つ選び、記号で答えなさい。
- ア 隔海度 イ 海流 ウ 蒸発散 エ 日射 オ 水陸分布

地

- 2 次の文章を読んで、各設問に答えなさい。

工業は、常に最先端の技術を求め、それを製品や生産工程に組み込むことで発展してきた。近年では、半導体やコンピュータを生産するエレクトロニクス産業などが、先端技術産業として急速に発達した。これらの産業は、科学技術や頭脳労働が生み出す付加価値の割合が高い産業として( ア )産業とよばれている。さらに、最近では、IoTやAI技術を基礎に、コンピュータによって機械制御や生産調整が自動化される( イ )が進み、工場の自動化、無人化がはかられている。

世界の工業地域の変化をみると、アジアでは、1970年代から( ウ )とよばれる新興工業経済地域が工業化を進め、1990年代以降はASEAN諸国で工業生産が拡大した。2000年代に入ると、先進国の工業生産の伸びが鈍化する一方、国土や人口規模が大きく、天然資源も豊富なブラジルやインドなどからなる( エ )とよばれる国々の工業生産が飛躍的に発展した。

日本においては、最近、半導体需要の世界的な高まりを見据えて、熊本県に台湾企業の「TSMC」、北海道の千歳に日本企業8社の出資による「ラピダス」の半導体工場が進出し、先端技術産業の発展に向けて取り組んでいるが、それらの産業に欠かせないタンガステン、ニッケルなどの( オ )の備蓄や、使わなくなったスマートフォンなどの廃棄物は( カ )とよばれ、その回収、再利用を進める必要がある。

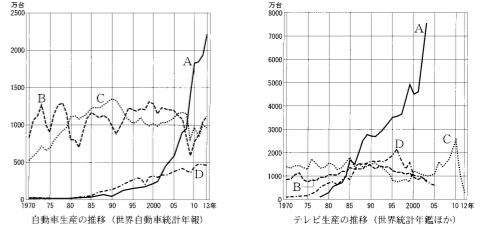
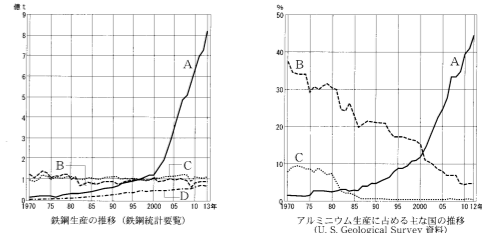
- 問1 文中の( ア )～( カ )に当てはまる語として最も適切なものを、下の1～8からそれぞれ一つ選び、番号で答えなさい。
- 1 BRICS 2 知識集約型 3 レアメタル 4 e-waste  
5 ベースメタル 6 イングストリー4.0(第4次産業革命) 7 NIEs  
8 労働集約型
- 問2 文中の下線部(Ⅱ)に関する次の文中の( ア )～( ウ )に当てはまる語として最も適切なものを、下の1～5からそれぞれ一つ選び、番号で答えなさい。

エレクトロニクス関連の多国籍企業のなかには、企業本体を管理と( ア )とよばれる研究・開発の機能に特化させ、生産部門を切り離す( イ )企業もあり、これに対応して生産だけを委託する( ウ )やファウンドリとよばれる企業が中国、ASEANなどで成長し、企業間の分業が進んでいる。

- 1 M&A 2 ファブレス 3 EMS 4 OEM 5 R&D

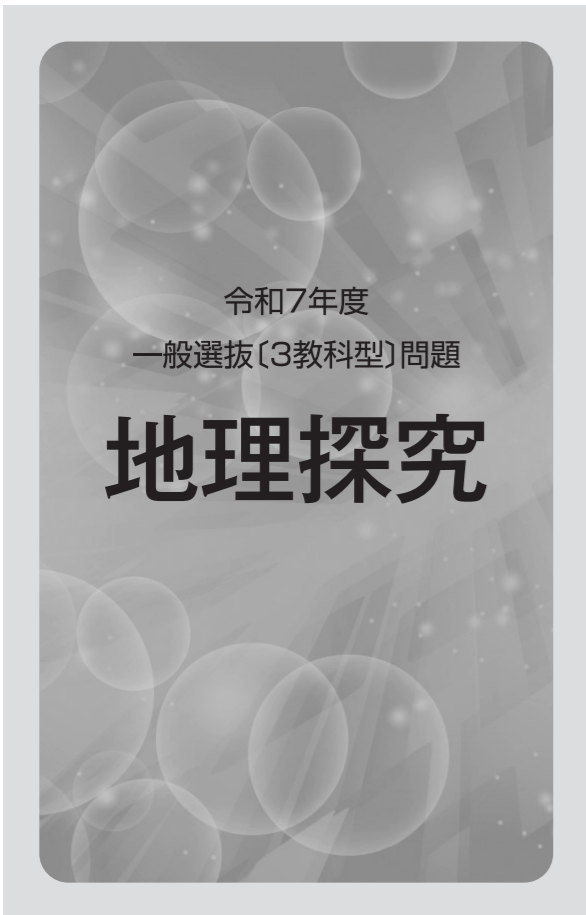
地

- 問3 文中の下線部(Ⅱ)に関して、次のグラフは、日本、韓国、中国、アメリカ合衆国の工業製品の生産の推移を示したものである。グラフのA～Dに当てはまる国名の組み合わせとして適切なものを、下の1～4から選び番号で答えなさい。



- A: \_\_\_\_\_  
B: - - - - -  
C: \_\_\_\_\_  
D: - - - - -

	A	B	C	D
1	中国	韓国	日本	アメリカ合衆国
2	アメリカ合衆国	日本	韓国	中国
3	中国	アメリカ合衆国	日本	韓国
4	韓国	中国	アメリカ合衆国	日本



地

問4 下線部(ウ)に関して、「ラビダス」の進出は次の工業立地の分類のどれに当てはまるか、最も適切なものを一つ選び、番号で答えなさい。

- 1 原料地指向 2 交通指向 3 消費地指向

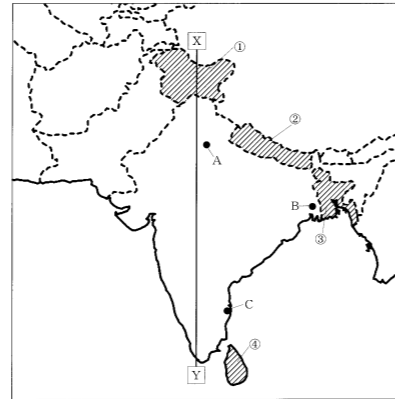
地

3 次のインドについての文章を読み、略地図を見て各設問に答えなさい。

ヒンドゥー教徒の多いインドは、イギリスの植民地から1947年に独立したが、ムスリムの多い(ア)と分離独立したため、現在でもムスリムの多いカシミール地方では帰属をめぐる対立が続いている。また、チベット仏教徒が多いラダク地域でもインドと(イ)との間で国境をめぐる紛争がおきている。独立後のインドでは、人口の急増に対して、食糧増産政策が進められ、1960年代以降、世界的な農業開発戦略である(ウ)により土地生産性が向上し、1970年代には食料の自給を達成した。

また、近年の経済発展にともない商業的農業地域が形成され、酪農技術の改良や都市での流通網の整備によって、ミルクの生産が急増した。これは(エ)とよばれ、農民の所得向上や人々の栄養状態の改善をもたらした。

さらに1990年代以降、畜肉の需要が高まり、2000年代から畜肉の生産量が飛躍的に増加した。このような畜肉の生産の拡大は(オ)とよばれ、農業や食生活の変化に大きな影響をあたえた。



略地図

地

問1 文中の(ア)～(オ)に当てはまる語として最も適切なものを、次の1～10からそれぞれ一つずつ選び、番号で答えなさい。

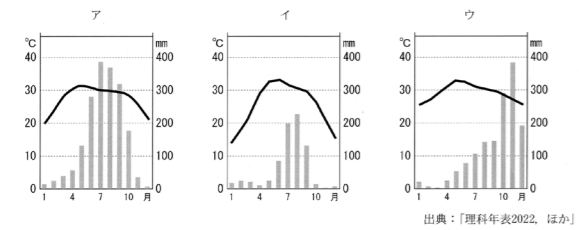
- 1 パキスタン 2 ピンクの革命 3 中国 4 白い革命 5 スリランカ  
6 緑の革命 7 ネパール 8 産業革命 9 バングラデシュ 10 ブータン

問2 下線部(ウ)の位置を略地図中の①～④から選びなさい。

問3 下線部(イ)について、その理由を次の語を使って30字程度で説明しなさい。

- ヒンドゥー教徒 ムスリム

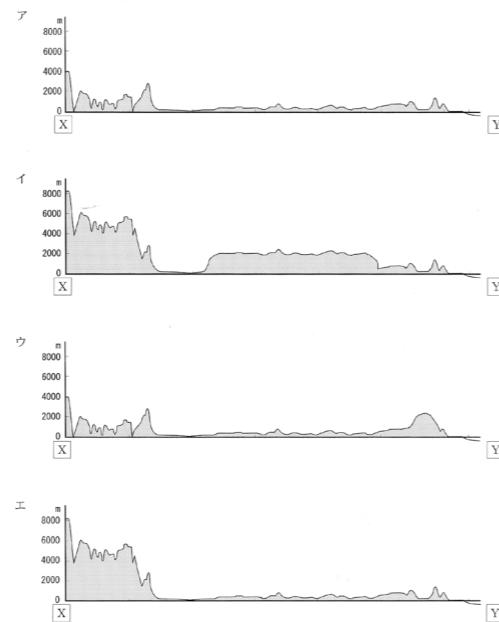
問4 略地図中のA、B、Cの都市に当てはまる気候図を、次のア～ウからそれぞれ選び、記号で答えなさい。



出典：「理科年表2022、ほか」

地

問5 略地図中のX-Yの地形の断面図として適切なものを、次のア～エから一つ選び、記号で答えなさい。



出典：「新詳地理資料 COMPLETE2024」

地

4 次のオーストラリアについての文章を読んで、各設問に答えなさい。

イギリスによるオーストラリアの植民は、1788年、現在の(1)付近から始まった。その後(2)主義が激化されるにしたがい移住者が増加し、その出身地などにも変化がみられる。政府は、近年、オーストラリア社会の文化的な多様性を相互に認め合い、さらにその文化を高めていこうという考えである(3)主義を積極的に進めている。オーストラリアの教育機関では、オーストラリアの先住民である(4)の言語についての教育を積極的に進めるほか、多様な言語教育が活発に行われている。また、日本とオーストラリアの間には、若者が休暇で海外滞在しながら働ける制度も設けられている。

オーストラリアでは降水量に応じた農業が発達している。(5)盆地などの地下に豊富な地下水が存在することがわかった。そこには羊や牛の放牧地が急速に広がり、羊肉や牛肉は有数の輸出国になった。また、オーストラリアで産出される鉱産資源の種類は多様で産出量も多く、日本へも輸出されている。

問1 文中の(1)～(5)に当てはまる語句を次のア～シから選び、記号で答えなさい。

- ア 多様化 イ 多文化 ウ マオリ エ サラダボウル  
オ アポリジニ カ メスチーソ キ モンロー ク 白茶  
ケ グレートディヴァイディング コ グレートアーチジャン  
サ ムルボルン シ シドニー

問2 下線部(ウ)に関して、オーストラリアの移民の出身地に見られる変化を、次の語を使って25字程度で説明しなさい。

- ヨーロッパ アジア

問3 下線部(イ)に関して、このような制度を何とよぶか、カタカナで答えなさい。

地

問4 下線部(ウ)に関して、次の各問に答えなさい。

(1) 図1はオーストラリアの農業地域区分図である。図1中の①～④に当てはまる農業地域を、ア～エから一つ選び、記号で答えなさい。

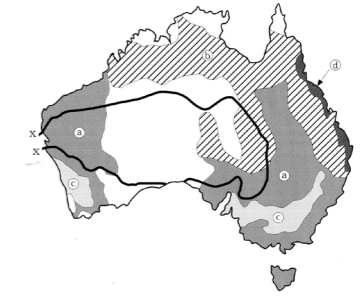


図1

	①	②	③	④
選択肢	ア 牧羊地域	イ 牧牛地域	ウ 小麦地域	エ さとうきび地域

(2) 図1中に示されている等降水量線Xは年降水量何mmをあらわしているか。次のア～エから一つ選び、記号で答えなさい。

- ア 約250mm イ 約500mm ウ 約750mm エ 約1,000mm

地

問5 下線部(ウ)に関して、不透水層の下にある被圧地下水をくみ上げる井戸を何とよぶか、答えなさい。

問6 下線部(イ)に関して、次の表1・2は世界の牛肉と羊肉の輸出量の多い国を示したものである。表中のア～エに当てはまる国名の組み合わせとして適切なものを、下の1～4から一つ選び、番号で答えなさい。

国名	2019年	2020年
ブラジル	1570	1724
(ア)	1305	1104
(イ)	966	943
アルゼンチン	562	616
(ウ)	460	472
世界計(単位千ト)	9400	9143

国名	2019年	2020年
(ア)	496	434
(ウ)	390	400
(エ)	95	88
アイルランド	54	57
スペイン	41	38
世界計(単位千ト)	1248	1146

(「世界国勢図会 2022/23」より作成)

	ア	イ	ウ	エ
選択肢	1 オーストラリア	2 アメリカ合衆国	3 ニュージーランド	4 ニュージーランド

地

問7 下線部(イ)に関して、図2中に示した①～④はオーストラリアの鉱工業の特色を述べている。説明として最も適切なものを次のア～エから一つ選び、記号で答えなさい。

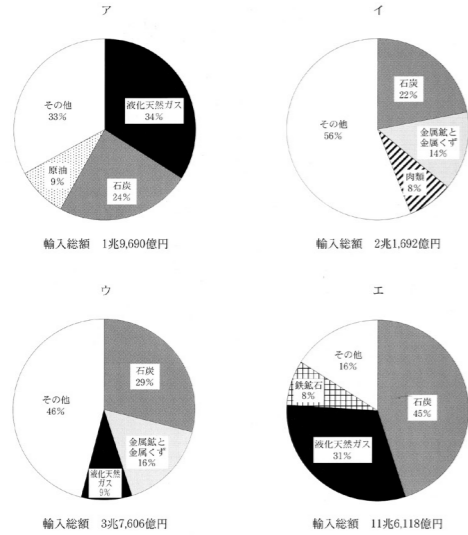


図2

- ア ①は、世界最大級のボーキサイト鉱山とアルミ精錬所がある。  
イ ②は、ビルババ地区を中心に鉄鉱石の露天掘りが行われている。  
ウ ③は、金鉱山を中心とした鉱業都市で、近年は観光業も発展している。  
エ ④は、この国最大のウラン産地であり、日本にも輸出されている。

地

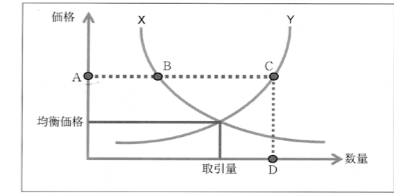
問8 下線部(※)に関して、下の円グラフは2022年の日本の対オーストラリア、インドネシア、ロシアおよびカナダとの輸入総額と上位3位までの輸入品目を示したものである。オーストラリアに当てはまるものをア～エから一つ選び、記号で答えなさい。



〔2024データブック オブ・ザ・ワールド〕より作成

政・経

問5 下図の曲線 X、Y は、ある財の需要曲線と供給曲線である。下線部(c)について、均衡価格より高い価格 A の場合に生じる超過供給は、図のどこに示されるかから正しいものをひとつ選び、記号で答えなさい。



問6 下線部(d)の市場での取り引きを通じることなく、ほかの経済主体に利益を与えたり(外部経済)、不利益をもたらしたりする場合(外部不経済)について、次から正しいものをひとつ選び、記号で答えなさい。

問7 下線部(e)のように管理価格が設定されると価格が下がりにくくなることを何というか。解答欄に述べる語句を答えなさい。

政・経

問1 下線部(a)の資本主義経済の理論的支柱となった経済学者について、次の(1)・(2)に答えなさい。

- (1) 『国民の富(国富論)』を著したイギリスの経済学者は誰か。
(2) 彼の考えとして誤っているものを、次の中からひとつ選び、記号で答えなさい。

問2 文中の□1～□9 に入る最も適切な語句を選び、記号で答えなさい。

- ア プライスリーダー イ 恐慌 ウ 非対称性 エ 計画経済
オ 不完全競争市場 カ 失業 キ 非競合性 ク 非価格競争
ケ 市場の失敗 コ 管理 サ 産業革命 シ 公共財

問3 下線部(b)の修正資本主義や社会主義に関する次の文から正しいものをひとつ選び、記号で答えなさい。

- ア 修正資本主義の立場に立つシムンペーターは、新たな生産方法の投入などの技術革新こそが資本主義経済発展の原動力であると説いた。
イ 修正資本主義の立場に立つケインズは、政府が財政・金融政策で民間投資を刺激すれば、有効需要が拡大して景気回復と完全雇用が達成できることを理論化した。
ウ 社会主義への革命を唱えたマルクスは、資本家による労働者からの搾取が行われているとし、生産手段の私的所有によって搾取のない公平な社会を実現しようとした。
エ 社会主義への革命を唱えたフリードマンは、財政・金融政策による完全雇用ではなく、規制緩和や民営化によって市場の回復をはかるべきだと考えた。

問4 文中の□A～□D に入る最も適切な語句の組み合わせを選び、記号で答えなさい。

- ア A 上昇 B 下落 C 減少 D 増加
イ A 上昇 B 下落 C 増加 D 減少
ウ A 下落 B 上昇 C 増加 D 減少
エ A 下落 B 上昇 C 減少 D 増加

政・経

2 次の文を読んで、各問に答えなさい。

企業の中で多数を占める中小企業は、大企業の□□や人的・技術的・資金的に大企業の系列企業となることが多い。特に大企業の□1 企業は、親企業から技術や資金の援助を受けられる反面、不況期には□2 として取引の縮小や単価の引き下げを迫られて苦しむことがある。中小企業は、家族経営が主体の零細企業が多く、資本準備率も低く、大企業との間には労働生産性、賃金や労働条件などで大きな格差がある。

戦後日本の農業は、□3 によって創設された自作農が中心となった。しかし、農地の規模は小さく、高度経済成長期には農業とその他の産業との所得格差が深刻になった。そこで、1961年農業基本法によって、農作物の選択的拡大や経営の近代化などを図り、自立経営農家を育成しようとした。しかし、自立経営農家は育たず、米の生産に依存した農家は他の作物へ転換せず、農業以外での所得の獲得を選び、兼業化が進行した。その後も農業の振興を図るさまざまな政策が講じられてきたが、期待された成果をあげることができていない。農業従事者の高齢化と後継者不足は深刻で、□4 が増加し、農地の荒廃が進んだ。農業は、土壌を保全し、環境や景観を保全する機能もあり、安定的に食料を確保していく□5 の観点からも重要である。農業を魅力ある産業とするために、生産に加え、加工・販売を一体化して事業を行う□X によって農業の付加価値を高める取り組みや農家民宿、体験農園などの取り組みも広がっている。

高度経済成長期は臨海工業地帯が急伸強し、コンビナートが各地に作られると、大気汚染や水質汚濁などの公害が深刻化し大きな社会問題となった。世論の高まり、住民運動、訴訟、行政の対応、立法、制度改革などを通じて公害対策も進み、□6 はかなり減少した。反面、生活排水による水質汚濁、自動車の排気ガスによる大気汚染、道路・鉄道・空港の周辺における騒音や振動などの都市公害や生活公害が生活環境を悪化させている。1980年代には、廃棄物の処理が大きな社会問題となり、2000年には□7 が制定され、資源の有効活用を図るために3Rに取り組みることとなった。

経済活動の中で生産されるものの種類や数量を決定するのは、消費者であるという□8 の考え方があり、そして、□8 の下で、市場を通じた公正な取引によって健全な消費行動が実現することが望ましい。しかし、たくさんの情報を有する企業に比べ、消費者は商品に関する十分な情報を持たないため、企業による広告や宣伝だけで商品を購入したり、周りの人が持っているからという理由で商品を購入したりしがちである。消費者もマイバックを持参したりして、環境に負荷をかけない□9 として行動を取ることが望まれる。

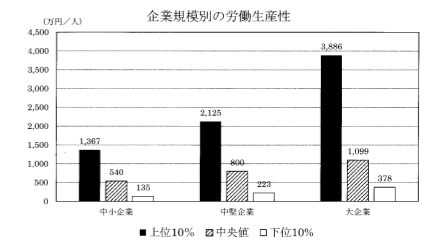
問1 文中の□1～□9 に入れる適切な語句を選び、記号で答えなさい。

- ア 産業公害 イ ベンチャー ウ 消費者主権 エ 景気の調整弁
オ 農地改革 カ 寄生地主制 キ 耕作放棄地 ク 食料安全保障
ケ 下請け コ グリーン・コンシューマー サ 容器包装リサイクル法
シ 循環型社会形成推進基本法

政・経

問2 下線部(a)に関連して、次の図は「2022年版中小企業白書」にある企業規模別の労働生産性(従業員一人当たりの付加価値額)を示したものである。中小企業白書ではこの図に以下のような解説文を載せている。

図を参照して解説文の空欄に適する語句の組み合わせをひとつ選び、記号で答えなさい。



中小企業庁：2022年版「中小企業白書」第6節 労働生産性と分配

解説文

企業規模別に上位10%、中央値、下位10%の労働生産性の水準を示している。これを見ると、いずれの区分においても、企業規模が大きくなるにつれて労働生産性が□A くなっている。中小企業の上位10%の水準は大企業の中央値を□B 回っており、中小企業の中にも□C 労働生産性の企業が一定程度存在していることが分かる。大企業の下位10%の水準は中小企業の中央値を□D 回っており、企業規模は大きい労働生産性の□E 企業も存在している。

- ア A-低 B-上 C-低 D-下 E-高
イ A-高 B-下 C-高 D-上 E-低
ウ A-高 B-上 C-高 D-下 E-低
エ A-低 B-下 C-低 D-上 E-高
オ A-低 B-下 C-高 D-上 E-高
カ A-高 B-上 C-低 D-下 E-低
キ A-高 B-下 C-低 D-上 E-高
ク A-低 B-上 C-高 D-下 E-低

政治・経済

1 次の文を読んで、各問に答えなさい。

経済体制は二つに大別される。一つは、生産者も消費者も自由意思で行動し、結果として社会全体の資源配分の調整を市場に委ねる市場経済である。これは資本主義経済とも呼ばれる。もう一つは、政府が生産者に指令することで社会全体の資源配分の調整を行う□1 であり、社会主義経済がそれに相当する。資本主義経済は、18世紀後半にイギリスで起こった□2 を契機に成立した。□2 は、19世紀半ばにはフランスに、その後ドイツやアメリカ、そして日本にも波及し、資本主義経済体制は世界的規模で確立することになった。工業化の急速な進歩と生産力の飛躍的な拡大がみられ、技術革新が生じ、産業の中心が工業に、その担い手は資本家と労働者になった。

19世紀後半になると、資本主義経済のマイナス面ははっきりとあらわれるようになった。第一に19世紀にはほぼ10年ごとに景気が極度に悪化する□3 が発生するようになり、そのたびに多くの□4 と貧困問題が生み出されるようになった。第二にいったん貧困に陥ると抜け出すのが難しく、社会階層間の格差が固定化した。そして第三に、産業の中心が軽工業から重化学工業に転換すると、多くの分野で独占化・寡占化が進行した。このようなマイナス面を市場経済のもとで政府が積極的に経済活動に介入することによって改善を図ろうとしたのが修正資本主義である。他方、資本主義経済は自らの問題を自律的に解決できず、□1 への移行が必然だと考えたのが社会主義である。

一般に競争的な状態である市場は、需要と供給を一致させて、財・サービスの価格と取り引きされる数量を決定する。つまり需要と供給が一致しなければ、価格が□A または□B して両者を一致させるのである。この時の価格が均衡価格とよばれる。例えば、価格が均衡価格よりも高く、超過供給が生じていれば、その財・サービスは市場で売れ残り、価格が□B して供給は□C する。価格の□B は逆に、需要の□D を引き起こすので、二つの効果が相まって超過供給は解消され、結果として需給を一致させる。市場経済では、価格の変化を通して需要と供給が調整され、ひいては限られた資源の有効活用が図られる。

しかし、市場は必ずしも万能ではなく、うまく機能しない□5 と呼ばれる現象がみられる。第一に、道路・公園・灯台などの□6 は、ある人が消費しても、他の人の消費できる量が減ることとはなく、多くの人が同時に使用できるという性質(□7)と、特定の人の消費を排除できない(非排他性)をもつ。□6 は、非排他性をもつため、費用負担せずに利用する人(フリーライダー)が存在するという問題があり、市場に任せると供給が過少になる。

第二に、市場での取り引きを通じることなく、ほかの経済主体に利益を与えたり、不利益をもたらしたりする場合がある。

第三に、独占や寡占が存在する場合、市場に任せておくと財・サービスの価格が高く設定され、消費者の利益が損なわれる。寡占市場で□8 が、一定の利潤を確保できるように価格を設定し、他の企業もそれに追従する管理価格が設定されると需要が減少しても価格が下がりにくく、製品の品質・デザイン、広



政・経

問3 下線部(b)の兼業している農家でも、農業所得が主で、一年間に60日以上農業に従事している65歳未満の人がいる農家を何というか。

問4 下線部(c)の農業政策について述べた次の文のうち、**誤っているもの**をひとつ選び記号で答えなさい。ア 米は、食糧管理制度により、政府が農家から買い上げを保障したが、食生活の変化により需要が減少して過剰米が発生したため、減反政策による作付け制限も行われた。

イ 1994年に制定された食糧法の下では、米の価格と流通に関しては原則的に自由化され、市場原理に委ねられた。

ウ それまでの農業政策の弊害を正し、食料の安定供給の確保、多面的機能の発揮、農業の持続的な発展、農村の振興を目標とする食料・農業・農村基本法が1999年に制定された。

エ 国際競争力をもつ大規模経営農家を育成するために、経営所得安定対策が導入され、農地の貸借規制が緩和され、株式会社の農業への参入も本格的に認められた。

問5  X  に適する語句を答えなさい。

問6 下線部(d)に列挙したさまざまな形の公害対策がなされてきたが、次の(1)・(2)について答えなさい。

- (1) 大規模な開発を行う際に、自然環境に与える影響を事前に予測・評価することを何というか。
(2) 企業に故意や過失がなくても、被害と企業活動の間に因果関係が認められる限り、企業は賠償責任を負うという原則は何というか。

問7 下線部(e)の3Rは、Rを頭文字とする環境型社会を目指す三つの言葉のことである。三つの言葉とは、リデュース、リサイクルともう一つは何か。

問8 下線部(f)のように企業(生産者・販売者)と消費者との間にある情報量の格差を示す言葉を何というか。

政・経

3 次の文を読んで、各問に答えなさい。

日本国憲法第92条に、「地方公共団体の組織及び運営に関する事項は、地方自治の本旨に基づいて、法律でこれを定める」とある。

この地方公共団体は、議会と首長(知事・市町村長)で構成されている。議会の議員と首長は、それぞれ住民からの直接選挙で選ばれる。このように、政治の仕組みが住民の生活に極めて近いことなどを踏まえて、イギリスの政治学者ブライスは、地方自治を「の学校」と呼び、地方自治の重要性を説いた。地方自治において、政治の仕組みが住民の生活に極めて近いことの一つに、地方公共団体の住民に与えられている「直接請求権」がある。そのほか近年では、住民投票を行う自治体も増えてきている。また、1999年に制定された地方分権一括法によって地方公共団体がこれまで行ってきた固有事務や委任事務が変更になった。

一方で、地方財政の財源の確保が厳しい自治体が多く、財政破綻した地方公共団体も現れるようになった、人口減少や高齢社会などを踏まえた地方の活性化等が地方公共団体の大きな課題となっている。

問1 下線部(1)に関して、次の文中の空欄(A)、(B)に入る最も適切な語句を答えなさい。地方自治の本旨とは、地方自治体が国から独立してその政治を行う「(A)自治」と、地域住民の意志のもと、住民が地方自治体の運営を行う「(B)自治」とを意味している。

問2 下線部(2)に関して、以下の(1)、(2)の問いに答えなさい。

- (1) 日本では、2015年の公職選挙法改正によって、国や地方公共団体における選挙の有権者の年齢は、20歳以上から何歳以上に改正されたか、数字で答えなさい。
(2) 日本の選挙では、公正な選挙を行うため、直接選挙の原則など、いくつかの原則が確立されているとされている。そのうち、直接選挙、普通選挙以外の原則から2つ、答えなさい。

問3 空欄に入る最も適切な語句を選び、記号で答えなさい。ア. 独裁主義 イ. 民主主義 ウ. 専制主義 エ. 帝国主義

政・経

問4 下線部(3)に関して、以下の(1)、(2)の問いに答えなさい。

- (1) 次の文中の空欄(A)～(C)に入る最も適切な語句を選び、記号で答えなさい。住民による条例の制定や改廃の直接請求を(A)といい、事務の監査請求、議会の解散や議員・首長などの解職請求を(B)という。また、地方自治体が住民の意思を直接問うために行う住民投票を(C)という。
ア. レファレンダム イ. イニシアティブ ウ. リコール エ. レリバンス

(2) 下記の表中の空欄(A)、(B)に入る最も適切な語句を答えなさい。なお、空欄(A)は、整数で答えなさい。

Table with 3 columns: 請求の種類, 必要署名数, 請求先. Rows include 条例の制定・改廃請求, 有権者の(A)分の1以上, 地方公共団体の長, 首長の解職請求, 有権者の原則3分の1以上, (B)

問5 下線部(4)に関して、以下の(1)、(2)の問いに答えなさい。

- (1) これまで固有事務と呼ばれた事務は、地方分権一括法の施行後、何と呼ばれる事務になったか、最も適切なものを選び、記号で答えなさい。ア. 共有事務 イ. 委託事務 ウ. 自治事務
(2) 地方分権一括法の施行後、これまで委任事務と呼ばれていた事務の一部で、法定受託事務と呼ばれる事務になったものとして最も適切なものを2つ選び、記号で答えなさい。ア. 薬局開設許可 イ. 飲食店営業許可 ウ. 旅券の交付
エ. 国政選挙 オ. 都道府県議会運営事務

問6 下線部(5)に関して、以下の(1)、(2)の問いに答えなさい。

- (1) 次の文中の空欄(A)～(C)に入る最も適切な語句を選び、記号で答えなさい。地方財政は、自主財源が少なく、(A)や(B)などの国からの資金に依存している実態がある。そうした中、地方財政の財源確保の手段として、地方債の発行を増やす地方公共団体も多い。また、2008年から、応援する地方公共団体に寄付すれば、所得税、住民税が控除される(C)制度が実施されたが、高額な返礼品等をめぐって、そのあり方が問われている。
ア. 地方税 イ. ふるさと納税 ウ. 地方交付税 エ. 国庫支出金

政・経

(2) 次の地方財政の歳入を示している表の(Ⅰ)、(Ⅱ)、(Ⅲ)に入る最も適切な語句の組み合わせを選び、記号で答えなさい。

Table with 3 columns: 区分, 計画額(単位:億円), 構成比(単位:%). Rows include (Ⅰ), (Ⅱ), (Ⅲ), その他, 計

(令和5年度地方財政計画 歳入(通常収支分)「総務省令和5年度地方財政白書」より)

- ア. (Ⅰ)国庫支出金 (Ⅱ)地方交付税 (Ⅲ)地方税
イ. (Ⅰ)地方交付税 (Ⅱ)国庫支出金 (Ⅲ)地方税
ウ. (Ⅰ)地方税 (Ⅱ)地方交付税 (Ⅲ)国庫支出金
エ. (Ⅰ)国庫支出金 (Ⅱ)地方税 (Ⅲ)地方交付税
オ. (Ⅰ)地方交付税 (Ⅱ)地方税 (Ⅲ)国庫支出金
カ. (Ⅰ)地方税 (Ⅱ)国庫支出金 (Ⅲ)地方交付税

問7 下線部(6)に関して、次の文中の空欄(A)～(C)に入る最も適切な語句を選び、記号で答えなさい。

日本では、2007年に高齢化率が21%を超えた。このような社会を(A)社会と呼ぶ。また、2010年代には人口減少社会に突入した。こうしたことや地方経済の疲弊などから、かつての中心街が空洞化し、(B)街となっているところも多い。中山間地域などでは、人口の半数以上が65歳以上の高齢者である(C)集落も増えてきており、消滅の危機に直面する地域もあるとされている。

- ア. 限界 イ. 国庫依存 ウ. シャッター エ. ブラインド
オ. 高齢化 カ. 超高齢

問8 下線部(7)に関して、地方公共団体の都市機能の郊外への分散化を防ぎ、行政の効率化や中心市街地の活性化を図る都市を何シティというか、**カタカナ5文字**で答えよ。

政・経

政・経

② 次の文の空欄(A)～(E)に入る最も適切な語句を選び、記号で答えなさい。

民主政治の具体的な方法としては、国民が直接政治に携わる(A)と、自らを選んだ代表者を通して政治を行う(B)とがある。現在では、(B)を主軸とする(C)制民主主義の体制をとっている国が多い。(C)に関わって、参政権については、例えば、イギリスでは、19世紀前半の(D)運動などの参政権拡大運動を経て、それまで一般的であった納税額などの財産資格により一部のだけが選挙権を持つ(E)にかわる選挙法改正が徐々に広がっていった。

- ア. 議会 イ. チャーティスト ウ. 直接民主制 エ. 間接民主制
オ. ラグダイト カ. 制限選挙制 キ. 複数政党制 ク. 政党

問3 下線部(c)に関して、以下の①～③の問いに答えなさい。

- ① 次の文中の空欄に入る最も適切な語句を答えなさい。イギリスは、王政であるが、古くから「君臨すれどもせず」といわれるように、国王に実質的な権限はない。政治を実際に相うのは議院と内閣であり、「議院内閣制の母国」と呼ばれている。
② アメリカでは、行政権の長と立法府の議員との両方を有権者が選出するという体制をとっている。アメリカの行政権の長を何というか、**漢字3文字**で答えなさい。
③ 日本では、国会に立法権、内閣に行政権、裁判所に司法権があり、お互いに抑制・均衡しあうことが憲法で定められている。次のA群の事項は、B群のどの機関が行うことができ、記号で答えなさい。

Table with 2 columns: A群, B群. A群 includes 最高裁判所長官の指名, 裁判官弾劾裁判所の設置, 法律の違憲審査, 内閣の不信任決議. B群 includes A 国会, B 内閣, C 裁判所

問4 下線部(d)に関して、以下の①と②の問いに答えなさい。

- ① 法は、2つに分断できる。1つは、人間の社会ならば普遍的に成り立つとされる自然法である。もう1つは、一定の手続きにより立法された法であるが、それを、自然法に対して何法というか、**漢字2文字**で答えなさい。
② 日本は制定法が中心であり、公法、私法、社会法に区分される。このことに関して説明した次の事項のうち、最も適切なものを選び、記号で答えなさい。
ア 日本国憲法や民法は、公法である。
イ 労働基準法や生活保護法は、社会法である。
ウ 商法や独占禁止法は、私法である。

令和7年度 一般選抜(3教科型)問題 数学I, 数学A

数学I, 数学A

1 次のに当てはまる、式または数値を求めなさい。ただし、(3)において、数値は小数第2位を四捨五入しなさい。

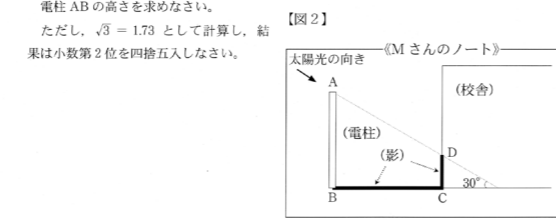
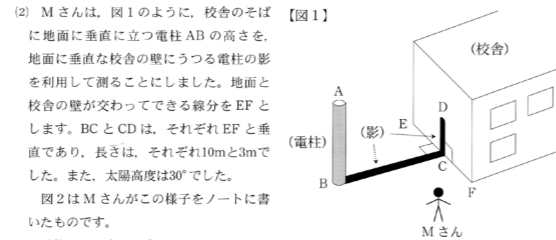
- (1) (x+y)^2(x-y)^2を展開すると。x^2+2x^2-3を因数分解するとである。また、循環小数0.24を分数で表すと、である。
(2) x = 1/(sqrt(7)+sqrt(5)), y = 1/(sqrt(7)-sqrt(5))のとき、x+y = , xy = である。
(3) 次のデータは、ある生徒の小テスト6回の点数(10点満点)である。
8 10 5 7 4 9 (点)
このデータについて、平均値は (点)であり、中央値は (点)である。また、第1四分位数は (点)、第3四分位数は (点)であり、四分位範囲は (点)である。
(4) 360を素因数分解するととなり、正の約数の個数は個である。
(5) 男子3名と女子2名が一列に並ぶ方法は通りであり、そのうち女子2名が両端に並ぶ方法は通りである。

数

- 2  $x$  の 2 次関数  $y = x^2 - ax + 1$  (ただし、 $a$  は定数とする) について、次の問いに答えなさい。
- $x = 2$  のとき、 $y = 2$  となるような  $a$  の値を求めなさい。
  - $a = 3$  のとき、この 2 次関数の最大値と最小値を求めなさい。また、最大値や最小値がある場合にはそのときの  $x$  の値も求めなさい。
  - $a = 3$  のとき、 $x$  に整数だけを代入した場合の  $y$  の最小値及びそのときの整数  $x$  の値を求めなさい。
  - $x$  に整数だけを代入することを考えます。 $x = 4$  で  $y$  の値が最小となったときの  $a$  の値の範囲を求めなさい。

数

- 3 次の問いに答えなさい。
- (1) 次の  $\square$  に当てはまる数値を求めなさい。  
 $\sin 30^\circ = \square$ ,  $\cos 30^\circ = \square$ ,  $\tan 120^\circ = \square$ ,  $\sin 120^\circ = \square$



数

- 4 次の問いに答えなさい。
- 1 個のサイコロを 1 回投げるとき、偶数の目が出る確率を求めなさい。
  - 1 個のサイコロを 2 回投げるとき、次の問いに答えなさい。
    - 1 回目に 6 が出ました。2 回目に出る目が 1 回目と互いに素になる確率を求めなさい。
    - 2 回投げて出る目が互いに素にならない確率を求めなさい。

国 8

【問題文】

今日地球上に繁栄している多種多様な生きものは、基本的に自分に適した環境に生活するようになっており、たとえば鳥の生物のように同じ場所を暮らしながらも、そこで生存競争をしているとは限りません。おのおの繁栄できる環境はいろいろな要因(たとえば寒や暑やいろいろな刺激)によって支えられているので、物理的に同じ空間にいても必ずしも争うことはないのです。

これに対して、「この種の個体どうしはその置かれた環境の下でできるだけ自分の子孫をつくらせよう、生きものもまた争うような競争をします。代を重たしているうちにその環境条件でもっともよく増えるゲノムを持つものが結局大繁栄します。種内でゲノムが競争して最勝者を選び出す」のです。

ところが、このゲノム集団のなかにはいろいろな変わり者がマイノリティとして絶えずつくり出されており、偶然に置かれたものがあつた場合を除くやがてそのほとんどもが消えていきます。このくり返しでゲノム集団の示すありのままの家です。

【a】環境が絶えず変化している環境に直面します。また、生きものは今暮らしている所から新しい環境に進出しようとしていますが、条件の異なる環境に進出しようとするゲノムはやはり最勝でない環境で何とかやっていかなければならない、という問題に直面します。

生きものには、多少の変化に適応してやっているといるゲノムが少なすぎても、適応はゲノムの変化ではなく、あらかじめこの条件、あの条件に置かれたときには「よしよし、ああよし」といってゲノムがゲノムに代わってあるものを読み取っているように見えます。

たとえば多くの微生物は水分が乾上がってしまうと、胞子をつくって耐え、再び水分がもどるのを待ちます。急に温度が上がると熱ショックタンパクとよばれる「一群のタンパク質をつくらせよう」とか増えようとするのです。

【b】新しい環境にさらされた、もとのゲノムがその条件で何とかやっていると、より適した変化ゲノム、【c】もとのゲノムがその条件で何とかやっていると、選ばれる者があるという話です。

変わり者は、どんな環境でもどんな育つスパンゲノムでもありませぬ、光、温度、塩分、乾燥、食物、捕食者はみな生きものにとつて環境条件の変化要因であり、それらのがいによって異なる「変わり者」が選ばれます。

条件の変化要因であり、それらのがいによって異なる「変わり者」が選ばれます。また、生きものは今暮らしている所から新しい環境に進出しようとしていますが、条件の異なる環境に進出しようとするゲノムはやはり最勝でない環境で何とかやっていかなければならない、という問題に直面します。

生きものには、多少の変化に適応してやっているといるゲノムが少なすぎても、適応はゲノムの変化ではなく、あらかじめこの条件、あの条件に置かれたときには「よしよし、ああよし」といってゲノムがゲノムに代わってあるものを読み取っているように見えます。

たとえば多くの微生物は水分が乾上がってしまうと、胞子をつくって耐え、再び水分がもどるのを待ちます。急に温度が上がると熱ショックタンパクとよばれる「一群のタンパク質をつくらせよう」とか増えようとするのです。

【d】ゲノム DNA に安定だが変化するという性質がなかったら、ヒトは言うにおよばず、今日のような生きもの世界も出現しなかったでしょう。よくぞここまでできたところになります。

【松原謙一】遺伝子とゲノム「何が起きているか」(よ)

注 1 業……サスキット語「カルマ」の訳、行為の業、仏教で未来に報いをもたらす善悪の行。

注 2 ゲノム……生物の配子に含まれる染色体または遺伝子の全体。

注 3 寡占状態……少数の大企業が市場の大部分を支配すること。

注 4 マイノリティ……少数派のこと。

問 1 二重傍線部 ①、②、③、④の読み方をひらがなで書きなさい。

問 2 二重傍線部 ⑤、⑥の読み方をひらがなで書きなさい。

問 3 空欄 a、b、c、d に当てはまる語句として最も適切なものを、次の中からそれぞれ選択し記号を答えなさい。  
 ア つまり イ しかし ウ こうして エ もし

問 4 本文中、次の一文が抜けている。ここに入れたらよいか、入れたらよくないかを判断し記号を答えなさい。  
 むしろ環境は絶えず気まぐれに変わるほうが普通かもしれない。

問 5 傍線部 B「新しい環境にさらされる」とあるが「さらされる」と、どのような意味を指しているのか、説明しなさい。

問 6 傍線部 C「彼ら」とあるが「彼ら」とは何を指すのか、説明しなさい。

国 7

【問題文】

今日地球上に繁栄している多種多様な生きものは、基本的に自分に適した環境に生活するようになっており、たとえば鳥の生物のように同じ場所を暮らしながらも、そこで生存競争をしているとは限りません。おのおの繁栄できる環境はいろいろな要因(たとえば寒や暑やいろいろな刺激)によって支えられているので、物理的に同じ空間にいても必ずしも争うことはないのです。

これに対して、「この種の個体どうしはその置かれた環境の下でできるだけ自分の子孫をつくらせよう、生きものもまた争うような競争をします。代を重たしているうちにその環境条件でもっともよく増えるゲノムを持つものが結局大繁栄します。種内でゲノムが競争して最勝者を選び出す」のです。

ところが、このゲノム集団のなかにはいろいろな変わり者がマイノリティとして絶えずつくり出されており、偶然に置かれたものがあつた場合を除くやがてそのほとんどもが消えていきます。このくり返しでゲノム集団の示すありのままの家です。

【a】環境が絶えず変化している環境に直面します。また、生きものは今暮らしている所から新しい環境に進出しようとしていますが、条件の異なる環境に進出しようとするゲノムはやはり最勝でない環境で何とかやっていかなければならない、という問題に直面します。

生きものには、多少の変化に適応してやっているといるゲノムが少なすぎても、適応はゲノムの変化ではなく、あらかじめこの条件、あの条件に置かれたときには「よしよし、ああよし」といってゲノムがゲノムに代わってあるものを読み取っているように見えます。

たとえば多くの微生物は水分が乾上がってしまうと、胞子をつくって耐え、再び水分がもどるのを待ちます。急に温度が上がると熱ショックタンパクとよばれる「一群のタンパク質をつくらせよう」とか増えようとするのです。

【b】新しい環境にさらされた、もとのゲノムがその条件で何とかやっていると、より適した変化ゲノム、【c】もとのゲノムがその条件で何とかやっていると、選ばれる者があるという話です。

変わり者は、どんな環境でもどんな育つスパンゲノムでもありませぬ、光、温度、塩分、乾燥、食物、捕食者はみな生きものにとつて環境条件の変化要因であり、それらのがいによって異なる「変わり者」が選ばれます。

条件の変化要因であり、それらのがいによって異なる「変わり者」が選ばれます。また、生きものは今暮らしている所から新しい環境に進出しようとしていますが、条件の異なる環境に進出しようとするゲノムはやはり最勝でない環境で何とかやっていかなければならない、という問題に直面します。

生きものには、多少の変化に適応してやっているといるゲノムが少なすぎても、適応はゲノムの変化ではなく、あらかじめこの条件、あの条件に置かれたときには「よしよし、ああよし」といってゲノムがゲノムに代わってあるものを読み取っているように見えます。

たとえば多くの微生物は水分が乾上がってしまうと、胞子をつくって耐え、再び水分がもどるのを待ちます。急に温度が上がると熱ショックタンパクとよばれる「一群のタンパク質をつくらせよう」とか増えようとするのです。

【d】ゲノム DNA に安定だが変化するという性質がなかったら、ヒトは言うにおよばず、今日のような生きもの世界も出現しなかったでしょう。よくぞここまでできたところになります。

【松原謙一】遺伝子とゲノム「何が起きているか」(よ)

注 1 業……サスキット語「カルマ」の訳、行為の業、仏教で未来に報いをもたらす善悪の行。

注 2 ゲノム……生物の配子に含まれる染色体または遺伝子の全体。

注 3 寡占状態……少数の大企業が市場の大部分を支配すること。

注 4 マイノリティ……少数派のこと。

問 1 二重傍線部 ①、②、③、④の読み方をひらがなで書きなさい。

問 2 二重傍線部 ⑤、⑥の読み方をひらがなで書きなさい。

問 3 空欄 a、b、c、d に当てはまる語句として最も適切なものを、次の中からそれぞれ選択し記号を答えなさい。  
 ア つまり イ しかし ウ こうして エ もし

問 4 本文中、次の一文が抜けている。ここに入れたらよいか、入れたらよくないかを判断し記号を答えなさい。  
 むしろ環境は絶えず気まぐれに変わるほうが普通かもしれない。

問 5 傍線部 B「新しい環境にさらされる」とあるが「さらされる」と、どのような意味を指しているのか、説明しなさい。

問 6 傍線部 C「彼ら」とあるが「彼ら」とは何を指すのか、説明しなさい。

国 9

問 7 傍線部 D「幸運な変わり者」とあるが、どのような点が「幸運」なのか、説明しなさい。

問 8 傍線部 E「こうして出現」とあるが、どのようにして出現したのか、該当する文章を四十文字以内で抜き出し、最初と最後の五字で解答欄に合うように書きなさい。

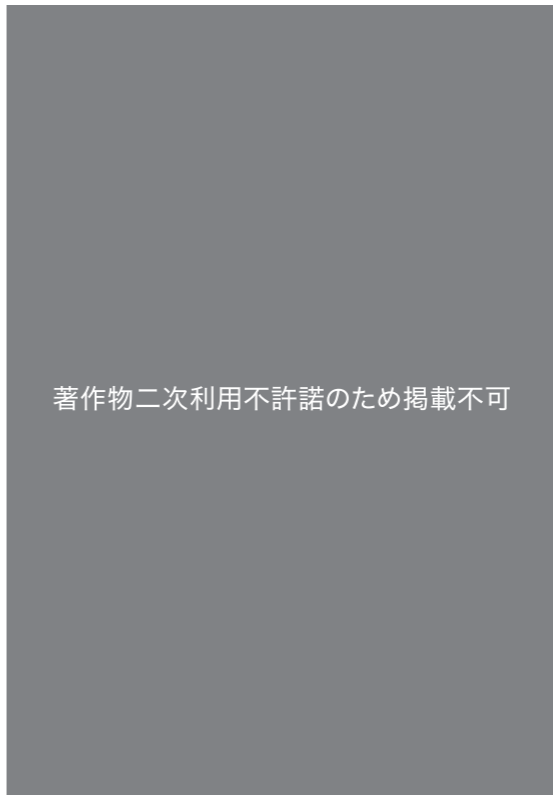
問 9 傍線部 A「シヨ」と同じ漢字を用いるものを次の中から選取、記号で答えなさい。  
 ア 日米安全協定「シヨ」の締結 イ これは「シヨ」の付いた商品 ウ 自転車事故の被害を「シヨ」する

国 4

国 3

国 2

次の文章を読み、後の設問に答えなさい。



著作物二次利用不許諾のため掲載不可



著作物二次利用不許諾のため掲載不可

- 問1 二重傍線部①、②、③、④の漢字の読み方をひらがなで答えなさい。
- 問2 二重傍線部⑤、⑥、⑦、⑧のカタカナを漢字に書き改めなさい。
- 問3 空欄 a に入る最も適切な語句を次の中から選び、記号で答えなさい。  
ア さもなければ イ 裏を返せば ウ それどころか エ たださえ
- 問4 空欄 b に入ると共に通して入る最も適切な語句を次の中から選び、記号で答えなさい。  
ア そこで イ および ウ または エ あるいは オ しかし
- 問5 空欄 c に入る最も適切な語句を次の中から選び、記号で答えなさい。  
ア 意欲的 イ 積極的 ウ 飛躍的 エ 具体的 オ 消極的
- 問6 傍線部 A「明日は我が身」とは具体的にどのようなことを指しているのか、句読点を含めて四十文字以内で書きなさい。

国 6

国 5

英 2

1 下記の(A)～(B)の各問に答えなさい。

(A) 次の英文を読み、下記の問に答えなさい。

Perth, Western Australia

Perth is a big city in Western Australia. Perth has some of the best beaches in Australia. Cottesloe\* is a popular place where you can swim, play in the sand, and can even see dolphins. For people who enjoy playing outdoors, Kings Park is one of the largest city parks in the world. It's a great place for picnics, climbing trees, and discovering different plants and flowers. And if you like animals, you can visit the Perth Zoo to see kangaroos, koalas, and other Australian animals up close\*\*.

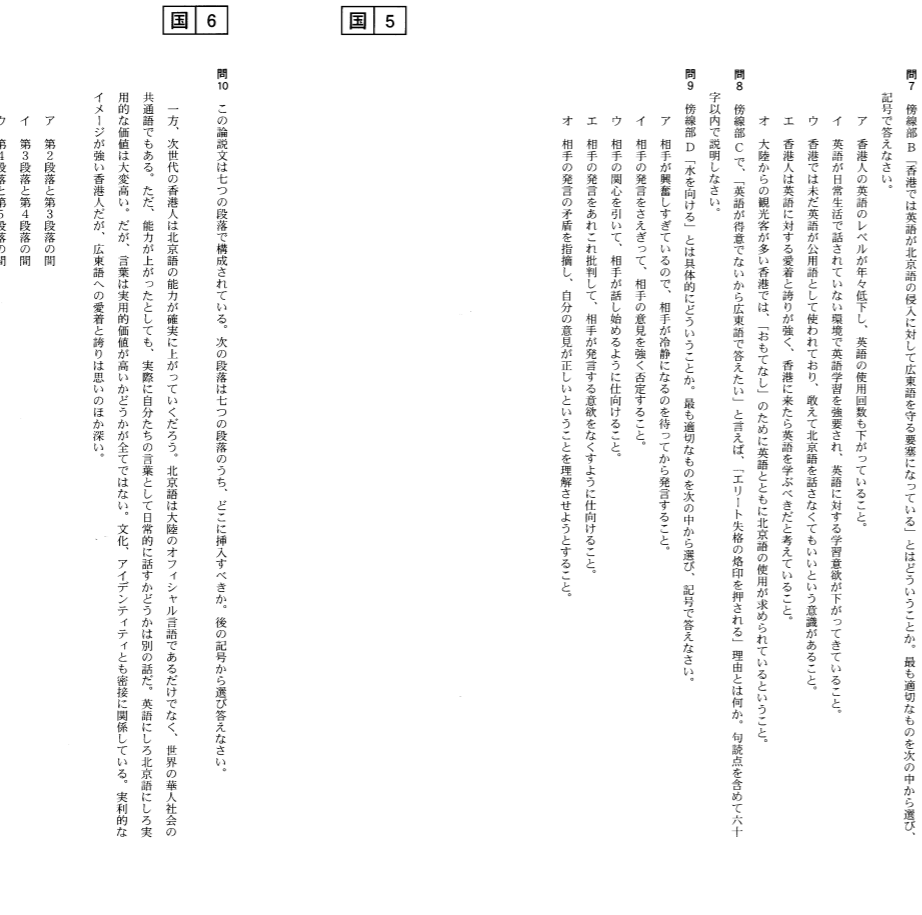
People in Perth enjoy celebrating different events and festivals throughout the year. The Perth Festival, which happens every summer, has music concerts and movies that everyone can enjoy. In winter, they have an arts festival, which has theater, dance, and art exhibitions. And in spring, the Kings Park Festival celebrates the blooming wildflowers with beautiful flower displays and fun activities for families.

Rottnest Island is a short boat ride away from Perth. The clear blue water there is perfect for snorkeling\*\*\* and seeing colorful fish. On Rottnest Island, you can meet quokkas, which are small, friendly animals that always seem to be smiling! However, there are also many insects on Rottnest Island during the summer months. For example, spiders and flies.

In 1826, Perth was a small town with only a few houses and people. However, in 1885 they found gold near Perth. All at once, people from all over the world came to Perth to find gold and make their dreams come true. People slowly built tall buildings, schools, and parks. Now, Perth is a place where many families live, play, and learn together.

Perth people love playing and watching sports. The most popular winter sport is Australian Rules Football, and there are big matches at Optus Stadium where thousands of fans come to cheer for their favorite teams. The most popular summer sport is cricket, and the WACA Ground is a famous stadium in Perth where big cricket matches take place. On hot summer days, families often go to Cottesloe Beach to swim and surf in the waves. The Swan River is a wonderful place for kayaking and sailing.

\* Cottesloe コテスロー (郊外の地名)  
\*\* up close 非常に近くに、間近に  
\*\*\* snorkeling シュノーケル遊泳



- 問7 傍線部 B「至港では英語が北京語の侵入に対して広東語を守る要港になっている」とはどういうことが、最も適切なものを次の中から選び、記号で答えなさい。  
ア 香港人の英語のレベルが年々低下し、英語の使用回数も下がっていること。  
イ 英語が日常生活で話されていない環境で英語学習を強要され、英語に対する学習意欲が下がっていること。  
ウ 香港ではまだ英語が公用語として使われており、敬えて北京語を話さなくてもいいという意識があること。  
エ 香港人は英語に対する愛着を誇りが強く、香港に来た英語を学ぶべきだと考えられていること。  
オ 大陸からの観光客が多い香港では、「おもてなし」のために英語とともに北京語の使用が求められていること。
- 問8 傍線部 Cで、「英語が得意でないから広東語で答えた」と言えば、「エリート」格の烙印を押される理由とは何か、句読点を含めて六十文字以内で説明しなさい。
- 問9 傍線部 D「水を向ける」とは具体的にどういったことか、最も適切なものを次の中から選び、記号で答えなさい。  
ア 相手が興奮しすぎているので、相手が冷静になるのを待つことから発言すること。  
イ 相手の発言をさげすんで、相手の意見を強く否定すること。  
ウ 相手の関心を引いて、相手が話し始めるように仕向けること。  
エ 相手の発言をあれこれ批判して、相手が発言する意欲をなくすように仕向けること。  
オ 相手の発言の矛盾を指摘し、自分の意見が正しいということを理解させようとすること。

問10 この説明文は七つの段落で構成されている。次の段落は七つの段落のうち、どこに挿入すべきか、後の設問から選択しなさい。

「一方、次世代の香港人は北京語の能力が確実に上がっていくだろう。北京語は大陸のオフィシャル言語であるだけでなく、世界の華人社会の共通語でもある。ただ、能力が上がったとしても、実際に自分たちの言葉として日常的に話すかどうかは別の話だ。英語は北京語にしろ実用的な価値は失われ、だが、言葉は実用的価値が高いかどうか全てもではない。文化、アイデンティティとも密接に関連している。実利的なイメージが強い香港人が、広東語への愛着と誇りは思いのほか深い。」

- ア 第2段落と第3段落の間
- イ 第3段落と第4段落の間
- ウ 第4段落と第5段落の間
- エ 第5段落と第6段落の間
- オ 第6段落と第7段落の間

英 3

問1 以下の1~5について、本文の内容に合う適切な答を、a~dの中から1つ選び、その記号を記しなさい。

- 1. Which is TRUE about Perth?
A) You can see kangaroos and koalas in Kings Park.
B) Cottesloe is a popular place to have a picnic.
C) Perth is in Eastern Australia.
D) Perth is close to the ocean.
2. What can you do at the spring festival?
A) You can watch movies.
B) You can watch people dancing.
C) You can do fun activities.
D) You can see art exhibitions.
3. What kind of creature is a quokka?
A) An animal.
B) An insect.
C) A bird.
D) A colorful fish.
4. Why did Perth suddenly become a popular place?
A) Because Perth was a small town.
B) Because they discovered gold near Perth.
C) Because Perth had good schools.
D) Because Perth had tall buildings and parks.
5. Where would you go to watch a cricket match?
A) Optus Stadium.
B) Swan River.
C) Cottesloe Beach.
D) The WACA Ground.

英 4

(B) 次の英文を読み、下記の問に答えなさい。
One of the major advantages of visiting the UK is discovering that the country is so close-packed. You don't need to travel ( 1 ) to enjoy different scenery or a different period in history.
If you go to Scotland, you can see a place that is almost like ( 2 ) Hokkaido. The Lake District was formed in an ice age\*. Today, a tourist bus can take you quickly and comfortably around the UK's many attractions. Tourists today can see a lot in just a ( 3 ).

- ( 1 ) a. quietly b. safely c. far d. alone
( 2 ) a. another b. other c. two d. such
( 3 ) a. lake b. dream c. years d. day

問2 本文の内容と一致するように、(1)~(2)の...に続く本文の内容に則した適切な答を、a~dの中から1つ選び、その記号を記しなさい。
(1) According to the above reading, ...
a. Scotland is bigger than Hokkaido.
b. some tourists travel to the UK to enjoy its history.
c. tourist buses are slow and uncomfortable.
d. there are few tourist attractions to see.
(2) According to the above reading, ...
a. UK tourist attractions are very far apart.
b. The Lake District was formed a long time ago.
c. trains are the best way to travel around the UK's attractions.
d. seeing the scenery of the UK is not enjoyable.

英 7

(3) In Japan, scientists have found that agricultural chemicals used in rice fields are one of the main causes of a problem called "colony collapse disorder" (CCD). According to one survey, few bees died in colonies located more than two kilometers from rice fields.
a. CCD is the name of an agricultural chemical.
b. Bees can give humans a disease called CCD.
c. Agricultural chemicals are one of the main causes of CCD.

(4) Home gardens do not have to be large, complicated or difficult. In crowded places such as Singapore, it is common for people to start their own garden on the roof of their house or condominium\*, or even in pots on their balcony.
a. Home gardens always require a lot of space.
b. Singapore is considered to be a crowded place.
c. In crowded places, nobody has an interest in home gardens.

- \* condominium コンドミニアム(鉄筋コンクリート造りの「マンション」のこと)
(C) 次の各組の英文がほぼ同じ意味になる( )内に入る語(句)の最も適切な組合せを、a~dの中からそれぞれ1つ選び、記号を記しなさい。
(1) Please help me (ア) a way to save energy.
Let's (イ) how to save energy.
a. ア see to イ figure on b. ア see to イ figure in
c. ア find out イ figure up d. ア find out イ figure out
(2) Yuriko is the (ア) student in this class.
Yuriko is (イ) than any other student in this class.
a. ア smartest イ smart b. ア smartest イ smarter
c. ア smarter イ smart d. ア smarter イ smartest
(3) Josh is popular among people because he is (ア) .
Josh's (イ) makes him popular among people.
a. ア famous イ fame b. ア fame イ famous
c. ア lazier イ lazy d. ア lazy イ lazier

英 8

4 以下はパーソナル・コンピュータ向けホームページ画面を想定しています。この内容について各問に答えなさい。

Japanese English Chinese Korean Russian
HOKKAI CITY HALL 13th / Feb. / 2025
Welcome to the Hokkai City website. My name is Tadahiko HATA. I have been Mayor of Hokkai City since 2022. I am going to (1) briefly describe our city government.
City Services
(2) Hokkai City provides our citizens with a variety of city services. Some of (3) them are as follows:
If you are looking for a place to walk or jog, get together with friends, or take the family to a playground, then we offer a spot in nature for every citizen.
Hokkai City Transit System is available to every bus rider through our convenient electronic fare system using contact-free IC cards, and a carefully planned network of bus routes.
The Hokkai Fire and Emergency Service is (4) responsible for the prevention and suppression of fires, and for assisting with various (5) emergencies.
In Hokkai City, your garbage collection points and recycling collection points are weekly emptied at a certain hour on a certain day of the week based on a zone collection schedule. When you start a commercial or home business, you will have to get a Business License Permit. Please do not hesitate to contact us (6) if you would like to know more information about business regulations.
In order to maintain a wide range of city services, we obtain financial resources partly from residential property (7) taxes. All property taxes are due on February 29th, 2025.
(8) The population of the city is growing steadily larger every year as shown in the graph. Hokkai City had a population of 67,025 in 2024.
City Council
75 Minegishi Avenue, Kaigan Ward, Hokkai City, 068-1355
9:00 a.m. to 5:00 p.m. (Monday to Friday (excluding holidays))
Phone: +81 (11) 824-0801
City Councilors (with a term of five years)
Yoshiro SHIMIZU (age: 57) Junya UNO (age: 48)
Chiyoko FURUMINE (age: 61) Reiko IKEDA (age: 51)
Tetsuaki TSUJIMOTO (age: 65) Hisakazu KURODA (age: 43)
Hisako SAKO (age: 46) Norihiko KOMIYA (age: 56)
Toshiko TAKEDA (age: 52) Tadaaki MIYAKOSHI (age: 67)
City Administration
City Manager: Managing Director (Infrastructure)
Bunzo KURATA (age: 60) Haruka TANAKA (age: 47)
Managing Director (Public Services): Managing Director (Energy and Environment)
Yoshiko HIRAOKA (age: 45) Jun SHIRAI (age: 53)
For more information, visit our website, https://www.hokkai-cityhall.nh/contents, or email us at info@hch.nh

英 5

2 次の対話文を読み、問1~5に英語で答えなさい。なお、答えは単語や句ではなく文の形で作成しなさい。

School Festival

Masato: Hi Rena! How's it going? Have you finished preparing for this weekend's school festival?
Rena: Hi Masato! I just went shopping at the supermarket for some meat. My volleyball club members are making some delicious hamburgers to sell at the festival.
Masato: I love the smell of grilled burgers filling the air. My soccer club members are planning to sell lemonade and popcorn there.
Rena: That's a great idea, Masato! Those things should be very popular at the festival. I'm sure that a lot of people will buy them.
Masato: I hope they do. Our soccer club will use the money we earn to buy new soccer balls. Do you need any help with your preparations?
Rena: That's very kind of you, Masato. Could you help me set up the gas for the stove that we will use to cook the hamburgers.
Masato: Of course, I'd be happy to help! Let's make this festival a success together!
Rena: Thank you, Masato! I'm looking forward to it.

- 問1 When is the school festival?
問2 What did Rena just finish doing before she met Masato?
問3 Which club is going to make hamburgers at the festival?
問4 What does Rena think should be very popular at the festival?
問5 What will Masato do to help Rena?

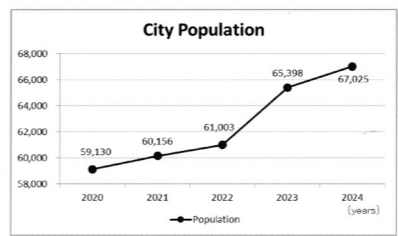
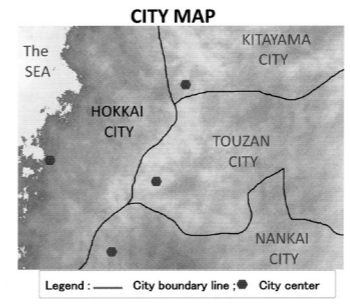
英 6

3 下記の(A)~(C)の各問に答えなさい。

(A) 下記の(1)~(3)について、日本語とほぼ同じ内容の英文を作るとき、( )内の語(句)を並べ換えた際に、並べ換えた語(句)の中で4番目にくるものをa~fの中から1つ選び、その記号を記しなさい。
(1) 明日の朝、モーニングコールをしてあげようか。
Shall (a. you b. tomorrow c. call d. I e. a wake-up f. give) morning?
(2) 彼は家族のどれよりも小さい。
He (a. else b. than c. is d. smaller e. in f. anyone) the family.
(3) 見渡す限り一面砂ばかりであった。
There (a. far b. but c. as d. was e. sand f. nothing) as the eye could see.

(B) 下記の(1)~(4)の英文を読み、その内容として正しいものをそれぞれa~cの中から1つ選び、その記号を記しなさい。
(1) One day in May, Sally visited an animal shelter in town. A lot of stray animals were held there. She was looking for a dog to train as a therapy dog. She was interested in animal therapy and believed that dogs could help calm down sick people.
a. Sally wanted to train a dog that could calm down sick people.
b. Sally did not believe in animal therapy.
c. Sally visited an animal hospital in her town.
(2) JICA had its Super Cool Biz Project in Kobe. It was a project to save energy and enjoy world cultures. The JICA members wore clothes from many countries, especially hot countries. One of the JICA staff wore clothes from Sudan.
a. JICA staff all wore the same clothes.
b. Clothes from hot countries were also worn at the Project.
c. A goal of the JICA project was sending clothes to Sudan.

英 9



Hokkai City Hall Terms & Conditions Privacy
LOCATION
28 Minegishi Avenue, Kaigan Ward, Hokkai City, 068-1352, Nihon.
https://www.hokkai-cityhall.nh/ Phone: +81 (11) 841-1161
Copyright © 2025 HOKKAI CITY HALL

英 10

(このページは白紙です)



# 北海商科大学

## 令和6年度

# 入学者選抜問題



**英 2**

1 下記の(A)～(B)の各問に答えなさい。

(A) 次の英文を読み、下記の問に答えなさい。

**Social Networking Services (SNS)**

Social Networking Services (SNS) are online services that allow people to connect with others and share information and content. Using SNS, you can stay connected with friends and family, as well as communicate with people from around the world.

SNS allow you to create your own profile, where you can share information about yourself, such as your hobbies, interests, and favorite things. You can also post updates, photos, videos, and thoughts to share with your friends or followers. In addition, you can share content created by others that you find interesting.

Furthermore, SNS let users show they appreciate posts by giving likes, and they can leave comments to share their thoughts or start conversations. Most SNS also provide messaging features to send private messages between you and other users. It's a great way to stay in touch with friends privately.

Although SNS can be fun and helpful, you need to be careful about sharing too much personal information on SNS, like your address or phone number. For this reason, it is important to set your privacy settings in the SNS. For example, you should set these privacy settings so that the SNS does not allow requests to be friends from strangers.

Sometimes, using SNS too much can become a bad habit. It's important to balance using SNS with other important things, like doing schoolwork and spending time with friends and family. That way, you can enjoy SNS and still have time for other fun and important activities.

Cultural factors and preferences can influence the way SNS are used in different countries. For example, in Japan, there is often a focus on privacy and maintaining a close circle of friends. However, American users more easily connect with strangers on SNS, and more often freely share content with people they do not know.

**英 3**

問1 以下の1～5について、本文の内容に合う適切な答を、a～dの中から1つ選び、その記号を記しなさい。

1. Which of the following is NOT true about Social Networking Services (SNS)?

- a. You can use them to connect with friends and family.
- b. You can use them to create information about yourself.
- c. You can use them to share other people's content.
- d. You can use them to do banking with people from around the world.

2. What is safe about messaging features on most Social Networking Services?

- a. They enable you to post personal updates and thoughts.
- b. They enable you to privately send messages to other people.
- c. They enable you to post and share photos and videos.
- d. They enable you to give likes to show that you appreciate a post.

3. Why should you set privacy settings in an SNS?

- a. To prevent requests to be friends from people you do not know.
- b. To make the SNS content more helpful and fun.
- c. To share your address or phone number with strangers.
- d. To give much personal information on the SNS.

4. How should you balance using SNS with other important things?

- a. Find more time to use SNS for fun activities.
- b. Make SNS become a bad habit by using it too much.
- c. Spend time away from SNS with friends and family.
- d. Use SNS for doing schoolwork.

5. Which of the following is TRUE about SNS usage in Japan and America?

- a. Japanese users more easily connect with strangers.
- b. American users more often share content with strangers.
- c. There is no difference in the way SNS are used in both these countries.
- d. American users more often focus on privacy.

**英 4**

(B) 次の英文を読み、下記の問に答えなさい。

The Venus Museum will start a new exhibition ( 1 ) August 12. It features historical paintings, wooden toys from all over the world, and photos by local artists. Also, new items such ( 2 ) photos and posters are ready at our gift shop.

Admission fee is 8 dollars for an adult, and 4 dollars for a child aged 12 or lower. Membership discount is ( 3 ), so if you are a member, please do not forget to bring your membership card.

(早川幸治、番場直之 著、GIGA BOOSTER FOR THE TOEIC L&R TEST、金星堂)

問1 英文中の( 1 )～( 3 )に入る最も適切な語を、a～dの中からそれぞれ1つ選び、その記号を記しなさい。

- ( 1 ) a. for                      b. at                      c. in                      d. on
- ( 2 ) a. as                      b. so                      c. like                      d. but
- ( 3 ) a. comfortable                      b. capable                      c. available                      d. enable

問2 本文の内容と一致するように、1.～2.の( )に入る語(群)を、a～dの中からそれぞれ1つ選び、その記号を記しなさい。

1. What are NOT exhibited in the Venus museum are ( ).
  - a. paintings
  - b. toys
  - c. books
  - d. photos
2. The Venus museum admission fee for a child aged 10 is ( ).
  - a. half the price of adults
  - b. free
  - c. the same price as adults
  - d. twice the price of adults

英 5

2 以下はパーソナル・コンピュータ向けホームページ画面を想定しています。この内容について各問に答えなさい。

Japanese English Chinese Korean Russian Sign In

## Restaurant HOKKAI-KAN

8th / Feb. / 2024

About Blogs Services Help

**Our Mission by Takashi TAKIUCHI, Managing Owner**

Founded here in 2005 by my uncle Yoshio NORITAKE, HOKKAI-KAN has received (1) our (2) many (3) guests. (4) We offer our guests the dining culture of Hokkaido, and have on our menu sustainably sourced meat and (5) organic (6) vegetables (7) from backyard suppliers. HOKKAI-KAN showcases a comfortable space where (8) food, drink and atmosphere combine for a unique dining experience. HOKKAI-KAN received a series of recognitions this year including Restaurant of the Year by the Hokkai Magazine Dining Awards. HOKKAI-KAN has launched weekend brunch, offering some new dishes and special brunch items. This weekend brunch is only available until March 31. Please join us Saturday and Sunday from 11:30 - 13:00.

MENU (\* Recommended)

Check out a preview of our menu below!

Bone-In Rib Steak with mashed potatoes and organic vegetables.	1,500 JPY	Roasted Chicken Breast with mashed potatoes, and broccoli sprouts.	1,400 JPY
Beef with tartar sauce, pickled onion and crispy potatoes.	1,300 JPY	House spaghetti (Bolognese)	1,200 JPY
Roasted carrots with a cashew sauce.	800 JPY	Strawberry shortcake	500 JPY
Coffee Roll	600 JPY	Chocolate cake	700 JPY

Prices will be charged in Japanese Yen (JPY). Taxes included.  
\* Feel free to contact us directly if you wish to order from our other menus.

Business Hours  
Monday - Friday: 17:00 to 22:00; Saturday: 16:00 to 23:00; Sunday: 15:00 to 21:00.  
(Except public holidays.)

英 6

**Kitchen Staff**

**Head Chef, Michel LELLOUCHE**  
Born and raised in Eastern Canada, his cooking career has taken him to the U.S., New Zealand, Australia, and Hokkaido.

**Pastry Chef, Toujirou TSUNEKAWA**  
He began his passion for cooking right after high school graduation. He has participated in cooking competitions in France and Italy.

**Beverage Director, Youko TAKIUCHI**  
She has a long career in beverage selection. She studied traditional tastes and flavors of drinks during her travels all over Japan.

Terms & Conditions Privacy

**LOCATION**  
750 Hiragishi Road, New Toyohira Ward, Sapporo, Hokkaido, 067-8607, Japan.  
Email: r-hokkai-kan@reservation.co.jp Phone: +81 (11) 841-1161  
Copyright © 2024 HOKKAI-KAN

問1 下線部(1)～(8)および(5)～(7)の文中での品詞を、a～dの中からそれぞれ1つ選び、その記号を記しなさい。

- a. 代名詞 b. 名詞 c. 形容詞 d. 前置詞

問2 以下の(1)～(4)について、ホームページの内容に合う適切な答えを、a～dの中からそれぞれ1つ選び、その記号を記しなさい。

(1) Which is NOT mentioned on the web page?

- a. Message from the owner
- b. Telephone number
- c. Current street address of the restaurant
- d. Website address

(2) Which is TRUE of Restaurant HOKKAI-KAN?

- a. Yoshio NORITAKE is now the managing owner.
- b. HOKKAI-KAN doesn't serve meat dishes.
- c. The weekend brunch isn't available from April.
- d. You can eat there during public holidays.

英 7

(3) Which is TRUE of the recommended menu?

- a. Customers can pay their dinner bill in U.S. dollars.
  - b. Mashed potatoes are only served with roasted chicken breast.
  - c. Ordering house spaghetti and strawberry shortcake will cost you 1,700 JPY.
  - d. You can only order food from the recommended menu.
- (4) Which is TRUE about the kitchen staff of the restaurant?
- a. The restaurant has a kitchen staff of four people.
  - b. Michel LELLOUCHE spent his childhood in Japan.
  - c. Toujirou TSUNEKAWA started his cooking career in his late teens.
  - d. Youko TAKIUCHI learned beverage selecting skills abroad.

問3 下線部(4)および(8)を日本語に訳しなさい。

英 8

3 次の対話文を読み、問1～5に英語で答えなさい。なお、答えは単語や句ではなく文の形で作成しなさい。

**Famous Person**

Rikuto: Hi Kana. How was your weekend?  
Kana: It was great! On Saturday, I was walking downtown and I saw a famous person.  
Rikuto: Really? Was it a famous actor or a famous singer?  
Kana: Actually, it was a famous television talent. I saw him shopping for clothes in a big department store. Have you ever met a famous person, Rikuto?  
Rikuto: Yes. I talked with a famous baseball player when I was in elementary school. I also met a famous singer while I was a high school student.  
Kana: Do you want to be famous, Rikuto?  
Rikuto: Famous people don't have any privacy, so I don't want to be famous. Would you ever marry someone famous, Kana?  
Kana: I think it would be very difficult. Famous people are very busy, and everyone wants to take a photograph with them.  
Rikuto: I agree. If you marry someone famous, you might have many problems.  
Kana: Anyway, it was exciting to meet someone famous on Saturday.

- 問1 What kind of famous person did Kana see on Saturday?  
問2 Where did Kana see the famous person on Saturday?  
問3 When did Rikuto meet a famous singer?  
問4 Why doesn't Rikuto want to be famous?  
問5 Does Kana want to marry a famous person? Why or why not?

英 9

4 下記の(A)～(C)の各問に答えなさい。

(A) 次の(1)～(2)について、それぞれの指示に従い、語形変化した語を一語で書きなさい。  
(1) retirementを動詞にする (2) deepを副詞にする

(B) 次の各文の( )に入れる最も適切な語(句)を、a～dの中からそれぞれ1つ選び、その記号を記しなさい。

- (1) Canada is the second ( ) country in the world.  
a. large b. larger c. largest d. the largest
- (2) Do you remember the day ( ) we first met?  
a. when b. where c. why d. how
- (3) The family decided ( ) the house. It was too expensive.  
a. to buy b. not to buy c. buying d. not to buying

(C) 次の各文について、主節のS [主題]に対応する適切なV [動詞(句)]を下線部の中からそれぞれ1つ選び、その番号を記しなさい。

- (a) Undoubtedly he is the most intelligent student I have ever seen.  
1 2 3 4 5 6
- (b) Psychologists believe that our dreams give us interesting information.  
1 2 3 4 5 6 7
- (c) The main reason for this is the widespread availability of personal computers.  
1 2 3 4 5
- (d) The rivers that flow into the ocean are not salty.  
1 2 3 4 5 6
- (e) What possible ideas can you have?  
1 2 3 4 5 6

英 10

5 下記の(A)～(C)の各問に答えなさい。

(A) 下記の(1)～(3)について、日本語とほぼ同じ内容の英文を作るとき、( )内の語(句)を並べ換えた際に、並べ換えた語(句)の中で4番目にくるものをa～fの中から1つ選び、その記号を答えなさい。( )内の語(句)は先頭にくるものも小文字で始まっています。

- (1) 1時間かかって、やっと僕はその問題を解くことができました。  
It (a. to b. a c. took d. solve e. full hour f. me) the problem.
- (2) タクシーに乗れば、電車に間に合うだろうか。  
Will (a. time b. for c. be d. the train e. I f. in) if I take a taxi?
- (3) 僕が電車から降りようとしたとき、彼女が乗り込んできた。  
I was (a. when she b. the train c. getting d. on e. off f. got).

(B) 下記の(1)～(4)の英文を読み、その内容として正しいものをそれぞれa～cの中から1つ選び、その記号を記しなさい。

- (1) During my high school days, I visited Nara Park on a school trip. Walking around the park, I saw many foreign tourists and one of them spoke to me in English. Not being able to understand, I ran away. I felt helpless and bad about myself.  
a. I got lost in Nara Park, while I was in Nara on a school trip.  
b. When I was spoken to in English in Nara, I didn't understand the English.  
c. I helped a foreign tourist who asked me directions in Nara Park.
- (2) I often use the convenience store near my house. It not only sells a wide range of goods but also provide services such as photocopying and paying bills. The reason why I go to my local convenience store is to buy snacks, drinks, magazines, and many other daily items.  
a. The convenience store I often use is far from my house.  
b. I cannot pay my electricity bill at the local convenience store.  
c. I usually go to a convenience store to buy everyday items.

英 11

(3) India has the greatest movie industry in the world. It is the only country to produce over a thousand movies a year. These movies are made in more than twenty languages. Besides Hindi, the country's official language, English and twenty-one state languages are also used in India.

- a. India's movie industry produces less movies than the U.S.A.
- b. Indian movies are made in only one language.
- c. Hindi is the official language in India.

(4) In ancient times, most tall buildings were narrow towers built of heavy stone. These towers had few windows since they weakened the structure. After the Industrial Revolution, people came to use steel and concrete, greatly improving the strength of tall buildings.

- a. In ancient times, most tall buildings had few windows.
- b. In ancient times, most tall towers were built using steel and concrete.
- c. The Industrial Revolution didn't improve tall buildings.

(C) 次の各組の英文がほぼ同じ意味になる( )内に入る語の最も適切な組合せを、a～dの中からそれぞれ1つ選び、記号を記しなさい。

- (1) ( ) was the cause of the fire?  
( ) did the fire break out?  
a. ア What イ Why b. ア How イ Why  
c. ア How イ Which d. ア What イ Which
- (2) What is the price ( ) this cap?  
How ( ) is this cap?  
a. ア in イ much b. ア of イ much  
c. ア of イ many d. ア in イ many
- (3) The condition of her health ( ) her from going out.  
She is not well ( ) to go out.  
a. ア allows イ as b. ア prevents イ as  
c. ア prevents イ enough d. ア allows イ enough



世界史B

- 1 次のA、B、Cの文章を読んで、下の各問に答えなさい。
- 人類が直立歩行を始めてから700万年近くの時間をついやして文明が誕生し、文字が生まれ、歴史時代が始まった。この時人類は都市をつくっていた。都市の発展は歴史を変える力を持った。この問題では、古代から中世に至る都市をとりあげた。
- A 西アジアと地中海はメソポタミア・エジプト・ギリシア・ローマ文明を生んだ。メソポタミア文明は二つの河川にはさまれた「肥沃な三日月地帯」とよばれる地域に生まれ、前2700年ころまでに(あ)がウル・ウルクなどの都市国家を数多く建てた。都市に住む人々は原則的に農業に従事しないので、一人で何人分もの食料を生み出すような農業生産力の向上が必要であった。また農業生産力の向上のための社会的システムを動かす大きな力を必要とした。それら社会的な働きを記録するために文字がつくられた。二つの河川の氾濫予防のために精密な暦法や数学・占星術も発達した。エジプト文明も大河のそばに誕生した。「エジプトは(い)のたまもの」と古代ギリシアの歴史家は記した。
- 問1 下線(あ)に関して、二つの河川の名称を(ア)～(イ)から1つ選び答えなさい。  
 (ア) ティグリス川・インダス川  
 (イ) ティグリス川・ガンジス川  
 (ウ) ティグリス川・ユーフラテス川
- 問2 文中の空欄(あ)に入る適切な語を(ア)～(イ)から1つ選び答えなさい。  
 (ア) シュメール人 (イ) カナン人 (ウ) アラム人
- 問3 下線(あ)に関して、農業生産力の向上に貢献した農業の改革を(ア)～(イ)から1つ選び答えなさい。  
 (ア) 稲作の品種改良  
 (イ) 灌漑農業の普及  
 (ウ) 鉄製農具の使用
- 問4 下線(い)に関する適切な説明を(ア)～(イ)から1つ選び答えなさい。  
 (ア) 商工業が発展し、商人が実権を握り農民を支配した。  
 (イ) 王を中心に神官・役人・戦士が政治・経済・軍事の実権を握った。  
 (ウ) 村落共同体の経験豊かな長老が人々を支配した。
- 問5 下線(い)のメソポタミア文明の楔形文字は何に書かれたか、(ア)～(イ)から1つ選び答えなさい。  
 (ア) パピルス (イ) 木の板 (ウ) 粘土板

世

- 問6 下線(イ)のメソポタミア文明の暦法を(ア)～(イ)から1つ選び答えなさい。  
 (ア) ユリウス暦 (イ) 1週7日制 (ウ) 陰陽五行
- 問7 下線(イ)のメソポタミア文明で発達した数学を(ア)～(イ)から1つ選び答えなさい。  
 (ア) 60進法 (イ) 2進法 (ウ) ゼロの発見
- 問8 文中の空欄(い)に入る適切な語を答えなさい。
- 問9 下線(イ)の歴史家を(ア)～(イ)から1つ選び答えなさい。  
 (ア) ソクラテス (イ) ヘロドトス (ウ) タキトゥス
- B オリент文明の影響を受け地中海に新たな文明が誕生した。地中海沿岸は大河や肥沃な平野には恵まれないが、海岸線が入り組んで港に達した入り江が多く海上貿易が発達した。前8世紀になるとギリシア人がポリスとよばれる都市国家をつくった。やがて交易や手工業で富裕になる平民もあらわれた。彼らは自費で武装しポリス防衛の主力となり、政治への参加を望むようになり民主政が発達した。とくにアテネはオリエンの大国からポリスの自由と独立を守り抜いたという自信を持ち、民主政を進めた。ギリシア人がポリスを発展させていたころ、イタリア半島中部に都市国家ローマが建設された。ローマもギリシアと同様に平民の政治参加が進み、前287年(う)法が成立した。これによって平民と貴族の政治上の権利は平等になった。しかし、アテネの民主政治とは大きく異なった。
- 問10 下線(ウ)で活躍したフェニキア人の文化史上の功績を(ア)～(イ)から1つ選び答えなさい。  
 (ア) 世界市民主義(コスモポリタニズム)を生み、エピクロス派やストア派を発展させた。  
 (イ) 前1500年ころ定住し、ダヴィデ王とソロモン王の時に栄えた。  
 (ウ) 表音文字から線状のフェニキア文字をつくりギリシア人に伝え、アルファベットの起源をつくった。
- 問11 下線(イ)に関して、正しいものを(ア)～(イ)から1つ選び答えなさい。  
 (ア) ポリスの中心アクロポリスは神聖な場所であり、神殿が建てられた。  
 (イ) ポリスは専制的な王によって統治された都市国家であった。  
 (ウ) ポリスはアテネとスパルタの二つしかなかった。
- 問12 下線(イ)の平民たちを(ア)～(イ)から1つ選び答えなさい。  
 (ア) 軽装歩兵 (イ) 騎士団 (ウ) 重装歩兵

世


- 問13 下線(ウ)の国を(ア)～(イ)から1つ選び答えなさい。  
 (ア) ササン朝ペルシア (イ) パルティア (ウ) アケメネス朝ペルシア
- 問14 下線(イ)に関して、アテネの民主政の発展順序として正しいものを(ア)～(イ)から1つ選び答えなさい。  
 (ア) ソロン改革→ペイシストラトスの僭主政治→オストラキスムス  
 (イ) オストラキスムス→ペイシストラトスの僭主政治→ソロンの改革  
 (ウ) ペイシストラトスの僭主政治→ソロンの改革→オストラキスムス
- 問15 文中の空欄(う)に入る適切な語を答えなさい。
- C ゲルマン民族の大移動が続くなかで西ローマ帝国は476年に滅亡した。「すべての道はローマに通ず」とも言われたローマの街道も分断され、社会は荘園制を基盤とする封建社会へと移り、都市は衰退した。都市が再び大きな力を持つようになるのは11世紀ころからである。技術革新に基づく農業生産力の向上による余剰生産物が商品として取引されるようになり、交易の便の良いところに市がたち、都市が発展するようになった。都市には商人・手工業者が移り住み、交換手段としての貨幣も普及した。また11世紀以降の十字軍の遠征も都市の発展に大きな影響を与えた。北イタリアのヴェネツィア・ジェノヴァ・ピサばかりでなく、内陸部のフィレンツェも商業と毛織物工業で栄えるようになった。フィレンツェでは商人ギルドやツンツトがつくられたが、ギリシア語を学ぶ人々も多くなった。フィレンツェにはまるで古代ギリシアのアテネのような自由な空気があった。15世紀半ばころドイツでは活版印刷術が改良され、フィレンツェ郊外ではレオナルド・ダ・ヴィンチが誕生した。新しい時代(え)が来たのである。
- 問16 下線(ウ)についての適切な説明を(ア)～(イ)から1つ選び答えなさい。  
 (ア) 荘園領主の下で、農民は農奴として不自由な身分となった。  
 (イ) 解放奴隷が独立した自営農民になっていった。  
 (ウ) 王が官僚制と常備軍を整え、強い権力を持つ王になった。
- 問17 下線(ウ)についての適切な説明を(ア)～(イ)から1つ選び答えなさい。  
 (ア) 焼酎農業によるジャガイモやトウモロコシ栽培の普及  
 (イ) 三圃制の普及や犁・水車の改良  
 (ウ) 灌漑農業による麦から稲作への転換

世

- 問18 下線(ウ)に関して、第1回十字軍の遠征についての適切な説明を(ア)～(イ)から1つ選び答えなさい。  
 (ア) 神聖ローマ帝国皇帝・フランス王・イギリス王が参加した。  
 (イ) ラテン帝国を建てた。  
 (ウ) エイルサレム王国を建てた。
- 問19 下線(ウ)の繁栄を支えた大富豪を(ア)～(イ)から1つ選び答えなさい。  
 (ア) ホーエンツォルン家 (イ) メディチ家 (ウ) ロマノフ家
- 問20 下線(ウ)とは何か(ア)～(イ)から1つ選び答えなさい。  
 (ア) 手工業者の組合のこと、それぞれの職種の親方が参加した。  
 (イ) 大商人の組合のこと、市場の独占を目指した。  
 (ウ) 都市同盟のこと、イタリアやドイツで発達した。
- 問21 下線(イ)についての適切な説明を(ア)～(イ)から1つ選び答えなさい。  
 (ア) インドで発明されたものがヨーロッパに伝わった。  
 (イ) イギリスのトマス＝モアが発明し、彼は劇作家として成功した。  
 (ウ) 写本よりはるかに早く安価で、新しい思想や知識の普及に貢献した。
- 問22 下線(ウ)の業績についての適切な説明を(ア)～(イ)から1つ選び答えなさい。  
 (ア) 「ダヴィデ像」や「最後の審判」を制作した。  
 (イ) 絵画だけでなく、科学・技術などにも業績を残し「万能の天才」と称された。  
 (ウ) 「君主論」を書き、現実主義的な統治の必要性を主張した。
- 問23 文中の空欄(え)に入る、日本語で「再生」と訳される文化運動を答えなさい。

世

- 2 次のA、B、Cの文章を読んで、下の各問に答えなさい。
- A ティムールの子孫バールブルは、北インドに進出し1526年の戦いでデリー＝イスラーム朝に勝利し、ムガル帝国を建てた。帝国の領土は、第6代皇帝アウラングゼーブ帝の時代に最大となった。彼は厳格なスンナ派イスラーム信仰をおおやけにし、(1) 教寺院の破壊を命じたり、人頭税を復活させるなど他宗教の弾圧を行った。第6代皇帝の死後、国民の大半をなした(1) 教徒が不満を抱き始めたうえ、(2)・カーナティックなど地方の有力な支配者(太守)がしだいに独立の傾向を強めたため、帝国は分裂を始めた。インド亜大陸を主な拠点としてアジア経営を始めていたイギリス・フランスの両国は、互いにインド各地の地方支配者間の対立を利用しつつ抗争を展開した。ヨーロッパで七年戦争が始まると、戦火はアジアにも広がった。イギリスが1757年(3)の戦いでフランスが支援する(2) 太守軍を破り、フランス勢力をインドから駆逐した。1765年にはムガル皇帝から(2) 地方の徴税権を獲得し、東インド会社はしだいに、専ら植民地統治機構に変わっていった。19世紀に入ると、イギリス製の機械織綿布がインドに流入し始め、1810年代には綿布の輸出入が逆転した。インドはしだいに全体として農産物などの一次産品を輸出して、イギリスから工業製品を輸入する立場に転換していった。イギリス支配に対する不満が高まるなか、1857年東インド会社のインド人傭兵が反乱を起こし、首都デリーを占拠した。イギリスは反乱鎮圧にまる2年を要したが、1858年皇帝を廃し、ムガル帝国を滅ぼした。イギリスは同年東インド会社を解散させて、インドを本国政府の統治下におき、インドではインド総督が統治を担当した。1877年(4)女王がインド皇帝に即位して、インドは完全にイギリス植民地になった。
- 問1 下線部(ウ)に関して、「スルタン」の意味の語った説明を(ア)～(イ)から1つ選び答えなさい。  
 (ア) 主としてスンナ派の政治権力者・支配者の称号  
 (イ) 世俗的支配権の保持者  
 (ウ) ムハンマドの代理人・後継者
- 問2 下線部(ウ)に関して、アウラングゼーブの父シャー＝ジャハーンが建てたタージ＝マハルは、インド＝イスラーム建築の代表とされるが、その建物を(ア)～(イ)から1つ選び答えなさい。



世

- B イギリスとフランスの対立・抗争は、アフリカでも展開していた。フランス革命後の総裁政府は、1798年にエジプトに遠征軍を派遣した。エジプトの占領は短期間であったが、フランスはオスマン帝国のエジプト総督になった(5)と関係を深めた。(5)はフランスの援助により近代化・富国強兵を強力に推し進めた。二度にわたるエジプト＝トルコ戦争で、フランスがエジプトを支援したので、イギリスはエジプトの台頭を警戒して干渉政策をとっていった。エジプトは近代化政策や戦争によって莫大な負債を抱え込んだ。1870年代からイギリス・フランスの財務管理下におかれ、内政の支配を受けるようになった。とくにイギリスは1875年、(6)運河会社株を購入しエジプトへの介入を強めた。ヨーロッパ列強によるアフリカ分割競争は、1880年代から激しくなっていた。イギリスは、1882年にエジプトを事実上保護国にし、さらにスーダンに侵入した。アフリカ南部では、ローズの指導でケープ植民地から周辺に侵攻する政策がとられた。1899年には(7)戦争を始め、トランスヴァール・オレンジ両国を併合した。1910年にイギリス帝国内自治領として南アフリカ連邦を成立させた。
- 問13 下線部(イ)に関して、エジプト遠征の目的は何であったか、正しい文を(ア)～(イ)から1つ選び答えなさい。  
 (ア) 地中海の制海権を握るため  
 (イ) イギリスとインドの連絡(通商路)を断つため  
 (ウ) アルジェリアを占領するため
- 問14 文中の空欄(5)に入る適切な人物名を(ア)～(イ)から選び答えなさい。  
 (ア) ムハンマド＝アリー (イ) スレイマン1世 (ウ) アクバル
- 問15 文中の空欄(6)・(7)に入る適切な語を答えなさい。
- 問16 下線部(イ)に関して、右図はローズ(ケープ植民地首相)を描いた当時の風刺画である。ローズのこのポーズは、当時のイギリスのどのような政策を風刺したものが、その政策を答えなさい。



世

- 問3 下線部(ウ)に関して、スンナ派に対立する一派で、第4代正統カリフのアリーと孫の子孫のみを宗教的・政治的指導者と考える一派をなんというか(ア)～(イ)から1つ選び答えなさい。  
 (ア) メッカ (イ) カーバ (ウ) ジャハド (イ) シーア
- 問4 文中の空欄(1)に入る適切な語を(ア)～(イ)から1つ選び答えなさい。  
 (ア) ソロアスター (イ) ヒンドゥー (ウ) 仏 (イ) マニ
- 問5 文中の空欄(2)に入る適切な語を(ア)～(イ)から1つ選び答えなさい。  
 (ア) ベルシア (イ) マニラ (ウ) ベンガル
- 問6 下線部(ウ)に関して、この戦争はオーストリアとプロイセンとの戦いであったが、それぞれの国の君主の組合せとして正しいものを(ア)～(イ)から1つ選び答えなさい。  
 (ア) オーストリア：マリア＝テレジア——プロイセン：フリードリヒ2世  
 (イ) オーストリア：フリードリヒ2世——プロイセン：マリア＝テレジア  
 (ウ) オーストリア：ビュートル1世——プロイセン：フリードリヒ2世
- 問7 文中の空欄(3)に入る適切な語を(ア)～(イ)から1つ選び答えなさい。  
 (ア) サラミス (イ) ブラッシャー (ウ) トラファルガー
- 問8 下線部(ウ)に関して、1600年に東インド会社に特許状を出したイギリスの君主を(ア)～(イ)から1つ選び答えなさい。  
 (ア) ジョン (イ) ヘンリ8世 (ウ) エリザベス1世 (イ) ジェームズ1世
- 問9 下線部(イ)に関して、イギリスの機械織綿布の生産を可能にした背景について、あてはまらない事項を(ア)～(イ)から1つ選び答えなさい。  
 (ア) 水力紡績機の発明 (イ) 蒸気機関の発明 (ウ) 保護関税政策
- 問10 下線部(ウ)に関して、イギリスに輸出された一次産品に含まれないものを(ア)～(イ)から1つ選び答えなさい。  
 (ア) 綿花 (イ) 茶 (ウ) 麻 (イ) ジャガイモ
- 問11 下線部(ウ)に関して、インド人傭兵を意味する言葉(ア)～(イ)から1つ選び答えなさい。  
 (ア) イェニチェリ (イ) ヴェルナ (ウ) シバーヒー
- 問12 文中の空欄(4)に入る適切な人物名を(ア)～(イ)から1つ選び答えなさい。  
 (ア) ナイティンゲール (イ) メアリー1世 (ウ) ヴィクトリア

世

- C イギリスは、1885年にインド国民会議を発足させた。これはインド人の反英運動を緩和させるものであった。その後、反英運動が盛んになると反英運動の中心地であった(3)地方を東西に分ける(3)分割令を1905年に発表し、(2)教徒とムスリムを対立させて民族運動を挑発しようとした。これに反対した国民会議は翌年「英貨排斥、国産品愛用、自治獲得、民族教育」の4綱領を決議した。イギリスは、第一次世界大戦でインド兵が戦争に協力する見返りとしてインドに自治を与えることを約束していた。しかし、大戦後に制定されたインド統治法は実質的に自治とはほど遠い内容であった。これと同時に弾圧的なローラット法が制定されて、インド民衆の激しい反発をよんだ。こうした植民地政府の圧制に対して、非暴力をかけた民衆の指導者として登場したのが(8)であった。1929年インド国民会議派のラホール大会で、完全独立(ブールナ＝スワラージ)の要求が決議された。この大会の議長がのちにインド共和国の初代首相になった(9)であった。1930年に(8)は、(10)の専売制に反対して「(10)の行進」を行った。これに対してイギリスは1930年から3回にわたってロンドンで英印円卓会議を開き、その後1935年インド統治法が生まれ、限定的な州自治が認められた。しかし、これもインド人を満足させることはできなかった。
- 問17 下線部(ウ)に関して、このように宗教的対立を利用して民衆を分断して、団結・抵抗を防ぎ支配を容易にしたイギリスの巧妙な統治政策を(ア)～(イ)から1つ選び答えなさい。  
 (ア) 委任統治 (イ) 分割統治 (ウ) 「船(あめ)と鞭(むち)」の統治
- 問18 文中の空欄(8)・(9)に入る適切な人物名を答えなさい。
- 問19 文中の空欄(10)に入る適切な語を(ア)～(イ)から1つ選び答えなさい。  
 (ア) 塩 (イ) タバコ (ウ) 砂糖 (イ) 米

世

3 次のA、B、Cの文章を読んで、下の各問いに答えなさい。

この問題では現代社会に大きな影響を与えた19世紀の西ヨーロッパ史をとりあげた。市民革命の愛護と産業革命の進行が、人間は自由であり平等であるという啓蒙思想の理念を揺るがした事記である。



上掲の絵はドラクロワの「民衆を導く自由の女神」である。描かれているのは1830年にパリの民衆が蜂起した(あ)革命である。三色旗と銃を手に民衆を率いる女神はフランス共和国の象徴マリアンヌである。

フランスでは、(あ)革命の41年前の1789年にパリ民衆がバスティーユ牢獄を襲撃した。それが全国的な農民蜂起となり、フランスの社会を根底から変える革命となった。絶対王政であったフランスの王権は停止され、裁判を経て国王はギロチンで処刑された。フランスは共和政となったが、政府は安定せず社会は混乱した。人々は体制の安定を実現できる強力な指導者を望んだ。そのような期待を背景に軍人ナポレオンがクーデタを実行し強制的権力を握った。ナポレオンは1804年皇帝に即位し、フランスは共和政から帝政になった。だが1812年の(い)遠征の失敗により、ナポレオンは権力を失った。フランスは王政復古となり、(う)朝が復活した。

問1 下線(a)に関して、蜂起の原因を(ア)～(カ)から1つ選び答えなさい。

- (ア) 国立作業場の閉鎖に抗議した労働者が蜂起した。
(イ) ルイ＝ナポレオンが軍部を掌握し民衆を先導した。
(ウ) 王政復古後のシャルル10世の反動政治に対して民衆が蜂起した。

世

問2 文中の空欄(あ)に入る適切な語を(ア)～(カ)から1つ選び答えなさい。

- (ア) 三月 (イ) 四月 (ウ) 六月 (エ) 七月

問3 下線(b)に関して、民衆は何を要求したか。(ア)～(カ)から1つ選び答えなさい。

- (ア) 田制度(アンシャン＝レジーム)の廃止
(イ) 農民・労働者中心の社会主義政権の樹立
(ウ) 不従従者スローガンとする独立国家

問4 下線(c)の国王の王妃を(ア)～(カ)から選び答えなさい。

- (ア) アン女王 (イ) エカチェリーナ2世 (ウ) マリ＝アントワネット

問5 下線(d)のクーデタの名称を(ア)～(カ)から1つ選び答えなさい。

- (ア) テルミドール9日のクーデタ (イ) プリュメール18日のクーデタ
(ウ) フロンドの乱

問6 下線(e)に関して、同年発布されたナポレオン法典の適切な説明を(ア)～(カ)から1つ選び答えなさい。

- (ア) 男女の差別や社会の階級を認めない法典
(イ) 私有財産の不可侵や法の前の平等、契約の自由などを謳う民法典
(ウ) 「目には目を歯には歯を」とする復讐法を原則とする刑法典

問7 文中の空欄(い)に入る適切な語を答えなさい。

問8 下線(f)のナポレオンの状況を(ア)～(カ)から1つ選び答えなさい。

- (ア) 皇帝を退位し、ヴェルサイユ宮殿に幽閉されなくなった。
(イ) ライプツィヒの戦いで勝利したが、南太平洋の孤島で亡くなった。
(ウ) エルバ島を脱出するがワーテルローの戦いで敗れ、セントヘレナ島で亡くなった。

問9 文中の空欄(う)に入る適切な語を答えなさい。

B フランスでは1830年の後も王政は続いた。新たな王は銀行家をはじめとする富裕層を優遇し、イギリスから始まった産業革命を本格化させた。産業革命の進行は社会を大きく変えるものとなった。

産業革命は発明の歴史であった。人間は啓蒙思想の一つの原理でもある自然を理性的・合理的に観察することを学び、やがて自然力を利用することを知った。蒸気機関が登場し、蒸気船や蒸気機関車が走った。1830年旅客運搬用に営業を開始した鉄道がイギリスの二つの都市を結んだ。1840年代にはヨーロッパに鉄道のない国はほとんどなかった。

世

問10 下線(a)に関して、産業革命が起こった当時のイギリスの状況として誤っているものを(ア)～(カ)から1つ選び答えなさい。

- (ア) 植民地戦争で勝利し、広大な海外市場があった。
(イ) 牧羊地のための土地の囲い込みが進んだ(第1次エンクロージャー)。
(ウ) 綿工業を中心に機械化が進み、都市化が急速に進んだ。

問11 下線(b)の思想家を(ア)～(カ)から1つ選び答えなさい。

- (ア) フェルヌール (イ) ジェンナー (ウ) ヴォルテール (エ) ダーウィン

問12 下線(c)を実用化したアメリカ人を(ア)～(カ)から1つ選び答えなさい。

- (ア) ワット (イ) フルトン (ウ) ニューコメン

問13 下線(d)の二つの都市を(ア)～(カ)から1つ選び答えなさい。

- (ア) マンチェスターとパリ (イ) マンチェスターとリヴァプール
(ウ) マンチェスターとロンドン

C 産業革命が進行する中で1848年は世界史の大きな転換点となった。主な歴史的な出来事を簡潔に書いた。

- ・フランスで二月革命が起こった。
・オーストリアでメッテルニヒが追放された。
・イギリスでチャーティスト運動の大集会が開かれた。
・イタリアで独立をめぐる戦争が起こった。
・プロイセン王国で三月革命が起こった。
・「共産党宣言」が発表された。

19世紀後半になると、産業革命はさらに勢いを増し、第2次産業革命と呼ばれる時代を迎える。動力源が石炭と蒸気力から石油と(え)に移り、ダイムラーはガソリンエンジンをつくり、エディソンは白熱電灯をつくった。労働者はより増大し、都市化はさらに進み、企業は巨大化する中で、列強による植民地獲得競争という新しい動きが起こる。世界は分割され、帝国主義時代を迎えるのである。世界は支配と従属という関係におおわれたのである。

世

4 次のA、B、C、Dの文章を読んで、下の各問いに答えなさい。

A 中国の東北地方には、農牧・狩猟生活を営む女真(女直。のちに満州と改称)が住み、明の支配を受けていた。女真人の統合に成功したヌルハチは1616年に建国し国号をアイン(満州語で金の意)と定めた。第2代のホンタイジ(太宗)は、1636年に皇帝と称し国号を清と定めた。清の第3代順治帝は北京に遷都し、第4代の(1)帝は、三藩の乱を鎮圧して清朝統治の基礎を固めた。清朝は17世紀後半からの約130年間は、(1)、雍正帝、(2)帝と有能な皇帝が続き全盛となった。

(2)帝の18世紀末の清は、人口が3億人に達したが、この人口増加はさまざまな社会不安をまねいた。四川を中心とする地域で発生した白蓮教徒の乱は、そうした社会不安を背景としていた。一方、外から中国を脅かしたのは、イギリスであった。イギリスは対中国貿易で輸入超過であったため、大量の(3)の流出に悩んでいた。これを打開するために、中国の(4)をイギリスに、イギリスの(5)をインドに、インド産の(6)を中国に運ぶ三角貿易を始めるようになった。中国では(6)の密貿易が増えて、従来とは逆に中国から大量の(3)が流出するようになった。

問1 下線部(a)に関して、1600年代の前半に西ヨーロッパで起きていたこととして正しいものを(ア)～(カ)から1つ選び答えなさい。

- (ア) ドイツを戦場に三十年戦争が起こっていた。
(イ) ルターやカルヴァンがドイツやスイスで宗教改革の運動をしていた。
(ウ) 百年戦争が起こっていた。

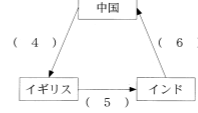
問2 文中の空欄(1)・(2)に入る人物の組合せとして正しいものを(ア)～(カ)から1つ選び答えなさい。

- (ア) 1:乾隆 2:康熙 (イ) 1:康熙 2:永楽
(ウ) 1:康熙 2:乾隆 (エ) 1:乾隆 2:永楽

問3 文中の空欄(3)に入る適切な語を答えなさい。

問4 文中の空欄(4)・(5)・(6)に入る適切な語の組合せとして正しいものを(ア)～(カ)から1つ選び答えなさい。

- (ア) 4:アヘン 5:茶 6:綿製品
(イ) 4:アヘン 5:綿製品 6:茶
(ウ) 4:茶 5:アヘン 6:綿製品
(エ) 4:茶 5:綿製品 6:アヘン
(オ) 4:綿製品 5:茶 6:アヘン
(カ) 4:綿製品 5:アヘン 6:茶



世

問11 下線部(a)に関して、アメリカでの大きな内戦のさなか、「人民の、人民による、人民のための政府(政治)」という言葉で知られる1863年のゲティスバーグでの演説をした人物は誰か、人物名を答えなさい。

C 日清戦争の敗北で「眠れる獅子」といわれていた中国の弱体化が暴露されると、列強は中国進出を本格化させた。ロシアは、下関条約で日本が遼東半島を獲得すると、フランス、ドイツをきそい日本にせまってこれを清に返還させ、その代償として東清鉄道の敷設権をえた。その後、ドイツが(10)を租借、イギリスが(11)・九竜半島北部を租借、フランスが(12)を租借した。一方、フィリピンを獲得し中国への関心を強めるアメリカでは、國務長官ジョン＝ヘイが中国の(13)を主張し、他の列強の動きを抑えようとした。中国は、福建省を勢力圏とする日本を加え、各列強の勢力圏に分割され、半植民地状態になった。

この頃、山東省ではキリスト教排斥をめぐず(14)が運動を始めていた。(14)は、1900年になると、おりからの大干ばつの影響もあって爆発的に拡大し、鉄道や教会を破壊し北京に入城した。清はこの運動を利用して列強に宣戦布告すると、列強8カ国は連合軍を組織して、自国民救出を理由に北京を占領した。この結果、清は北京議定書(辛丑和約)に調印し、巨額の賠償金の支払い、外国軍隊の北京駐屯などを認めることになった。

問12 文中の空欄(10)・(11)・(12)に入る適切な語の組合せとして正しいものを(ア)～(カ)から1つ選び答えなさい。

Table with 3 columns: (10), (11), (12) and 3 rows of options (ア), (イ), (ウ).

問13 下線部(b)に関して、アメリカはこの国をどこの国との戦争で獲得したか。(ア)～(カ)から1つ選び答えなさい。

- (ア) ポルトガル (イ) スペイン (ウ) オランダ (エ) トルコ

問14 文中の空欄(13)に入る適切な語を(ア)～(カ)から1つ選び答えなさい。

- (ア) 治外法権 (イ) 最恵国待遇 (ウ) 門戸開放

世

B イギリスは、清が(6)貿易取締りの方向を打ち出したことに反発し、1840年(6)戦争が勃発した。軍事力で優位に立ったイギリスは清軍を破り、1842年英・清間で(7)条約がむすばれた。これによって清は、広州に加え上海など全5港の開港を認め、また香港島をイギリスに割譲した。さらに清は1844年にアメリカと望厦条約、フランスと黄埔条約をむすびイギリスと同等の権利を認めた。

1856年広州でアロー号事件が起こると、イギリスはフランスとともに出兵しアロー戦争を始めた。戦後、1858年の天津条約と1860年の北京条約で、天津などの11港の開港、外国公使の北京駐在、外国人の中国内地での旅行の自由が認められた。

これと平行して、1851年から民衆反乱である太平天国の乱が清国内に広がっていた。この乱の鎮圧にあたっては、清の正規軍が弱体化しており、曾国藩や(8)などの漢人官僚のみずから故郷で組織した地方義勇軍(郷勇)が、外人が創設した常備軍などと協力して1864年にこれを鎮圧した。

一方、太平洋では19世紀前半には、イギリスやアメリカの捕鯨船の活動が活発になっていた。アメリカでは、捕鯨船の補給・遭難救助に加え、カリフォルニア鯨骨をきっかけに、太平洋を横断する対清貿易の期待が高まっていた。そこでアメリカ政府は東インド艦隊司令官(9)を遣日特使として派遣し、1854年には日米和親条約を締結させた。日本を開国したのはアメリカであったが、1860年代以降もアメリカは日本を植民地化するまでには至らなかった。

問5 文中の空欄(7)に入る適切な語を答えなさい。

- (ア) 第一次世界大戦後の1920年 (イ) 第二次世界大戦後の1946年
(ウ) 20世紀後半の1997年

問7 下線部(c)に関して、この太平天国がかかげたスローガン(主張)を(ア)～(カ)から1つ選び答えなさい。

- (ア) 滅清興漢 (イ) 扶清滅洋 (ウ) 中体西用

問8 文中の空欄(8)に入る適切な人物名を(ア)～(カ)から選び答えなさい。

- (ア) 林則徐 (イ) 李鴻章 (ウ) 洪秀全

問9 下線部(d)に関して、カリフォルニア鯨骨についての説明として誤っているものを(ア)～(カ)から1つ選び答えなさい。

- (ア) 1840年代から西部開拓で「明白な天命」説が流布されるようになった。
(イ) カリフォルニアはアメリカ＝メキシコ戦争でメキシコから獲得した。
(ウ) 1848年カリフォルニアで金鉱が発見され、人口が増加した。
(エ) フランスからカリフォルニアを買収した。

問10 文中の空欄(9)に入る適切な人物名を答えなさい。

世

問14 下線(a)に関する説明を(ア)～(カ)から1つ選び答えなさい。

- (ア) 労働者などの民衆が中心となって世界史上最初の社会主義自治政府をつくった。
(イ) パリの共和派市民や労働者・学生などが蜂起して第二共和政を樹立した。
(ウ) パリの無産市民が蜂起してロベスピエールが指導する恐怖政治をまねいた。

問15 下線(b)に関して、メッテルニヒが指導したナポレオン後の体制を(ア)～(カ)から1つ選び答えなさい。

- (ア) バリ体制 (イ) ロンドン体制 (ウ) ジュネーブ体制 (エ) ウィーン体制

問16 下線(c)で掲げられた人民憲章の内容として正しいものを(ア)～(カ)から1つ選び答えなさい。

- (ア) 6ヶ条からなる参政権獲得運動の政治綱領
(イ) 男女の普通選挙制を要求する政治綱領
(ウ) プルジョアの自由貿易を要求する政治綱領

問17 下線(d)に関して、イタリアを支配していた国を(ア)～(カ)から1つ選び答えなさい。

- (ア) オランダ (イ) オーストリア (ウ) イギリス

問18 下線(e)に関して、三月革命が起こった首都を(ア)～(カ)から1つ選び答えなさい。

- (ア) ミュンヘン (イ) ポツダム (ウ) ベルリン

問19 下線(f)の著者を(ア)～(カ)から1つ選び答えなさい。

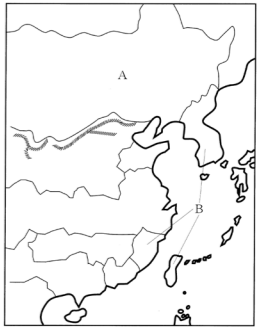
- (ア) サン＝シモンとフーリエ (イ) マルクスとエンゲルス
(ウ) フィヒテとヘーゲル

問20 文中の空欄(え)に入る適切な語を答えなさい。

世

問15 下線部(a)に関して、右の図は日清戦争後の列強の勢力範囲(勢力圏)の概略図である。図のA、B地域を勢力下においた国の組合せの正しいものを(ア)～(カ)から1つ選び答えなさい。

- (ア) A:日本 B:ロシア
(イ) A:ロシア B:日本
(ウ) A:イギリス B:日本
(エ) A:日本 B:イギリス



問16 文中の空欄(14)に入る適切な語を答えなさい。

- (ア) アメリカ・イギリス (イ) フランス・ドイツ
(ウ) イタリア・オーストリア (エ) 日本・ロシア

問18 下図は、文中(14)事件に出兵した連合軍の兵士の写真である。○印は、インド人兵士である。インドから兵士が派遣された理由として正しいものを(ア)～(カ)から1つ選び答えなさい。

- (ア) インドと清王朝は国境紛争で対立していた。
(イ) 清王朝は、インド人僧侶を弾圧していた。
(ウ) インドはイギリスの植民地＝インド帝国の支配下にあった。



世

D ( 14 ) 事件後の清朝は、科擧の廃止、憲法大綱の発表と国会開設の公約などの改革を開始し、支配体制の存続を図ったが、海外では華僑や留学生を中心に清の打倒をめざす革命運動がさかんになっていた。( 15 ) は、1905年に日本の東京で中国同盟会を組織し、三民主義をかかげた。1911年、清が幹線鉄道国有化し、これを担保に英・米・仏・独の四国借款団から借款しようとした。これに対して、9月に四川暴動が起こり、10月に湖北省の武昌で新軍内の革命派が挙兵し( 16 ) 革命が始まった。革命派は、( 15 ) を臨時大統領に選出し、1912年南京で中華民国の成立を宣言した。アジア初の共和国が誕生した。

これに対して清朝は、袁世凱を起用し対応させたが、袁世凱は革命派と取引をして清朝皇帝の宣統帝(溥儀)を退位させ、( 15 ) から臨時大統領の地位を譲り受けた。

第一次世界大戦の勃発のち、1915年には日本は中国での権益を拡大しようとして袁世凱政権に対して「( 17 ) の要求」を出した。中国側の抵抗を押し切って要求の多くを認めさせたため、中国の世論は反発した。

問19 文中の空欄 ( 15 ) に入る適切な人物名を(ア)～(ウ)から選び答えなさい。  
(ア) 孫文 (イ) 蔣介石 (ウ) 毛沢東

問20 文中の空欄 ( 16 ) に入る適切な語を(ウ)～(イ)から1つ選び答えなさい。  
(ウ) 辛亥 (イ) 録營 (ウ) 節度使 (イ) 甲午

問21 文中の空欄 ( 17 ) に入る適切な語を答えなさい。



令和6年度 一般選抜(3教科型)問題

日本史B

日本史B

1 次の史料を読み、それぞれの問いに答えなさい。なお、史料は読みやすく改変している部分がある。

(A) (天平十五年)詔して曰く、「聞くならず、聖田は美老七年の格に依りて、限満つる後、例に依りて取授す。是に由りて農夫怠惰して、開ける地復た荒る、と。今より以後、任に私財と為し、三世一身を論ずること無く、咸悉く永年取る莫れ。……」

問1 この法令は一般に何と言われるものか、下から選び、記号で答えなさい。  
ア 百万町歩開墾計画 イ 三世一身法 ウ 聖田永年私財法

問2 下線部(a)について、このときの天皇は誰か、下から選び、記号で答えなさい。  
ア 天武天皇 イ 文武天皇 ウ 聖武天皇

問3 問2の天皇に関して述べた下の文章の空欄 ( ① ) ( ② ) に入る適切な語句を答えなさい。  
この天皇は、仏教の力によって国を禱ろうとする ( ① ) 思想にもとづいて、741年に国分寺建立の詔を発し諸国に国分寺・国分尼寺を建立しようとした。さらに、上記の史料を出した743(天平15)年には、紫香室宮で( ② )の詔を出した。この事業は745年に都を平城京にもどした後も東大寺で造立が続けられ、この天皇の退位後の752年に開眼の儀式がおこなわれた。

問4 下線部(b)について、これは一般の公地と同様に収公してきた、というような意味だが、律令において、6歳以上の男女に口分田を班給し、死者の口分田は6年ごとの班田の年に収公された。これを何というか、漢字4字で答えなさい。

(B) (寛仁二年十月)十六日、今日、女御藤原成子を以て皇后に立つるの日なり。……太閤、下官を招き呼びて云く、「和歌を読まむと欲す。必ず和すべし。」と、答てて云く、「何ぞ和し奉らざらむや。」又云ふ、「跡りたる歌になむ有る。但し宿禰に非ず。」と、「此の世をば我が世と思ふ望月の かけたることも無しと思へば、余申して云く、「御歌優美なり。韻答に方無し。満座只この御歌を誦すべし。……」と。

【(あ) 原漢文】

日

問5 下線部(c)について、「寛仁二年」は西暦1018年だが、この頃、藤原北家は成子のように娘を天皇の后妃とし、生まれた男子を天皇に立てて権力を握っていた。生まれた男子から見て、母方の親戚を何とよいか、下から選び、記号で答えなさい。  
ア 外戚 イ 中宮 ウ 公卿

問6 下線部(d)について、①ここでの「太閤」とは成子の父にあたる人物である。その人名を答えなさい。②「下官」とはこの史料の筆者である。また、史料の最後にある「(あ)」にはこの筆者の日記名が入る。筆者と日記名の組合せとして、正しいものを下から選び、記号で答えなさい。  
ア 筆者：紀貫之 日記名：土佐日記 イ 筆者：清少納言 日記名：榮華物語  
ウ 筆者：藤原実資 日記名：小右記

問7 下線部(e)について、「太閤」がこのように詠み上げたこの時期の政治の状況を述べた下の文のうち、読んでいるものを下から一つ選び、記号で答えなさい。  
ア 太政官の会議で出た意見は、天皇もしくは天皇が幼少のときは関白によって最終的に判断された。  
イ 儀式が政治の一部として重視され、国会の会議も儀式と同じように先例どおりに運営されることが重んじられた。  
ウ 摂関家は官史の人事権を掌握しており、中・下級貴族は摂関家を頂点とする上級貴族に隷属するようになっていた。

問8 この史料が表わしている11世紀初め頃には、律令制に規定された官職や位階の形骸化が進んだ。私財を出して朝廷儀式の運営や寺社の造営などを請け負い、その代償として官職を得ることを何とよいか、漢字2字で答えなさい。また、その読み方をひらがなで答えなさい。

(C) 尾張国郡司百姓等解す(申し上げる)、官儀(太政官の裁断)を申し請ふの事 裁断せられむことを請ふ、当国の守護藤原朝臣元命、三箇年の内に貢め取る非法の官物并せて蓋行横法三十一箇条の惣状(嘆願書)。

一、……例券(定例の出発)の外に三箇年の取納、暗に以て加徴せる正税四十三万二千四百八十八束が息利の十二万九千三百七十四束四把一分の事。  
一、……守元命朝臣、庁の務(国司の勤務)無きに依りて、郡司百姓の愁を通じ罷き事。  
永延二年十一月八日 郡司百姓等(原漢文)

( ) 内には現代語訳を簡単に記載した。

日

問9 下線部(f)について、この史料で訴えられている藤原元命は、「守」と記載されている。これは任国に赴任する国司のうち最上席の者と考えられる。このような国司を何とよいか答えなさい。

問10 下線部(g)の「官物」とは、律令に規定されていた諸税のことを指す。このうち、①口分田などにかかる税を何とよいか、②成年男子にかかるもので、諸国の産物を朝廷におさめる税を何とよいか、③②とも下から選び、記号で答えなさい。  
ア 雑徭 イ 租 ウ 調 エ 運脚

問11 下線部(h)について、①「出挙」の読み方をひらがなで答えなさい。②「出挙」に関して述べた次の文ア～ウについて、読んでいるものを下から一つ選び、記号で答えなさい。  
ア 出挙は春に稲を貸し付け、秋に利息をつけて返済する制度だった。  
イ 出挙は富裕者から徴税するのが目的で、任意におさめる税だった。  
ウ 出挙の利息で収納した稲は国衙の重要な財源だった。

問12 この史料に述べられている藤原元命や当時の貴族に関して述べた次の文ア～ウについて、読んでいるものを下から一つ選び、記号で答えなさい。  
ア 元命のように任国に赴任する国司は、強欲に私腹を肥やすため自らの収入を確保しようと過酷な徴税を行ったものが多かった。  
イ 「庁の務無きに依りて」とあるのは国衙に出仕しないということだが、当時の貴族は、物忌と称して、家に籠もることも多かった。  
ウ 元命のように任国に赴任する国司は、任期が終わると帰京したため、在庁官人らと主従関係を結び、地方の武士団の統率者となるものはなかった。

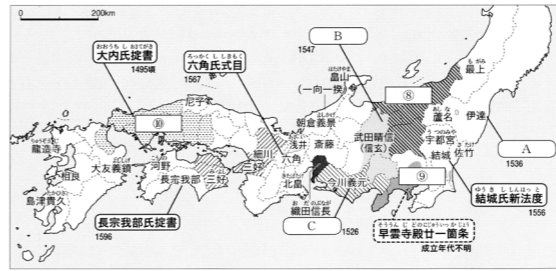
日

問7 下線部(e)に関して述べた次の文ア～ウについて、読んでいるものを下から一つ選び、記号で答えなさい。

ア 徳政令は為政者が債務に苦しむ者の救済のため貸借政策を命じた法令であった。  
イ 徳政令で害を被るのは高利貸で利益を上げていた惣村のような業者だった。  
ウ 幕府は徳政令を出す際に手数料として分一銭をとって財政安定を図ろうとした。

(四) 応仁・文明の大乱とそれに続く地方の争乱で、室町幕府の権力が失われ、15世紀末には群雄割拠の時代となり、本格的な戦国動乱に突入した。この戦乱の時代を通じて戦国大名は領国の支配を進め、強力な軍勢力をもつようになった。戦国大名の多くは分国法とよばれる法令を定めて、領国の支配をおこなった。分国法は、家臣団統制に関する規定や、農民を統制する規定を主な内容とし、きびしい刑罰をともっていた。また、戦国大名は領国経済を発展させるため、交通を整備し商工業を保護した。

問8 下線部(f)について、下に示す16世紀中頃の地図を見て、( ㉞ ) ～ ( ㉟ ) はどの戦国大名の領国かを下から選び、記号で答えなさい。  
ア 上杉氏 イ 毛利氏 ウ 北条氏



問9上の地図中で ( A ) ～ ( C ) には分国法の名称が入る。適切な分国法名を下から選び、記号で答えなさい。  
ア 甲州法度之次第 イ 鹿芥集 ウ 今川假名目録

日

2 次の文章を読み、以下の設問に答えなさい。

(1) 鎌倉幕府滅亡後、後醍醐天皇は天皇親政のもとで公武一統の政治を始めた。この政治は、新たに改元された年号にちなんで ( ㉠ ) とよばれる。天皇は中央の機関として行政・司法などの重要政務を扱う【㉡】・訴訟を扱う【㉢】・武者所などをおき、地方には国司と【㉣】を併置し、さらに陸奥将軍府・【㉤】将軍府を設けた。天皇は、徹底した天皇中心の政治を実現し、みづからの政治を今後の規範しようとした。しかし、その意欲的な姿勢は、武士社会の所領に関する先例や伝統をも無視することもあった。そのため政治や社会は混乱したもとなり、武士を中心に後醍醐政権への不満と不信が高まっていた。

問1 空欄 ( ㉠ ) に入る適切な語句を答えなさい。  
問2 空欄【㉡】～【㉤】に入る語句を下から選び、記号で答えなさい。  
ア 地頭 イ 記録所 ウ 守護 エ 鎮西 オ 雑訴決断所 カ 鎌倉  
問3 下線部(a)について、このような政治や社会の混乱ぶりを鋭く批判した落書が掲げられた。【比叡部二ハヤル物】で始まるその落書を何とよいか答えなさい。

(II) 室町幕府4代将軍足利義持の時代は、将軍と守護大名の勢力均衡が保たれ安定した時代だった。しかし、6代将軍足利義満の時代になると、守護大名は幕府の統制に徐々に従わなくなり始めた。関東では【㉦】であった足利持氏が1439年に義教に攻め滅ぼされた。さらに、1441年には義教が播磨の守護で幕府の【㉧】をつとめる四職の家の一つに属する赤松満祐に暗殺されるという事件が起きた。このような事件による政治的混乱について土一揆が頻発した。これらの土一揆に対して幕府も徳政令を乱発するようになった。幕府の権威は大きく揺らぎ始めたのである。

問4 空欄【㉦】・【㉧】に入る語句を下から選び、記号で答えなさい。  
ア 侍所司官 イ 鎌倉公方 ウ 管領 エ 関東管領  
問5 下線部(b)と下線部(c)の事件の組み合わせとして正しいものを下から選び、記号で答えなさい。  
ア (b) 永享の乱 (c) 享徳の乱 イ (b) 嘉吉の変 (c) 応永の外寇  
ウ (b) 永享の乱 (c) 嘉吉の変

問6 下線部(d)に関連して、凶作と疫病の流行の中で、近江の馬借の蜂起をきっかけに、畿内周辺の農民も参加し「日本開闢以来、土民蜂起は初なり」と記録された1428年の一揆を何とよいか答えなさい。

日

問10 下線部(e)について、家臣団統制の内容としては読んでいるものの一つを選び、記号で答えなさい。  
ア 喧嘩両成敗の規定 イ 領地の自由な売買許可 ウ 分割相続の禁止  
問11 下線部(f)について、戦国大名の農民統制の内容として正しいものを一つ選び、記号で答えなさい。  
ア 年貢納入の強制 イ 米市・米津の禁止 ウ 農民の城下集住

## 目

3 江戸時代に関する次の文章を読み、下の設問に答えなさい。

A 「織田が鶴き 羽柴がこねし天下餅 登って食うは徳川」という狂歌がある。これは、織田信長、羽柴秀吉、徳川家康の3人の事績をよく言い当てているという。家康は、豊臣政権を存続させようとした石田三成らの軍勢を1600年の【①】の戦いで破り、1603年に朝廷から【②】に任じられて江戸に幕府をひらいた。家康は、豊臣氏が建立した京都方広寺の鐘銘を口実に、1614～15年、大阪の陣で豊臣方に戦いをしかけ、豊臣政権の継承者であった【③】を殺め滅ぼした。

幕藩体制は3代将軍徳川家光のころまでに整備された。幕政の最終的な意思決定は將軍がおこなったが、老中が將軍のもとで政務を取りまとめた。老中の上に臨時に【④】がおかれることもあった。地方組織では、【⑤】が重要で、朝廷や西国大名の監視などをこなした。

問1 文中の空欄【①】～【⑤】に適する語を下から選び、記号で答えなさい。  
ア 桶狭間 イ 関ヶ原 ウ 賤ヶ岳 エ 太政大臣 オ 関白  
カ 征夷大将軍 キ 豊臣秀長 ク 豊臣秀次 ケ 豊臣秀頼 コ 若年寄  
サ 側用人 シ 老老 ス 京都守護 セ 六波羅探題 ソ 京都所司代

問2 下線部(a)に関して述べた文として正しいものを下から一つ選び、記号で答えなさい。

ア 朝鮮に対して、日本への入員と明へ出兵するための先導を求めた。  
イ 武家諸法度を改定して、参勤交代を制度化した。  
ウ 仏教に帰依し、生類憐みの令を出した。

問3 下線部(b)に関連して、幕府は、朝廷に対して禁中並公家諸法度を制定し、朝廷運営の基準とした。1627年、幕府は、朝廷がみだりに紫衣を勅許しているとして、勅許を無効とした。1629年、このこともあって後水尾天皇は、幕府の同意を得ることなく突然譲位した。次に即位した天皇として正しいものを下から一つ選び、記号で答えなさい。  
ア 推古天皇 イ 持統天皇 ウ 明正天皇

B 幕府や藩は、財政の安定をはかるため、新田開発を奨励した。およそ元禄年間からは耕地面積の拡大ではなく、同じ面積からより多量の農作物を生産する方向へと向かって行った。農業技術に関するみると、生産を高めるために農具の改良が試みられたり、従来の刈割・下駄に加えて、圃入肥料が用いられたりした。また、農業技術を教える農書も普及した。

藩の財源となる米の最大の販売市場は大阪にあり、各藩は換金して多様な支出に充てた。「東廻り航路」と「西廻り航路」が開発された結果、全国各地と江戸・大阪を結ぶ水上交通体系がととのった。航路の開発により、年貢米の輸送は大量かつ迅速に行われるようになった。

- 26 -

## 目

問4 下線部(c)に関して、町人が幕府・藩の許可を得て開発した新田として正しいものを下から一つ選び、記号で答えなさい。  
ア 代官見立新田 イ 町人請負新田 ウ 村請新田

問5 下線部(d)に関して、干糞・厩糞などの購入肥料のことを何というか漢字2字で答えなさい。

問6 下線部(e)に関連して、流通・商業について述べた文として正しいものを下から一つ選び、記号で答えなさい。  
ア 京都の商人角倉了以によって「東廻り航路」と「西廻り航路」が開発された。  
イ 江戸と大阪を結ぶ南海路には、菱垣廻船・樽廻船が運航していた。  
ウ 江戸と大阪では、諸藩の年貢米や特産物である納屋物が活発に取引された。

C 江戸時代の村には、検地帳に記載された自営農民である本百姓と、土地をもたず本百姓の田畑を小作する(⑥)や、本百姓の家に従属する名子・被官などが住んでいた。村には、本百姓のなから選ばれた名主・組頭・(⑦)などの村役人がおかれた。本百姓は田地・屋敷にかかる本途物成のほか、山野河海の利用や副業にかけられる(⑧)などを負担した。

問7 下線部(f)に関連して述べた文として誤っているものを下から一つ選び、記号で答えなさい。

ア 村では、肥料となる草や木を採取する入会地を共同利用した。  
イ 村では、田植えや稲刈りなどの農繁期には、網子とよばれる共同作業がおこなわれた。  
ウ 村では、村掾や村の慣習に違反した者には、村八分などの制裁が加えられた。

問8 空欄(⑨)に適する語を答えなさい。

問9 空欄(⑩)(⑪)に適する語の組合せとして正しいものを下から一つ選び、記号で答えなさい。  
ア (⑩)百姓代 (⑪)小物成  
イ (⑩)沙汰人 (⑪)高掛物  
ウ (⑩)おとな (⑪)国役

問10 下線部(g)に関して、年貢率について、その年の収穫に応じて決める検見法に対して、一定期間は同じ率を続ける方法を何というか答えなさい。

D 蝦夷ヶ島の和入地に勢力をもっていた蠣崎氏は、近世期に(⑫)氏と改称して、徳川家康からアイヌ社会との交易独占権を保障され、藩政をしいた。(⑫)藩は、国内で米がとれないため、アイヌとの交易権に依存し、その権益は家臣にも分与された。アイヌは同藩士の不当な交易に不満をもち、1669年

- 27 -

## 目

問5 下線部(c)に関連して、京都について述べた文として誤っているものを下から一つ選び、記号で答えなさい。

ア 平安京(京都)には明治維新までの約1000年以上ものあいだ朝廷があった。  
イ 京都は、西陣織・友禅染・清水焼などの手工業が発達した伝統工芸の中心都市であった。  
ウ 京都は、17世紀後半、江戸・長崎とともに三都の一つとして発展し「天下の台所」といわれた。

問6 下線部(d)に関連して、それぞれの寺院について述べた文として正しいものを下から一つ選び、記号で答えなさい。

ア 教王護国寺は、最澄が桓武天皇から与えられた寺院で、密教の根本道場となった。  
イ 天龍寺は、足利尊氏・直義兄弟が夢窓疎石の勧めで、後醍醐天皇の冥福を祈るために創建した。  
ウ 慈照寺の金閣は、足利義政が京都の北山に創建したものである。

C 2000年には「琉球王国のグスク及び関連遺産群」、2007年には「石見(⑬)山遺跡とその文化的景観」、2011年には「平泉—仏国土(浄土)を表す建築・庭園及び考古学的遺跡群一」、2018年には「長崎と天草地方の潜伏キリシタン関連遺産」が登録されている。

琉球では三つの地方勢力(三山)が成立して争っていたが、15世紀前半に中山王の【⑭】が三山を統一し、琉球王国が成立した。石見(⑬)山遺跡は島根県のほぼ中央に位置し、16世紀前半以降、朝鮮から伝わった灰吹法という精錬技術で、(⑬)が増産された。平泉では、11世紀～12世紀の日本列島北部領域において、(⑯)や馬などの産物の富を背景に、仏教に基づく理想世界の実現を目指して寺院・庭園などが造営された。「潜伏キリシタン」は、禁教時代の長崎と天草地方において既存の社会・宗教とも共生しつつ信仰を密かに継続した。構成資産には原城跡などがある。

問7 下線部(e)について述べた文として誤っているものを下から一つ選び、記号で答えなさい。

ア 琉球は、日本や朝鮮、明と東南アジア諸地域間の中継貿易で繁栄したが、16世紀半ばごろ、ポルトガル人のアジア貿易進出にもない、その活動が衰えた。  
イ 琉球は、江戸時代初期幕府の許可をえて役所した長洲藩に事実上支配された。琉球国王は、將軍や国王の代わりごとに幕府に通信使を派遣した。  
ウ 日本政府は、19世紀後半、琉球漂流民が台湾で殺害された事件を理由に台湾へ出兵した。その後、日本政府は清から賠償金をえとことで琉球の領有が認められたとして、琉球に軍隊を派遣し、琉球藩を廃して沖縄県を設置した。

- 30 -

## 目

問8 空欄(⑮)(⑯)に適する鉱物の組合せとして正しいものを下から一つ選び、記号で答えなさい。

ア (⑮)金 (⑯)銅 イ (⑮)銀 (⑯)金  
ウ (⑮)銅 (⑯)銀

問9 空欄【⑰】に適する語として正しいものを下から一つ選び、記号で答えなさい。

ア 尚巴志 イ 李成桂 ウ 宗直茂

問10 下線部(f)に関連して、後三年合戦の後、三代にわたり平泉を拠点に奥羽を支配した家族は何氏か答えなさい。

問11 下線部(g)に関連して、1549年、鹿児島に来てキリスト教を伝えたイエズス会の宣教師を答えなさい。

問12 下線部(h)に関連して、17世紀前半、肥後天草地方などで領主の専政に反抗して、農民・キリスト教信者や平民たちが天草四郎時貞を首領として原城跡に立てこもった一段を何というか答えなさい。

D 2014年に「富岡製糸場と絹産業遺産群」、2015年に「明治日本の産業革命遺産 製鉄・製鋼、造船、石炭産業」、1996年に「原爆ドーム」が世界遺産に登録された。富岡製糸場は、高品質な【⑱】の大量生産の実現に貢献した。明治日本の産業革命遺産の構成資産には、高島炭鉱、三池炭鉱、官営八幡製鉄所などがある。原爆ドーム(旧産業奨励館)の建物は原爆の爆心地から北西約160メートルの至近距離にあったが、ドーム中心部は奇跡的に倒壊を免れた。

問13 空欄【⑲】に適する語として正しいものを下から一つ選び、記号で答えなさい。

ア 麻糸 イ 綿糸 ウ 生糸

問14 下線部(i)に関連して、1960年に三井鉱山三池炭鉱で大量解雇に反対する激しい争議(三池争議)が展開された。1960年代にエネルギーの転換が進むなかで石炭産業は斜陽産業化した。この時期のエネルギーの転換について述べた文として正しいものを下から一つ選び、記号で答えなさい。

ア 中東の原油が安い価格で輸入されるようになると、石炭から石油へのエネルギーの転換が急速に進んだ。  
イ 政府は石油への依存度を下げ、原子力や天然ガスの普及拡大など、エネルギー源の多様化を進めた。  
ウ 地球温暖化対策が重要課題となったため、原子力に変わる新エネルギーとして太陽光や地熱、水素などの開発に一層の拍車がかかった。

問15 下線部(j)が保存されている都市名を答えなさい。

- 31 -

## 目

に首長(⑳)を中心に同藩と対立して戦ったが、津軽藩の協力を得た同藩に敗れた。

問11 空欄(㉑)(㉒)に適する語を答えなさい。

問12 下線部(k)に関して、家臣に知行のかわりに特定場所でのアイヌとの交易権を与える制度を何というか、正しいものを下から一つ選び、記号で答えなさい。  
ア 商場知行制 イ 朝貢貿易 ウ 場所請負制

E 江戸時代初期の文化を寛永文化という。建築では徳川家康をまつる日光東照宮と後醍醐天皇の第八条宮・智仁親王の別荘である桂離宮がその代表である。日光東照宮は桃山文化の流れをくむ華麗な彫刻を施している。桂離宮は簡素で気品があり、両者は対照的な様相を呈している。絵画では(㉓)が幕府の御用絵師となった。陶芸では、有田焼の(㉔)が赤絵の技法を完成させた。

問13 下線部(l)に関連して、本殿と拝殿を石の間でつなぐ神社建築の様式を下から一つ選び、記号で答えなさい。  
ア 書院造 イ 寝殿造 ウ 権現造

問14 空欄(㉕)(㉖)に適する語の組合せとして正しいものを下から一つ選び、記号で答えなさい。  
ア (㉕)野野探幽 (㉖)酒井田柿右衛門  
イ (㉕)猿蓑宗達 (㉖)本阿弥光悦  
ウ (㉕)久隅守景 (㉖)野々村仁清

- 28 -

## 目

4 日本の世界遺産と「世界の記憶」に関する次の文章を読み、下の設問に答えなさい。

A 世界遺産条約は1972年にユネスコで採択され、日本は1992年にこの条約を締結した。2021年7月現在、日本からは文化遺産20件、自然遺産5件の計25件の世界遺産が登録されている。2023年7月～10月、北海道博物館で「北の縄文世界と国宝」展が開催された。この展覧会は、2021年に「北海道・北東北の縄文遺跡群」が世界遺産に登録されたことを記念したもので、登録された遺産や「北の縄文文化」をあらわす国宝、国指定重要文化財が一室に公開された。2019年には、大阪府の「百舌鳥・古市古墳群—古代日本の墳墓群—」が登録された。この古墳群の中には墳丘の長さが486mにおよぶ【①】の大仙陸古墳(仁徳天皇陵古墳)がある。墳丘は葬送儀礼の舞台であり、埴輪などで外観が飾り立てられた。

問1 下線部(m)に関連して、青森県の縄文遺跡として正しいものを下から一つ選び、記号で答えなさい。

ア 岩宿遺跡 イ 三内丸山遺跡 ウ 吉野ヶ里遺跡

問2 空欄【②】に適する語を下から一つ選び、記号で答えなさい。

ア 方墳 イ 円墳 ウ 前方後円墳

問3 下線部(n)の漢字の読み方をひらがなで答えなさい。

B 1993年に日本ではじめて「法隆寺地域の仏教建造物」と「姫路城」が世界遺産に登録された。法隆寺は厩戸王の創建といわれ、寺院は古墳にかわって豪族の権威を示すものとなった。法隆寺の仏教彫刻には、国宝に指定されている【②】の作といわれる金銅像の金堂釈迦三尊像がある。

1998年には「古都奈良の文化財」が登録されている。登録にあたっての「世界遺産条約世界遺産一覧表記載推薦書 古都奈良の文化財」の「資産の内容」の記述に「……平城京は……唐の都【③】城などを手本に造営された。……奈良時代には一貫した仏教興隆政策がとられ、……754年には、唐から鑑真が来日し戒律を伝え、759年から【④】の建立がはじまった。」とある。

1994年には「古都京都の文化財(京都市、宇治市、大津市)」が登録されている。構成資産に、教王護国寺・天龍寺・慈照寺などがある。

問4 空欄【⑤】【③】【④】に適する語を下から選び、記号で答えなさい。

ア 運慶 イ 定朝 ウ 鞍作島 エ 長安 オ 北京 カ 洛陽  
キ 興福寺 ク 薬師寺 ケ 唐招提寺

- 29 -

## 目

E 「世界の記憶」は、人類史において特に重要な記録物を国際的に登録する事業である。2023年現在、日本には、ユネスコ執行委員会において決定された国際登録が8件ある。

2013年に「慶長遣欧使節関係資料」などが登録されている。仙台湾主伊達政宗は家臣の【⑤】をスペインに派遣しメキシコと直接貿易関係を結ぼうとしたが、その目的は果たせなかった。

2015年には「舞鶴への生還—1945～1956シベリア抑留等日本人の本国への引き揚げの記録—」が登録されている。留守家族の手紙や手作りのメモ帳など登録された資料は合計で570点である。1945年の敗戦時、満州等にいた約60万人の軍人等はソ連によってシベリア等に抑留され、厳寒の中で何年間も強制労働に従事させられた。そして、多くの人命が失われた。ソ連からの引き揚げは、最終的に1956年頃までかかった。

問16 空欄【⑥】に適する語として正しいものを下から一つ選び、記号で答えなさい。

ア 支倉常長 イ 山田長政 ウ 田中勝介

問17 下線部(o)に関連して、1956年に演印された日ソ共同宣言の中で「抑留日本人の生還」が規定された。日ソ共同宣言は首相みずからがモスクワを訪れ調印したが、その首相として正しいものを下から一つ選び、記号で答えなさい。

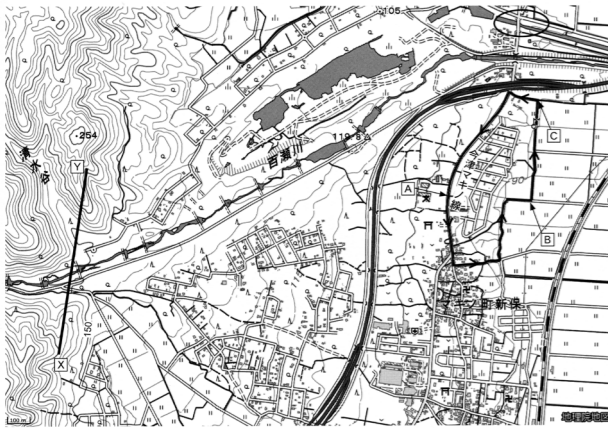
ア 吉田茂 イ 鳩山一郎 ウ 田中角栄

- 32 -



地理B

1 次の地形図をみて、各設問に答えなさい。



問1 次の文章は、高校生のユキさんが、2万5000分の1地形図などを使って文献調査で調べた地域について、野外調査をしたときの記録である。文中の(ア)～(キ)に当てはまる語として最も適切なものを、下の1～14からそれぞれ一つずつ選び、番号で答えなさい。

地

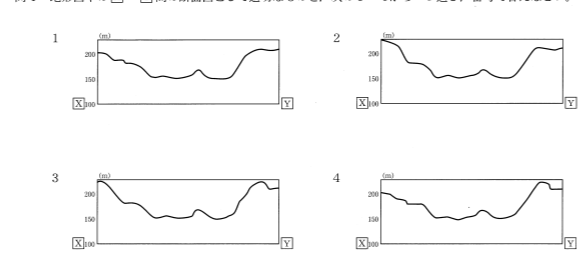
問2 地形図中の①地点の標高として適切なものを、次の1～4から一つ選び、番号で答えなさい。

- 1 約90m 2 約100m 3 約120m 4 約130m

問3 地形図中の②から③までの距離は2万5000分の1地形図上で1.6cmであった。実際の距離を次の1～4から一つ選び、番号で答えなさい。

- 1 約200m 2 約300m 3 約400m 4 約500m

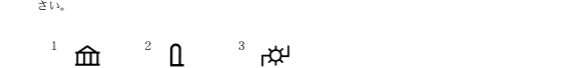
問4 地形図中の④～⑤間の断面図として適切なものを、次の1～4から一つ選び、番号で答えなさい。



問5 地形図中の地形について、次の①②に答えなさい。

- (1) 百瀬川の南側に広がる河川の地積作用によってつくられたゆるやかな傾く半円錐状の地形を何というか。漢字3字で答えなさい。
- (2) 地形図中の⑥で囲まれた様子からうかがえるこの川のように、堤防内に土砂が堆積してつくられる人工的な地形を何というか。漢字3字で答えなさい。

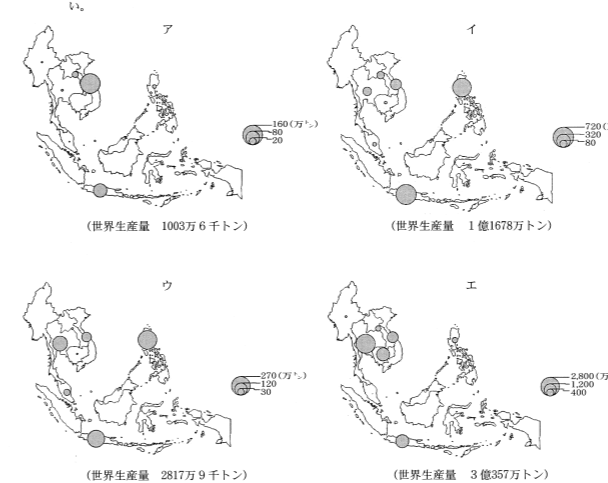
問6 国土地理院発行の2万5000分の1地形図で使用されている地図記号の内、次の1～3の名称を答えなさい。



- 1 北上 2 田 3 切取部 4 樹林 5 畑 6 電波塔 7 高校 8 神社 9 記念碑 10 果樹園 11 南下 12 寺院 13 盛土部 14 小学校

地

問5 次の図は、バナナ・パイナップル・キャッサバおよびコーヒーの生産国と生産量を示したものである。ア～エに当てはまるものの組み合わせとして適切なものを、1～4から一つ選び番号で答えなさい。



〔2022 データブックオブ・ザ・ワールド〕による

Table with 4 columns (ア, イ, ウ, エ) and 4 rows (選択肢 1-4) mapping products to countries: 1. ア: キャッサバ, イ: バナナ, ウ: パイナップル, エ: コーヒー豆; 2. ア: コーヒー豆, イ: バナナ, ウ: パイナップル, エ: キャッサバ; 3. ア: バナナ, イ: キャッサバ, ウ: コーヒー豆, エ: パイナップル; 4. ア: キャッサバ, イ: パイナップル, ウ: バナナ, エ: コーヒー豆

地

3 次のヨーロッパについての文章を読んで、各設問に答えなさい。

ヨーロッパの国々は、第二次世界大戦後、大国との競争に対抗するため、域内の交易条件を有利にし、巨大な市場をつくりだす統合を進め、1993年にはEUを発足させた。1999年には共通通貨である【 】を導入し、2004年以降、東欧諸国などが新たにEUに加盟し東方への拡大も進んだ。

問1 文中の【 】に当てはまる語を答えなさい。

問2 文中の(ア)～(カ)に当てはまる語として最も適切なものを、下の1～8からそれぞれ一つずつ選び、番号で答えなさい。

- 1 デンマーク 2 マーストリヒト条約 3 リスボン条約 4 シリア 5 イギリス 6 ギリシャ 7 インド 8 シェンゲン協定

地

2 次の東南アジアに関する文章を読んで、各設問に答えなさい。

メコン川やチャオプラヤ川などの下流には、肥沃な三角州が広がっている。(1)の影響で降水量が多く、平野部は稲作地帯になっている。山間部では雨水を利用した(2)で稲作が行われ、熱帯林では(3)によって野菜などが栽培されている。こうした自然条件のもと、主食としては米が普及している。食文化には、インドや中国、植民地時代の欧米の宗主国の影響がみられ、主食の米とともに、香辛料やココナッツオイル、魚醤などの調味料を使った料理が特徴的である。また、イスラームの人々の間では、これらの調味料で鶏肉や魚介類に味付けを行った(4)の料理が親しまれている。

東南アジアでは(5)指向型の工業化を進めた結果、ASEAN地域内で部品を分担して生産する(6)が行われている。ASEANは、ヨーロッパ共同体のような自由貿易圏を目指して2015年に(7)を発足させ、これにより巨大な経済圏が生まれた。

問1 上の文の(1)～(7)に当てはまる語句を下の語群から選び、記号で答えなさい。

- 語群 ア モンスーン イ 偏西風 ウ ハラル エ 焼畑 オ 棚田 カ 熱帯雨林 キ AEC ク APEC ケ 輸出 コ 輸入 サ 国際分業 シ 国内分業

問2 上の文の下線部(a)について、ミャンマー・カンボジア・フィリピンおよびベトナムの旧宗主国の組み合わせとして適切なものを1～4から一つ選び、番号で答えなさい。

Table with 4 columns (1-4) and 4 rows (選択肢 1-4) mapping countries to former colonial powers: 1. 1: ミャンマー, 2: カンボジア, 3: フィリピン, 4: ベトナム; 2. 1: イギリス, 2: フランス, 3: フランス, 4: アメリカ; 3. 1: オランダ, 2: イギリス, 3: フランス, 4: アメリカ; 4. 1: オランダ, 2: イギリス, 3: アメリカ, 4: フランス

問3 上の文の下線部(b)について、ASEAN10か国(2020年現在)のうち、人口の最も多い国をア～エから一つ選び、記号で答えなさい。

- ア インドネシア イ フィリピン ウ ベトナム エ ラオス

地

問4 次の1～4の文は、図中のA～Dのいずれかを説明したものである。1～4に関連する地域や国を、図のA～Dからそれぞれ選び番号で答えなさい。

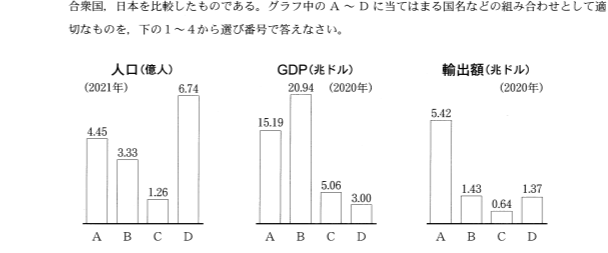
- 1 公用語はマレー語で宗教はイスラーム教徒が多い。1888年からイギリスの植民地であったが1984年に独立した。豊かな石油と天然ガスが経済を支える。
- 2 1991年に大噴火したルソン島のピナトポ火山は、20世紀最大の規模といわれる。大量の火山灰が地球をおおい航空機への影響や、オゾン層の破壊も著しかった。
- 3 ラカイン州北部における治安拠点への連続襲撃事件が発生した。その後の情勢不安定化により、70万人以上の避難民が隣国のバングラデシュに流出した。
- 4 イスラーム化した国のなかで、この島にはヒンドゥー教徒が多く居住する。古くから農業が中心であったが、観光業もさかん。ガムラン音楽やケチャなど、独自の文化を残している。



図

地

問3 文中の下線部(a)について、次のグラフは、人口、GDP、輸出額におけるEU、ASEAN、アメリカ合衆国、日本を比較したものである。グラフ中のA～Dに当てはまる国名などの組み合わせとして適切なものを、下の1～4から選び番号で答えなさい。



〔世界国勢調査〕2021/22などによる

Table with 4 columns (A, B, C, D) and 4 rows (選択肢 1-4) mapping countries to the charts: 1. A: 日本, B: ASEAN, C: EU, D: アメリカ合衆国; 2. A: アメリカ合衆国, B: 日本, C: ASEAN, D: EU; 3. A: EU, B: アメリカ合衆国, C: 日本, D: ASEAN; 4. A: ASEAN, B: EU, C: アメリカ合衆国, D: 日本

問4 文中の下線部(b)について、アルファベットの略称を答えなさい。

問5 文中の下線部(c)に関する次の文中の(ア)～(ウ)に当てはまる語として最も適切なものを、下の1～5からそれぞれ一つずつ選び、番号で答えなさい。

ヨーロッパには、スペインの(ア)など、一つの国のなかでも異なる民族系統である人々が分布している場合があり、EU統合により国民国家の枠組みが弱まるなかで、言語の復活や自治権の拡大などをめざす動きが活発になっている。

- 1 ロマ 2 バスク 3 エラスムス 4 ブルカ 5 サーミ

地

4 次の文を読んで、各設問に答えなさい。

人口が急増するアフリカや南アジアの国々では、食料生産が増加する以上の速度で人口が増え、食料の生産が追いついていない。とくにアフリカでは、外貨を獲得するためにコーヒーやカカオといった輸出向けの商品作物の生産が重視され、自国用の穀物生産には十分力を入れられなかった。また、現代でも強制労働や児童労働が存在しており、農産物が適正な価格で取引されていないといわれる。さらに、異常気象による(1)や洪水、民族対立や資源争いをめぐる紛争や内戦、マラリアやHIV感染症の流行など自然的・社会的な外的要因が増えることあるため、安定的な食料生産を困難にしている。

先進国では食生活が多様化しており、日本も畜産物や野菜、果物などを世界中から輸入している。とくに、肉類を中心とした食事へと急速に変化し、肉類を摂取すると間接的にその何倍もの穀物が消費されることになる。さらに先進国では、飲食店や家庭での買いすぎや作りすぎなどで、消費されずに廃棄される食料が大蔵に発生しており、こうした(2)の解消も重要な課題となっている。

近年、エネルギー問題や環境へ対応するため、とうもろこしなどの農作物を原料とした(3)エネルギーは、世界の食料供給に影響している。

問1 文中の(1)～(3)に当てはまる適切な語句を答えなさい。

問2 下線部(a)について、アジアやアフリカなどで「品種改良」と「耕地の拡大」という二つのアプローチで食料生産が飛躍的に増大したことを何というか。4文字で答えなさい。

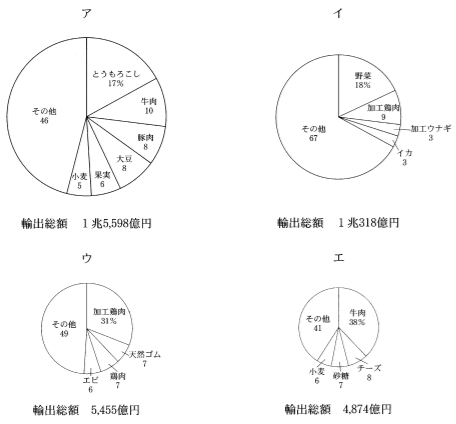
問3 下線部(b)について、熱帯や亜熱帯地域にみられる大規模な農園農業を何というか。カタカナで答えなさい。

問4 下線部(c)について、製品が「いつ、どこで、どのように、誰によって、何で」作られたのかという部分を見える化し、原材料の調達から生産、そして消費または廃棄まで追跡可能な状態にすることを何というか。次のア～エから一つ選び記号で答えなさい。

- ア フードマイレージ イ トレーサビリティ ウ アグリビジネス エ スマートアグリ

地

問5 下線部(イ)について、次のグラフは日本向け農水産物輸出総額の多い国と輸出品目の内訳を示したものである。ア～エに当てはまる国名を語群から選び、解答欄に記入しなさい。



(2019年農林水産省「二国間貿易実績」による)

【語群】

アメリカ合衆国 カナダ オーストラリア 中国 タイ マレーシア

問6 下線部(イ)について、肉1kgを生産するために畜では約2kg、豚では約4kg、牛では約8kgの飼料が必要とされる。このような飼育する過程で消費された穀物などの飼料を、食料として直接消費した場合と比べ、カロリーに換算する考え方を何とというか、解答欄にカタカナで記入しなさい。

令和6年度 一般選抜(3教科型)問題 政治・経済

政・経

2 次の文を読んで、各問に答えなさい。

経済が発展し生産力が高まってくると、その国は国内の必要量以上の商品を海外に輸出し、国内生産だけでは満たされない不足分を輸入するようになる。やがて、各国は自国にとって有利な生産条件の商品に□A□して生産するようになり、その商品を輸出し、他国で生産された商品を輸入する貿易が活発に展開されるようになった。19世紀のイギリスでは、貿易に対する国家の介入をやめ、自由貿易を行うことが利益になると主張された。しかし、各国の経済には経済発展の段階に差があり、生産条件も変化するので、各国が常に利益を得るとは限らない。

1930年代の世界的な不況のなかで、各国は相次いで金本位制を離脱して為替切り下げ競争に走り、その一方で輸入品に高率の関税を課した。その結果、世界の貿易量は大幅に減少し、さらに主要国は□B□を形成して孤立するようになった。このような国際経済秩序の破綻が第二次世界大戦の一因となったといわれている。第二次世界大戦後、戦前の反省を踏まえて、新たな国際経済秩序の再建が図られた。それは、貿易の拡大を通して各国の生活水準の向上と完全雇用の実現を図ろうとするものであった。この体制はブレントゥズ体制とよばれた。

20世紀後半になると、貿易や資本取引における規制や障壁が取り除かれ、ヒト・モノ・カネが国境をこえて世界を自由に移動する経済のグローバル化が進んできた。貿易のグローバル化は、安くて良質の商品ほどよく売れるという市場原理を国際経済に浸透させ、国際分業を進展させた。また、市場が拡大するにつれて、特定の地域ではさらなる貿易の自由化と地域的経済統合が進んでいる。資本取引におけるグローバル化の下では、□C□によって企業が多国籍化し、一部の産業では地球規模で寡占化が進んでいる。また、より高い収益を求めて資本が移動し、高い経済成長率が見込まれる国に資本が集中する傾向もある。さらに、為替変動リスクに対処するためにデリバティブ(金融派生商品)が発達するとともに、投機目的での外国為替取引が拡大した。その一方で、投資銀行が証券化商品を利用して、国際的な金融仲介業務を活発におこなったり、特定の少数の投資家から大口の資金を集めて運用し、高い収益を追求する□D□が膨大な投機的資金を世界的に移動させ、国際経済を混乱させる傾向もみられる。輸出入や国際的な資金移動など、特定期間(おもに1年間)におこなわれた1国の国際的な経済取引を、貨幣額で示したものが国際収支である。国際収支は、財・サービスなどの取引に関する経常収支、資金の対外取引に関する□E□、インフラなどの海外援助に関する□F□および顕差設備の4項目からなる。

問1 文中の□A□～□F□に入る最も適切な語句を選び、記号で答えなさい。

- ア. 資本移動等収支 イ. ブロック経済 ウ. 直接投資 エ. 顕国
オ. ヘッジファンド カ. レバレッジ キ. 金融収支 ク. 特化

問2 下線部(イ)の自由貿易に理論的根拠を与えた比較生産費説を主張したイギリスの経済学者を答えなさい。

政・経

問3 下線部(イ)のようになったことについて述べた次の文の中から正しいものをひとつ選び、記号で答えなさい。

- ア. 為替を切り下げると輸出先の国における価格が上昇して利益が拡大するので、輸出の増大によって不況を克服しようとしたため。
イ. 為替を切り下げると輸出先の国における価格が下落して輸出が不利になるので、輸入の増大によって不況を克服しようとしたため。
ウ. 輸入品に高率の関税をかけることで輸入品の価格が下がるので、国内経済を活性化しようとしたため。
エ. 輸入品に高率の関税をかけることで輸入品の価格を高くできるので、輸入を抑え自国の産業を保護しようとしたため。

問4 下線部(イ)のブレントゥズ体制やその動向に関する次の(1)～(3)に答えなさい。

- (1) 194年の協定にもとづき1947年に発足した為替相場の安定を図るため、加盟国に外国為替取引の制限を撤廃するように促すとともに、経常収支の一時的な赤字国に対して一時的な融資をおこなう機関のことを何とというか、アルファベット3字で答えなさい。
(2) 以下の文中の【X】・【Y】に適する語句を答えなさい。

ブレントゥズ体制では、各国は自国通貨と【X】であるドルとの交換比率、すなわち対ドル為替相場を固定した固定為替相場を採用したが、1971年に金とドルの交換が停止され、その後、数年の間【Y】為替相場制に移行した。

(3) 1947年に結ばれた関税と貿易に関する一般協定(GATT)に関して説明した次の文の中から誤っているものをひとつ選び、記号で答えなさい。

- ア. 貿易の拡大による世界経済の発展を目的とし、「自由・無差別・多角」を3原則として自由貿易を推進してきた。
イ. 関税の引き下げのみならず、輸入制限などの非関税障壁の撤廃、そのほかの貿易障壁の排除が多岐にわたった。
ウ. 当初から最恵国待遇や内国民待遇によって貿易に対する差別待遇の撤廃を進めるとともに、先進国から発展途上国への輸出品には一般特惠関税を導入した。
エ. 貿易交渉を多国間で協議する場を設定し、1993年に合意されたウルグアイ・ラウンドでは、サービス貿易・知的財産権の保護についても新たなルールを確立した。

政治・経済

1 次の文を読んで、各問に答えなさい。

企業は、銀行や証券会社を通じて家計から資本を調達して、この資金をもとに設備の購入(設備投資)や労働者の雇用を行い、財やサービスを生産して□A□を得る。□A□は、企業の売上高から、人件費や設備の購入費、原材料費など、生産するための費用を差し引いたものであり、企業の所有者に対して分配されるが、残りは□B□として企業の資本となる。

会社法(2005年制定)に基づいて設立される企業を会社という。会社には、株式会社、□C□、合資会社、合名会社の4種類がある。株式会社は最も代表的な会社形態であり、株式を発行して広く一般投資家から資金を集め、事業を展開する。出資者である株主は、会社の意思決定における議決権を持ち、出資額に応じて配当を受けられるが、会社が負債を抱えて倒産した場合には、出資額を限度とした責任を負う。なお、かつて経営者はその会社の株主でもあったが、経営の専門性・複雑性が高まるにつれて、大株主は会社を所有する一方、株をほとんど所有しない専門経営者が経営を握るようになった。このことを□D□という。

産業構造の転換が進んでいる現在、企業もまた自らの構造転換を迫られている。従来の企業の一部門を独立させて別会社にしたり、反対に事業の多角化を図って他の産業分野に乗り出すなど、事業再構築を行う企業が多くある。企業規模を拡大するには、設備投資のほか、他の企業の株式を買い占めて、その企業を合併・買収するという方法もある。日本では企業買収は活発ではなかったが、バブル崩壊後の株価低迷によって株式の相互持ち合いが崩れ始め、企業間競争が激化したことなどにより、頻繁に行われるようになった。このような中で、戦後禁止されていた株式の保有によって他の企業を支配することが主たる業務である□E□が解禁された。

日本では、株主総会が形式化して株主の意思が経営に反映されていないという問題が生じた。これに対して、□F□の強化が求められ、企業の経営内容に関する情報公開の適正化や、経営陣を監督する役割を担う社外取締役の設置が進められた。企業は消費者が安心して商品を購入できるように、その品質について責任をもつだけでなく、自らの活動が社会に及ぼす影響についても配慮する必要がある。このため、企業は□G□を徹底させ、株主、債権者、労働者、関連企業、地域社会などの□H□に対して、企業の社会的責任を果たさなければならない。

個別企業ではなく、国民経済全体の活動水準を数字で表したものが、国内総生産(GDP)などのフローの指標である。GDPは国内の各企業の□I□(生産総額-他企業から購入した中間生産物の金額)を合計することによって得られる。経済活動の規模が拡大することを経済成長という。経済成長の要因は、設備投資、技術革新、□J□の増加などである。少子高齢化で生産年齢人口が減少する日本は、今後、□J□の面では経済成長にとって不利になる。一定期間における経済成長の速度である経済成長率は、通常、GDPの対前年増加率で測定され、名目経済成長率と物価の変動分を修正した実質GDPから算出される実質経済成長率がある。

政・経

経済全体の動きを意味する景気は、よい局面と悪い局面があり、好況・後退・不況・回復の4局面が一つの周期をなして変動する。景気が良いときには、物価が持続的に上昇するインフレーションが、不況の時には、物価が持続的に下落するデフレーションが生じやすい。

問1 下線部(イ)にある企業と家計は、生産および消費の経済活動を行う経済主体であるが、租税などから収入を得て、それをもとに行政サービスのために支出している経済主体は何か。漢字2字で答えなさい。

問2 文中の□A□～□J□に入る最も適切な語句を選び、記号で答えなさい。
ア. 持株会社 イ. 合同会社 ウ. 公企業 エ. ステークホルダー
オ. 内部留保 カ. 他人資本 キ. 利潤 ク. コンプライアンス
ケ. 教育水準 コ. 付加価値 サ. コーポレート・ガバナンス
シ. 労働人口 ス. 所有と経営の分離

問3 下線部(イ)のように、株主の負債への責任は出資額が限度でこれを越えた責任は負わない。このことを何責任とというか。漢字2字で答えなさい。

問4 下線部(イ)のことを何とというか。アルファベットと記号3文字で答えなさい。

問5 下線部(イ)の経済成長率には名目経済成長率と物価の変動分を修正した実質GDPから算出される実質経済成長率があるが、次のような場合、A国の2022年の実質GDPと実質経済成長率として、下記の文章に入る【X】と【Y】を答えなさい。

\* A国の2021年の実質GDPが400兆円
\* A国の2022年の名目GDPが412.08兆円
2022年のGDPデフレーター(物価指数)が102(2%の物価上昇)

[以上のような場合、A国の2022年の実質GDPは【X】兆円となり、2022年の実質経済成長率は【Y】%になる。]

問6 次の文は、下線部(イ)の好況・後退・不況・回復のどの局面を説明したのか答えなさい。
「在庫品の処分や機械設備の縮小によって生産能力と需要のずれが解消され、生産・雇用の拡張が進む。」

問7 下線部(イ)に関する説明として正しいものを、次からひとつ選び、記号で答えなさい。
ア. リーマンショック後の不況では物価も持続的に上昇するスタグレーションがみられた。
イ. 輸入原材料価格の上昇などが原因で生じるのはデマンド・プル・インフレである。
ウ. インフレーションは家計の購買力の上昇をもたらすので、家計への悪影響はない。
エ. インフレーションは年金受給者のような所得が増えない人の生活に打撃を与える。

政・経

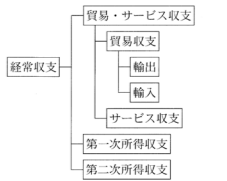
問5 下線部(イ)について次の(1)～(3)に答えなさい。

- (1) 地域的経済統合の先駆的な取り組みの結果生まれたEUにはヨーロッパの多くの国々が加盟してきたが、2020年1月にEUから離脱した国を答えなさい。
(2) EU加盟国で導入されている共通通貨名をカタカナで答えなさい。
(3) アジアの地域的な経済統合に関する次の文の中から正しいものをひとつ選び、記号で答えなさい。
ア. AFTAは、ASEANの地域経済の活性化のために結ばれた貿易の自由化をめざす協定で、ASEAN加盟国以外に日本、中国、韓国、インドも参加している。
イ. APECは、日本、アメリカ、オーストラリアなどの太平洋沿岸の国々がアジア・太平洋地域での開かれた地域協力をめざし、毎年首脳会議を開催している。
ウ. NAFTAは、ASEAN、日本、中国、韓国、オーストラリア、ニュージーランドによる経済連携協定で、2020年に署名されている。
エ. 日本が加入しているTPPはアジア太平洋地域において高い水準の自由化を目標とする経済的な枠組みだが、2023年にインドと中国の加入が認められた。

政・経

問6 下線部(イ)について、次の(1)と(2)に答えなさい。

- (1) 経常収支の体系は、右図のようになっている。
(2) 下図は平成8年から令和3年の経常収支の各項目のうち経常収支、貿易・サービス収支、貿易収支、輸出、輸入、第一次所得収支の額の変化を表した6本の折れ線グラフである。実線以外の各線は次の項目を表している。



問6 (1) 図の実線A～Dのうち輸出と輸入を示す線の組み合わせとして正しいものをひとつ選び、記号で答えなさい。

- ア. 輸出-A 輸入-B
イ. 輸出-B 輸入-A
ウ. 輸出-C 輸入-D
エ. 輸出-D 輸入-C

(2) 平成18年頃から経常収支の黒字や黒字幅の拡大の最大の要素となった海外からの雇用報酬や投資収益を表す第一次所得収支を示すものはA～Dのどれか、記号で答えなさい。

政・経

3 次の文を読んで、各問に答えなさい。

法の支配はイギリスで発達した。その萌芽は、1215年にイギリスで成立した大憲章である(1)などに見られる。このように、法の支配は、中世以来の歴史をもつものであるが、近代においては、政府による統治は憲法にもとづいてなされるべきだとする(2)主義の考え方として一般化し、現在は、国民主権と基本的人権の尊重を基調に、法の支配という原則に支えられている。日本国憲法においても、法の支配の原則は、基本的人権の尊重や、第98条で「この憲法は、国の(3)であって、その条規に反する法律、命令、詔勅及び国務に関するその他の行為の全部又は一部は、その効力を有しない」と定められている(3)性、違憲法令審査権などの形で採用されている。

問1 文中の空欄(1)～(3)に最も適切な語句を答えなさい。なお、(1)は、カタカナで答えなさい。

問2 下線部(a)に関連して、政治権力は憲法の制約を受けるという考え方に基づく「権力分立論」を説いた人物として最も適切な人物名を2名選び、記号で答えなさい。

- ア、J・ロック イ、J・ボーダン ウ、C・モンテスキュー エ、D・エラスムス

問3 下線部(b)に関連して、次の文を読み、以下の(1)～(3)の間に答えなさい。

日本国憲法では、第11条において「基本的人権は、侵すことのできない永久の権利」であるとしている。このことを踏まえ、基本的人権として、自由権やA権などが定められている。A権は、20世紀に入ってから登場した現代的な権利であり、1919年のドイツでB憲法に最初に掲げられた。日本国憲法では、具体的には、「健康で文化的な最低限度の生活を営む権利を有する」生存権や教育を受ける権利のほか、勤労の権利や労働三権を保障する労働基本権などが定められている。また、日本国憲法では、議会制民主主義を採用しており、選挙権をはじめとする国民の参政権が保障されている。このような様々な形での人権保障は、国際的な関心事となっており、かつてのファシズムなどの人権抑圧の教訓から、第二次世界大戦後、国際的な条約によって人権を保障しようとする動きが高まり、今日に至っている。

(1) 文中の空欄AとBに入る最も適切な語句を選び、記号で答えなさい。

- ア、ハンブルク イ、社会 ウ、ワイマール エ、平等

政・経

(2) 下線部【X】に関連して、以下の①と②の間に答えなさい。

- ① 2000年の法改正によって定められた日本の参議院の選挙制度として最も適切なものをひとつ選び、記号で答えなさい。
ア、中選挙区制と比例代表制の併用
イ、個人代表制と大選挙区制の併用
ウ、非拘束名簿式比例代表制と選挙区選挙の併用

② 2013年の公職選挙法改正で解禁されたインターネット等を使った選挙運動として最も適切なものをひとつ選び、記号で答えなさい。

- ア、候補者・政党等が電子メールを利用する方法によって選挙運動用文書図画を頒布する。
イ、インターネットを利用した選挙運動を行った者に対価として報酬を支払う。
ウ、候補者が自身の選挙運動のために有料のインターネット広告を出す。

(3) 下線部【Y】に関連して、以下の①～③の間に答えなさい。

① 第二次世界大戦後に締結された人権保障に関連する条約として、日本が1994年に批准した条約をひとつ選び、記号で答えなさい。

- ア、ラトロンガ条約 イ、マーストリヒト条約
ウ、国際人権規約 エ、子どもの権利条約

② 第二次世界大戦後、国際的な人権擁護の運動を展開している非政府組織として最も適切なものを2つ選び、記号で答えなさい。

- ア、WTO イ、国境なき医師団
ウ、アムネスティ・インターナショナル エ、OECD

③ 次の国連人権条約の中で、日本が批准していないものとして最も適切なものをひとつ選び、記号で答えなさい。

Table with 4 columns: 名称, 採択年, 発効年, 締約国数. Rows include 1965-1969, 1973-1976, 1979-1981.

(国連主要人権条約一覧 2017年現在 国連資料より)

政・経

(2) 内閣が裁判所に対して行うことについて述べた次の文中の空欄E～Hに入る最も適切な語句を選び、記号で答えなさい。なお、記号は重複して選択できる。

「内閣は、最高裁判所長官をEし、その他の最高裁判所の裁判官をFする。また、下級裁判所の裁判官は、最高裁判所のGした者の名簿により、内閣がHする。」

- ア、任命 イ、指名 ウ、助言

問4 下線部(c)に関連して、大日本帝国憲法下で日本に設置されていた特別裁判所として最も適切なものを2つ選び、記号で答えなさい。

- ア、軍法会議 イ、簡易裁判所 ウ、国際裁判所 エ、皇室裁判所

問5 下線部(d)に関連して、以下の(1)と(2)の間に答えなさい。

(1) 裁判員制度について説明した次の文中の下線部【X】～【Z】は誤っている。それぞれ正しい語句を答えなさい。

裁判員制度の対象となるのは、殺人事件など重大犯罪についての民事裁判に限られる。裁判員は、2023年からは20歳以上の有権者の中から抽選で選ばれる。原則として、3名の裁判員と8名の裁判員で裁判を行う。場合により、裁判員1名、裁判員4名で構成されることもある。

(2) アメリカ合衆国で採用されている、裁判そのものに一般市民が直接参加する制度として最も適切なものをひとつ選び、記号で答えなさい。

- ア、陪審制 イ、傍聴制 ウ、参審制



政・経

問4 下線部(c)に関連して、以下の(1)～(3)の間に答えなさい。

(1) 法の支配に對立する、国王などの権力者がすべてを支配する考え方を何の支配というか、漢字で答えなさい。

(2) マックス・ウェーバーは、統治者の支配の正当性には、3つあると述べた。そのうちの2つは、法的支配と伝統的支配であるが、もうひとつは何の支配か、答えなさい。

(3) 法の支配に似た考え方に、「[法律による行政]という形式を重視し、法の内容を問わず、一定の形式を講じた法であれば、法に従うべきだ」というものがある。この考え方を何主義というか、漢字2字で答えなさい。

政・経

4 次の文を読んで、各問に答えなさい。

司法権とは、社会に生ずるさまざまな紛争を法にもとづいて裁判し、解決する国家の機能である。裁判は、国民の権利に重大な影響を及ぼすことから、あくまでも法にもとづいて厳正かつAに行われる必要がある。そのため、日本国憲法においては、「司法権の独立」の原則が定められている。

日本国憲法第76条に「すべて司法権は、最高裁判所及び法律の定めるところにより設置する下級裁判所に属する」と定められているように、司法権は裁判所にあることを明記している。そして、裁判所は、内閣、国会との間に、互いに牽制し合う権限を持っている。さらに、第2項において、大日本帝国憲法下には置かれていた特別裁判所の設置はできないこととなっており、行政機関は、Bとして裁判を行うことはできないこととなっている。また、第3項において、「すべて裁判官は、そのCに従ひ独立してその職務を行ひ、この憲法及び法律にのみ拘束される」として、裁判官の独立を守っている。そのため、第78条において、「裁判官は、裁判により、Dのために職務を執ることができないと決定された場合を除いては、公の弾劾によらなければ罷免されない」とこととされている。さらに、近年、国民が司法に参加する制度の拡充が図られ、1948年から始まっていた検察審査会制度のほか、2009年から裁判員制度が導入されている。

問1 文中の空欄A～Dに入る最も適切な語句を選び、記号で答えなさい。

- ア、心身の故障 イ、終審 ウ、公正 エ、良心

問2 文中の下線部(a)に関連して、以下の(1)と(2)の間に答えなさい。

(1) 裁判所のうち、少年事件などの第1審が行われる裁判所を何裁判所というか、漢字2字で答えなさい。

(2) 日本は、第1審の裁判において不服がある場合に上級裁判所に控訴や上告等ができる審級制をとっているが、それは何審制か、数字で答えなさい。

問3 下線部(b)に関連して、以下の(1)と(2)の間に答えなさい。

(1) 違憲かどうか争われた裁判で、裁判所が合憲か否かについて判断しなかった判決を判決群から、その理由を理由群から選び、それぞれ記号で答えなさい。

- 判決群： ア、1976年の長沼ナイキ基地訴訟判決(高等裁判所判決)
イ、1975年の薬事法訴訟判決(最高裁判所判決)
ウ、2015年の女性再婚禁止期間規定訴訟判決(最高裁判所判決)

- 理由群： ア、罪刑法定主義に基づいたため イ、法テラス制度に基づいたため
ウ、統治行為論に基づいたため

数学

1 次の問いについて、解答欄に結果のみを答えなさい。


- (1) 2進法で表された数 11010 を 10進法で表しなさい。
(2) 2次不等式 2x^2 - 3x + 1 > 0 の解を求めなさい。
(3) (2a + b)^2 - (a - 2b)^2 を展開した式と因数分解した式を求めなさい。
(4) 12以下の自然数のうち、12と互いに素な自然数をすべて求めなさい。
(5) 次のデータについて、平均値、中央値、分散を求めなさい。

Table with 1 row: データ, 7, 5, 4, 10, 4

数

2 周の長さが36 cmの長方形 ABCD の厚紙について、AB = x cm とおくと、次の問いに答えなさい。

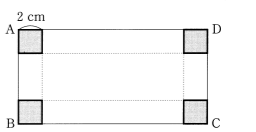
- (1) 長方形 ABCD の面積 S を x で表しなさい。また、x の範囲を求めなさい。



(2) (1)で求めた面積 S が最大となるのは、この長方形 ABCD がどのような厚紙のときか、そのときの x の値と S の最大値を求めなさい。

- (3) 右図のように、長方形 ABCD の厚紙の四隅から一辺が 2 cm の正方形を切り取り、ふたのない箱をつくるとき、次の問いに答えなさい。

(i) この箱の体積 V を x で表しなさい。



(ii) (i)で求めた体積 V が 32 cm^3 になるのは、この長方形 ABCD がどのような厚紙のときか、そのときの x の値を求めなさい。ただし、AB < BC とする。



国 2

1 次の文章を読み、後の設問に答えなさい。

ステレオタイプについて考えるには、それを何と意識しているかをまず探ることが大切だ。例えば「女性は料理が得意」という言葉がある。よく考えれば、実際には料理が苦手な女性は少なくない。そもそも、有名なレストランの料理人は男性ばかりではないか。料理が得意な女性も確かにいるから、まったくのステレオタイプではないにしても、相当一面的な物言いだ。

「a」この言葉は何を意味するのか。一見、女性をポジティブに語っているが、じつとそう、けつて狭めているわけではない。要は、その裏返しとして「男性は料理が得意はない」ということを含意しているのだ。つまり、料理は女性がやったほうがいいと家事の押し付けをしているのである。男性は外で仕事に没頭したいという(一部の)男性の勝手な願望の反映と見なければならぬ。

「ユダヤ人は金持だ」というのも、同様に、けつてユダヤ人を褒めているわけではない。その裏には、ユダヤ人は誰からむしり取ったりスルをしたりして富んでいるのではないかと、しほいは、ユダヤ人として集まってアヤクしているに違いないと、ユダヤ人にとっては絶望的な利益が第一で、道徳は二の次なのだろう、といったことが含意されているのである。

これは結局、ユダヤ人ではない側「我々」との対比なのだ。つまり、我々は金を目をくらませることなく、つつましく道徳的に生きて、とあげ、ユダヤ人はもうした世界を金の論理で破壊しようとしているがそれは許せないと話に昇進していくのである。

これにはユダヤ人が多少なりともそうした役割を果していることになった歴史的背景がある。ユダヤ人はもともと商業も行ったが、キリスト教を国教としたローマ帝国時代、土地の所有を禁止され、キリスト教に改宗しないために差別された。支配層に入れないが農民にもなれないので、ユダヤ人はおのずと商売業に入らざるを得なかった。

この頃のキリスト教に対する規制が厳しく、キリスト教徒に対して利子を禁止していた。ヴェニスでは、ユダヤ人が金融分野をシメるようになった。金貸をしたのもそのためだ。だが、ユダヤ人にはその禁止規定は当てはまらないので、結果的にユダヤ人が金融分野をシメるようになった。

商業に関しても、さまざまな地域に散ったネットワークができていった。同じユダヤ教徒ということも信頼関係も生まれやすい。商業や金融ではいちいち相手を確認し監視し続けるコストはかけられないから、信頼があつたというのは、スムーズな取引を行ううえでも重要なポイントになる。

いわば、バレンスチナを巡られ、その後差別された結果として、ユダヤ人は金融と商業を得意分野とするようになっていったのだ。



英 3

問1 以下の1～5について、本文の内容に合う適切な答えを、a～dの中から1つ選び、その記号を記しなさい。または、3.については、…に続く本文の内容に則した適切な答えを、a～dの中から1つ選び、その記号を記しなさい。

- 1. Which of the following is TRUE?
a. Italian pasta noodles are the same as Asian noodles.
b. Italian pasta noodles have a softer texture than Asian noodles.
c. You don't need to add extra salt when cooking Asian noodles.
d. Asian noodles are usually made using durum wheat.
2. When did Italian people start to eat pasta noodles?
a. In the year 1292.
b. During ancient Rome in Italy.
c. After Marco Polo returned to Italy.
d. In the year 1309.
3. The words 'this discovery' in paragraph 3 refer to ...
a. The discovery of the recipe for Italian pasta noodles.
b. The discovery of other countries by long sea voyages.
c. The discovery that Italian pasta noodles had to be made fresh.
d. The discovery that pasta noodles could be dried and stored.
4. Why were Italian pasta noodles expensive to buy until the 18th Century?
a. Because the wheat to make Italian pasta noodles had to be imported.
b. Because Italian pasta noodles became an important part of Italian meals.
c. Because Italian pasta noodles weren't considered important.
d. Because poorer Italian people mainly ate vegetables.
5. How did Italian pasta noodles become a regular part of Italian people's diet?
a. Italian people became richer, and had more money.
b. Pasta noodles could be produced in factories.
c. Small farms became popular.
d. Durum wheat was invented to help make pasta noodles.

英 4

(B) 次の英文を読み、下記の問に答えなさい。

Paul Gauguin was born in Paris in 1848. But it was not his home country of France but Tahiti where he ( 1 ) his masterpiece "Where Do We Come From? What Are We? Where Are We Going?" in 1897. In his later years, while living in Tahiti, he painted many Tahitian women. He ended up dying at age 54 on a small island near Tahiti. But one question remains: why was he so strongly ( 2 ) in Tahiti?

Gauguin, who was a successful stockbroker\*, decided to quit his job and become a painter at age 35. His paintings did not sell as well as he had expected, and he immediately fell into ( 3 ) difficulties. His wife went back to her native country of Denmark with their children. However, he never lost his passion for painting, and he continued to paint, even though he became very poor.

\* stockbroker 株式の売買取引業者
(Adapted from Josh Norman, 松井真帆, 本山ふじ子 著, 『絵画を彩る食文化』, 朝日出版社)

問1 英文中の( 1 )～( 3 )に入る最も適切な語(句)を、a～dの中からそれぞれ1つ選び、その記号を記しなさい。

- ( 1 ) a. educated b. bought c. discovered d. completed
( 2 ) a. worried b. shouted c. interested d. waited
( 3 ) a. necessary b. money c. romance d. housing

問2 以下の1～2について、本文の内容に合う適切な答えを、a～dの中から1つ選び、その記号を記しなさい。

- 1. Where did Gauguin do his masterpiece?
a. In Paris.
b. In Tahiti.
c. In Denmark.
d. On a small island near Tahiti.
2. What did Gauguin do before he decided to become a painter at age 35?
a. He was an art teacher in Paris.
b. He worked for a bank in Tahiti.
c. He was buying and selling stocks.
d. He was a sailor in Denmark.

英 2

1 下記の(A)～(B)の各問に答えなさい。

(A) 次の英文を読み、下記の問に答えなさい。

Italian Pasta Noodles
The word pasta is used to describe traditional Italian noodles, which are different from Asian noodles. This is because Italian pasta noodles usually use durum wheat\*, which is different than the wheat used to make Asian noodles. Therefore, Asian noodles have a softer texture\*\* and a smoother feel. Also, Asian noodles generally contain salt, whilst Italian noodles are mostly salt-free. This means that Asian noodles are cooked without the need for extra salt.
There are many stories about when Italian people first started eating pasta noodles. One popular story tells us that the famous Italian explorer Marco Polo visited China in the year 1292. Seventeen years later, he returned to Italy with the noodle recipe he discovered in China. However, this story is not true. Even before Marco Polo, old European cultures such as ancient\*\*\* Rome in Italy already had their own special types of pasta noodles, which looked like lasagna.
Originally, Italian pasta noodles were made fresh and had to be eaten immediately. But people soon discovered that Italian pasta noodles could be dried and stored for longer periods of time. Because of this discovery, Italian people were able to bring and eat pasta on long sea voyages.
Italian pasta noodles didn't become an important part of Italian meals until the 18th century. Until that time, pasta noodles were considered a luxury item because the special durum wheat needed to make it had to be imported\*\*\*\* from places like Sicily and Puglia. Therefore, pasta noodles were very expensive to buy until the 18th century, so poorer Italians mainly ate vegetables.
But things changed when large farms became popular. Italian people started growing more durum wheat, and machines were invented to help make Italian pasta noodles. This meant that Italian pasta noodles could be produced in factories, and they became a regular part of Italian people's diet, even for those who didn't have much money.
\* durum wheat デュラム小麦
\*\* texture 食感
\*\*\* ancient 古代(の)
\*\*\*\* imported 輸入されて



英 5

英 6

2 以下はパーソナル・コンピュータ向けホームページ画面を想定しています。この内容について各問に答えなさい。

Screenshot of the HOKKAI TRAVEL website showing navigation menus, stock quotes, company information, and tour details.





アジアの時代に  
アジアを学ぶ

学校法人 北海学園

**北海商科大学**

商学部〔商学科・観光産業学科〕

 地下鉄東豊線「学園前」駅直結

 **0120-733-066**

〒062-8607 札幌市豊平区豊平6条6丁目10番  
[www.hokkai.ac.jp](http://www.hokkai.ac.jp)